


# नौकानयन.



दत्तात्रय पांडुरंग भोसेकर.

किंमत १॥रुपया.

# नौकानयन.



लेखक.

दत्तात्रय पांडुरंग भोसेकर,

असिस्टंट स्टेट इंजिनियर,

पोरबंदर स्टेट.



सन १९१२.



चित्रशाळा स्टीम प्रेस, पुणे.



किंमत १॥रुपया.

---

---

हैं पुस्तक रा. रा. दत्तात्रय पांडुरंग भोसेकर,  
यांनी लिहिलें,

तें

रा. रा. शंकर नरहर जोशी यांनी पुणे येथें  
सदाशिव पेठ ८१८ चित्रशाळा स्टीम प्रेसमध्ये  
छापून प्रसिद्ध केलें.

---

---

हैं पुस्तक

श्रीमंत सयाजीराव महाराज गायकवाड  
यांस,



ज्यांच्या ओखामंडळ प्रांतांत द्वारका सुपरवायझरचे कामावर असतां  
याविषयाशीं माझा परिचय होऊन हें पुस्तक लिहिण्याची मला  
बुद्धि झाली त्याचे उपकार स्मरून त्यांचे परवानगी-  
शिवाय आदरपूर्वक अर्पण केलें आहे.

द. पां. भोसेकर,  
ग्रंथकर्ता.

## प्रस्तावना.

—०\*०—

सांप्रत धंदेशिक्षणाकडे लोकांचें लक्ष्य बरेंच लागलें आहे. तसेंच व्यापारधंद्याकरितां आपले लोक समुद्रावरून परदेशीं जाऊं येऊं लागले आहेत. आपलीं जुन्या पद्धतीप्रमाणें बांधलेलीं देशी गलबते, पोरबंदर, द्वारका, बेट, कच्छ-मांडवी वगैरे बंदराहून पाश्चिमेस आफ्रिकेच्या किनाऱ्यावरील केप ऑफ गुडहोप पर्यंत जातात व पूर्वेस रंगून पर्यंत जातात. त्या गलबतांवर हुशार खलाशी व मालिम, ( तांडेल ) असतात. ते आपले धंद्यास लागणारे होकायंत्र, बुडिद, कमान, ( Sextant=वर्तुलपष्ठांश ) समुद्राचे नकाशे ( चार्टस ) वगैरे सर्व साहित्य वापरतात. कित्येक इंग्रजी शिकलेले नसूनही नौकानयनावरील इंग्रजी पुस्तकांतील नाविक कोष्टके वगैरे वापरतात. अशा लोकांस त्यांचा धंदा शिकविणें हें इंग्रज सरकारचें, देशी संस्थानिकांचें व इंग्रजी शिकून विद्वान् झालेल्या तज्ञ लोकांचें काम आहे. देशी खलाशी लोक आपल्या धंद्यांत तितके वाकबगार होतील तितके सर्व प्रकारचे व्यापार धंद्यास उत्तेजन येईल कारण हिंदुस्थानांत तयार झालेला देशीमाल जलमार्गानें झांजीबार, त्राताळ, चीन, व जपानसारख्या दूर देशीं आपल्याच गलबतांतून थोड्या खर्चांत पाठवितां येईल. इंग्रजसरकारानें देशी खलाशांस शिकवून तयार करण्याच्या कामांत विशेष लक्ष पुरविलें नाहीं, तरी हा विषय शिकण्याची इंग्रजी भाषेत भरपूर साधनें करून ठेविली आहेत. इंग्लंडामध्ये हा विषय प्राथमिक शिक्षणांत सुद्धां दाखल केला आहे. परंतु हिंदु-

स्थानामध्ये तो शिकविण्याची कोठेही सोय सरकाराने केल्याचे दिसून येत नाही. तरी इंग्रज सरकाराने नौकानयनाचे धंद्यास पुष्कळ उत्तजन दिले आहे. इंग्रज सरकाराने व इतर युरोपियन सरकारांनी पृथ्वीवरील बहुतेक सर्व समुद्रांचे नकाशे ( चार्टस ) तयार केले आहेत. त्यांवर निरनिराळ्या ठिकाणची पाण्याची खोली, समुद्रांतील खडक दिवा-दांड्या, वगैरे सर्व दाखविलेले असते. इंग्रज सरकाराने हिंदुस्थानच्या किनाऱ्यावरील मुख्य मुख्य बंदरांत व धोक्याच्या ठिकाणी दिवा-दांड्या स्थापन केल्या आहेत. खाड्यांचीं मुखे व बंदरे सुधारलीं आहेत. कित्येक बंदरांत मोठमोठ्या गोद्या बांधल्या आहेत. भरती-ओहोटीचीं, निरनिराळ्या बंदरांत व दुसऱ्या ठिकाणीं कित्येक वर्षे माप घेऊन पूर्ण अनुभवाने पुढे त्या त्या ठिकाणीं, प्रत्येक दिवशीं कोणत्या वेळीं किती भरती येईल त्यांचीं कोष्टके तयार केलीं आहेत; व तीं सरकार दरवर्षीं छापून प्रसिद्ध करिते व पाहिजे त्यास विकत देते. इंग्रज-सरकाराने तारे पाहण्याच्या वेधशाळा, व वाऱ्याची दिशा व वेग, आणि हवेचा भार व उष्णता मापण्याच्या अवलोकनशाळा जागोजाग स्थापन केल्या आहेत; त्यांचे रोजचे रिपोर्ट सिमल्यास जातात व त्यावरून तेथून अमुक समुद्रावर अमुक बंदरीं अमुक तारेखेस तुफान होईल अशा तारा येतात; व त्या त्या बंदरीं तुफानाचे बावटे दर्यावर्दी लोकांस खबर देण्याकरितां उभे करितात. दर्यावर्दी लोकांकरितां नाविक पंचांग ( नॉटिकल अल्म नॉक ) दरवर्षीं तयार करून ते चार चार वर्षे आगाऊ छापून प्रसिद्ध करितात. तसेंच समुद्रांवरील मोठ मोठे फेरफार, नवीन खडकाचे शोध दिवा-दांड्या बंद केल्याची व सुरू केल्याची खबर वगैरेच्या नोटिसी

सरकारी गॅझेटांतून प्रसिद्ध होतात. प्रत्येक बंदराचे अक्षांश रेखांश कायम करण्याच्या व होक्याचें चलन पाहणाऱ्या ( सर्व्हे आफ इंडियाच्या पाठ्या ) हिंदुस्थानसरकारच्या सर्व्हेच्या मंडळ्या, सर्व हिंदुस्थानभर फिरून आपलें काम शास्त्रीय रीतीनें करीत असतात. सारांश, सुधारलेल्या सरकारानें दर्यावर्दी लोकांकरितां जें जें करावयाचें तें तें सर्व इंग्रज सरकार करीत आहे, परंतु इंग्रजसरकारानें देशी खलाशी लोकांस नौकानयनाची कला शिकविण्याची सोय कोठेही केलेली नाहीं. त्यामुळें आमचे खलाशी लोक केवळ अंध आहेत व अंधळ्यापुढें दिव्याचा चकचकाट काय कामाचा ? तसें आमच्या खलाशांना शिकविल्याशिवाय हें सर्व ज्ञान त्यांस काय कामाचें ? मुंबई बंदरांत खलाशी व मालम लोकांच्या कांहीं परीक्षा होत असतात. परंतु हा विषय शिकविण्याची सोय सरकारानें किंवा लोकांनीं केल्ली कोठेही दिसत नाहीं. बहुतेक लोक गलबतावर व आगबोटीवरून याविषयाचं थोडें बहुत ज्ञान संपादन करितात. अशा लोकांस कांहीं मदत व्हावी म्हणून कित्येक इंग्रजी पुस्तकांच्या आधारानें ह्या विषयावर हा एक लहानसा ग्रंथ लिहिला आहे. सध्यां ह्या विषयाचें आपले लोकांत फारच अज्ञान आहे. त्यामुळें हा विषय कोणास आवडणार नाहीं, हें उघड आहे, परंतु हा विषय फार उपयोगी आहे. इंग्रज लोकांनीं या विषयाचा फार अभ्यास करून तो पूर्णतेस आणिला आहे. व्यापारास या विषयाचे अध्ययनानें फारच मदत झाली आहे. किंबहुना, जगांतील सर्व अधुनिक सुधारणेचा पाया याविषयाच्या अध्ययनावर रचला गेला आहे. असें असून आपले लोकांस याविषयाची अज्ञून गोडी लागली

नाहीं. जलमार्गानें परदेशीं जाणें येणें आपले लोकांस स्वभावतांच फारसें आवडत नाहीं, म्हणून जलपर्यटनास कित्येक धर्मसंबंधीं अडथळेही आपले लोकांनीं घालून ठेविले आहेत.

इतिहासदृष्टीनें पाहिलें असतां मध्यएशियांतून आर्यलोक उत्तरहिंदुस्थानांत आले. तेथून दक्षिणेकडे वळले, व उत्तरेस जसा हिमालय-पर्वत तसा दक्षिणेस हिंदीमहासागर ही एक हिंदुस्थानची अभेद्य सीमाच आहे असें ते मानूं लागले. जलपर्यटनाची त्यांस जरूर पडली नाहीं. त्यांचेवर मुसलमान लोकांच्या स्वाऱ्या वरचेवर जमीनीवरून होतच होत्या, व त्यांचा प्रतिकार करण्यास ते समर्थही होते. परंतु दक्षिणेंत त्यांची स्थिती इसापानींतीतील नदीकाठीं चरणाऱ्या एक-डोळ्या हरिणाप्रमाणें झाली. त्यांजवर जलमार्गानें मुसलमान लोकांनीं स्वाऱ्या केल्या नाहींत हें खरें. परंतु जलपर्यटनांत प्रवीण व नौकानयनाचा अभ्यास केलेले असे “ नौसाधनोद्यत ” पाश्चिमात्य युरोपियन लोक हे त्यांस नवीन शत्रू मिळाले. ते हिंदुस्थानच्या किनाऱ्यावर उतरल्यावर हिंदुलोकांनीं त्यांच्याशीं जमीनीवर पुष्कळ लढाया केल्या हें इतिहास-प्रसिद्ध आहेच, परंतु हिंदुराजे-लोकांनीं युरोपियन लोकांशीं हिंदी-महासागरावर एकही पानिपतच्या लढाईसारखी मोठी लढाई केल्याचें इतिहासप्रसिद्ध नाहीं. नौकानयनांत हिंदुलोक प्रवीण असते तर त्यांनीं हिंदी महासागरावर आपलें वर्चस्व स्थापिलें असतें, सिंहलद्वीप आपले ताब्यांत घेतलें असतें, युरोपियन लोकांच्या जलमार्गांत पुष्कळ अडथळे आणिले असते, व त्यांच्याशीं समुद्रावर लढाया करून त्यांचे पाय हिंदुस्थानच्या किनाऱ्यांस लागूं दिले नसते. छत्रपति शिवाजीमहाराज



यांनीं आरमार तयार केलें होतें, व त्यांनीं जलमार्गांन मलबार किनाऱ्यावर स्वारी केली होती. आग्ने, धुलिप वगैरे मराठे सरदार समुद्रकांठीं आरमार राखीत होते व पेढ्याप्रमाणें, पेशवाईत कांहीं चांचे-लोकही, समुद्रकिनाऱ्यावर युरोपियन लोकांच्या जहाजास कांहींसा उपद्रव देत असत. परंतु छत्रपति शिवाजीमहाराजांनीं घालून दिलेला क्रम पेशव्यांनीं पुढें अबाधित चालविला नाहीं; आंग्र्यांसारख्या सरदारांच्या मदतीनें आरमार वाढविलें नाहीं; व परदेशांशीं व्यापारही आपल्या लोकांनीं सुरू केलों नाहीं ही मोठ्या दुःखाची गोष्ट आहे. पेशवाईत नानाफडणविसाचे वेळीं इंग्रजांचा रोसिडेंट पुण्यास राहिला त्यावेळीं पेशव्यांचाही वकील विलायतेंत असावा अशी एक कल्पना निघाली होती पण साधनांच्या अभावामुळें ती लयास गेली हें उघड आहे. असो; आतां ते दिवस गेले. सध्या व्यापाराच्या चढाओढीचे दिवस आले आहेत. हिंदीमहासागर हिंदुस्थानची दक्षिणेकडील अभेद्य सीमा नसोन तो आतां व्यापाराचा हामरस्ता झाला आहे. मुसलमान लोक आपले बंधु झाले आहेत व इंग्रेज लोक आपले राजे झाले आहेत. इंग्रेज लोकांनीं पुष्कळ नवीन गोष्टी आपल्या लोकांस शिकविल्या व शिकवीत आहेत, परंतु ते ज्या गोष्टी आपणांस शिकवीत नाहींत त्या आपण नम्र होऊन शिष्यत्वाच्या नात्यानें त्यांचे पासून शिकून घेतल्या पाहिजेत. नौकानयनकला ही एक त्यांतलीच गोष्ट होय. आम्हांस त्यांनीं शब्दशास्त्रें पुष्कळ शिकविलीं त्यांचा आमचे लोकांस आतां वीट येत चालला आहे. देशाची सुधारणा सर्वतोमुखीं (सर्व दिशांनीं) झाली पाहिजे. लोकांस कांहीं नवीन उपयुक्त

ज्ञान मिळाले पाहिजे. हल्लीं जसे पुष्कळ कायदेपंडित तयार होतात तसे इतर धंदेपंडितही पुष्कळ तयार झाले पाहिजेत. देशांत सर्व धंद्यांत वाकबगार लोक निपजले पाहिजेत. आपल्यामध्ये काय उणीव आहे हे आपले पुढारी लोकांनी ओळाखिले पाहिजे, व ती उणीव भरून काढण्याचा मुख्य प्रयत्न केला पाहिजे. भूगोलाचे पुरे ज्ञान, तसेच सृष्ट्यपदार्थविज्ञान, यंत्रशास्त्र, रसायनशास्त्र वगैरे अर्धुनिक शास्त्रांच्या ज्ञानाची आपले लोकांत मुख्य उणीव आहे. पैकीं सृष्ट्यपदार्थविज्ञानाचा व यंत्रशास्त्राचा अभ्यास इंग्रजी भाषेतून आपल्यापैकीं बरेच लोक करू लागले आहेत, परंतु नौकानयनकला कोठेही जाहिर रीतीने इंग्रजीतून अथवा देशीभाषेतून हिंदुस्थानांत शिकविली जात नाही. ही उणीव आपल्या मधून काढून टाकली पाहिजे. हिंदुस्थानांतील सरकारी विश्वविद्यालयांतून जसे दरसाल हिंदुस्तानचे शेंकडो लोक इतर विद्या शिकून पदवीधर होतात तसे ते नौकानयनांतही तयार झाले असते. स्वतः गलबते अगर आगबोटी चालवून समुद्रवळयांकित पृथ्वीची प्रदक्षिणा करून जे लोक अमुक दिवसांत परत निघाल्या बंदरीं येतील त्यांस सुवर्णपदके बशीस द्यावयाचीं, त्यांचा बहुमान करावयाचा, असा कांहीं क्रम पहिल्यापासून इंग्रज सरकारांनी ठेविला असता तर आपणांत आज कित्येक व्यापारी व खलाशी लोक पृथ्वीप्रदक्षिणा करून आलेले व नौकानयनाचे कामांत वाकबगार झालेले आढळून आले असते. आपले संस्थानिकांनीही इंग्रजसरकाराचे अनुकरण करून पुष्कळ लोकांस नौकानयनाचा अभ्यास करण्यास उत्तेजन दिले असते. हल्लीं आपल्या आगगाड्या नसतांही कोठे कोठे हिंदुलोक मालगा-

डीचे गाई झालेले आढळतात, परंतु आगबोटीवर एकही हिंदु कप्तान आढळत नाही. आपले मुसलमान बंधु ह्या कामांत बरेच पुढे गेले आहेत. त्यांनीं कंपनी करून स्वतःच्या आगबोटी ठेविल्या आहेत व त्यावर मुसलमानकप्तानही नौकानयन शिकून तयार झालेले आढळून येतात. शब्दशास्त्रांमध्ये जरी मुसलमानलोक फारसे वाकबगार नाहीत व संख्येच्या व संपत्तीच्या मानाने त्यांच्यामध्ये पदवीधर कमी असतील तरी व्यापारांत व नौकानयनाचे कामांत ते हिंदूंच्या पुढे गेले आहेत, हे त्यांस फार भूषणावह आहे. असो. हिंदु व्यापाऱ्यांनीं स्वतःच्या आगबोटी ठेविल्या तर त्यांनाही हिंदुकप्तान तयार करितां येतील हे उघड आहे. हिंदु लोक या कामांत फार मागे पडले आहेत हे निर्विवाद आहे.\*

---

\* हिंदु लोक धर्मभोळे व अल्पसंतोषी आहेत. या गोष्टीचा फायदा घेऊन त्यांस तसेच ठेवावे ह्या हेतूने मिशनरीलोक हिंदुलोकांस ख्रिश्चनधर्म शिकविण्यास हिंदुस्थानांत आले; मुक्तिफौजवाले आले. त्यांची फारशी डाळ शिजली नाही असे पाहून शेवटीं शेवटीं हिंदुधर्मच हिंदूस शिकविण्यास थिआसफिस्ट युरोपातून हिंदुस्थानांत आले व बनारससारख्या हिंदुविद्यापीठांत हिंदुधर्माचीं गूढतत्वे हिंदूस शिकवूं लागले आहेत, परंतु पाश्चिमात्य देशांतील अधुनिक शास्त्रे व कला आम्हांस शिकविण्यास व जपानासारखी आमच्या देशाची सर्व दिशांनी सुधारणा करण्यास युरोपातून आम्हांस औद्योगिकशिक्षण देणारी मिशनरे इकडे येत नाहीत, यांतील इंगित काय असावे हे आमच्या पुढारी लोकांनीं ताडिले पाहिजे. वास्तविक पाहतां हिंदुलोकांसारखे सरे धार्मिकलोक जगांत दुसरे कोणी नसतील व धर्मतत्वांचा उपदेश हिंदुलोकांनीं जगांतील इतर लोकांस करावा अशी हिंदुलोकांची योग्यता आहे. परंतु अधुनिक अधिभौतिक शास्त्रांमध्ये हिंदुलोकांनीं पाश्चिमात्य युरोपियन राष्ट्रांचे शिष्यत्व पतकरावे इतकें सध्यां ते

आतां पौराणिक दृष्टीने पाहिले असतां श्रीरामचंद्रजी रावणाचा पराभव करण्या करितां लंकेत गेले होते. तेही नौकांतून बसून जलमार्गाने गेले नाहीत; तर त्यांनीं आपले वानरदल समुद्र पार नेण्यास सेतू बांधिला; ही कथा पुराण प्रसिद्ध आहे व सेतुबंधरामेश्वराजवळ सेतूच्या अडून कांहीं खुणा आहेत असे म्हणतात. असो; या सर्व गोष्टीं वरून हिंदु लोकांस जलपर्यटन निसर्गतः आवडत नाही असे दिसून येईल. तरी द्वीपांतरीं हिंदु लोकांच्या वसाहती सांपडतात. जावा बेटांच्या पूर्वेस बाली आसलंड मध्ये हिंदु लोकांच्या जुन्या वसाहती आहेत. व तेथील लोक द्वारकेस श्रीद्वारकेनाथाचे दर्शनास येतात. यात्रे करितां हिंदु लोक जलमार्गाने जातात; व नोकऱ्यां करितां व व्यापारा करितां आणि उद्योगधंद्याकरितां पुष्कळ लोकांस सांप्रत जलमार्गाने आफ्रि-

( मागील पृष्ठावरून पुढे चालू. )

माणे आहेत. असे असून आमचा धर्म आम्हांस शिकविण्यास व आम्हांस धर्म भोळे व अल्पसंतोषी ठेवण्याच्या परोपकार बुद्धीने व भूतदयेने प्रेरित होऊन युरोपियन लोकांच्या मंडळ्या व फौजा हिंदुस्थानांत येतात व आमच्यांच लोकांच्या मदतीने धर्मविद्यापीठे, बनारससारख्या पवित्र क्षेत्रां स्थापन करतात; परंतु आम्हांस आधुनिक आधिभौतिक शास्त्रे शिकवून महत्त्वाकांक्षी, व्यापारी, व्यावहारिक व संपन्न करण्याकरितां मुंबईसारख्या व्यापारी शहरांत एकही औद्योगिकशिक्षण देणारें मिशन युरोपांतून अजून येत नाही ह्याचें कारण काय असावें वरें ? हिंदुस्थानचे लोकांस गरीब स्थितींतून काढणें व त्यांस व्यापारधंदे शिकवून किंचित सधन करून दुष्काळाच्या कचाट्यांतून सोडविणें हीं भूतदया नव्हे काय ? असो. युरोपियन लोक आम्हांस शिकविण्यास आले, किंवा आमचे लोक युरोपांत कला शिकण्यास किंवा धर्म शिकविण्यास गेले, तरी दोघांस नौकानयनाची जरूरी आहे.

केसही जावें लागतें. यावरून हिंदु लोकांस सध्या जलपर्यटनाची जरूर आहे; व परद्वीपांतील हिंदु लोकांच्या जुन्या वसाहतीं वरून फार-पूर्वी त्यांनाही नौकानयनकला माहित होती असें दिसतें. हिंदुस्थान देशाची जपानासारखी व्यापाराचे कामांत सर्व तऱ्हेनें सुधारणा झाली पाहिजे; असें आपले पुढाऱ्यांस वाटत असेल तर नौकानयन याविषयाच्या अध्ययनाची हिंदुस्थानांतील लोकांस जरूर आहे असें त्यांच्या लक्षांत येईल; व मुंबई सारख्या चांगल्या चांगल्या बंदरीं हा विषय शिकविण्याची कांहीं तरी ते सोय करतील किंवा सरकारकडून करवितील अशी आशा आहे. हा विषय पुरा शिकणें असल्यास पुस्तकावरून शिकून संपादन केलेल्या ज्ञानाचा अनुभव गलबतावर घेतला पाहिजे व कसलेल्या खलाशाबरोबर समुद्रावर सफरी केल्या पाहिजेत. साधारण लहान गलबतें व आगबोटी वर्षातून आठ महिने समुद्रावर सफरी करून पावसाळ्यांत चार महिने कोठें तरी बंदर करून राहतात. याचार महिन्यांत मोठ मोठ्या बंदरीं मालिम लोकांस त्यांचा धंदा शास्त्रीय रितीनें शिकविण्याची सोय केल्यास त्यांचेवर किती उपकार होतील बरे? असो. नौकानयन या विषयाकडे आपल्या विद्वान व पुढारी लोकांचें लक्ष जाईल व हिंदुस्थानांतील प्रत्येक चांगल्या व मोठ्या बंदरांत हा विषय शिकविण्याची सोय हेईल तेव्हां हिंदुस्थानाचें भाग्य उदयास आलें असें समजावयाचें. तोंपर्यंत याविषयाची चर्चा वर्तमान पत्रें व मासिक पुस्तकें यांतूनच होणें योग्य आहे. म्हणून हा विषय स्वतंत्र पुस्तकरूपानें छापून प्रसिद्ध न करतां ग्रंथमालेच्या द्वारे विद्वान लोकांपुढें ठेविला आहे. तो त्यांस पसंत पडल्यास तो कोणत्या रितीनें देशी

खलाशी लोकांस शिकवावा व शिकविण्यास काय काय साधनें लागतील याबद्दल विशेष सूचना करण्यांत येतील.

अलीकडे श्रीमंत गायकवाड सरकार—

यांचें याविषयाकडे बरेंच लक्ष लागलें आहे. त्यांनीं आपलीं काठेवाडांतील कांहीं बंदरे सुधारण्याचा प्रयत्न चालविला आहे; शिक्षणक्रमांतही त्यांचे राज्यांत पुष्कळ सुधारणा झाल्या आहेत, व होत आहेत. त्यांनीं हा विषय आपले संस्थानांतील खलाशी लोकांस शिकविण्याचें मनांत आणल्यास सहज होण्यासारखें आहे.

असो, या विषयाची योग्यता, आपले लोकांत त्यांचें अज्ञान व हयगय, व तो शिकविण्याची जरूरी या संबंधीं वर विवेचन केलें. आतां या पुस्तकांतील अंतर रचनेचा विचार करूं व विद्यार्थ्यांशिवाय इतर साधारण वाचकांस हें पुस्तक कितपत उपयोगी व मनोरंजक होईल तें पाहूं.

ह्याच्य पहिल्या भागांत, नौकानयनाची व्याख्या देऊन खलाशांस लागणाऱ्या साधनांचें थोडक्यांत वर्णन केलें आहे, व नौकानयन आणि नाविक ज्योतिष यांच्या मधील भेद दाखविला आहे. या भागांत लागर्थमानें गणित करण्याची रीति सविस्तर सांगितली आहे. ती साधारण वाचकांस लागर्थम् शिकण्यास फार उपयोगी पडेल. लागर्थमांची कौष्टके मराठी भाषेतून छापून प्रसिद्ध झालेली आहेत, परंतु तीं आलीकडे दुर्मिळ झालीं आहेत. तीं फिरून छापून काढल्यास सर्व लोकांस फार उपयोगी होतील व लागर्थमानें गणित, करण्याचा प्रघात सुरू होईल. या भागांत पुढें भूगोलसंबंधी व्याख्या

देऊन शेवटीं लागर्थमाच्या कोष्टकांचा उपयोग करण्याचे विशेष नियम दिले आहेत, व या भागांतील उदाहरणें करितां यावीत म्हणून कांहीं संख्यांचे लागर्थम् दिले आहेत.

दुसऱ्या भागांत होकायंत्राचें वर्णन केलें आहे. त्यांतही साधारण वाचकांस लोहचुंबकासंबंधीं व होक्यासंबंधीं पुष्कळ उपयुक्त माहिती मिळेल.

तिसरा, चवथा व पांचवा हे भाग विद्यार्थ्यांस फार उपयोगी आहेत. यांतही उपयुक्त माहिती पुष्कळ आहे.

सहाव्या भागांत त्रिकोनमितीतील व्याख्या दिल्या आहेत.

सातव्या भागांत ट्रान्झिस् कोष्टकांचें वर्णन केलें आहे. व ट्रान्झिस् सरव्हेच्या रीतीनें गलबताचें समुद्रावरील ठिकाण वरचेवर कसे काढितात तें दाखविलें आहे. यांत पृथ्वीचा पृष्ठभाग सपाट पातळी आहे असें मानिलें आहे. हा भाग सरव्हे जाणणाऱ्या लोकांस लवकर समजण्यासारखा आहे.

आठव्या भागांत गलबतावरील रोजनिशी कशी लिहावी तें सांगितलें आहे. ह्या रोजनिशीवरून रोज गलबत कोठे आलें व पुढें तें कोणत्या दिशेनें किती लांब न्यावयाचें हें समजतें. रोजनिशी बरोबर ठेवणें हें मालमाचें मुख्य काम आहे.

नवव्या भागांत पृथ्वीचा पृष्ठभाग गोल आहे असें मानून विषुवसमांतर, म्हणजे एकाच अक्षांशवृत्तावर थेट पूर्व किंवा पश्चिम दिशेनें, गलबत चालविलें असतां त्याचे रेखांश कसे काढावे हें दाखविलें आहे. ह्यावरून रेखांशाच्या प्रत्येक अंशाची लांबी, मैलांनीं मापिली तर, ध्रुवा-

कडे कशी कमी कमी होत जाते ते कळते; व रेखांशाच्या प्रत्येक अंशची निरनिराळ्या अक्षांशावरील लांबी काढिता येते. ह्या भागांत गोलावरील वस्तुलांच्या व्याख्या दिल्या आहेत. गणितज्ञांस हा भाग मनोरंजक होण्यासारखा आहे.

दहावा भागही असाच मनोरंजक आहे.

अकराव्या भागांत मरकेटरचे मताप्रमाणे पृथ्वीचा नकाशा कसा काढितात ते सांगितले आहे. सर्व पृथ्वीचा एका कागदावर काढलेला लंब चौरस नकाशा पुष्कळांनी पाहिला असेल. परंतु पृथ्वीचा आकार गोल असता, हा लंब चौरस नकाशा कोणत्या आधारेने काढितात, त्यावरील चाम्योत्तर वृत्ते ध्रुवाशी एकेठिकाणी कां मिळत नाहीत; व अक्षांशवृत्ते भूमध्य वृत्तांशी समांतर असतात परंतु एकमेकांपासून ध्रुवाकडे वाढत्या अंतरावर कां काढितात, हे थोड्या नांच माहित असते. ह्यांचे सविस्तर वर्णन याभागांत केले आहे. ते पुष्कळांना उपयुक्त व मनोरंजक वाटेल. खलाशी लोकांस उपयोगी पडणारे समुद्राचे नकाशे ( चार्ट्स् ) या मरकेटरच्या मताप्रमाणे काढिलेले असतात व ते खलाशी लोकांस वापरण्यास फार सोयीचे असतात.

बाराव्या भागांत बृहद्भर्तुल नौकागमनमार्गांचा उपयोग कां करावा हे थोडक्यांत सांगितले आहे. ते साधारण वाचकांस कळण्यासारखे आहे व गलबते चालविण्याच्या कामांत शास्त्रोक्तरातीचा उपयोग केल्याने कसा फायदा करून घेता येतो हे हा भाग वाचल्याने कळण्यासारखे आहे.

तेरावा व चवदावा हे भाग विद्यार्थ्यांच्या उपयोगी आहेत. साधा-



रण वाचकांस ते फारसे मनोरंजक होणार नाहीत. तरी गणितज्ञास ते मनोरंजक वाटतील.

पंधरावा भाग समुद्राच्या भरतीओहोटीवर लिहिलेला आहे तो साधारण वाचकांसही फार उपयुक्त व कळण्यासारखा आहे. स्थानिक कारणामुळे समुद्राचे किनाऱ्यावरील निरनिराळ्या ठिकाणी भरतीओहोटींत कसे फेरफार होतात, हें हा भाग वाचल्याने समजेल. यांत भरतीओहोटीसंबंधानें इतरही पुष्कळ उपयुक्त माहिती दिली आहे. कित्येक मोठमोठ्या नद्यांच्या मुखांतून भरतीचा लोंढा वर कसा जातो त्याचें वर्णन दिलें आहे. हा भागही साधारण वाचकांस फार उपयोगी व मनोरंजक आहे.

सोळाव्या भागांत नाविक ज्योतिष म्हणजे ज्योतिःशास्त्राचा नौकानयनाकडे कसा उपयोग करून घेतात तें सांगितलें आहे. हा भाग या पुस्तकाच्या मानानें काहींसा विस्तृत लिहिला गेला आहे. याचे चार विभाग केले आहेत. पहिल्या विभागांत ज्योतिःशास्त्रांतील व्याख्या सांगितल्या आहेत. दुसऱ्यांत चंद्रमूर्यादिकांचे ( नाविक ) वेध घेण्याच्या यंत्रसाधनांचें वर्णन केलें आहे. तिसऱ्यांत तारादिकांच्या वेधावरून गलबताचे अक्षांश काढण्याच्या व चवथ्यांत त्यांचे वेधावरून गलबताचे रेखांश काढण्याच्या सोपपत्तिक रीती सांगितल्या आहेत. ज्योतिःशास्त्रज्ञांस हा भाग फार मनोवेधक होणारा आहे, यांत नक्षत्रांमधील, घडोघडी बदलणाऱ्या चंद्राच्या स्थितीचा गलबताचे रेखांश काढण्याकडे कसा चमत्कारिक रीतीनें उपयोग करून घेतात हें पाहून आश्चर्य वाटण्यासारखें आहे. ज्योतिःशास्त्रासारख्या गहम व

स्वतंत्र शाखाचा, व्यवहारज्ञ लोक व्यापाराकडे कसा उपयोग करून घेतात हे शिकण्यासारखे आहे. प्राचीन लोक नौकानयनांत ज्योतिष शाखाचाच फार उपयोग करीत असत व अजूनही आपले खलाशी लोक या शाखाचाच या कामी फार उपयोग करितात. असे दिसते, म्हणूनच हा भाग जरा विस्तृत लिहिला आहे तरी त्यांत पुष्कळ गोष्टी अपुऱ्या राहिल्या आहेत.

येथेही आपले पुढारी लोकांस एक विनंति करावयाची आहे, ती ही की, हल्लीं आपलें व्यावहारिक पंचांग सुधारण्याकरितां एक पंचांग कमेटी ( मंडळी ) स्थापन झाली आहे, तशी एक कायमची पंचांग कमेटी स्थापन होऊन तिनें सरकारच्या परवानगीनें, सरकारी वेध शाळांचा लाभ घेऊन, ( नाटिकल आल्मानाक ) नाविक पंचांगाच्या खरेपणाबद्दलची खात्री करून घेऊन त्या पंचांगाची दरवर्षी देशीभाषेत एक आवृत्ति काढावी. नाविक पंचांग चारवर्षे आगाऊ छापून प्रसिद्ध होतें त्यामुळे त्याची देशीभाषेत आवृत्ति काढण्यास अवकाशही पुष्कळ असतो. अशी नाविक पंचांगाची आवृत्ति निघाल्यास ती आपले खलाशी व ज्योतिषी लोकांस फार उपयोगी पडेल. याप्रमाणें आपल्या अज्ञान खलाशांस उपयुक्त ज्ञान देऊन त्यांची सुधारणा करण्याचे पुष्कळ मार्ग आहेत.

या पुस्तकाबरोबर नाविक कोष्टकांचें एक निराळें पुस्तक प्रसिद्ध केले पाहिजे होतें. परंतु इंग्रजी आंकडे शिकविले तर, इंग्रजी भाषेतून प्रसिद्ध झालेली नाविक कोष्टकांचीं पुस्तके आपले खलाशांस लवकरच वापरतां येतात. मुख्य कोष्टकांचा कसा उपयोग करावा हे

थोडक्यांत या पुस्तकांत सांगितलें आहे. जशी जरूर पडेल तशीं पुस्तकें-  
ही तयार होतील.

या पुस्तकांत दोष पुष्कळ राहिले आहेत. साधारण विचारही सर-  
ळभाषेनें व्यक्त करितां आले नाहींत याबद्दल फार खेद होतो. तरी  
विद्वान् लोक यांतील दोष सुधारण्याचे मार्ग दाखवितील तर त्यांचे मज-  
वर फार उपकार होतील.

असो, या पुस्तकावर विद्वान् लोकांचे चांगले अभिप्राय पडल्यास  
व राजाश्रय किंवा लोकाश्रय मिळाल्यास त्याची गुजराथी भाषेत एक  
आवृत्ति काढण्याचा विचार आहे.

मु० द्वारका प्रांत काठेवाड  
ता. ३० जून १९०६

{ दत्तात्रय पांडुरंग भोसेकर  
ओव्हरसियर  
बडोदे पब्लिक वर्क खाते निसबत गायक-  
वाडसरकार.

# नौकानयन.

—:—

या पुस्तकांतील पारिभाषिक शब्दांची यादी.

नौकानयन या विषयावर मराठीत प्रसिद्ध झालेलें एकही पुस्तक पहावयास न मिळाल्यामुळें कित्येक इंग्रजी शब्दांस मराठी अगर संस्कृत अपरिचित शब्द या पुस्तकांत घालावे लागले आहेत. पोर-बंदर, द्वारका, बेट व कच्छ-मांडवी इकडील खलाशी नौकानयनांत जे शब्द वापरतात ते शास्त्रीय नसल्यामुळें विद्वान् लोकांस पसंत पडा-वयाचे नाहींत म्हणून तसे शब्द या पुस्तकांत घातले नाहींत, तरी ते या यादींत दाखल केले आहेत. ते फारच थोडे आहेत. मुंबई, रत्ना-गिरी, चिपळूण वगैरे बंदरांतील खलाशी, तांडेल व नाखवे या यादींतील शब्दांस कोणते शब्द वापरतात त्याचा शोध करून कोणी मजला खालील पत्त्यावर कळविल्यास त्यांचे मजवर फार उपकार होतील व त्या शब्दांचा ह्या ग्रंथाची दुसरी आवृत्ति छाप-ण्याचा प्रसंग आल्यास त्यांत उपयोग करितां येईल.

मूळ इंग्रजी शब्द. पारिभाषिक शब्द. खलाशी लोकांचे शब्द.

Navigation	नौकानयन	मालमी विद्या
Logarithm	घातांकगणित	—
Latitude	अक्षांश	अरज
Longitude	रेखांश	तूल ( तूळ )
Course	गमनमार्ग	मुजरो
Horizon	क्षितिज	सीम ( काळीघार )
Rhumb Line	( र्हंब लाईन )	—

Distance	अंतर	मुसाद
Nautical Mile	नाविकमैल	दकीका
Compass	होकायंत्र	होका
Card	{ गंजीफ दिशाचक्र	_____
Degree	अंश	दरजा
Agon	{ ( चलन शून्य रेखा ) शून्यकोनरेषा किंवा कोनशून्यरेषा	चलनशून्यरेषा
Isogonic Line	{ समचलनरेषा किंवा समकोनरेषा	_____
Point	दिग्बिंदू	खंड
Lubberline	( लबरलाइन )	निशाणी
Binnacle	होक्याची पेटी	_____
Dip	कल	_____
Dip of Horizon	{ क्षितिजनति. क्षितिजाचा कल	_____
Variation	चलन	
Deviation	विचलन	
Azimuth compass	दिगंतरमापक होकायंत्र	होका
Amplitude	आघ्रा	_____
Leeway	{ निवान्याकडील कोन विमार्ग-गमन-कोन आडमार्गांनं जाण्याचा कोन	भारे
Taffrail	{ गलबताच्या मागील ( सुकाणूजवळच्या ) भागावरील तक्तपोशी	कठोडो छतेडी
Aft Wind	पाठचा वार	पुठेरोपवन
Difference of Latitude }	{ अक्षांशांतर } { अक्षांतर }	_____

Difference of Longitude	} रेखांशांतर	_____
Middle Latitude		मध्याक्षांश
Co-Mid Latitude	} को-मध्याक्षांश पूरक मध्याक्षांश	_____
Log or Log-ship		पाटली
Sand Glass	घडी	घडी
Patent log	[ पेटन्ट लॉग ]	_____
Suppliment	भरतीचा कोन	_____
Complement	पूरककोन	
Sine ... ..	भुजज्या	
Cosine ... ..	को-भुजज्या	
Tangent ... ..	स्पर्शरेषा	
Co-tangent ... ..	को-स्पर्शरेषा	
Secant ... ..	छेदनरेषा	
Co-secant ... ..	को-छेदनरेषा	
Versedsine ... ..	शर	
Suversedsine	[ — ]	_____
Plane sailing	सरळपातळी नौकागमन	_____
Traverse sailing	सरलैकरेषा नौकागमन	_____
Traverse Tables	( ट्रान्हर्स टेबल्स )	नेऊद
Departure	मध्यान्हवृत्तांतर	
Equator	विषुववृत्त, भूमध्यरेषा	खत
Log-book or sea Journal	} गलबतावरील रोजनिशी } अथवा रोजनामा }	_____
Dead Reck oning		} पृथ्वीवरील मापें } पार्थिव मापें }
Departure-course	प्रस्थानगमनमार्ग	
Prallel sailing	} समांतर नौकागमन } भूमध्यवृत्तसमांतर नौका } विषुववृत्तसमांतर नौका }	_____
Sphere ... ..		गोल

Great circle	मोठें वर्तुल, बृहद्र्तुल.
Small circle	लहान वर्तुल, लघु वर्तुल.
Tropic of cancer	कर्कवृत्त
Tropic of cap- ricorn	} मकरवृत्त
Arctic circle	
Antarctic circle	दक्षिणध्रुववृत्त
Formula	सरणी, संक्षिप्तरीति
Middle latitude sailing	} मध्याक्षांश नौकागम.
Meridional parts	
Spring tide	उद्याणाचे पाणी
Neap tide	भांगाचे पाणी
Stand ... ..	समा
Nautical As- tronomy	} नाविक ज्योतिष
Quadrant	
Sextant ... ..	षष्टांशयंत्र
Tropics	क्रांतिसीमा
Equinoctial	विषुवचक्र
Ecliptic	क्रांतिवृत्त
Visible horizon	दृश्य क्षितिज
Sensible Horizon	स्पर्शक्षितिज
Rational Horizon	भूमध्यक्षितिज
Vertical or Azimuth- circles	} लंबवृत्तें
Prime Vertical	
Equinoxes	संपात बिंदु
Vernal Equinox	} वसंत संपात किंवा मेषसंपात

Autumnal Equinox	} शरत्संपात
Solstices	
Declination ...	} अयनांतर्बिंदु, मुख्य संक्रमणबिंदु
First Point of Aries	
Right Ascension	} क्रान्ति
Refraction	
Parallax	} मेषसंपात किंवा वसंतसंपात
Mean sun	
Apparent Sun	} विषुवांश
Mean time	
Apparent time	} वक्रीभवन
Equation of time	
Vernier ...	} लंबन
Index glass	
Horizon glass	} मध्यमरवि
Chronometer	
Artificial Horizon	} दृश्यरवि
Zenith	
Nadir	} मध्यम काळ किंवा वेळ
Local time	
Hour Angle	} स्पष्ट काल
Adjustment	
	} कालसमीकरण किंवा कालभेद
	} सूक्ष्म भागदर्शक पट्टी ( सूक्ष्म विभागदर्शक पट्टी )
	} कोनदर्शक आरसा
	} क्षितिज दर्शक आरसा
	} सूक्ष्म कालदर्शक घड्याळ ( नियत कालदर्शक घड्याळ, )
	} कृत्रिम क्षितिज
	} खस्वस्तिक
	} अधःस्वस्तिक
	} निजकाल
	} तास कोन
	} बरोबर लावणे


मुक्काम पोरबंदर, प्रांत काठेवाड; }  
ता. ३० सप्टेंबर सन १९१२. }

दत्तात्रय पांडुरंग भोसेकर,  
असिस्टंट इंजिनियर पोरबंदर संस्थान.



# नौकानयन.

## विषयक्रम.



विषय.	पृष्ठ.
भाग १ ला.—	१-६४
व्याख्या.	३
लागरथम.	१०
लागरथमाचे विशेष नियम.	२१
लागरथमार्ची कोष्टके.	२५
भाग २ रा.	६५-९०
होकायंत्र.	६५
बिन्याकल ( होक्याची पेटी. )	७३
होक्याचें चलन.	७५
होक्याचें विचलन.	७८
दिगंतर मापक होकायंत्र.	८२
भाग ३ रा.	९१-१०७
निवाच्याकडील कोन.	९१
भाग ४ था.	१०८-११५
अक्षांशांतर.	१०८
रेखांशांतर.	१०९
मध्याक्षांश.	११२

## भाग ५ वा.—

नाविक अंतर.

पाटली ( फळी )

पेटेन्ट लाग.

११६-१२५

.... ११६

.... ११७

.... १२१

## भाग ६ वा.—

त्रिकोणमितीतील व्याख्या ( प्रमाणे )

त्रिकोण मितीतील व्याख्यांचे स्पष्टीकरण.

१२६-१३२

.... १२६

.... १३१

## भाग ७ वा.—

सरळपातळी नौकागमन.

अक्षांशांतर व रेखांशांतर

गमनमार्ग ( Course )

सरळ रेषा नौकागमन.

ट्रान्झर्स कोष्टके.

काढण्याचे नियम.

काढण्याचे नियम.

....

....

१३३-१७३

.... १३३

.... १३७

.... १४२

.... १४८

.... १४८

## भाग ८ वा.—

गुलबतांवरील रोजनिशी.

प्रस्थान गमनमार्ग.

प्रवाह गमनमार्ग.

रोजनिशीचा नमुना.

१७४-१८६

.... १७४

.... १७६

.... १७८

.... १७९

## भाग ९ वा.—

समध्यसमांतर नौकागमन.

मौलावरील वतुलासंबंधी व्याख्या.

समांतर नौकागमन सरणी.

१८७-१९६

.... १८७

.... १८८

.... १८९

भाग १० वा.—	१९७-२१३
मध्याक्षांश नौकागमन.	१९७
मध्याक्षांश नौकागमन समीकरण ( सरणी )	१९९
भाग ११ वा.—	२१४-२३३
भरकाटरचें नौकागमन.	२१४
भरकाटरचे मतानें काढिलेला पृथ्वीचा चौरस नकाशा	२१८
भाग १२ वा.—	२३४-२३७
बृहद्रुल्लु नौकागमन.	२३४
भाग १३ वा.—	२३८-२४४
प्रवाह नौकागमन.	२३८
भाग १४ वा.—	२४५-२४७
कोन मापून गलबताचें ठिकाण काढणे.	२४५
भाग १५ वा.—	२४८-२६१
भरती ओहोटी.	२४८
भाग १६ वा.—नाविक ज्योतिष.	२६२-३३३
विभाग १ ला.	२६३-२७३
नाविक ज्योतिषांतिल व्याख्या.	२६३
व्याख्यांचें स्पष्टीकरण.	२६९
विभाग २ रा.—	२७४-२९३
यंत्र साधने व नाविक पंचांग कमान ( सेक्सटंट )	२७४
कृत्रिम क्षितिज.	२८२
क्रनामिटर ( नियत कालदर्शक घड्याळ. )	२८६
नाटिकल अलमनाक ( नाविक पंचांग. )	२९०

### विभाग ३ रा.—

अक्षांश काढण्याच्या रीति.	२९४-३१६
क्षितिजाचा कल ( क्षितिज नति )	३०४
व्यासार्ध.	३०७
वक्राभवन.	३०८
लंबन.	३११
खस्वस्तिकांतर काढणे.	३१५

### विभाग ४ था.

रेखांश.	३१७-३३३
तासकोन काढण्याच्या सरणी.	३१८
ज्योतिष त्रिकोन.	३२४
रेखांश काढण्याच्या रीति.	३२६

### परिशिष्ट अ.—

हिंदी महासागरावरील मुख्य बंदरे, भूशिरे व गैरेचे	अक्षांश
व रेखांश.	१-१०

# नौकानयन.

—०:ॐ:०—

## भाग १.

कोणतेही गलबत अगर नौका एका बंदरांतून अगर ठिकाणाहून दुसरे ठिकाणी थोड्या वेळांत सुरक्षित रीतीने नेण्याचे कलेस नौकानयन असे म्हणतात. नौकानयनाचा धंदा करणाऱ्या लोकांस दर्यावर्दी अगर खलाशी असे म्हणतात. बंदरांतून गलबत निघतांना लागलीच त्याचे ठिकाण नक्की करून ते नकाशावर दाखवितात. त्याला गमनस्थान कायम करणे, असे म्हणावे. नंतर गलबत ज्या बंदरास जावयाचे, त्यास थोड्या वेळांत ज्या दिशेने नेले असता सुरक्षित रीतीने पोहोचेल, त्या दिशेवर त्याचे सुकाणू फिरवितात. त्या दिशेस गलबताचा गमनमार्ग असे म्हणावे.

जर हा मार्ग जमिनीवरील एखाद्या दृश्य ठिकाणाच्या दिशेने जात असेल तर गलबत त्या ठिकाणाकडे सुकाणू फिरवून नेतां येईल. सुकाणू अशा रीतीने फिरवावे की, सुकाणू, गलबताची नाळ, आणि जावयाचे ठिकाण, ही तिन्ही एकाच सरळ रेषेत असावीत; अगर नसल्यास आणावीत, मात्र त्या दिशेने जातांना मध्ये खडक वगैरे कांहीं धोक्याचे कारण नसावे. परंतु धुके पडले असतां, अगर काळोख्या रात्री खडकाळ मार्गाने ( म्ह० जेथे पाण्यांत न दिसणारे खडक अगर वाळूचे ढिग असतात. अशा मार्गाने ) गलबत नेले असतां,

तें नीट बरोबर पाहिजे त्या दिशेने जात आहे किंवा नाही, हें पाहण्याकरितां गलबतावर आपणाजवळ कांहीं साधनें पाहिजेत.

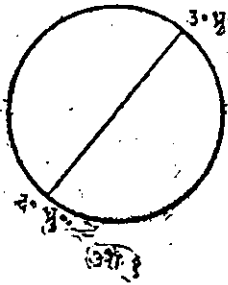
विशेषतः अफाट समुद्रामध्ये ज्या वेळीं जमीन बिलकुल दृष्टीस पडत नाही, त्यावेळीं अशा साधनांची फार जरूर लागते. एवढ्याकरितां उत्तम व काळजीवान खलाशी लोक आणि नाखवे वगैरे दर्यावर्दी, आपणापाशी ज्या समुद्रामधून व ज्या समुद्रकिनाऱ्याजवळून आपणास गलबत न्यावयाचें आहे, त्याचे उत्तम सुधारलेले नवे नकाशे, गलबतास दिशा दाखविणारे उत्तम सुधारलेले होकायंत्र, गलबताचा वेग पाहण्याकरितां वाळूचें घड्याळ, व दोरी आणि फळी (घडीपाटली) पाण्याचा ठाव पाहण्याकरितां बुडीद आणि दोरी, तसेंच ताऱ्यांचे व सूर्याचे वेध घेऊन समुद्रामध्ये आपलें गलबत कोणत्या ठिकाणीं आहे, तें मधून मधून जाणण्याकरितां तुरीय यंत्रें (वर्तुळ चतुर्थीश, व षष्ठांश) व घड्याळें वगैरे साधनें बाळगितात. आकाशांतिल ताऱ्यांवरून समुद्रामध्ये आपल्या गलबताचें ठिकाण शोधून काढण्याचे निरनिराळे प्रकार नाविक ज्योतिषांत सांगितलेले असतात. नौकानयनाचा उद्देश गलबताचें दररोजचें स्थान नकाशावर दाखवून त्यावरून पुढील गमनमार्ग कसा काढावा, हें शिकविणें हा होय. म्हणजे नकाशावरील कायम केलेल्या कोणत्याही प्रसिद्ध ठिकाणावरून अगर पूर्वी नकाशावर दाखविलेल्या गलबताच्याच ठिकाणावरून दररोज आपलें गलबत कोठें आहे व पुढें तें कोणत्या दिशेने न्यावें, हें शिकविणें हा नौकानयनविद्येचा मुख्य हेतु होय.

नौकानयनकलेचा अभ्यास करणाऱ्या विद्यार्थ्यांस, अंकगणित, दशांश, भूमितीचीं मूलतत्त्वे, बीजगणित-चिन्हांचा उपयोग, इतकें येत असलें पाहिजे. शिवाय त्रिकोणमितीचें थोडें बहुत ज्ञान असल्यास बरेंच. नसेल तर अभ्यासानें तें सहज येईल. त्यांस लागर-थामाचा म्हणजे घातांकगणिताचा उपयोग कळणें, हेंही जरूर आहे. घातांकगणिताचें प्रकरण या भागाच्या शेवटीं दिलें आहे.

## व्याख्या.

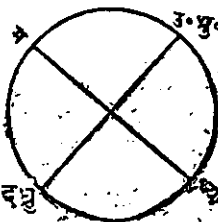
खलाशांस पृथ्वीचा आकार व त्यावरील कल्पितवृत्ते समजण्याची जरूरी आहे, म्हणून भूगोलसंबंधी व्याख्या देऊं.

१. आंस—साधारण रीतीनें म्हटलें असतां पृथ्वी वाटोळी आहे,



व ती आपल्या एका व्यासाभोंवतीं चोविस तासांत एक वेळ फिरते. तिच्या त्या व्यासास अक्ष अगर आंस असें म्हणतात. या आंसाच्या टोंकांस ध्रुव असें म्हणतात. उत्तरेकडील टोंकास उत्तर ध्रुव व त्याचे समोरील टोंकास दक्षिण ध्रुव असें म्हणतात. ( आकृति १ ली पहा. )

कोणतेंही शहर अगर ठिकाण पृथ्वीच्या पाठीवर कोठें आहे, तें

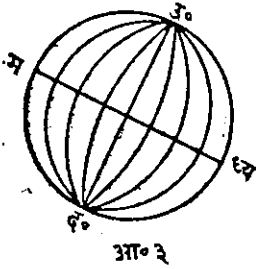


नाट रीतीनें सांगतां यावें म्हणून पृथ्वीच्या पृष्ठभागावर कांहीं कल्पित वर्तुळें काढिली आहेत, अशी कल्पना करून, त्या वर्तुळांवरून तें ठिकाण कोठें आहे, तें सांगतात.

२. भूमध्यरेषा अगर विषुववृत्त—पृथ्वीचे पृष्ठ भागावर असें एक मोठें वर्तुळ कल्पिलें

आहे कीं, त्यांतील प्रत्येक बिंदूपासून दोन्ही ध्रुव सारख्या अंतरावर असतात. त्या वर्तुळास भूमध्यरेषा अगर विषुव वृत्त असे म्हणतात. या रेषेने पृथ्वीचे उत्तर गोलार्ध आणि दक्षिण गोलार्ध असे दोन समान भाग होतात. ( आकृति २ री पहा. )

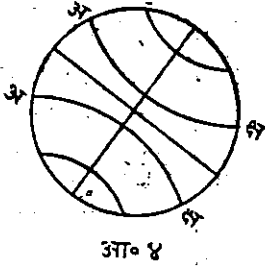
३. भूमध्यरेषेवर लंब होऊन दोन्ही ध्रुवांमधून जाणाऱ्या पृथ्वीच्या पृष्ठावरील मोठ्या वर्तुळास, याम्योत्तर ( म्ह० दक्षिणोत्तर. ) वृत्ते अगर माध्यान्ह वृत्ते अगर रेषा असे म्हणतात. मध्यान्हरेषा म्हणण्याचे कारण, ती रेषा ज्या ज्या स्थलांवरून जाते, त्या त्या स्थलीं मध्यान्ह म्हणजे दोन प्रहर एकदमच होते. या दक्षिणो-



त्तर अगर मध्यान्हरेषेपैकी जी कोणत्याही प्रसिद्ध ठिकाणावरून जाते, त्या रेषेस प्रथम माध्यान्ह वृत्त म्हणतात. इंग्रज आणि कांहीं इतर लोक ग्रीनीच मधून जी माध्यान्ह रेषा जाते, तिला प्रथम माध्यान्ह वृत्त मानितात. या माध्यान्ह रेषेवर उत्तर ध्रुवापासून दक्षिण ध्रुवापर्यंत असणाऱ्या सर्व स्थलांस ती ग्रीनीचच्या माध्यान्ह वृत्तावर आहेत, असे म्हणतात. व ती स्थळे एकमेकांच्या बरोबर उत्तरेस अगर दक्षिणेस असतात; तसेच दोन अथवा अधिक स्थळे एकमेकांच्या बरोबर उत्तरेस अगर दक्षिणेस असतील, तर तीं कोणत्याही एका विवक्षित मध्यान्ह रेषेवर असतील व त्याचे रेखांश एकच असतात. रेखांश भूमध्यवृत्तावर मोजतात. ( आ० ३ री पहा )



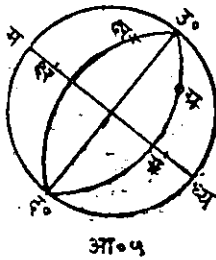
४. अक्षांश—कोणत्याही स्थळाचे मूमध्य रेषेपासून उत्तरकडे



अगर दक्षिणेकडे जें अंतर त्याला अक्षांश म्हणतात. व ते अंश ( ० ), कला ( ' ), विकला ( " ) यांनी दाखवितात. मूमध्य वृत्ताशी समांतर पूर्वपश्चिम जी लहान वर्तुळें असतात, त्यांस अक्षांशवृत्ते असे म्हणतात. एकच अक्षांश असणारीं सर्व स्थळे

एकाच अक्षांश वृत्तावर असतात व तीं एकमेकांच्या बरोबर पूर्वेस अगर पश्चिमेस असतात. अक्ष हीं अक्षांशवृत्ते होत. ( आकृति ४ पहा. )

५. रेखांश—कोणत्याही स्थळाचे रेखांश म्हणजे त्या स्थळाच्या

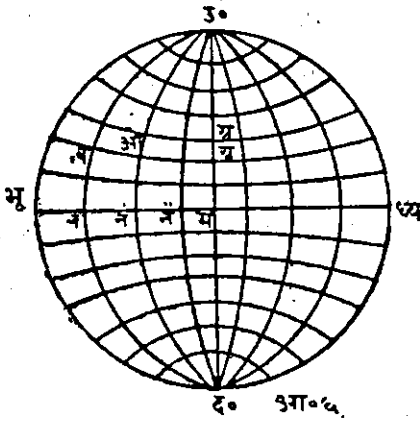


मध्यान्हवृत्ताचे प्रथम मध्यान्हवृत्तापासून पूर्वेकडील अगर पश्चिमेकडील अंतर होय. हें विषुववृत्तावर मोजतात. व ते अंश ( ० ) कला ( ' ) विकला ( " ) यांनी दाखवितात. पांचव्या आकृतीत जर उग्र द हें ग्रीनीचे ( पहिले ) मध्यान्हवृत्त होय, तर अक्ष हें 'क्ष' या स्थळाचे पश्चिम रेखांश होत.

व ते मध्य या विषुववृत्तावर मापिले आहेत.

६. कोणत्याही दोन स्थलांच्या अक्षांशांचें अंतर म्हणजे त्या दोन स्थलांमधून जाणाऱ्या समांतर अक्षवृत्तांच्या मधील मध्यान्ह वृत्तावर मोजलेलें अंतर होय.

### ७. कोणत्याही दोन स्थलांच्या रेखांशातील अंतर म्हणजे त्या



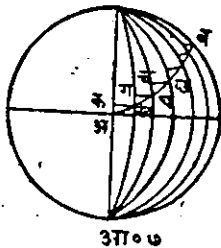
स्थलांमधून जाणाऱ्या मध्या-  
न्ह वृत्तामधील भूमध्य रेषेवर  
मोजलेले अंतर होय, सहाऱ्या  
आकृतीत उ, ध्य, द, भू, हे  
एक पृथ्वीचे मोठे वर्तुळ आहे,  
व ते दोन्ही ध्रुवांमधून जाते  
असे समजा; तसेच पृथ्वीच्या  
मध्यांतून उत्तरध्रुवापासून द-  
क्षिणध्रुवापर्यंत जाणारी एक रेषा

काढिली आहे असे समजा. आतां ही कल्पित रेषा हा पृथ्वीचा  
आंस होय. उ हा उत्तरध्रुव व द हा दक्षिणध्रुव होय.  
भू, म, ध्य, हे भूमध्यवृत्त होय. उनद, उनंद, उनंद, उमद उ भू द  
हीं दक्षिणोत्तर ( याम्योत्तर ) वृत्ते होत. अ क्ष, अ क्ष, हीं  
समांतर अक्षांशवृत्ते होत. ओ आणि व हीं दोन स्थले अथवा  
गलबताच्या जागा आहेत; व उ, ग्र, म, द हे ग्रीनीचमधून जाणारे  
दक्षिणोत्तरवृत्त आहे, असे समजा. तर व स्थलाचे व न हे अक्षांश  
होत; ओ स्थलाचे ओ न हे अक्षांश होत. म न हे ओचे रेखांश  
होत. हीं दोन्ही ग्रीनीचचे पश्चिमेस आहेत. अ अ अथवा ग्र ग्र  
हे अक्षांतर होय. व, न न हे व आणि ओ यांचे रेखांतर होय.

८. नौकानयनामध्ये कोणत्याही दोन स्थलांमधील मध्यान्हांतर  
म्हणजे, जेथून निघालो व जेथे आलो, त्या दोन स्थलांच्या मध्यान्ह  
वृत्तामधील नाविक मैलांनी दाखविलेले अंतर. हे ज्या अक्षांश-

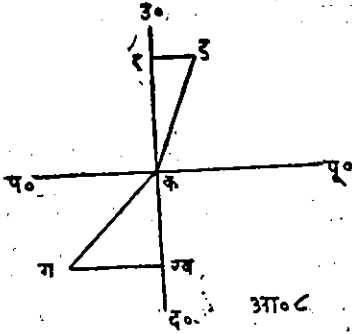
वृत्तावर गलबत आलें असेल, त्यावर मोजतात. बहुतकरून तें मध्या-  
न्हांतर त्या दोन मध्यान्हवृत्तांचें पोंचल्या ठिकाणच्या अक्षांशवृत्ता-  
वर मोजलेलें अंतर असतें.

९. गलबताचें रेखांशगमनः— गलबताचें रेखांशगमन म्हणजे  
कोणत्याही दोन स्थळांमधील थोडथोड्या मध्यान्हांतरांची बेरीज होय.  
हीं लहान मध्यान्हांतरें सारखी व फारच लहान असतात, अशी  
कल्पना केली आहे. असें समजा कीं, एखादें गलबत बरोबर पूर्वे-  
कडे जातें, तर तें एकाच अक्षवृत्तावर राहिल आणि त्याचें रेखांशगमन  
हें मध्यान्हांतराबरोबर होईल. परंतु तें गलबत जर एक  
अक्षवृत्त सोडून दुसऱ्या अक्षवृत्तावर जाईल तर त्या गलबताचें  
रेखांशगमन ( Departure डिपार्चर ) हें त्या दोन अक्षवृत्तांचें  
मध्य अक्षवृत्तावर मोजलेलें मध्यान्हांतर होईल. किंवा गलब-  
ताचें रेखांशगमन म्हणजे तें गलबत ज्या ( दक्षिणोत्तर ) मध्यान्ह-  
वृत्तापासून निघालें व ज्या मध्यान्हवृत्तावर आलें, त्या दोन मध्यान्ह-  
वृत्तांमधील लंबांतर होय.



असें समजा कीं, एक गलबत ( अ ) ह्या ठिका-  
णाहून ( ब ) ठिकाणी गेलें; तर कख, गघ,  
चछ, जझ इत्यादि अतिशय लहान लहान  
लंबांची बेरीज, हें त्या गलबताचें रेखांशगमन  
होईल व तें काटकोन त्रिकोणाच्या एका बाजूनें  
दाखवितां येईल.

१०. याम्योत्तर ( दक्षिणोत्तर ) किंवा मध्यान्हवृत्ताशी कोणत्याही



गलबताची जाण्याची दिशा जो कोन करिते त्यास त्या गलबताचा गमनमार्ग-कोन म्हणावे. आकृति ८ पहा. क पासून ग पर्यंत एक गलबत चालले अशी कल्पना करा. तर कग हे त्याचे अंतर, कख, हे त्याचे अक्षांतर,

खग, हे त्याचे रेखांतर ( अगर रेखांशगमन ) आणि ख क ग हा त्याचा गमनमार्ग-कोन होय. ग क प हा गमनमार्ग-कोन नव्हे; तर ख क ग हाच गमनमार्ग आहे, हे पक्के ध्यानांत ठेवावे.

आणखी एक उदाहरण घेऊन हे अधिक स्पष्ट करूं; एक गलबत क पासून ड पर्यंत गेलें, असे समजा; तर कड हे त्याचे अंतर, कर हे त्याचे अक्षांतर, डर हे त्याचे रेखांतर ( गमन ), व, रकड हा त्याचा गमनमार्ग होय.

११. मध्याक्षवृत्त—ज्या अक्षवृत्तापासून गलबत निघाले, व ज्या अक्षवृत्तावर ते येऊन पोहोचले, त्या दोहोंच्या बरोबर मध्यावर जें अक्षवृत्त असतें त्याला मध्य अक्षवृत्त म्हणावे.

१२. दृश्य क्षितिज—पृथ्वीच्या पृष्ठ भागावरील समुद्रावर जेथपर्यंत आपली नजर चोहोंकडे पोचते त्या वर्तुळास दृश्य क्षितिज असें म्हणावे. म्हणजे जेथे आकाश चोहोंकडून पृथ्वीस मिळालेसें दिसतें, ते दृश्य क्षितिज होय; अथवा पृथ्वी आणि आकाश यांच्या स्पर्शानें झालेल्या वर्तुळास दृश्य क्षितिज म्हणावे.

१३. पृथ्वीच्या पृष्ठभागावर प्रत्येक मध्यान्ह वृत्ताशी सारखा कोन करणारा जो गलबताचा वक्र मार्ग त्याला ऱ्हंब ( Rhumb ) असे म्हणवें. ऱ्हंब ( Rhumb ) म्हणजे गलबताचा एकाच दिशेंतील मार्ग व कोर्स ( Course ) म्हणजे गलबताच्या एकाच दिशेंतील मार्गांनै याम्योत्तर ( दक्षिणोत्तर ) वृत्ताशी केलेला कोन होय.

१४. अंतर--गलबत कोणत्याही दिशेनें एका ठिकाणापासून दुसऱ्या ठिकाणापर्यंत जितकें लांब जातें तें त्याचें अंतर होय. हें अंतर नाविक मैलांनीं मोजतात.

१५. नाविक मैल--पृथ्वीवरील मोठ्या वर्तुळाचें ३६० अंश कल्पितात, व एका अंशाच्या ६० कला मानितात. प्रत्येक कला सुमारे ६०८० फूट लांब असते व तिला नाविक मैल असें म्हणतात; साधारण प्रचारांतील मैल ५२८० फूट असतो.

१६. नाळेकडे तोंड केलें असतां गलबताच्या उजवे बाजूस ( Star Board ) स्टारबोर्ड व डावे बाजूस पोर्ट ( लार बोर्ड. ) असें म्हणतात.

१७. गलबतांच्या शिडाच्या खालच्या दोन कोंपऱ्यास ज्या दोन दोऱ्या बांधलेल्या असतात त्यास टाक ( Tack or Tackle ) म्हणजे गोस व डामण असें म्हणतात. जी दोरी शिडाच्या वाऱ्याकडील कोंपऱ्यास बांधलेली असते तिला गोस म्हणतात; व ती सदोदित ताणून बांधतात. गलबताचे मागील तक्तपोशी व सुकाणूकडे बांधलेल्या दोरीस डामण म्हणतात.

## “ लागरथम् ” म्हणजे घातांकगणित.

जॉन नेपिअर म्हणून स्काटलंडांत एक मोठा गणिती होऊन गेला. त्याने लागरथमने गणित करण्याची युक्ति काढिली.

लागरथमाच्या योगाने गुणाकाराचे काम बेरजेने करितां येते; भागाकाराचे काम वजावाकीने होते; तसेंच कोणत्याही संख्येचे कोणतेही मूळ काढणे झाल्यास त्या संख्येचे लागरथमास त्या मूळ प्रकाशकाने भागून काढितात; व कोणत्याही संख्येचा कोणताही घात करणे झाल्यास त्या संख्येचे लागरथमास त्या घातप्रकाशाने गुणून घात काढितां येतो. लागरथमाची निरनिराळीं कोष्टके बनविण्याच्या कामास फार वेळ व श्रम पडले आहेत, परंतु सध्यां आपणास त्याचा उपयोग कसा करावा, एवढेच शिकावयाचे आहे.

साधारण प्रचारांतील लागरथमाची पद्धति दहा या मूळ संख्येचे घात करून काढलेली आहे.

आणि सर्व संख्येचे लागरथम् हे दहा या मूळ संख्येचे घात प्रकाशक आहेत, असे म्हटले तरी चालेल. उदाहरणः—

$10^0 = 1$  म्हणून एक या संख्येचा लागरथम् ० होय.

$10^1 = 10$  म्हणून दहा या संख्याचा लागरथम् १ होय.

$10^2 = 100$  म्हणून शंभर या संख्येचा लागरथम् २ होय.

$10^3 = 1000$  म्हणून हजार या संख्येचा लागरथम् ३ होय.

$10^{-1} = \frac{1}{10}$  म्हणून  $\frac{1}{10}$  या संख्येचा लागरथम् (-१) होय.

$१०^३ = \frac{१}{१००} \text{ म्हणून } \frac{१}{१००}$  या संख्येचा लागरथम्  $(-२)$  होय.

यावरून लक्ष्यांत येईल कीं १ व १० यामधील कोणत्याही संख्येचा लागरथम् शून्य आणि एक यांमध्ये असला पाहिजे. म्हणजे तो एकाहून कमी असला पाहिजे, किंवा कांहीं दशांश अपूर्णाक असला पाहिजे. तसेंच १० आणि १०० यांचे मधील कोणत्याही संख्येचा लागरथम् हा २ व दुसरा कांहीं दशांश अपूर्णाक, यांनीं झालेली एक मिश्रसंख्या असली पाहिजे; म्हणून कोणत्याही लागरथमांतील पूर्णांक ( पूर्ण घात प्रकाशक ) हा, ज्या संख्येचे लागरथम् काढावयाचे आहे, त्या संख्येच्या पूर्णांकांत जितके आंकडे असतील, त्यांहून एकाने कमी असला पाहिजे. यावरून एकापेक्षां मोठ्या अशा कोणत्याही संख्येचे लागरथमांतील पूर्णांक काढण्याचा एक नियम निघतो तो हा:—

१ ला नियम—ज्या संख्येचा लागरथम् काढावयाचा असेल, त्या संख्येतील पूर्णांकस्थळें मोजावीं व त्या स्थळांच्या संख्येहून एकाने कमी इतका त्या संख्येच्या लागरथमांतील पूर्णांक समजावा जसे:—

८ या संख्येतील पूर्ण घातप्रकाशक ०.

८८ ” ” ” ” १.

८८९ ” ” ” ” २.

८८९ ” ” ” ” १.

८८६ ” ” ” ” ०.

एकाहून लहान संख्येच्या लागरथमांतील पूर्णांक ( पूर्ण घातप्रकाशक ) काढण्याची रीति कांहींशी निराळी आहे.

आपणांस माहित आहे कीं,  $\frac{१}{०}$  अगर ( . ? ) याचा घात-प्रकाशक (-१) ही ऋण संख्या आहे. व  $\frac{१}{००}$  अथवा .०१ याचा घातप्रकाशक (-२) ही आहे. यावरून हे उघड आहे कीं, कोणत्याही दशांश अपूर्णांक संख्येचा घातप्रकाशक ऋण असतो; व त्या संख्येत दशांशचिन्ह व प्रथम अंक यामध्ये जितकी शून्ये असतील, त्यांहून एकाने अधिक असतो.

२ रा नियम—एकाहून कमी अशा कोणत्याही दशांश अपूर्णांक संख्येच्या लागरथमांतील पूर्ण घातप्रकाशक हा त्या संख्येतील दशांश चिन्ह व प्रथम आंकडा यांच्या मध्ये जितकी शून्ये असतील, त्यांहून एकाने अधिक असतो व तो सदोदित ऋण असतो. जसे:—

.८१ यांतील पूर्ण घातप्रकाशक (-१) आहे.

.०८४२                      "                      "                      (-२) "

.००८३२                     "                     "                     (-३) "

.०००८८१                    "                    "                    (-४) "

म्हणजे तो ऋण आंकडा असतो व त्या संख्येत दशांश चिन्ह व प्रथम अंक यांच्या मध्ये जितकी शून्ये असतील त्यांहून एकाने अधिक असतो.

दहा ही मूल संख्या धरून जी लागरथमाची पद्धति केली आहे, तिच्यां-तील कोष्टकांत लागरथमाचा फक्त दशांश भागच दिलेला असतो; व तो सहा स्थळांपर्यंत काढलेला असतो; आणि त्याचे मार्गे जो पूर्ण घात-प्रकाशक लिहावयाचा, तो वरील रीतीने काढून लिहावा लागतो. लाग-थमाचे कोष्टकांबरोबर कोणत्याही संख्येचे लागरथम् कसे काढावे वर



लागरथमावरून संख्या कशी काढावी, याची रीति थोडक्यांत समजावून सांगितलेली असते. वरील दोन नियमांवरून लागरथमाचे पूर्ण घातप्रकाशक काढण्यास व लागरथमावरून काढलेल्या संख्येत दशांशचिन्ह करण्यास कठीण पडणार नाही.

‘दहा ही मूळ संख्या धरून जी घातांकपद्धति (लागरथमाची पद्धति) केली आहे, तींत लागरथमामधील अपूर्णांक भाग, जो कोष्टकांत दिलेला असतो, तो, जोंपर्यंत त्या संख्येत तेच आंकडे क्रमानें आहेत, तोंपर्यंत बदलत नाही. मग त्या आंकड्यांत दशांशचिन्ह कोठेंही असलें, किंवा नसलें तरी हरकत नाही; म्हणजे ते आंकडे सर्व पूर्णांक असोत, सर्व अपूर्णांक असोत अगर कांहीं पूर्णांक व कांहीं अपूर्णांक असोत, जोंपर्यंत संख्येत एकाच क्रमानें तेच अंक आहेत, तोंपर्यंत त्यांचे लागरथमांतील अपूर्णांक भाग तोच असतो; बदलत नाही. त्याचे मार्गें जो पूर्णांक लिहावयाचा तो मात्र १ ल्या व २ व्या नियमाप्रमाणें लिहावा. उदाहरणार्थः—

संख्या.	लागरथम् अथवा घातांक.
.८८६ ....	.... ३.९४७४३४
८.८६० ....	.... ०.९४७४३४
८८.६० ....	.... १.९४७४३४
००८८६ ....	.... ३.९४७४३४

येथें-९४७४३४ हा घातांकांतील अपूर्णांक भाग, फक्त जोच कोष्टकांत दिलेला असतो तो, संख्येत क्रमानें तेच अंक ( ८८६ ) आहेत तोंपर्यंत, बदलला जात नाही; मग त्यांत दशांश चिन्ह कोठेंही असो.

या नियमांमुळे कोणत्याही अपूर्णाक किंवा पूर्णाक संख्येचे लागर-  
थम् कोष्टकांतून लवकर काढता येतात व त्यांचे मार्गे पूर्णाक मात्र  
पहिल्या दोन नियमांवरून विचार करून लिहावा लागतो.

## घातांकगणित

अथवा

### लागरथमानें गणित करण्याची रीति.

गुणाकार.

१. कोणत्याही दोन संख्यांचा गुणाकार घातांक गणितानें (लाग-  
रथमानें) करावयाचा असल्यास, त्या दोन संख्यांचे घातांक कोष्टकांतून  
काढावे, व त्यांची बेरीज घ्यावी; त्या घातांकाच्या बेरजेवरून कोष्टकां-  
तून संख्या काढावी; ती संख्या त्या दोन संख्यांचा गुणाकार होय.

भागाकार.

२. भागाकार घातांकानें (लागरथमानें) करावयाचा असल्यास  
भाजक संख्येचा घातांक भाज्यसंख्येच्या घातांकांतून वजा करावा;  
बाकी राहिलेल्या घातांकांची संख्या. कोष्टकांतून काढावी. ती  
संख्या इच्छित भागाकार होईल. ....

..... मूळ:.....

३. एखाद्या संख्येचे कोणतेही मूळ काढणें असल्यास, त्या संख्ये-  
च्या घातांकास त्या मूळांकानें (मूळप्रकाशकानें) भागावें. भागून  
आलेल्या घातांकावरून कोष्टकांतून संख्या काढावी. ती संख्या  
दिलेल्या संख्येचे इच्छित मूळ होय.

घात.

४. कोणत्याही संख्येचा कोणताही घात करणे असल्यास त्या संख्येच्या घातांकास ( लागरथमास ) त्या घातप्रकाशकानें गुणावें व गुणून आलेल्या घातांकाची कोष्टकांतून संख्या काढावी. ती संख्या दिलेल्या संख्येचा इच्छित घात होय.

अपूर्णांक संख्यांचे घात व मूळ.

कोणत्याही अपूर्णांक संख्येच्या लागरथमांतील पूर्णांक ऋण असतो; परंतु दशांश भाग सदादित घन असतो; म्हणून अपूर्णांक संख्येचा घात करितेवेळीं तिचे लागरथमास गुणतांना त्यांतील दशांश भागास गुणून जे हातचे येतात, ते मागील ऋण पूर्णांक भागांत वजा करावे लागतात.

उदाहरण:— $^{\circ}०९$  यांचा पंचघात करा. किंवा ( $^{\circ}०९$ ) याची किंमत काढा.

$$^{\circ}०९ चें लागरथम् = २.६९८९७०$$

$$\text{त्यास } ५ \text{ चांनीं गुणा. तर } -२ \times ९ = -१० = १०$$

$$\text{व } ६९८९७० \times ९ = ३.४९४८९०$$

$$\text{यांची बेरीज} = \underline{३.४९४८९०}$$

म्हणजे ( $^{\circ}०९$ ) चे लागरथम् =  $३.४९४८९०$  हे आले व संख्या ३१२५ येते. त्यांत नियमाप्रमाणें दशांश चिन्ह व प्रथम अंक यांचे मध्ये ६ शून्ये घावीं म्हणून ( $^{\circ}०९$ ) =  $^{\circ}००००००३१२५$

कोणत्याही अपूर्णांक संख्येचें मूळ काढतांना लागरथमांतील पूर्णांक संख्येस मूळ प्रकाशकानें भागावें; भाग बरोबर तुटत नसल्यास जरूर

ती संख्या त्या ऋण पूर्णांक संख्येस मिळवावी. व तीच संख्या त्या लागरथमांतील धन अपूर्णांक संख्येतही मिळवावी व भागाकार येईल, तो त्या मूळ संख्येचे लागरथम् होत. त्यावरून कोष्टकांतून मूळ संख्या काढावी.

उदाहरण—( ००००००३१२५ ) याची किंमत काढा.

००००००३१२५ चे लागरथम् = ७.४९४८५० यास पांच ( ५ ) या मूळप्रकाशकानें भागावयाचे, म्हणून भाग बरोबर तुटण्याकरितां ७ या ऋण पूर्णांकांत ३ मिळवावें म्हणजे  $७+३=१० \div ५=२$  व तितकेच ( ३ ) अपूर्णांक भागांत मिळविले म्हणून  $३ \cdot ४९४८५० \div ५ = ६९८९७०$  यांची बेरीज २. ६९८९७०. या लागरथमाची संख्या ०५ ही कोष्टकांत दिली आहे. म्हणून  $\sqrt{००००००३१२५}$

= किंवा ( ००००००३१२५ ) = ०५ हें उत्तर.

उदाहरणें\*

उ० ( १ ) लें. ४८९६ यांस ८४.३ यांनी लागरथमाचा उपयोग करून गुणा.

कोष्टकावरून ४८२६ चे लागरथम् ३.६८९८४१

८४.३ चे लागरथम् = १.२२९८२८

या दोन लागरथमाची बेरीज— ५.६१९६६९

\* या उदाहरणांत येणाऱ्या संख्यांचें लागरथमाचें कोष्टक या भागाचे शेवटीं दिले आहे व त्या कोष्टकाचा उपयोग करण्याचे विशेष नियमही दिले आहेत.

आतां कोष्टकांत ६१५६६९ या लागरथमाची संख्या पाहावी व त्यांत सहा पूर्णांक असावेत. ( ते काढण्याचे विशेष नियम शेवटीं पहा. )

५६१५६६९ याचे अगदीं जवळचे १ लें कोष्टकांतिल लागरथम् ६१५६३४ हे आहेत; ते वजा करावे.

बाकी	३५	राहिले;	त्यावर दोन शून्यें द्या. व त्यास
१०५ )	३५००	(३३	१०५, या कोष्टकांत
	३१५		दिलेल्या अंतरानें भागा.
	<u>३५०</u>		भागाकार ३ आवर्त आला.

आतां ६१५६३४ या लागरथमाची संख्या ४१२७ आहे, त्यावर हे आवर्त ३ लिहून सहा पूर्णांक स्थळें व पाहिजे तितकीं दशांशस्थळें पुरीं करून घ्यावीं; म्हणून गुणाकार ४१२७३३३ हा आला. उत्तर ४१२७३३३

( २ ) रें उ०—११२१०० यांस ००७ यांनीं गुणा.

११२१०० चे लागरथम् ५०४९६०६

००७ चे लागरथम् ३८४९०९८

लागरथमाची बेरीज २८९४७०४

या लागरथमावरून कोष्टकांतून संख्या, ७८४७ ही आली. त्यांत तीन पूर्णांकस्थळें ठेऊन दशांशचिन्ह करा म्हणजे ७८४.७ हें उत्तर.

( ३ ) रें उ०—१४९६ यास १२१३ नीं भागा.

१४९६ चे लागरथम् ३.१७४९३२ यांतून

१२१३ चे लागरथम् ३.०८३८६१ वजा करा.

०९१०७? या लागरथमावरून

( १८ )

कोष्टकांतून संख्या काढा. आतां  $०९१०७१$  याचे  
अगदीं जवळचे ला०  $०९०९६३$  हे आहेत.

व त्याची संख्या  $१२३३$  आहे.

यांत पूर्णांकस्थान एकच असलें पाहिजे ( नियम १ ला पहा. )

म्हणून  $१२३३$  हें उत्तर.

( ४ ) थें उदाहरण— $८७८५५७$  यांस लागरथमाच्या रीतीनें  
 $१८०४$  यांनीं भागा.

कोष्टकावरून  $८७८५५७$  चे लागरथम् काढतांना प्रथम  $८७८५$   
चे लागरथम्  $९४३७४२$  हे दिले आहेत. ते लिहावे; व  
अंतर  $४९$  दिलेलें आहे, त्यास बाकी राहिलेल्या  $५७$  या आंक-  
ड्यांनीं गुणार्थें ( विशेषनियम ४ पहा ) गुणाकार  $२७९३$  आला.  
त्यावरील शेवटचे दोन अंक कापून बाकी  $२७९=२८$  राहतात. ते  
वरील लागरथमांत मिळवावे म्हणून  $९४३७४२+२८=९४३७७०$   
हे लागरथम् आले, व संख्येंत चार पूर्णांक आहेत; म्हणून  
 $३९४३७७०$  हे पूर्ण लागरथम् होय.

आतां  $८७८५५७$  चे लाग.  $३९४३७७०$  यांत

$१८०४$  चे लाग.  $१२९६२३६$  वजा जातां  
 $२६८७९३४$  बाकी. राहिले

हे लागरथम्, कोष्टकावरून  $४८७$  या संख्येचे आहेत, व त्यांत  
तीन पूर्णांकस्थळें आहेत; म्हणून— उत्तर  $४८७.०$

उ० ५ वें.— $९२६१$  यांचें घनमूळ काढा. ( $९२६१$ )<sup>३</sup>

$९२६१$  चें लाग.  $३९६६६५८$ , यांस ३ नीं भागा.

( १९ )

=१.३२२२१९ हे लागरथम्, कोष्ट-  
कावरून पाहतां, २१ या संख्येचे आहे. व त्यांत पूर्णांकस्थळें  
दोन असलीं पाहिजेत; म्हणून— २१ हें उत्तर.

उ० ६ वें. ३६००; ६०८०; :२८:

हें त्रैराशिक सोडवा. अंकगणिताच्या नियमाप्रमाणें ६०८० यांस  
२८ सांणी गुणावें व ३६०० यांणी भागावें.

म्हणून ६०८० चे लागरथम्—३७८३९०४

व २८ चे लाग. १०४४७१९८

५२३१०६२ बेरीज.

यांतून वजा ३६०० चे लाग.

३९९६३०२ वजा

१०६७४७६० बाकी

हें कोष्टकावरून पहातां, ४७२९ चे अगदीं जवळचे लागरथम्  
आहेत व त्यांत दोन पूर्णांकस्थळें असावीत म्हणून ४७२९ हें उत्तर.

उ० ७ वें. १.८०५ याचा चतुर्घात करा.

कोष्टकावरून १.८०५ चे लागरथम्—०२९६४७७ यास

घातांक ४ यांणी गुणा.

× ४

१०२५९०८ कोष्टकांत

या लागरथमाचे अगदीं जवळचे ला.—१.०२९७१५ हे निघतात;

१९३ बाकी

त्याची संख्या १०.६१ ( ४०८ ) ....१९३०० ( ४७

ही दिली आहे, व अंतर,

१६३२

४०८, दिलें आहे. आतां

२९८०

१०.६१ वर पुढील दोन

२८९६

( २० )

स्थळें काढावयाचीं आहेत; म्हणून वरील लागरथमाच्या वजावाकीवर  
दोन शून्ये घ्या, व त्या संख्येस ४०८ या अंतरानें भागा. ४७  
भागाकार आला, ते १०.६१ या संख्येवरील पुढील दोन दशांश  
अपूर्णांक आंकडे होत; म्हणून १०.६१४७ हें उत्तर.





कोष्टकावरून क्रमिक संख्यांचे लागरथम् म्हणजे घातांक काढण्याचे विशेष नियम.

( १ ) संख्ये फक्त दोनच अंकांची असेल तर—कोष्टक नंबर १ काढा, व “ संख्या ” या सदराखाली दिलेली संख्या पहा. तिचे समोर लागरथम् या सदराखाली पाहिजे ते लागरथम् सांपडतील. लागरथम्च्या नियमाप्रमाणे त्याचे पाठीमागे पूर्ण घातांक लिहावा. जसे ५६ या संख्येचे लागरथम् १·७४८१८८ हे आहेत. व ९४ या संख्येचा लागरथम् १·९७३१२८ हा आहे.

( २ ) संख्या तीन अंकांची असेल तर—कोष्टक नंबर २ मध्ये डाव्या हाताकडील सदरांत ( म्हणजे संख्या या सदराखाली ) दिलेली संख्या पहावी व त्याच्यासमोर (०) शून्य या सदराखाली पाहिजे ते लागरथम् सांपडतील. त्याच्या मागे वर लिहिल्याप्रमाणे, लागरथम्च्या नियमाने पूर्ण घातांक ( घातप्रकाशक ) लिहावा. जसे—२८५ चे लागरथम् २·४५४८४५ हे आहे व १८४ याचे लागरथम् २·२६४८१८ हे आहे. २८१ चे —१·४४८७०६ हे आहे.

( ३ ) जेव्हां संख्या चार अंकांची असेल तेव्हां त्या संख्येत दशांशचिन्ह असले, तरी ते नाही असे समजून, कोष्टकातील डावे हाताकडील “ संख्या ” या सदराखाली त्या चार अंकांचे संख्येतील पहिले तीन अंक पहावे व “ संख्या ” शब्दाचे समोर जे शून्यापासून १, २, ३ इत्यादि नवापर्यंत अंक दिलेले आहेत, यांत राहिलेला चवथा अंक पहावा, व त्याच्या सदराखाली आणि पहिल्या तीन अंकांच्या संख्येसमोर आपणास पाहिजे तो चार

अंकांच्या संख्येचा लागरथम् सांपडेल. त्याचे मार्गे रीतीप्रमाणें पूर्ण घातप्रकाशक लिहावा.

( ४ ) संख्येत पांच किंवा अधिक अंक असतील तर पहिल्या चार अंकांचे लागरथम् वर सांगितल्याप्रमाणें काढावे. नंतर बाकी राहिलेल्या अंकांनी त्या संख्येपुढील “ अंतर, ” या सदराखालील अकास गुणावें. व जो गुणाकार येईल त्यांतील उजवे हाताकडील आंकडे, गुण्यांकामध्ये जितके आंकडे असतील तितके, कापावे व बाकीची रकम, पहिल्या चार अंकांच्या लागरथमाच्या रकमेस मिळवावी. बेरीज येईल ती त्या पांच किंवा अधिक अंकांच्या संख्येचे लागरथम् होईल. त्याचे पाठीमार्गे रीतीप्रमाणें पूर्ण घातांक लिहावा. उजवेकडील कापून टाकिलेला पहिला अंक ५ पेक्षा अधिक असेल तर बाकी राहिलेल्या अंकांतील एकचा अंक एकानें वाढवावा.

उदाहरणार्थ—२५०४७ या संख्येचे लागरथम् काढा. पहिल्यानें डावेकडील “ संख्या ” या सदराखाली २९० ही संख्या पहा. या संख्येसमोर व ४ या अंकाच्या सदराखाली ३९८६३४ हे लागरथम् सांपडेल. व त्याचे समोर “ अंतर ” या सदराखाली १७३ ही रकम सांपडेल. तिला ७ नीं गुणून १२११ आले आणि त्यांतील शेवटचा अंक १ कापून टाकिल्यास बाकी १२१ राहिले ते ३९८६३४ यांत मिळविले, व मार्गे घातांक चार हा लिहिला तर ४-३९८७५५ हा पाहिजे होता तो लागरथम् आला.

(५) जेव्हां संख्या व्यवहारी सम अपूर्णाक असेल तेव्हां कोष्टकांतून अंश आणि छेद यांचे लागरथम् वेगवेगळाले काढून छेदांचे लागरथम् अंशांचे लागरथमांत वजा करून बाकी काढावी; ही बाकी त्या

सम अपूर्णीकाचे लागरथम् आहे. व त्यांचा पूर्ण घातप्रकाशक ऋण होईल, तो नियमाप्रमाणे लिहावा.

जेव्हां संख्या भागानुबंध अपूर्णीक असेल तेव्हां त्या भागानुबंध अपूर्णीकास विषम अपूर्णीकाचें रूप देऊन अंश व छेदांचे लागरथम् काढून पूर्वीप्रमाणे वजाबाकी करावी.

उदाहरण ( १ लें )  $\frac{३७}{९४}$  याचें लागरथम् काढा. अंश ३७  
याचा लाग० =  $१ \cdot ९६८२०२$ , यांतून छेद ९४ याचा  
लाग० =  $१ \cdot ९७३१२८$  वजा करा. म्हणून  $\frac{३७}{९४}$  चें  
—  $१ \cdot ५९५०७४$

लाग०  $१ \cdot ५९५०७३$  हें उत्तर.

उदाहरण ( २ रें )  $१७\frac{१४}{२३}$  याचें लागरथम् काढा. आतं  
 $१७\frac{१४}{२३} = \frac{४०५}{२३}$  हा विषम अपूर्णीक आहे; म्हणून अंश ४०५  
याचा लाग० =  $२ \cdot ६०७४५५$  यांतून, छेद २३  
याचा लाग० =  $१ \cdot ३६१७२८$  वजा करा. बाकी राहिल तो  $१७\frac{१४}{२३}$   
याचा लाग० =  $१ \cdot २४५७२७$  झाला.

म्हणून  $१ \cdot २४५७२७$  हें उत्तर.

दिलेल्या लागरथम्वरून संख्या काढण्याची रीत—ही संख्या पूर्वीच्या उलट रीतीने काढावी लागते. म्हणून दिलेले लागरथमूचा दशांश भाग कोष्टकांत शोधून काढावा. त्याचे डाव्या हाताकडील “ संख्या ” ह्या सदराखालील संख्या पहावी. ती त्या लागरथमाची संख्या होय.

चार अंकापर्यंतची संख्या काढणें असल्यास दिलेल्या लागरथमाच्या अगदीं जवळचे लागरथम् कोष्टकांत पहावे. त्याचे मार्गें

डाव्या हाताकडील “ संख्या ” ह्या सदराखाली पहिले तीन अंक सांपडतील व चवथा अंक त्या लागरथमाच्या अगदी वरील अगर खालील सदरांत सांपडेल. नंतर त्या संख्येत दशांशचिन्ह असे करावे कीं, दिलेल्या लागरथमांतील पूर्ण घातांकपेक्षां एकांने अधिक इतकी त्या संख्येत पूर्णांकस्थळें येतील; म्हणजे लागरथमांत पूर्णांक चार असला तर त्याचे संख्येत पूर्णांकस्थळें पांच असावीत.

जर लागरथमावरून काढावयाची संख्या पांच किंवा अधिक अंकांची असेल तर दिलेल्या लागरथमांतील दशांश भागाच्या अगदीं जवळचा अंक कोष्टकांत “ लागरथम् ” या सदराखालीं पहावा. त्यावरून पहिले चार अंक निघतील. नंतर तो लागरथम् व दिलेला लागरथम् यांतील अंतर काढावे. नंतर चोहोंपेक्षां जितके अधिक आंकडे पाहिजे असतील, तितकीं शून्यें त्या अंतरावर द्यावीं. नंतर उजवे हाताकडील ‘ अंतर ’ या सदराखालीं व पाहिल्या लागरथमासमोर जो अंक सांपडेल, त्यानें त्या शून्यें दिलेल्या अंतरावर भागावे. भागाकार येईल ते इच्छित चोहोंपेक्षां अधिक अंक होतील.

उदाहरणार्थः—लागरथम् ४. ४७८३०९ यावरून मूळ संख्या पांच अंकांपर्यंत काढा. दिलेल्या लागरथमाचे अगदीं जवळचा लहान लागरथम् ४७८२७८ हा आहे व त्याची संख्या ३००८ ही आहे; व दिलेल्या लागरथमांत व यांत ३१ हें अंतर आहे. त्यावर एक शून्य द्यावे, व त्यास १४९ या अंतराने भागावे भागाकार दोन येतो म्हणून ३००८२ ही इच्छित संख्या होय.

या संख्येत पांच पूर्णांक स्थळेंही आहेत:

**कोष्टकनं०१**  
१ पासून १० पर्यंत संख्यांचे लॉगरथम्

संख्या	लॉगरथम्	संख्या	लॉगरथम्
१	० - ००००००	१३	१ - ११ ३९ ४३
२	० - ३०१० ३०	१४	१ - १४ ६१ २८
३	० - ४७७१ २१	१५	१ - १७ ६० ९१
४	० - ६० २० ६०	१६	१ - २० ४१ २०
५	० - ६९ ८९ ७०	१७	१ - २३ ०४ ४९
६	० - ७७ ८१ ५१	१८	१ - २५ ५२ ७३
७	० - ८४ ५० ९८	१९	१ - २७ ८७ ५४
८	० - ९० ३० ९०	२०	१ - ३० १० ३०
९	० - ९५ ४२ ४३	२१	१ - ३२ ३२ १९
१०	१ - ०० ०० ००	२२	१ - ३४ २४ २३
११	१ - ०४ १ ३९ ३	२३	१ - ३६ १७ २८
१२	१ - ०७ ९१ ८१	२४	१ - ३८ ०२ ११

(२६)

## १ पासून १०० पर्यंत संख्यांचे लॉगरथम्

संख्या	लॉगरथम्	संख्या	लॉगरथम्
२५	१. ३९ ७९ ५०	३८	१. ५७ ९७ ८४
२६	१. ४१ ४९ ७३	३९	१. ५९ ६० ५५
२७	१. ४३ १३ ६४	४०	१. ६० २० ६०
२८	१. ४४ ७१ ५८	४१	१. ६१ २७ ८४
२९	१. ४६ २३ ९८	४२	१. ६२ ३२ ४९
३०	१. ४७ ७१ २१	४३	१. ६३ ३४ ६८
३१	१. ४९ १३ ५२	४४	१. ६४ ३४ ५३
३२	१. ५० ५१ ५०	४५	१. ६५ ३२ १३
३३	१. ५१ ८५ १४	४६	१. ६६ २७ ५८
३४	१. ५३ १४ ७९	४७	१. ६७ २० ९८
३५	१. ५४ ४० ५८	४८	१. ६८ १२ ४१
३६	१. ३५ ६३ ०२	४९	१. ६९ ०१ ९६
३७	१. ५५ ६२ ०२	५०	१. ६९ ८९ ७०

## १ पासून १०० पर्यंत संख्यांचे लॉगरथम्

संख्या	लॉगरथम्	संख्या	लॉगरथम्
५१	१. ७०७५७०	६४	१. ८०६१८०
५२	१. ७१६००३	६५	१. ८१२९१३
५३	१. ७२४३७६	६६	१. ८१९६४४
५४	१. ७३२३१४	६७	१. ८२६०७५
५५	१. ७४०३५३	६८	१. ८३२५०९
५६	१. ७४८१८८	६९	१. ८३८८४९
५७	१. ७५५८७५	७०	१. ८४५०९८
५८	१. ७६३४२८	७१	१. ८५१२५८
५९	१. ७७०८५२	७२	१. ८५७३३३
६०	१. ७७८१५१	७३	१. ८६३३२३
६१	१. ७८५३३०	७४	१. ८६९२३३
६२	१. ७९२३९२	७५	१. ८७५०५१
६३	१. ७९९३४१	७६	१. ८८०८१४

१पासून १००० पर्यंत संख्यांचे लॉगरिथम

संख्या	लॉगरिथम	संख्या	लॉगरिथम
७७	१. ८८६४ ११	९०	१. ९५४२४३
७८	१. ८९२० १५	९१	१. ९५९० ४१
७९	१. ८९७५ २७	९२	१. ९६३७ ८८
८०	१. ९०३० ९०	९३	१. ९६८४ ६३
८१	१. ९०८४ ८५	९४	१. ९७३१ २८
८२	१. ९१३८ १४	९५	१. ९७७७ २४
८३	१. ९१९० ७८	९६	१. ९८२२ ७१
८४	१. ९२४२ ७९	९७	१. ९८६७ ७३
८५	१. ९२९४ १९	९८	१. ९९१२ २५
८६	१. ९३४४ ९८	९९	१. ९९५६ ३५
८७	१. ९३९५ १९	१००	२. ००००००
८८	१. ९४४४ ८३		
८९	१. ९४९३ ९०		



कोष्टक नं० २

१०० पासून १०००० पर्यंत संख्यांचे लॉगरिथम

तुटक तुटक.

संख्या	०	१	२	३	४	५	६	७	८	९	अंतर
१००	००००००	००१४३४	०००८६८	००१३०१	००१७३४	००२१६९	००२६०८	००३०४९	००३४९०	००३९३१	४३२
१०१	००४३२४	००४७६५	००५२०६	००५६४७	००६०८८	००६५२९	००६९७०	००७४११	००७८५२	००८२९३	४३८
१०२	००८६००	००९०४१	००९४८२	००९९२३	०१०३६४	०१०८०५	०११२४६	०११६८७	०१२१२८	०१२५६९	४४४
१०३	०१६९३०	०१७३७१	०१७८१२	०१८२५३	०१८६९४	०१९१३५	०१९५७६	०१९९९७	०२०४३८	०२०८७९	४३०
१०४	०२०३१३	०२०७५४	०२११९५	०२१६३६	०२२०७७	०२२५१८	०२२९५९	०२३४००	०२३८४१	०२४२८२	४३६

(२१)

क्र.सं.	०	१	२	३	४	५	६	७	८	९	अंतर
१०५	०२१७९	०२१५०३	०२२०१६	०२२६२८	०२३२४१	०२३८५२	०२४४६४	०२५०७५	०२५६८६	०२६२९६	४०२
१०६	०२५३०६	०२५७१९	०२६१२४	०२६५२३	०२६९४२	०२७३५०	०२७७५७	०२८१६४	०२८५७१	०२८९७८	४०८
१०७	०२९३८४	०२९७८९	०३०१९९	०३०६००	०३१००४	०३१४०८	०३१८१२	०३२२१६	०३२६१९	०३३०२३	४०४
१०८	०३३४२४	०३३८२६	०३४२२७	०३४६२८	०३५०२९	०३५४३०	०३५८३०	०३६२३१	०३६६३२	०३७०३८	४००
१०९	०३७४२६	०३७८२५	०३८२२३	०३८६२०	०३९०१७	०३९४१४	०३९८११	०४०२०८	०४०६०२	०४१००६	३९७
११०	०४१३९३	०४१७८९	०४२१८२	०४२५७५	०४२९६९	०४३३६२	०४३७५५	०४४१४८	०४४५४०	०४४९३३	३९३
१११	०४५३२३	०४५७१५	०४६१०६	०४६४९५	०४६८८६	०४७२७७	०४७६६८	०४८०५३	०४८४४२	०४८८३०	३९०
११२	०४९२२८	०४९६१९	०५००१३	०५०४०६	०५०७९६	०५११८७	०५१५७८	०५१९६४	०५२३५०	०५२७३९	३८६

( ३० )

संख्या	०	१	२	३	४	५	६	७	८	९	अंतर
११३	०५३०७८	०५३४६३	०५३८४६	०५४२३०	०५४६१३	०५४९९९	०५५३८८	०५५७७०	०५६१५२	०५६५३४	३८३
११४	०५५१०५	०५५२८३	०५५६६६	०५६०४९	०५६४२५	०५६८०५	०५७१८५	०५७५६३	०५७९४५	०५८३२०	३७९
११५	०६०५१६	०६१०७५	०६१६३४	०६२१९३	०६२७५२	०६३३११	०६३८७०	०६४४२९	०६४९८८	०६५५४७	३७५
११६	०६४४५६	०६४८३३	०६५२०९	०६५५८०	०६५९५२	०६६३२५	०६६६९९	०६७०७१	०६७४४३	०६७८१४	३७३
११७	०६६८६५	०६६५५७	०६६२४८	०६६९३८	०६६६२८	०६६३१८	०६६००८	०६५६९९	०६५३९०	०६५०८०	३७०
११८	०७१८८२	०७२२५०	०७२६१७	०७२९८५	०७३३५२	०७३७१९	०७४०८६	०७४४५५	०७४८२५	०७५१९२	३६६
११९	०७५५६७	०७५९३२	०७६२९७	०७६६६०	०७७०२३	०७७३८६	०७७७५१	०७८११६	०७८४८०	०७८८४५	३६३
१२०	०७९६८१	०८००५३	०८०४२५	०८०७९६	०८११६७	०८१५३९	०८१९१०	०८२२८०	०८२६५०	०८२९२५	३६०
१२१	०८२७८५	०८३१५४	०८३५२३	०८३८९५	०८४२६७	०८४६३९	०८५०११	०८५३८३	०८५७५५	०८६१२७	३५७

( ११ )

सि.क्र.	०	१	२	३	४	५	६	७	८	९	अंतर
१२२	०८६३६०	०८६७७६	०८७००१	०८७४२६	०८७७८१	०८८१३६	०८८४९०	०८८८४५	०८९१९८	०८९५५२	३५५
१२३	०८९९०१	०९०२५८	०९०६११	०९०९६३	०९१३१५	०९१६६७	०९२०१८	०९२३७०	०९२७२१	०९३०७१	३५२
१२४	०९३४२२	०९३७७२	०९४१२२	०९४४७१	०९४८२०	०९५१६९	०९५५१८	०९५८६६	०९६२१५	०९६५६२	३४९
१२५	०९६९१०	०९७२५७	०९७६०४	०९७९५१	०९८२९७	०९८६४४	०९८९९०	०९९३३५	०९९६८१	१०००२६	३४६
१२६	१००३७०	१००७१५	१०१०५९	१०१४०३	१०१७४७	१०२०९०	१०२४३४	१०२७७७	१०३१२१	१०३४६२	३४३
१२७	१०३८०४	१०४१४९	१०४४८७	१०४८२८	१०५१६९	१०५५१०	१०५८५१	१०६१९१	१०६५३१	१०६८७०	३४१
१२८	१०७२१०	१०७५५९	१०७८८८	१०८२२७	१०८५६५	१०८९०३	१०९२४१	१०९५७८	१०९९१६	११०२५३	३३८
१२९	११०५१०	११०८२६	११११६२	१११५०८	१११८३४	११२१७०	११२५०५	११२८४०	११३१७५	११३५०९	३३५

संख्या	०	१	२	३	४	५	६	७	८	९	अंतर
१२०	११३३४३	११४२७७	११४६११	११४९४४	११५२७८	११५६१०	११५९४३	११६२७६	११६६०९	११६९४०	३३२
१२१	११७२७१	११७६०२	११७९३४	११८२६५	११८५९५	११८९२६	११९२५६	११९५८६	११९९१५	१२०२४५	३३०
१२२	१२०५७४	१२०९०३	१२१२३१	१२१५६०	१२१८८८	१२२२१६	१२२५४३	१२२८७१	१२३१९८	१२३५२५	३२८
१२३	१२३८५२	१२४१७८	१२४५०४	१२४८३०	१२५१५६	१२५४८१	१२५८०६	१२५९३१	१२५९५६	१२६१०६	३२५
	·X·	·X·	·X·	·X·	·	·X·	·X·	·X·	·X·	·	
१४०	१४६१२८	१४६४५८	१४६७८८	१४७११८	१४७४४७	१४७७७६	१४८१०५	१४८४३४	१४८७६३	१४९०९१	३०५
१४१	१४९२१९	१४९५२७	१४९८३५	१५०१४२	१५०४४९	१५०७५६	१५१०६३	१५१३७०	१५१६७६	१५१९८२	३०७
१४२	१५२२८८	१५२५९४	१५२९००	१५३२०५	१५३५१०	१५३८१५	१५४११९	१५४४२४	१५४७२८	१५५०३२	३०५

(१२३)

संख्या	०	१	२	३	४	५	६	७	८	९	अंतर.
१४३	१५५३३६	१५५६४०	१५५९४३	१५६२४६	१५६५५०	१५६८५३	१५७१५६	१५७४५९	१५७७६२	१५८०६५	३०३
१४४	१५६३६२	१५६६६४	१५६९६५	१५७२६६	१५७५६७	१५७८६८	१५८१६९	१५८४७०	१५८७७१	१५९०७२	३००
१४५	१५९३६८	१५९६६९	१५९९७०	१६०२७१	१६०५७२	१६०८७३	१६११७४	१६१४७५	१६१७७६	१६२०७७	२९८
	·×·	·×·	·×·	·×·	·×·	·×·	·×·	·×·	·×·	·×·	
१५१	१७८९७०	१७९२६४	१७९५५२	१७९८३९	१८०१२६	१८०४१३	१८०६९९	१८०९८६	१८१२७२	१८१५५८	२८७
१५२	१८१६४४	१८२१२९	१८२४१५	१८२७००	१८२९८५	१८३२७०	१८३५५४	१८३८३९	१८४१२३	१८४४०७	२८५
१५३	१८४९११	१८४९७५	१८५२५९	१८५५४२	१८५८२५	१८६१०८	१८६३९१	१८६६७४	१८६९५६	१८७२३९	२८३
१५४	१८७५२१	१८७६०३	१८७६८४	१८७७६५	१८७८४६	१८७९२८	१८८००९	१८८०९०	१८८१७१	१८८२५१	२८१

(१३)

संख्या	०	१	२	३	४	५	६	७	८	९	अंतर
१५५	११०३३२	११०६१२	११०८९२	११११७१	१११४५१	१११७३०	११२०१०	११२२८९	११२५६७	११२८४६	२७९
	*	*	*	*	*	‡	*	*	*	*	
१६०	२०४१२०	२०४३९१	२०४६६२	२०४९३३	२०५२०४	२०५४७५	२०५७४६	२०६०१६	२०६२८६	२०६५५६	२७९
१६१	२०६८२६	२०७०९५	२०७३६५	२०७६३४	२०७९०३	२०८१७२	२०८४४१	२०८७१०	२०८९७८	२०९२४७	२६९
१६२	२०९५१५	२०९७८३	२१००५१	२१०३१८	२१०५८६	२१०८५३	२१११२०	२११३८८	२११६५६	२११९२१	२६७
१६३	२१२१८८	२१२४५६	२१२७२०	२१२९८६	२१३२५२	२१३५१८	२१३७८३	२१४०४९	२१४३१६	२१४५७९	२६६
१६४	२१४८४४	२१५१०९	२१५३७३	२१५६३८	२१५९०२	२१६१६६	२१६४३०	२१६६९४	२१६९५७	२१७२२१	२६४
१६५	२१७४८४	२१७७४७	२१८०१०	२१८२७३	२१८५३५	२१८७९८	२१९०६०	२१९३२२	२१९५८४	२१९८४६	२६२

(५)

नरख्या	०	१	२	३	४	५	६	७	८	९	अंतर
१६६	२२०१०८	२२०३७०	२२०६३१	२२०८९२	२२११५३	२२१४१४	२२१६७५	२२१९३६	२२२१९७	२२२४५८	२६१
१६७	२२२७१६	२२२९७७	२२३२३८	२२३४९९	२२३७५९	२२४०१९	२२४२७९	२२४५३९	२२४७९९	२२५०५९	२५९
१६८	२२५३०९	२२५५६८	२२५८२७	२२६०८६	२२६३४५	२२६६०४	२२६८६३	२२७१२२	२२७३८१	२२७६४०	२५८
१६९	२२७८८७	२२८१४४	२२८४००	२२८६५७	२२८९१३	२२९१७०	२२९४२६	२२९६८२	२२९९३८	२३०१९३	२५६
१७०	२३०४४९	२३०७०६	२३०९६३	२३१२१९	२३१४७०	२३१७२६	२३१९८२	२३२२३८	२३२४९४	२३२७५०	२५५
	•×•	•	•	•	•	•	•	•×•	•	•	
१८०	२५५२७३	२५५५१४	२५५७५५	२५५९९६	२५६२३७	२५६४७८	२५६७१९	२५६९६०	२५७२०१	२५७४४२	२६१
१८१	२५७६७५	२५७९१८	२५८१६८	२५८३९८	२५८६२७	२५८८५७	२५९०८६	२५९३१५	२५९५४४	२५९७७३	२३९

(३५)



संख्या	०	१	२	३	४	५	६	७	८	९	अंतर
१८२	२६००७१	२६०३१०	२६०५४८	२६०७८७	२६१०२५	२६१२६३	२६१५०१	२६१७३९	२६१९७७	२६२२१४	२३८
१८३	२६२४५१	२६२६८८	२६२९२५	२६३१६२	२६३३९९	२६३६३६	२६३८७३	२६४१०९	२६४३४५	२६४५८२	२३७
१८४	२६४८१६	२६५०५४	२६५२९०	२६५५२५	२६५७६१	२६५९९६	२६६२३२	२६६४६७	२६६७०२	२६६९३७	२३५
१८५	२६७१७२	२६७४०६	२६७६४१	२६७८७५	२६८११०	२६८३४४	२६८५७८	२६८८१२	२६९०४६	२६९२७९	२३४
	*	*	*	*	*	*	*	*	*	*	
२०५	३११७५४	३११९६६	३१२१७७	३१२३८९	३१२६००	३१२८१२	३१३०२३	३१३२३४	३१३४५५	३१३६६६	२११
२०६	३१३८६७	३१४०७८	३१४२८९	३१४४९९	३१४७१०	३१४९२०	३१५१३०	३१५३४०	३१५५५०	३१५७६०	२१०
२०७	३१५९७०	३१६१६०	३१६३९०	३१६५९९	३१६८०९	३१७०१८	३१७२२७	३१७४३६	३१७६४५	३१७८५४	२०९

(११)

संख्या	०	१	२	३	४	५	६	७	८	९	अंतर
२०८	३१८०५३	३१८२७२	३१८४८१	३१८६९०	३१८९००	३१९१०६	३१९३१४	३१९५२२	३१९७३०	३१९९३८	२०८
२०९	३२०१४६	३२०३५४	३२०५६२	३२०७७०	३२०९७७	३२११८४	३२१३९१	३२१५९८	३२१८०५	३२२०१२	२०७
	*	*	*	*	*	*	*	*	*	*	
२४५	३८९१६६	३८९३६३	३८९५२०	३८९६९७	३८९८७५	३९००५१	३९०२२८	३९०४०५	३९०५८२	३९०७५९	१७७
२४६	३९०९३५	३९१११२	३९१२८८	३९१४६५	३९१६४१	३९१८१७	३९१९९३	३९२१६९	३९२३४५	३९२५२१	१७६
२४७	३९२६१७	३९२८०३	३९३०४८	३९३२२४	३९३४००	३९३५७५	३९३७५१	३९३९२६	३९४१०१	३९४२७७	१७५
२४८	३९४४५२	३९४६२७	३९४८०२	३९४९७७	३९५१५२	३९५३२६	३९५५०१	३९५६७६	३९५८५०	३९६०२५	१७५
२४९	३९६१९९	३९६३७४	३९६५४९	३९६७२२	३९६८९९	३९७०७५	३९७२५०	३९७४२६	३९७६०१	३९७७७६	१७४

(३८)

संख्या	०	१	२	३	४	५	६	७	८	९	अंतर
२५०	३१०९४०	३१८११४	३१८२८७	३१८४६१	३१८६३४	३१८८०८	३१८९८१	३१९१५४	३१९३२७	३१९५०१	१७३
	.	.	.	.	.	.	.	.	.	.	
२८०	४४७१५८	४४७३१३	४४७४६८	४४७६२३	४४७७७८	४४७९३३	४४८०८८	४४८२४३	४४८३९८	४४८५५३	१५५
२८१	४४८७०६	४४८८६१	४४९०१६	४४९१७०	४४९३२४	४४९४७८	४४९६३३	४४९७८७	४४९९४१	४५००९५	१५४
२८२	४५०२४९	४५०४०३	४५०५५७	४५०७११	४५०८६५	४५१०१८	४५११७२	४५१३२६	४५१४८०	४५१६३३	१५४
२८३	४५१७८६	४५१९४०	४५२०९३	४५२२४७	४५२४००	४५२५५३	४५२७०६	४५२८६०	४५३०१३	४५३१६६	१५३
२८४	४५३३१८	४५३४७१	४५३६२४	४५३७७७	४५३९३०	४५४०८३	४५४२३६	४५४३९०	४५४५४३	४५४६९६	१५३
२८५	४५४८६४	४५४९९७	४५५१५१	४५५३०४	४५५४५७	४५५६१०	४५५७६३	४५५९१६	४५६०६९	४५६२२२	१५२

(२९)

संख्या	०	१	२	३	४	५	६	७	८	९	अंतर
३००	४७७१२१	४७७२६६	४७७४११	४७७५५५	४७७७००	४७७८४४	४७७९८९	४७८१३३	४७८२७८	४७८४२२	१४५
३०१	४७८५६६	४७८७११	४७८८५५	४७८९९९	४७९१४३	४७९२८७	४७९४३१	४७९५७५	४७९७१९	४७९८६३	१४४
३०२	४८०००७	४८०१५१	४८०२९५	४८०४३८	४८०५८२	४८०७२५	४८०८६९	४८१०१२	४८११५६	४८१२९९	१४४
३०३	४८१४४३	४८१५८६	४८१७२९	४८१८७२	४८२०१६	४८२१५९	४८२३०२	४८२४४५	४८२५८८	४८२७३१	१४३
३०४	४८२८७४	४८२९७६	४८३१५९	४८३३०२	४८३४४५	४८३५८८	४८३७३०	४८३८७२	४८४०१५	४८४१५७	१४३
३०५	४८४३००	४८४४४२	४८४५८४	४८४७२७	४८४८६९	४८५०११	४८५१५३	४८५२९५	४८५४३७	४८५५७९	१४२
३०६	४८५७२१	४८५८६३	४८६००५	४८६१४७	४८६२८९	४८६४३०	४८६५७२	४८६७१४	४८६८५५	४८६९९७	१४२

(०२१)

संख्या	०	१	२	३	४	५	६	७	८	९	अंतर
३०७	४८७१३८	४८७२८०	४८७४२१	४८७५६३	४८७७०४	४८७८४५	४८७९८६	४८८१२७	४८८२६९	४८८४१०	१४१
३०८	४८८५५१	४८८६९२	४८८८३३	४८८९७३	४८९११४	४८९२५५	४८९३९६	४८९५३७	४८९६७७	४८९८१८	१४१
३०९	४८९९५८	४९००९९	४९०२३९	४९०३८०	४९०५२०	४९०६६१	४९०८०१	४९०९४१	४९१०८१	४९१२२२	१४०
३१०	४९१३६२	४९१५०२	४९१६४२	४९१७८२	४९१९२२	४९२०६२	४९२२०१	४९२३४१	४९२४८१	४९२६२१	१४०
	*	*	*	*	*	*	*	*	*	*	.
३३५	५२५०४५	५२५१७४	५२५३०४	५२५४३४	५२५५६३	५२५६९३	५२५८२२	५२५९५१	५२६०८१	५२६२१०	१२९
३३६	५२६३३६	५२६४६८	५२६५९८	५२६७२७	५२६८५६	५२६९८५	५२७११४	५२७२४३	५२७३७२	५२७५०१	१२९
३३७	५२७६३०	५२७७५९	५२७८८८	५२८०१६	५२८१४५	५२८२७४	५२८४०२	५२८५३१	५२८६६०	५२८७८८	१२९

(५१)

क्र.सं.	०	१	२	३	४	५	६	७	८	९	अंतर
३३८	५२८९७७	५२९०४५	५२९१०४	५२९३०२	५२९४३०	५२९५५९	५२९६८७	५२९८१५	५२९९४३	५३००७२	१२८
३३९	५३०२००	५३०३२८	५३०४५६	५३०५८४	५३०७१२	५३०८४०	५३०९६८	५३१०९६	५३१२२३	५३१३५१	१२८
३४०	५३१४०९	५३१५०७	५३१६३६	५३१८६२	५३१९९०	५३२११७	५३२२४५	५३२३७२	५३२५००	५३२६२७	१२८
३४१	५३२७५४	५३२८८२	५३३००९	५३३१३६	५३३२६३	५३३३९१	५३३५१८	५३३६४५	५३३७७२	५३३८९९	१२७
३४२	५३४०२६	५३४१५३	५३४२८०	५३४४०७	५३४५३४	५३४६६१	५३४७८८	५३४९१४	५३५०४१	५३५१६७	१२७
३४३	५३५२९४	५३५४२१	५३५५४८	५३५६७५	५३५८००	५३५९२७	५३६०५३	५३६१७९	५३६३०६	५३६४३२	१२६
३४४	५३६५५८	५३६६८५	५३६८११	५३६९३७	५३७०६३	५३७१८९	५३७३१५	५३७४४१	५३७५६७	५३७६९३	१२६
३४५	५३७८१९	५३७९४५	५३८०७१	५३८१९७	५३८३२२	५३८४४८	५३८५७४	५३८६९९	५३८८२५	५३८९५१	१२६

( २३ )

संख्या	०	१	२	३	४	५	६	७	८	९	अंतर
३६६	५३९०७६	५३९२०२	५३९३२७	५३९४५२	५३९५७८	५३९७०३	५३९८२९	५३९९५४	५४००७९	५४०२०४	१२५
३६७	५४०३२९	५४०४५५	५४०५८०	५४०७०५	५४०८३०	५४०९५५	५४१०८०	५४१२०५	५४१३३०	५४१४५४	१२५
३६८	५४१५७९	५४१७०४	५४१८२९	५४१९५३	५४२०७८	५४२२०३	५४२३२७	५४२४५२	५४२५७६	५४२७०१	१२५
३६९	५४२८२५	५४२९५०	५४३०७६	५४३१९९	५४३३२३	५४३४४७	५४३५७१	५४३६९६	५४३८२०	५४३९४४	१२४
३७०	५४४०६८	५४४१९२	५४४३१६	५४४४४०	५४४५६४	५४४६८८	५४४८१२	५४४९३६	५४५०६०	५४५१८३	१२४
:	*.	*.	*.	*.	*.	*.	*.	*.	*.	*.	..
४००	६०२०६०	६०२१६९	६०२२७७	६०२३८६	६०२४९४	६०२६०३	६०२७११	६०२८१९	६०२९२८	६०३०३६	१०८
४०१	६०३१४४	६०३२५३	६०३३६१	६०३४६९	६०३५७७	६०३६८६	६०३७९४	६०३९०२	६०४०१०	६०४११८	१०८

(२३)

संख्या	०	१	२	३	४	५	६	७	८	९	अंतर
४०२	६०४२२५	६०४३३४	६०४४२२	६०४५५०	६०४६५८	६०४७६६	६०४८७४	६०४९८२	६०५०८९	६०५१९७	१०८
४०३	६०५३०५	६०५४१३	६०५५११	६०५६२८	६०५७३६	६०५८४४	६०५९५१	६०६०५९	६०६१६६	६०६२७४	१०८
४०४	६०६३८१	६०६४८९	६०६५९६	६०६७०४	६०६८११	६०६९१९	६०७०२६	६०७१३३	६०७२४१	६०७३४८	१०७
४०५	६०७४५५	६०७५६२	६०७६६९	६०७७७७	६०७८८४	६०७९९१	६०८०९८	६०८२०५	६०८३१२	६०८४१९	१०७
४०६	६०८५२६	६०८६३३	६०८७४०	६०८८४७	६०८९५४	६०९०६१	६०९१६७	६०९२७४	६०९३८१	६०९४८८	१०७
४०७	६०९५९४	६०९७०१	६०९८०८	६०९९१४	६१००२१	६१०१२८	६१०२३४	६१०३४१	६१०४४७	६१०५५४	१०७
४०८	६१०६६०	६१०७६७	६१०८७३	६१०९७९	६११०८६	६१११९२	६११२९८	६११४०५	६११५११	६११६१७	१०६
४०९	६११७२३	६११८२९	६११९३६	६१२०४२	६१२१४८	६१२२५४	६१२३६०	६१२४६६	२७२५७२	६१२६७८	१०६

(३५)



संख्या	०	१	२	३	४	५	६	७	८	९	अंतर
४१०	६१२०८४	६१२८९०	६१२९९६	६१३१०१	६१३२०७	६१३३१३	६१३४१९	६१३५२५	६१३६३०	६१३७३६	१०६
४११	६१३८४२	६१३९४०	६१४०५३	६१४१५९	६१४२६४	६१४३७०	६१४४७५	६१४५८१	६१४६८६	६१४७९२	१०६
४१२	६१४८९७	६१५००३	६१५१०८	६१५२१३	६१५३१९	६१५४२४	६१५५२९	६१५६३४	६१५७४०	६१५८४५	१०५
४१३	६१५९५०	६१६०५५	६१६१६०	६१६२६५	६१६३७०	६१६४७५	६१६५८०	६१६६८५	६१६७९०	६१६८९५	१०५
४१४	६१७०००	६१७१०५	६१७२१०	६१७३१५	६१७४२०	६१७५२४	६१७६२९	६१७७३४	६१७८३९	६१७९४३	१०५
४१५	६१८०४८	६१८१५३	६१८२५८	६१८३६२	६१८४६६	६१८५७१	६१८६७५	६१८७८०	६१८८८४	६१८९८९	१०५
४१६	६१९०९३	६१९१९८	६१९३०२	६१९४०६	६१९५११	६१९६१५	६१९७१९	६१९८२३	६१९९२८	६२००३२	१०४
४१७	६२०१३५	६२०२४०	६२०३४४	६२०४४८	६२०५५२	६२०६५६	६२०७६०	६२०८६४	६२०९६८	६२१०७२	१०४

(५२५)

संख्या	०	१	२	३	४	५	६	७	८	९	अंतर
४१८	६२११७६	६२१२८०	६२१३८४	६२१४८८	६२१५९२	६२१६९५	६२१७९९	६२१९०३	६२२००७	६२२११०	१०४
४१९	६२२२१४	६२२३१८	६२२४२१	६२२५२५	६२२६२८	६२२७३२	६२२८३५	६२२९३९	६२३०४२	६२३१४६	१०४
४२०	६२३२४९	६२३३५३	६२३४५६	६२३५५९	६२३६६३	६२३७६६	६२३८६९	६२३९७२	६२४०७६	६२४१७९	१०३
	*	*	*	*	*	*	*	*	*	*	
४४५	६४८३६०	६४८४५८	६४८५५५	६४८६५३	६४८७५०	६४८८४८	६४८९४५	६४९०४३	६४९१४०	६४९२३७	९७
४४६	६४९३३५	६४९४३२	६४९५३०	६४९६२७	६४९७२४	६४९८२१	६४९९१९	६५००१६	६५०११३	६५०२१०	९७
४४७	६५०३०७	६५०४०५	६५०५०२	६५०५९९	६५०६९६	६५०७९३	६५०८९०	६५०९८७	६५१०८४	६५११८१	९७
४४८	६५१२७८	६५१३७५	६५१४७२	६५१५६९	६५१६६६	६५१७६३	६५१८६९	६५१९६६	६५२०६३	६५२१६०	९७

(५४)

संख्या	०	१	२	३	४	५	६	७	८	९	अंतर
४४९	६५२२४६	६५२३४३	६५२४४०	६५२५३६	६५२६३३	६५२७३०	६५२८२६	६५२९२३	६५३०१९	६५३११६	९७
४५०	६५३२१३	६५३३०९	६५३४०५	६५३५०२	६५३५९८	६५३६९५	६५३७९१	६५३८८८	६५३९८४	६५४०८०	९६
	*	*	*	*	*	*	*	*	*	*	
४८०	६८१२४१	६८१३३२	६८१४२२	६८१५१३	६८१६०३	६८१६९३	६८१७८४	६८१८७४	६८१९६४	६८२०५५	९०
४८१	६८२१४५	६८२२३६	६८२३२६	६८२४१६	६८२५०६	६८२५९६	६८२६८६	६८२७७७	६८२८६७	६८२९५७	९०
४८२	६८३०४७	६८३१३७	६८३२२७	६८३३१७	६८३४०७	६८३४९७	६८३५८७	६८३६७७	६८३७६७	६८३८५७	९०
४८३	६८३९४७	६८४०३७	६८४१२७	६८४२१७	६८४३०७	६८४३९६	६८४४८६	६८४५७६	६८४६६६	६८४७५६	९०
४८४	६८४८४५	६८४९३५	६८५०२५	६८५११४	६८५२०४	६८५२९४	६८५३८३	६८५४७३	६८५५६३	६८५६५२	९०

(७४७)

संख्या	०	१	२	३	४	५	६	७	८	९	अंतर
४८५	६८५०४२	६८५०३१	६८५१२१	६८६०१०	६८६१००	६८६१८९	६८६२७९	६८६३६८	६८६४५७	६८६५४७	८९
४८६	६८६५३६	६८६५२६	६८६६१५	६८६७०४	६८६७९४	६८६८८३	६८६९७२	६८७०६१	६८७१५१	६८७२४०	८९
४८७	६८७५२९	६८७६१८	६८७७०७	६८७७९६	६८७८८६	६८७९७५	६८८०६४	६८८१५३	६८८२४२	६८८३३१	८९
४८८	६८८५२०	६८८६०९	६८८६९८	६८८७८७	६८८८७६	६८८९६५	६८९०५४	६८९१४३	६८९२३२	६८९३२०	८९
४८९	६८९३०९	६८९३९८	६८९४८६	६८९५७५	६८९६६४	६८९७५३	६८९८४१	६८९९३०	६९००१९	६९०१०७	८९
४९०	६९०११५	६९०२०५	६९०३०३	६९०४०२	६९०५००	६९०६०१	६९०७००	६९०८०१	६९०९०५	६९०९९३	८९
	*	*	*	*	*	*	*	*	*	*	
४९५	६९५६०५	६९५६९३	६९५७८१	६९५८६८	६९५९५६	६९५०४४	६९५१३१	६९५२१९	६९५३०७	६९५३९५	८८

(7A)

संख्या	०	१	२	३	४	५	६	७	८	९	अंतर
४९६	६९५४८२	६९५५६९	६९५६५७	६९५७४६	६९५८३२	६९५९१९	६९६००७	६९६०९४	६९६१८२	६९६२६९	८७
४९७	६९६३५६	६९६४४४	६९६५३२	६९६६२०	६९६७०९	६९६७९७	६९६८८०	६९६९६८	६९७०५५	६९७१४२	८७
४९८	६९७२२९	६९७३१७	६९७४०४	६९७४९१	६९७५७८	६९७६६६	६९७७५३	६९७८३९	६९७९२६	६९८०१३	८७
४९९	६९८१००	६९८१८८	६९८२७५	६९८३६२	६९८४४८	६९८५३५	६९८६२२	६९८७०९	६९८७९६	६९८८८३	८७
५००	६९८९७०	६९९०५७	६९९१४४	६९९२३१	६९९३१७	६९९४०४	६९९४९१	६९९५७८	६९९६६६	६९९७५१	८७
	*	*	*	*	*	*	*	*	*	*	
६३०	७९९३६१	७९९४०९	७९९४५८	७९९५०७	७९९५५६	७९९६०५	७९९६५४	७९९७०३	७९९७५२	७९९८०१	६९
६३१	८०००२९	८०००९८	८००१६७	८००२३६	८००३०५	८००३७३	८००४४२	८००५११	८००५८०	८००६४८	६९

(३५७)

संख्या	०	१	२	३	४	५	६	७	८	९	अंतर
६३२	८००७१०	८००७८५	८००८५४	८००९२३	८००९९२	८०१०६०	८०११२९	८०११९८	८०१२६९	८०१३३५	६९
६३३	८०१४०४	८०१४७२	८०१५४१	८०१६०९	८०१६७८	८०१७४७	८०१८१५	८०१८८४	८०१९५२	८०२०२१	६९
६३४	८०२०८९	८०२१५८	८०२२२६	८०२२९५	८०२३६३	८०२४३२	८०२५००	८०२५६८	८०२६३७	८०२७०५	६८
६३५	८०२७७४	८०२८४२	८०२९१०	८०२९७९	८०३०४७	८०३११६	८०३१८४	८०३२५२	८०३३२१	८०३३८९	६८
	•×•	•×•	•×•	•×•	•×•	•×•	•×•	•×•	•×•	•×•	
७८०	८१२०९५	८१२१६०	८१२२२६	८१२२९२	८१२३५७	८१२४२३	८१२४८९	८१२५५४	८१२६२०	८१२६८५	५६
७८१	८१२६५१	८१२७०७	८१२७६२	८१२८१८	८१२८७३	८१२९२९	८१२९८५	८१३०४०	८१३०९६	८१३१५१	५६
७८२	८१३१०७	८१३१६२	८१३२१८	८१३२७३	८१३३२९	८१३३८४	८१३४४०	८१३४९५	८१३५५१	८१३६०६	५६

(५१)

संख्या	०	१	२	३	४	५	६	७	८	९	अंतर
७८३	८९३०६२	८९३८१७	८९३८०३	८९३९२८	८९३९८४	८९४०३९	८९४०९४	८९४१५०	८९४२०५	८९४२६१	५५
७८४	८९४३३५	८९४३७१	८९४४२७	८९४४८२	८९४५३८	८९४५९३	८९४६४८	८९४७०४	८९४७५९	८९४८१४	५५
७८५	८९४८००	८९४९२५	८९४९८०	८९५०३६	८९५०९१	८९५१४६	८९५२०१	८९५२५७	८९५३१२	८९५३६७	५५
	×	×	×	×	×	×	×	×	×	×	
८८५	९४६५४३	९४६९९२	९४७०४१	९४७०९०	९४७१३९	९४७१८९	९४७२३८	९४७२८७	९४७३३६	९४७३८५	४९
८८६	९४७४३४	९४७४८३	९४७५३२	९४७५८१	९४७६३०	९४७६७९	९४७७२८	९४७७७७	९४७८२६	९४७८७५	४९
८८७	९४७९२४	९४७९७३	९४८०२१	९४८०७०	९४८११९	९४८१६८	९४८२१७	९४८२६६	९४८३१५	९४८३६४	४९
८८८	९४८४१३	९४८४६२	९४८५११	९४८५६०	९४८६०८	९४८६५७	९४८७०६	९४८७५५	९४८८०४	९४८८५३	४९

(६५७)

संख्या	०	१	२	३	४	५	६	७	८	९	अंतर
८८९	९४८९०२	९४८९५१	९४८९९९	९४९०४८	९४९०९७	९४९१४६	९४९१९५	९४९२४४	९४९२९३	९४९३४१	४९
८९०	९४९३१०	९४९३५९	९४९४०८	९४९४५७	९४९५०६	९४९५५५	९४९६०४	९४९६५३	९४९७०२	९४९७५१	४९
	*.	*.	*.	*.	*.	*.	*.	*.	*.	*.	
९६०	९८२२७१	९८२३२०	९८२३६९	९८२४१८	९८२४६७	९८२५१६	९८२५६५	९८२६१४	९८२६६३	९८२७१२	४९
९६१	९८२७२३	९८२७७२	९८२८२१	९८२८७०	९८२९१९	९८२९६८	९८३०१७	९८३०६६	९८३११५	९८३१६४	४९
९६२	९८३१७५	९८३२२४	९८३२७३	९८३३२२	९८३३७१	९८३४२०	९८३४६९	९८३५१८	९८३५६७	९८३६१६	४९
९६३	९८३६२८	९८३६७७	९८३७२६	९८३७७५	९८३८२४	९८३८७३	९८३९२२	९८३९७१	९८४०२०	९८४०६९	४९
९६४	९८४०७७	९८४१२६	९८४१७५	९८४२२४	९८४२७३	९८४३२२	९८४३७१	९८४४२०	९८४४६९	९८४५१८	४९
९६५	९८४५२७	९८४५७६	९८४६२५	९८४६७४	९८४७२३	९८४७७२	९८४८२१	९८४८७०	९८४९१९	९८४९६८	४९

(५३)



कोष्टक  
नं.३.

# लॉगरथमची कोष्टके.

शून्यते एक हजार पर्यंत.

संख्या	०	१	२	३	४	५	६	७	८	९	अंतर
०	०	०००००	३०१०३	४७७७२	६०२०५	६९८९७	७७७७५	८४५१०	९०३०९	९५४२४	
१०	०००००	००४३२	००८६०	०१२८४	०१७०३	०२११९	०२५३९	०२९६८	०३३४२	०३७४३	४१५
११	०४१३९	०४५३२	०४९२२	०५३०८	०५६९०	०६०७०	०६४४५	०६८१९	०७१८८	०७५५५	३७९
१२	०९९१८	०८२७९	०८६३९	०८९९१	०९३४२	०९६९१	१००३७	१०३८०	१०७२१	११०५९	३४४
१३	११३९४	११७२७	१२०५७	१२३८५	१२७१०	१३०३३	१३३५४	१३६७२	१३९८८	१४३०१	३२३
१४	१४६१३	१४९२२	१५२२९	१५५३६	१५८३९	१६१३७	१६४३५	१६७३२	१७०२६	१७३१९	२९८
१५	१७६०९	१७८९८	१८१८४	१८४६९	१८७५२	१९०३३	१९३१२	१९५९०	१९८६६	२०१४०	२८१

(२५)

संख्या	०	१	२	३	४	५	६	७	८	९	अंतर
१६	२०४१२	२०६८३	२०९५२	२१२१९	२१४८४	२१७४८	२२०११	२२२७२	२२५३३	२२७९९	२६५४
१७	२३०४५	२३३००	२३५५२	२३८०५	२४०५५	२४३०४	२४५५१	२४७९७	२५०४२	२५२८५	२४९
१८	२५५२७	२५७६८	२६००७	२६२४५	२६४८२	२६७१७	२६९५१	२७१८४	२७४१६	२७६४६	२३४
१९	२७८७५	२८१०३	२८३३०	२८५५६	२८७८०	२९००३	२९२२६	२९४४७	२९६६७	२९८८५	२२२
२०	३०१०३	३०३२०	३०५३५	३०७५०	३०९६३	३११७५	३१३८७	३१५९७	३१८०६	३२०१५	२१२
२१	३२२२२	३२४२८	३२६३४	३२८३८	३३०४१	३३२४४	३३४४५	३३६४६	३३८४५	३४०४४	२०२
२२	३४२४२	३४४३९	३४६३५	३४८३०	३५०२५	३५२१८	३५४१९	३५६०३	३५७९३	३५९८४	१९३
२३	३६१७३	३६३६१	३६५५९	३६७३६	३६९२२	३७१०७	३७२९१	३७४७५	३७६५८	३७८४०	१८५
२४	३८०२१	३८२०२	३८३८२	३८५६१	३८७३९	३८९१७	३९०९४	३९२७०	३९४४५	३९६२०	१७७
२५	३९७९४	३९९६७	४०१४०	४०३१२	४०४८३	४०६५४	४०८२४	४०९९३	४११६२	४१३३०	१७०

(५५)

१ पासून १००० पर्यंत संख्यांचे लागरथम (याळू)

संख्या	०	१	२	३	४	५	६	७	८	९	अंतर
२६	४१४९७	४१६६४	४१८३०	४१९९६	४२१६०	४२३२५	४२४८८	४२६५१	४२८१३	४२९७५	१६४
२७	४३१३६	४३२९७	४३४५७	४३६१६	४३७७५	४३९३३	४४०९२	४४२५८	४४४०४	४४५६०	१५८
२८	४४७१६	४४८७१	४५०२५	४५१७९	४५३३२	४५४८४	४५६३७	४५७८८	४५९३९	४६०९०	१५३
२९	४६२४०	४६३८९	४६५३८	४६६८७	४६८३५	४६९८२	४७१२९	४७२७६	४७४२२	४७५६७	१४८
३०	४७७१२	४७८५७	४८००१	४८१४४	४८२८७	४८४३०	४८५७२	४८७१४	४८८५५	४८९९५	१४३
३१	४९१३६	४९२७६	४९४१५	४९५५४	४९६९३	४९८३१	४९९६९	५०१०६	५०२४३	५०३७९	१३८
३२	५०५१५	५०६५१	५०७८६	५०९२०	५१०५५	५११८९	५१३२२	५१४५५	५१५८७	५१७२०	१३४
३३	५१८५१	५१९८३	५२११४	५२२४४	५२३७५	५२५०४	५२६३४	५२७६३	५२८९२	५३०२०	१३०

(२५)

संख्या	०	१	२	३	४	५	६	७	८	९	अंतर
३४	५३९४८	५३२७५	५३४०३	५३५२९	५३६५६	५३७८२	५३९०८	५४०३३	५४१५८	५४२८३	१२६
३५	५४४००	५४५२१	५४६५४	५४७७७	५४९००	५५०२३	५५१४६	५५२६९	५५३९२	५५५१५	१२९
३६	५५६३०	५५७५१	५५८७३	५५९९५	५६११७	५६२३९	५६३६१	५६४८३	५६६०५	५६७२७	१२९
३७	५६८२०	५६९३७	५७०५४	५७१७१	५७२८८	५७४०५	५७५२२	५७६३९	५७७५६	५७८७३	१२६
३८	५७९७०	५८०९३	५८२१६	५८३३९	५८४६२	५८५८५	५८६०८	५८७३१	५८८५४	५८९७७	१२३
३९	५९१०६	५९२१८	५९३२९	५९४४१	५९५५३	५९६६५	५९७७७	५९८८९	५९९९९	६००१०	११०
४०	६०२०६	६०३१४	६०४२३	६०५३१	६०६३९	६०७४७	६०८५५	६०९६३	६१०७१	६११७९	१०८
४१	६१२७८	६१३८४	६१४९०	६१५९६	६१७००	६१८०५	६१९०९	६२०१४	६२११८	६२२२२	१०४
४२	६२३२७	६२४२८	६२५३१	६२६३४	६२७३७	६२८३९	६२९४१	६३०४३	६३१४५	६३२४७	१०२
४३	६३३४७	६३४४८	६३५५८	६३६५९	६३७६९	६३८६९	६३९७९	६४०८८	६४१९७	६४२९६	९९

(५६)

१ पासून १००० पर्यंत संख्यांचे लागरथम् (चालू)

संख्या	०	१	२	३	४	५	६	७	८	९	अंतर
४४	६४३६५	६४४४४	६४५४२	६४६४०	६४७३८	६४८३६	६४९३३	६५०३१	६५१२८	६५२२५	९८
४५	६५३२१	६५४१८	६५५१४	६५६१०	६५७०६	६५८०१	६५८९६	६५९९२	६६०८७	६६१८१	९६
४६	६६२७६	६६३७०	६६४६५	६६५५८	६६६५२	६६७४६	६६८३९	६६९३२	६७०२५	६७११७	९५
४७	६७२१०	६७३०२	६७३९४	६७४८६	६७५७८	६७६६९	६७७६१	६७८५२	६७९४३	६८०३४	९२
४८	६८१२४	६८२१५	६८३०५	६८३९५	६८४८५	६८५७४	६८६६४	६८७५३	६८८४२	६८९३१	९०
४९	६९०२०	६९१०८	६९१९७	६९२८५	६९३७३	६९४६१	६९५४८	६९६३६	६९७२३	६९८१०	८८
५०	६९८१७	६९९०४	७००००	७००९७	७०१८३	७०२७९	७०३७५	७०४७१	७०५६६	७०६६२	८६
५१	७०७५७	७०८४२	७०९३७	७१०२२	७१०९६	७११८१	७१२६५	७१३४९	७१४३३	७१५१७	८४

(५८)

संख्या	०	१	२	३	४	५	६	७	८	९	अंतर
५२	७१६००	७१६८४	७१७६७	७१८५०	७१९३३	७२०१६	७२०९९	७२१८१	७२२६३	७२३४६	८२
५३	७२४२८	७२५०९	७२५९१	७२६७३	७२७५४	७२८३६	७२९१६	७२९९७	७३०७८	७३१५९	८१
५४	७३२३९	७३३२०	७३४००	७३४८०	७३५६०	७३६४०	७३७१९	७३७९९	७३८७८	७३९५७	८०
५५	७४०३६	७४११५	७४१९४	७४२७३	७४३५१	७४४२९	७४५०७	७४५८६	७४६६३	७४७४१	७८
५६	७४८१९	७४८९६	७४९७४	७५०५१	७५१२८	७५२०५	७५२८२	७५३५८	७५४३५	७५५११	७७
५७	७५५८०	७५६६४	७५७४०	७५८१५	७५८९१	७५९६७	७६०४२	७६११८	७६१९३	७६२६८	७५
५८	७६३४३	७६४१८	७६४९२	७६५६७	७६६४१	७६७१६	७६७९०	७६८६४	७६९३८	७७०१२	७४
५९	७७०८१	७७१५९	७७२३२	७७३०५	७७३७९	७७४५२	७७५२५	७७६००	७७६७३	७७७४६	७३
६०	७७८१५	७७८८०	७७९६०	७८०३२	७८१०४	७८१७६	७८२४७	७८३१९	७८३९०	७८४६२	७२
६१	७८५२३	७८६०४	७८६८५	७८७६६	७८८४७	७८९२८	७८९९९	७९०७९	७९१६०	७९२४०	७१

(५१)

१ पासून १००० पर्यंत संख्यांचे लागरथम् (पालू)

संख्या	०	१	२	३	४	५	६	७	८	९	अंतर
६२	७९२३९	७९२०९	७९३७९	७९४४९	७९५१८	७९५८८	७९६५७	७९७२७	७९७९६	७९८६५	७०
६३	७९९३४	८०००३	८००७२	८०१४०	८०२०९	८०२७७	८०३४६	८०४१४	८०४८२	८०५५०	६९
६४	८०६१८	८०६८६	८०७५४	८०८२१	८०८८९	८०९५६	८१०२३	८१०९०	८११५८	८१२२४	६८
६५	८१२९१	८१३५८	८१४२५	८१४९१	८१५५८	८१६२४	८१६९०	८१७५७	८१८२३	८१८८९	६७
६६	८१९५४	८२०२०	८२०८६	८२१५१	८२२१७	८२२८२	८२३४७	८२४१३	८२४७८	८२५४३	६६
६७	८२६०७	८२६७२	८२७३७	८२८०२	८२८६६	८२९३०	८२९९५	८३०५९	८३१२३	८३१८७	६५
६८	८३२५१	८३३१५	८३३७८	८३४४२	८३५०६	८३५६९	८३६३२	८३६९६	८३७५९	८३८२२	६४
६९	८३८८५	८३९४८	८४०११	८४०७३	८४१३६	८४१९८	८४२६१	८४३२३	८४३८६	८४४४८	६३

(०५७)



संख्या	०	१	२	३	४	५	६	७	८	९	अंतर
७०	८४५१०	८४५७२	८४६३४	८४६९६	८४७५८	८४८२०	८४८८०	८४९४२	८५००३	८५०६५	६२
७१	८५१२६	८५१८७	८५२४८	८५३०९	८५३७०	८५४३१	८५४९१	८५५५२	८५६१३	८५६७३	६१
७२	८५७३३	८५७९४	८५८५४	८५९१४	८५९७४	८६०३४	८६०९४	८६१५३	८६२१३	८६२७३	६०
७३	८६३३३	८६३९२	८६४५४	८६५१०	८६५७०	८६६२९	८६६८८	८६७४७	८६८०५	८६८६४	५९
७४	८६९३३	८६९८२	८७०४०	८७०९९	८७१५७	८७२१५	८७२७४	८७३३२	८७३९०	८७४४८	५८
७५	८७५०६	८७५५४	८७६०२	८७६६०	८७७३७	८७७९५	८७८५२	८७९१०	८७९६७	८८०२४	५७
७६	८८०८१	८८१३८	८८१९६	८८२५२	८८३०९	८८३६६	८८४२३	८८४८०	८८५३६	८८५९३	५७
७७	८८६४९	८८७०५	८८७६२	८८८१८	८८८७४	८८९३०	८८९८६	८९०४२	८९०९८	८९१५४	५६
७८	८९२०९	८९२६५	८९३२१	८९३७६	८९४३२	८९४८७	८९५४२	८९५९७	८९६५३	८९७०८	५५
७९	८९७६३	८९८१८	८९८७३	८९९२७	८९९८२	९००३७	९००९१	९०१४६	९०२००	९०२५५	५४

(63)

१ पासून १००० पर्यंत संख्यांचे लागरथम् (चाणू)

संख्या	०	१	२	३	४	५	६	७	८	९	अंतर
८०	१०३०९	१०३५३	१०४१०	१०४७२	१०५२६	१०५८०	१०६३४	१०६८७	१०७४१	१०७९५	५४
८१	१०८४९	१०९०२	१०९५५	११००९	११०६२	११११५	१११६९	११२२२	११२७५	११३२८	५३
८२	११३८१	११४३४	११४८७	११५४०	११५९३	११६४५	११६९८	११७५१	११८०३	११८५५	५३
८३	११९०८	११९६०	१२०१२	१२०६५	१२११७	१२१६९	१२२२१	१२२७३	१२३२४	१२३७५	५२
८४	१२४२८	१२४८०	१२५३१	१२५८३	१२६३४	१२६८५	१२७३७	१२७८८	१२८४०	१२८९१	५१
८५	१२९४२	१२९९३	१३०४४	१३०९५	१३१४५	१३१९६	१३२४७	१३२९८	१३३४९	१३३९९	५१
८६	१३४५०	१३५००	१३५५१	१३६०१	१३६५१	१३७०२	१३७५२	१३८०२	१३८५२	१३९०२	५०
८७	१३९५२	१४००२	१४०५२	१४१०१	१४१५१	१४२०१	१४२५०	१४३००	१४३४९	१४३९९	४९

(५३)

संख्या	०	१	२	३	४	५	६	७	८	९	अंतर
८८	१४४४८	१४४९८	१४५४७	१४५९५	१४६४५	१४६९४	१४७४३	१४७९२	१४८४१	१४८९०	४९
८९	१४९३९	१४९८८	१५०३५	१५०८५	१५१३४	१५१८२	१५२३१	१५२७९	१५३२८	१५३७५	४८
९०	१५४२४	१५४७२	१५५२१	१५५६९	१५६१७	१५६६५	१५७१३	१५७६१	१५८०९	१५८५७	४८
९१	१५९०४	१५९५२	१५९९९	१६०४७	१६०९५	१६१४२	१६१९०	१६२३७	१६२८४	१६३३२	४८
९२	१६३७५	१६४२५	१६४७३	१६५२०	१६५६७	१६६१४	१६६६१	१६७०८	१६७५५	१६८०२	४७
९३	१६८४८	१६८९५	१६९४२	१६९८८	१७०३५	१७०८१	१७१२८	१७१७४	१७२२०	१७२६७	४७
९४	१७३१९	१७३६९	१७४०५	१७४५१	१७४९७	१७५४३	१७५८९	१७६३५	१७६८१	१७७२७	४६
९५	१७७७९	१७८१८	१७८६४	१७९०९	१७९५५	१८०००	१८०४६	१८०९१	१८१३७	१८१८२	४६
९६	१८२२७	१८२७२	१८३१८	१८३६३	१८४०८	१८४५३	१८४९८	१८५४३	१८५८८	१८६३३	४५
९७	१८६७७	१८७२२	१८७६७	१८८११	१८८५६	१८९००	१८९४५	१८९८९	१९०३४	१९०७८	४५

(५३)

१ पासून १००० पर्यंत संख्यांचे लांगरथम् (चालू)

संख्या	०	१	२	३	४	५	६	७	८	९	अंतर
१८	१९१२३	१९१६७	१९२११	१९२५५	१९३००	१९३४४	१९३८८	१९४३२	१९४७६	१९५२०	४४
१९	१९५६४	१९६०७	१९६५१	१९६९५	१९७३९	१९७८२	१९८२६	१९८७०	१९९१३	१९९५७	४४

(१३)

# भाग दुसरा.

—\*—

## होकायंत्र.

—:S\*S:—

लोहचुंबकाकर्षण—अगर चुंबकाकर्षण हा खराखर काय शक्ति आहे हें कळत नाही; परंतु लोहचुंबकाचे लोखंडावर व इतर चुंबकावर घडणाऱ्या परिणामांचा अभ्यास करून सर्व चुंबकास साधारण लागू पडणारे नियम शोधून काढिले आहेत. चुंबक दोन प्रकारचे आहेत. एक स्वाभाविक व दुसरा कृत्रिम. पृथ्वीही स्वतः स्वाभाविक लोहचुंबक आहे. तसाच लोहकान्त हाही स्वाभाविक अथवा सृष्ट चुंबक आहे. कृत्रिम लोहचुंबक हे पाणी दिलेल्या पोलादी कांबीचे सरळ अगर नालाकृति केलेले असतात. पोलादाचे कांबीत चुंबकाचे धर्म आणण्याचे निरनिराळे प्रकार आहेत. ( १ ) दुसऱ्या स्वाभाविक अगर कृत्रिम चुंबकाचे योगानें, ( २ ) विजेच्या प्रवाहानें, ( ३ ) अगर घणानें ठोकल्यानें.

चुंबक ध्रुव—चुंबकाच्या प्रत्येक टोंकास ध्रुव म्हणतात. या प्रत्येक टोंकाचे धर्म निरनिराळे आहेत, व त्यास नांवेही निरनिराळी आहेत. एकास निळें टोंक व दुसऱ्यास तांबडें टोंक म्हणतात. जर एका चुंबकाचें एक टोंक दुसऱ्या चुंबकाच्या एक एका टोंकापाशीं

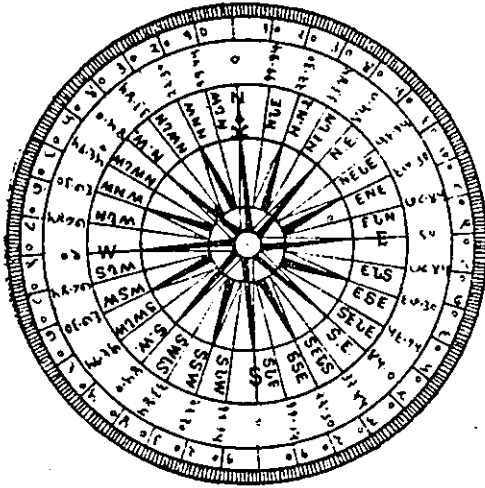
क्रमानें ठेविलें तर असें आढळून येईल कीं, एकाच रंगाचे ध्रुव एकमेकांस दूर सारतात व निरनिराळ्या रंगांचे ध्रुव एकमेकांस जवळ ओढितात. हाच नियम होकायंत्रांतलि ध्रुवांस लागू पडतो. पृथ्वी ही स्वतः, एक लोहचुंबक असल्यामुळें जर लोहचुंबकाची एकादी पट्टी क्षितिजसमांतर फिरेल अशी अलग ठेविली व तिचे टोंकांस, वर सांगितल्याप्रमाणें, एकास तांबडा व दुसऱ्यास निळा असे रंग दिले तर असें आढळून येईल कीं, थोडेसे झोके खाऊन तिचें तांबडें टोंक कोणत्या तरी एकाच दिशेकडे होतें व ती दिशा खऱ्या उत्तरेहून फार निराळी असत नाही. यावरून हें उघड होतें कीं, जिकडे लोहचुंबकाचें तांबडें टोंक आकर्षिलें जातें, तिकडे निळ्या रंगाचे टोंकाचे धर्म असणारें पृथ्वीचें ध्रुव अगर टोंक असलें पाहिजे. या निळ्या लोहकांताकर्षणाच्या मध्यास उत्तर लोहकान्त-ध्रुव असें म्हणतात. हा उत्तर लोहकांत-ध्रुव पृथ्वीच्या अगदीं उत्तर ध्रुवाशीं नाही; परंतु सर जेम्स रास यांनीं असें शोधून काढिलें आहे कीं, तो बुथिया फेलिक्स नांवाच्या तारकापुंजांत, म्हणजे, उत्तर अक्षांश ७-९' व पश्चिम रेखांश ९६-४६' कलामध्यें आहे. तसेंच पृथ्वीच्या तांबड्या लोहकांताकर्षणाचा मध्य, म्हणजे जिकडे लोहचुंबकाचें निळें टोंक आकर्षिलें जातें, तो, स्थूल मानानें दक्षिण अक्षांश ७४ आणि पूर्व रेखांश १४७ यांमध्ये आहे. आतां लोहचुंबकाच्या टोंकांस रंग कां देतात तें सांगूं. वरील विवेचनावरून समजून येईल कीं, पृथ्वीचें निळें लोहकांताकर्षण उत्तरेस आहे व तें लोहचुंबकाच्या तांबडे टोंकास आपणाकडे ओढून घेतें. परंतु लोहचुंबकाचें जें टोंक उत्तरेकडे असतें त्यास लोहचुंबकाचा उत्तर ध्रुव म्हणण्याचा प्रघात पडला आहे. हें उघड आहे कीं, लोहचुंबकाच्या तांबड्या टोंकांतील

लोहचुंबकाकर्षणास उत्तर लोहचुंबकाकर्षण म्हणूं नये. कारण तें उत्तर गोलार्धांत जें पृथ्वीचें लोहकान्ताकर्षण आहे त्याहून निराळ्या प्रकारचें आहे; आणि निरनिराळ्या प्रकारचे ध्रुव एकमेकांस आकर्षितात म्हणून तें तांबडें लोहचुंबकाकर्षण दक्षिण गोलार्धातील पृथ्वीचें लोहकांताकर्षणाच्या जातीचें असलें पाहिजे; याकरितां घोंटाळा होऊं नये म्हणून, लोहचुंबकाच्या उत्तरेकडे राहणाऱ्या टोंकांस तांबडा व दक्षिणेकडे राहणाऱ्या टोंकास निळा असे रंग देतात.

खलाशांचें होकायंत्र—आतां लोहचुंबकाचा होकायंत्रांत उपयोग कसा करून घेतात तें सांगूं.

एक चापट पोलादाची पट्टी घेऊन तिजमध्ये कृतीनें लोहचुंबकाचे धर्म उत्पन्न करितात. नंतर तिचे मध्य-बिंदूंत एक भोंक पाडितात व त्यांत एक सुई बसण्यासारखें भोंक पाडलेला गारेचा खडा बसवितात. नंतर ती पट्टी बारीक सुईचे टोंकावर ठेवितात, त्यामुळें किंचित् सुद्धां घर्षण न होतां ती त्या टोंकावर फिरण्यास मोकळी असते. लोहचुंबकाचे धर्म आल्यानंतर ही पट्टी एकाच विविक्षित दिशेंत स्थिर राहते, असें आढळून आलें आहे. या स्थितींत असतां तिच्या दोन्ही टोंकांतून जाणाऱ्या लंब पातळीस लोहचुंबक ( माध्यान वृत्त )-याम्योत्तर वृत्त असें म्हणतात. तें खऱ्या याम्योत्तर वृत्ताशीं मिळत नाही. परंतु थोडा फरक असतो. तथापि तें बहुतेक उत्तर दक्षिण दिशाच दाखवितें असें म्हटलें तरी चालेल. ही पट्टी होकायंत्राच्या गंजिफेच्या खालच्या बाजूस चिकटविलेली असते व गंजिफेच्या वरच्या बाजूवर दिशा दाखविलेल्या असतात. या पट्टीच्या योगानें गंजिफेतील उत्तर दिशा सदोदित खऱ्या उत्तर दिशेकडे फिरते.

दिशाचक्र ही एक वर्तुळाकार गंजिफ असते.—तिच्या



३३०११

परिघाचे ३६० अंश, आणि बत्तिस दिशा असे भाग केलेले असतात. त्याने क्षितिजांतील निरनिराळ्या ३२ दिशा कळतात. प्रथमतः एकमेकांशी काटकोन करणाऱ्या दोन व्यासांनी त्या गंजिफेचे चार समान भाग करितात. या दोन व्या-

सांची चार टोके हीं—उ० ( N. ) द० ( S. ) पू० ( E. ) प० ( W. ) या चार मुख्य दिशा होत. या प्रत्येक चतुर्थांशाचे आठ आठ समान भाग करितात. याप्रमाणे त्या वर्तुळ गंजिफवर बत्तिस दिशा दाखविलेल्या असतात. यांस होकायंत्राचे दिशाबिंदु ( पॉईंट्स ) असे म्हणतात. या प्रत्येक दिशाबिंदूचे अर्ध आणि पाव भाग केलेले असतात. मुख्य चार दिशांच्या मधील दिशा त्या मुख्य दिशांच्या प्रथम अक्षरांनी दाखवितात. जसे—

मुख्य दिशाः—N. E. S. W; N.=उत्तर. S.=दक्षिण. E=पूर्व, W=पश्चिम.

उपदिशाः—ईशान्य NE., आग्नेय SE., नैऋत्य S W., वायव्य NW. या दिशा व उपदिशा यांचे मधिल दिशा, त्या मुख्य



दिशांची प्रथमाक्षरें उपदिशांच्या अक्षरांस जोडून दाखवितात जसें:—

उत्तर व ईशान्य यांचें मधील दिशा	N. N. E. ... .. होय.
ईशान्य व पूर्व	E. N. E. ... .. ”
पूर्व व आग्नेय	E. S. E. ... .. ”
आग्नेय व दक्षिण	S. S. E. ... .. ”
दक्षिण व नैऋत्य	S. S. W. ... .. होय.
नैऋत्य व पश्चिम	W. S. W. ... .. ”
पश्चिम व वायव्य	W. N. W. ... .. ”
वायव्य व उत्तर.	N. N. W. ... .. ”

वर सांगितलेल्या दिशांचे मधील दिशेला by हा शब्द लावितात. जसें उत्तर दिशेचे अगदीं जवळील प्रत्येक बाजूचे दिशेस N. by ( बाय ) E व N by ( बाय ) W. असें म्हणतात; तसेंच पूर्व दिशेच्या दोन्ही बाजूच्या अगदीं जवळचे दिशेस E by N व E by S असें म्हणतात. ज्या दिशेपासून आपण मोजिलें पाहिजे त्या दिशेचें अक्षर पहिल्यानें लिहिलेलें असतें हें लक्षांत ठेविलें पाहिजे म्हणजे या मधील दिशा लवकर ध्यानांत येतील. जसें:—

N by E म्हणजे उत्तरेपासून पूर्वेकडे एक बिंदू=११-१५

E by N पूर्वेपासून उत्तरेकडे १ बिंदू.

SE by S म्हणजे आग्नेयेपासून दक्षिणेकडे १ बिंदू.

उजवी बाजू व डावी बाजू यांत चूक होऊं न देणें, हें फार अगत्याचें आहे. आपण होक्याच्या ( दिशाचक्राच्या ) मध्यभागीं उत्तरेकडे तोंड करून उभे आहोंत अशी कल्पना करा. म्हणजे पूर्व आपले उजवे बाजूस येते, व पश्चिम डावे बाजूस येते. यावरून

ईशान्य दिशामार्ग हा सदोदित उत्तरेपासून उजवे बाजूस असतो. व वायव्य मार्ग उत्तरेपासून डावे बाजूस असतो.

आतां दक्षिणेकडे तोंड करून उभे राहिलों असतां, पूर्व डावे बाजूस येते. व पश्चिम उजवे बाजूस येते. तेव्हां आग्नेय मार्ग हा सदोदित दक्षिण दिशेच्या डाव्या बाजूस असतो व नैऋत्य मार्ग हा दक्षिण दिशेच्या उजवे बाजूस असतो.

प्रत्येक वर्तुळाचे ३६० समान भाग ( अंश ) केलेले असतात. आणि दिशाचक्रावर ३२ समान भाग (दिर्गबिंदु) दाखविलेले असतात म्हणून दिशाचक्रावरील कोणतेही जवळील दोन बिंदूंमधील कोण,  $33^{\circ} = 1^{\circ} - 1^{\circ} - 0''$  म्हणजे,  $11\frac{1}{4}$  अंशाचा असतो. यावरून उत्तरेपासून पश्चिमेकडे एक बिंदु व उत्तर यांचे मधील कोन  $1^{\circ} - 1^{\circ} - 0''$  चा असतो व N. N. W. व N. म्हणजे उत्तरेपासून पश्चिमेकडे दोन बिंदु व उत्तर यांचे मध्ये  $2^{\circ} - 3^{\circ} - 0''$  चा कोन असतो. त्याचप्रमाणे:-

दिशाचक्रावरील दोन जवळील बिंदूंचे अंतराचे चतुर्थांश म्ह०  $2^{\circ} - 8^{\circ} - 4^{\circ} - 0''$  चाकोन;

अर्ध-म्ह०  $5^{\circ} - 3^{\circ} - 3^{\circ} - 0''$  चाकोन

तीन चतुर्थांश म्ह०  $8^{\circ} - 2^{\circ} - 1^{\circ} - 0''$ . चा कोन.

एक बिंदु म्हणजे उत्तरेशी  $1^{\circ} - 1^{\circ} - 0''$  चा कोन.

दोन बिंदु म्ह०  $2^{\circ} - 3^{\circ} - 0''$  ....

तीन बिंदु म्ह०  $3^{\circ} - 8^{\circ} - 0''$  ....

चार बिंदु म्ह०  $4^{\circ} - 0^{\circ} - 0''$  ....

पांच बिंदु म्ह०  $5^{\circ} - 1^{\circ} - 0''$  ....

सहा बिंदु म्ह० ६७-३०'-० ....

सात बिंदु म्ह० ७८-४५'-० ....

\* आठ बिंदु म्ह० ९०°-०-० चा कोन.

गमनमार्गाची दिशा—गमनमार्ग हा, उत्तरेपासून अगर दक्षिणेपासून, पूर्वेकडे अगर पश्चिमेकडे, मोजलेला कोन होय. एखादें गलबत जर उत्तरेपासून एक बिंदु पश्चिमेकडे जात असेल, तर त्याचा गमनमार्ग उत्तरेपासून डाव्या बाजूस एक बिंदु आहे असे म्हणतात. जर तें आग्नेयेकडे जात असेल तर त्याचा गमनमार्ग दक्षिणेच्या डावे बाजूस चार बिंदु ( पाइंट्स् ) आहे, असे म्हणतात. विद्यार्थ्यांना हा गमनमार्ग धरोवर समजून सांगतां येणें हें फार महत्त्वाचें आहे. उदाहरणार्थः—

टीप—काठेवाड व कच्छ मांडवी इकडील खलाशी लोक व मालीम गंजि-  
फेवरील ( दिशाचक्रावरील ) प्रत्येक बिंदूस खंड म्हणतात. ईशान्य, आग्नेय,  
नैऋत्य व वायव्य या उपदिशा दाखविणाऱ्या रेषांस लाल असे म्हणतात व ते  
उत्तरेपासून पूर्वेकडून दक्षिणेपर्यंत जे सोळा दिग्बिंदु, पॉइंट्स्, किंवा खंड होतात  
त्यांतील प्रत्येकास ( नक्षत्रावरून ) नांवें देतात तीं अशीं—

N. = ध्रुव = उत्तर ०	उत्तर = ०
N. by E डाळंब = उ० पा० पूर्वेकडे	१ खंड = ११-१५'
N. N. E = सातडिसा = उ० पा० पू० कडे	२ खंड = २२-३०'
N. E by N = उटणी = , , ,	३ खंड = ३३-४५'
N. E = पोईस = उ० पा० पूर्वेकडे	४ खंड = ४४-००' ईशान्य
N. E by E = गोसगिरी = , , ,	५ खंड = ५५-१५'
E. N E = चीतरो , , ,	६ खंड = ६६-३०'
E. by N = करकता , , ,	७ खंड = ७७-४५'
E. = सरावण उ० पा० पूर्वे०	८ खंड = ८८-००' = पूर्व
E. by S हरण = द० पा० पूर्वेकडे	९ खंड = ९९-४५'

[ पुढे चालूं.]

जर गलबत पूर्वेपासून एक बिंदु दक्षिणेकडे जात असेल तर त्याचा गमनमार्ग उत्तरेपासून नऊ बिंदु अगर पूर्वेपासून एक बिंदु असें म्हणूं नये; तर दक्षिणेच्या डावे बाजूस सात बिंदु ( भाग ) आहे, असें सांगावें. ज्या दिशेने ( मार्गानें ) गलबत चालवावयास सांगितलें असेल, त्या दिशेने सुकाणदारास बरोबर विनचूक नाळ लावितां यावी म्हणून होकायंत्राचे पेटीचे आंत एक उभी काळी रेष असते, तिला लबर लाईन ( रेषा ) असें म्हणतात.

होकायंत्र अशा रीतीने बसवितात कीं, या रेषेपासून जाणाऱ्या त्याच्या व्यासाची रेषा, आणि गलबताचे सुकाणू आणि नाळ ह्यांस जोडणारी गलबताची लांब मध्य रेषा, ह्या दोन्ही एकाच रेषेत येतील अगर समांतर असतील. गमनमार्ग दाखविणारा दिशाचक्रावरील भाग ( पॉईंट ) लबर लाईनवर अगर लबर लाईन जवळ सदादित ठेवणें हें सुकाणदाराचें मुख्य काम आहे. जर आग्नेय दिशेस ( S. E. ) गलबत चालविण्यास सुकाणदारास सांगितलें, तर त्याने सुकाणू अशा रीतीने


[ मागील पृष्ठावरून चालू. ]

E. S E = लोढो = द० पा० पू०	„ „	६ खंड = ६६-३०'
S. E by E = जेठावर =	„ „ „	५ खंड = ५६-१५
S. E = कागडो = आग्नेय	„ „	४ खंड = ४५-० आग्नेय
S. E by S = तोरण =	„ „ „	३ खंड = ३३-४५'
S. S E = चवकी	„ „ „	२ खंड = २२-३०
S, by E = अगस	„ „	१ खंड = ११-१५
S. = थंभ = दक्षिण	„ „	० दक्षिण

आतां पूर्वेस हीं नक्षत्रे उगवतांना उत्तरेशीं पूर्वेकडे जेवढा कोन करून उगवतात तेवढाच उत्तरेशीं कोन करून तीं पश्चिमेकडे मावळतात; म्हणून उत्तरेपासून पश्चिमेकडून दक्षिणेपर्यंत प्रत्येक खंडास हींच नांवें देतात व त्यास मावळती कडील ( नक्षत्रे ) दिशा-खंड ( दिग्बिंदु ) म्हणतात.

फिरवावें कीं, गलबताची नाळ त्या दिशेस जाईल, म्हणून तो, दिशा-चक्रावरील आग्नेय दिशेवर, लंबर लाईन आणतो.

बिन्द्याकल (Binnacle) म्हणजे गलबतावरील होकायंत्राची पेटी. लोहचुंबक पट्टी व तीवरील दिशाचक्र, हीं एका वाटी—(वाडग्या) सारख्या भांड्यांत घालून त्यावर कांच बसवितात, व तें भांडें एका पितळेच्या कड्यास, दोन समोरासमोर आंतून खिळे मारून ( म्हणजे कुसे काढून ) त्यावर फिरेल असें बसवितात. हें कडे दुसऱ्या एका



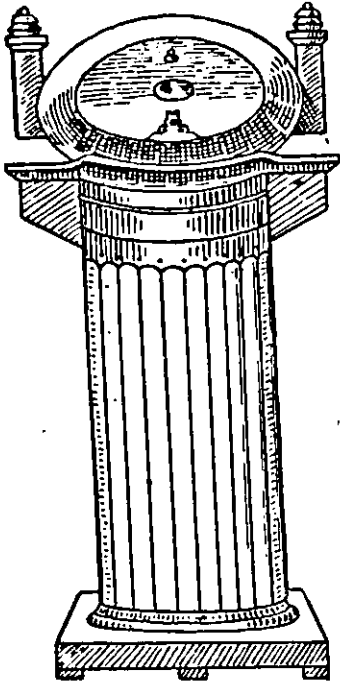
आ. १२  
साधे बिन्द्याकल

कड्यास आंतून समोरासमोर गोल खिळे मारून त्यावर फिरेल अशा रीतीनें बसवितात. हे दुसरे दोन खिळे पाहिल्या खिळ्यांशीं काटकोन करून बसविलेले असतात. अशा रीतीनें ( गिंबल्सवर ) दिशाचक्र बसविलें असतां गलबताला कसेही हेलकावे बसले तरी दिशाचक्र सदोदित क्षितिजसमांतरच राहतें. हें होकायंत्र, हवा लागूं नये म्हणून, एका खांबावर पेटीत बसवितात. त्या पेटीस बिन्द्याकल असें म्हणतात. ही पेटी गलबतावरील तक्तपोशीवर बळकट बसवितात, व रात्री दिशाचक्र दिसावें म्हणून तिजवर दिवे ठेवण्याची जागा करितात.

कधी कधी यांत कंपास ( होकायंत्र ) बरोबर राखण्याकरितां दुसरें लोहचुंबक व लोखंडाचे तुकडे ठेवण्यास जागा केलेली असते.

बाजूच्या चित्रांवरून निरनिराळ्या प्रकारच्या बिन्द्याकलस ( होकायाच्या पेठ्या ) लक्ष्यांत येतील.

१२ व्या आकृतीतील होक्याच्या पेटीला लोखंडाचे तुकडे



आ० १३

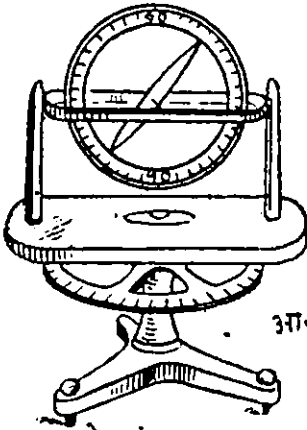
लोहचुंबक ठेवण्याच्या सोयी  
केलेले बिन्याकल

ठेवण्याकरितां बाजूस फक्त दोनच कप्पे आहेत; व १३ व्या आकृतीतील पेटीत लोखंडाचे तुकडे व लोहचुंबक ठेवण्याच्या सर्व सोई केल्या आहेत.

लोहचुंबकाचा कल — लोहचुंबकाची पट्टी तिचे गुरुत्व-मध्यावर समतोल ठेवून ती पाहिजे त्या दिशेस फिरण्यास सुटी असली तरी ती क्षितिज-समांतर राहत नाही. उत्तर गोलार्धात तिचे उत्तर टोंक बरेच खाली नमतें, व दक्षिण गोलार्धात दक्षिण टोंक नमतें, त्याला लोहचुंबकाचा कल असे म्हणतात. ( आ. १४ ) इंग्लंडामध्ये सुमारे ६८° कल आहे. चुंबक मध्य-वृत्तावर चुंबकास बिलकुल कल नसतो. लोहचुंबक-मध्य-वृत्त आणि भू-

मध्य वृत्त ही एक नव्हेत. परंतु चुंबकमध्यवृत्त भूमध्य-वृत्ताशी सुमारे ११ अंशांचा कोन करितें, व तें एक अनियमित वक्र रेषेत असतें. या चुंबक-मध्य वृत्तावर लोहचुंबकास कल नसतो, म्हणजे येथे लोहचुंबक-पट्टी क्षितिज-समांतर असते. जसजसे आपण या लोहचुंबक-मध्य-वृत्तापासून चुंबक-ध्रुवाकडे जावें, तसतसा लोहचुंबकाचा कल क्रमाक्रमानें

अधिक होतो. व लोहचुंबक-ध्रुवाजवळ लोहचुंबकाची पट्टी उभी



लोहचुंबकाचा कल

द्वारविणारी लोहचुंबकपट्टी

३३०-३०

राहते. होकायंत्राचें दिशाचक्र क्षितिज-समांतर राहिल असें ठेविलेलें असतें. कारण, नौकानयनास तें तशा स्थितींत फार उपयोगी पडतें. परंतु हें उघड आहे कीं, जसजसा लोहचुंबकाचा कल वाढत जातो, ( म्हणजे जसजशी लोहचुंबक पट्टी उभी होत जाते, ) तसतसा क्षितिज-समांतर पातळींत उत्तरेकडे

होत जातो. म्हणून लोहचुंबकाचा उत्तरेकडे जाण्याचा जोर लोहचुंबक विषुववृत्तावर अधिक असतो, व लोहचुंबक-ध्रुवाकडे तो कमी होत जातो.

चलन-लोहचुंबकाचें उत्तर टोंक खऱ्या उत्तरेकडे क्वचित् असतें. एखाद्या स्थळाचें भू याम्योत्तरवृत्त म्हणजे त्या स्थळामधून व दोन्ही भू ध्रुवांमधून जाणारें व क्षितिजाशीं लंब असणारें माध्यान्हवृत्त होय.

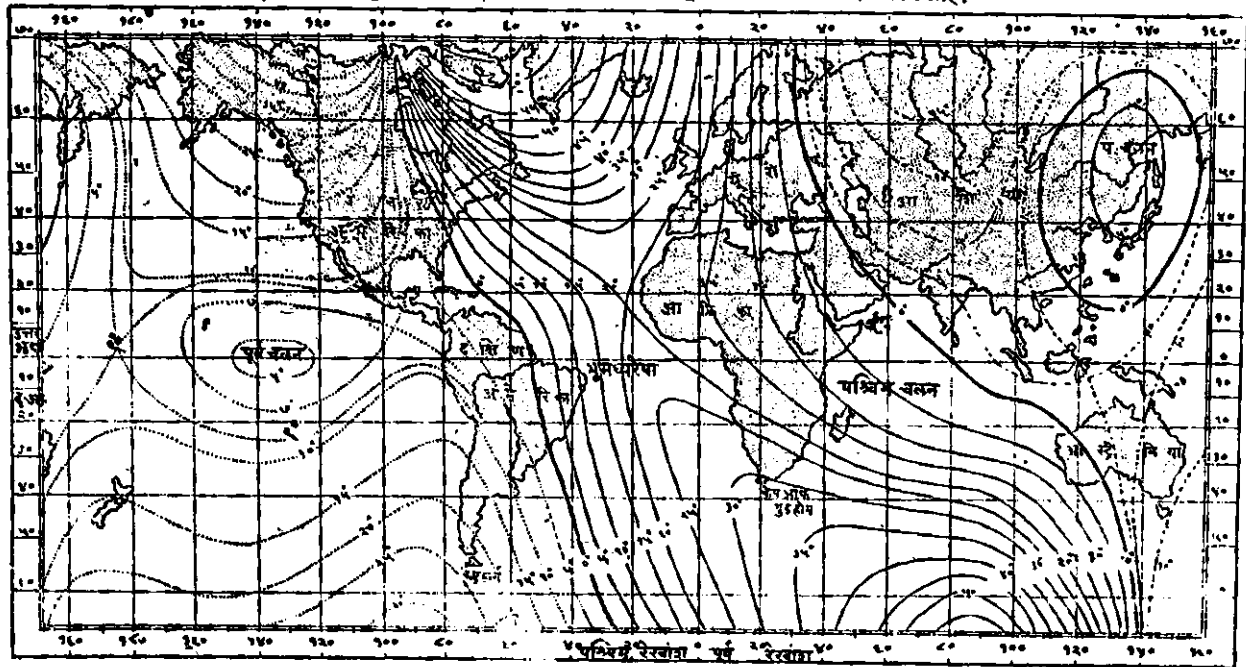
तसेंच त्या स्थळाचें लोहचुंबक-याम्योत्तरवृत्त म्हणजे, त्या स्थळावरील निष्प्रतिबंध रीतीने क्षितिजसमांतर फिरत असलेल्या लोहचुंबकाच्या दोन्ही टोंकांतून जाणारें व क्षितिजाशीं लंब असणारें माध्यान्हवृत्त होय, मात्र त्या लोहचुंबकावर पृथ्वीशिवाय

दुसऱ्या कोणत्याही पदार्थाचें आकर्षण नसावें. ह्या भू-याम्योत्तर व ध्रुव-याम्योत्तर वृत्तांमधील जो कोन त्याला होकायंत्राचें चलन ( अथवा फेर ) असें म्हणतात. अथवा होक्याचें चलन म्हणजे जीवर, पृथ्वीशिवाय दुसरें कोणाचेंही आकर्षण नाहीं अशा, लोह-चुंबक पट्टीनें खऱ्या भू-याम्योत्तराशीं केलेला कोन हें होय.

कोणत्याही आकर्षक पदार्थापासून अलग असें होकायंत्र ठेविलें असतां तें बरोबर लोहचुंबक-उत्तर दाखवितें. ही उत्तर व खरी भू-उत्तर यांचेमधील अंतरास होक्याचें चलन अगर फेर असें म्हणतात. अनुभवावरून असें कळून आलें आहे कीं, हा फेर अगर चलन हें कोणत्याही एका स्थळीं सदोदित सारखेंच असतें असें नाहीं, परंतु तें बदलत असतें. एका दिशेला अतिशय मोठा कोन करून फिरून त्याचे उलट दिशेस जातें. उदाहरणार्थः— लंडन येथें इ० स० १६५१ चे सुमारास होकायंत्रास बिलकुल चलन नव्हतें त्यापूर्वीं तें पूर्वेकडे होतें, व त्या वर्षानंतर तें पश्चिमेकडे झालें. तें १८१६ पर्यंत वाढत वाढत २३-३०' इतकें वाढलें व तेव्हांपासून तें क्रमाक्रमानें दर वर्षास ७' कलाप्रमाणें कमी कमी होत चाललें आहे. कित्येक स्थळीं होकायंत्रास चलन अगर फेर बिलकुल नसतो. त्या सर्व स्थलांमधून जाणाऱ्या कल्पित रेखांनीं तीं स्थळे जोडतात, व त्या रेखांस कोनशून्य रेखा किंवा चलनशून्य रेखा म्हणतात. चलनशून्य रेखा ह्या कायमच्या स्थिर नसतात. पृथ्वीवर तीन अगर अधिक मुख्य कोन-शून्य ( अथवा चलनशून्य ) रेखा आहेत. त्यांतील मुख्य दोन-एक अमेरिकेंतील, ही उत्तर लोहचुंबक-ध्रुवापाशीं सुरू होऊन, म्हणजे सुमारें केनडी बंदरापासून सुरू होऊन, आग्नेय दिशेनें उत्तर अमेरिकेमधून केप



होव्याने बलन दारवविणारा पृथ्वीचानकाशा.  
 पूर्व-बलन विंदुमवेण्यांनी पश्चिम-बलमकारीकवेण्यांनी व शून्य बलन जाडवेण्यांनी दारवविलें आहे.



हटरसवरून ह्यूरान व आयर सरोवरांमधून जाऊन पुढे अटलांटिक समुद्रांतून ग्यांडलाक व बारब्बाहोजमधून राओजनीरिओरोवरून दक्षिण अमेरिका खंड कापून त्याच दिशेने दक्षिण अटलांटिकमधून दक्षिण ध्रुवाकडे जाते. दुसरी आशियांतील-तीही वायव्येकडून आग्नेय दिशेनेच जाते, ती प्रथम श्वेत समुद्रांतून निघून कास्पियन व आरबी समुद्रामधून जाऊन विषुवृत्तास  $८\frac{१}{२}$  पूर्वरेखांशावर छेदून आस्ट्रेलिया खंडांत  $१२५$  आणि  $१३०'$  पूर्व रेखांशाच्या दरम्यान शिरून नंतर जरा अधिक दक्षिणेकडे वळून दक्षिण लोहचुंबक ध्रुवाकडे जाते. पूर्व एशिया-मध्ये, सैबेरिया व चीनचे साम्राज्यामधून जाणारी तिसरी एक अंडाकृति चलनशून्य रेषा आहे. या शून्य चलनकोन रेषांच्या एके बाजूस होक्याचे चलन पूर्वेकडे असते व दुसरे बाजूस पश्चिमेकडे असते.

सारखा किंवा एकच चलन-कोन करणारी स्थळें जोडून वक्र रेषा काढिलेल्या असतात, त्यास समकोन रेषा म्हणावें. ह्या रेषा फार अनियमित आकाराच्या असतात.

सरकारी आरमारावरील अधिकारी या चलनरेषा दाखविणारा नकाशा प्रसिद्ध करितात, व त्यावर चलनाचे वार्षिक फेरफार दाखवितात. हा नकाशा क्यॉप्टन इव्हान्सने बनविलेला आहे, व त्याला इव्हान्सचा नकाशा असे खलाशी लोक म्हणतात. ( आ. १५ वी पहा. ) त्या नकाशावरून ते ज्या स्थलावरून गलबता-मधून जात असतील त्या स्थलाचे होक्याचे चलन पाहून आपला खरा गमन मार्ग काढितात. लंडनमध्ये सध्या होक्याचे चलन  $१६\frac{३}{४}^{\circ}$  पश्चिमेकडे आहे, म्हणजे तेथे लोहचुंबक-ध्रुव हा खऱ्या भू-ध्रुवापासून  $१६\frac{३}{४}$  अंश पश्चिमेकडे आहे.

आतां कोणा एखाद्या स्थळीं होकायंत्राचें चलन  $२२\frac{३}{४}$ ° अंश अथवा दोन पॉइंट्स् बिंदू पश्चिमेकडे आहे, असें समजा; म्हणजे होकायंत्रावरील N. N. E. हा दिशा क्षितिजावरील खरी उत्तर दाखविते. अशा होकायंत्रानें जर रात्री आपण उत्तर ध्रुवाचा कोन पाहिला ( म्हणजे वेध घेतला ) तर तो ध्रुव N. N. E. ह्या दिशेन दिसेल. म्हणजे होकायंत्राचा उत्तर बिंदू N. N. E. ह्या बिंदूचे जागी पाहिजे, परंतु तसें नसून तो उत्तर बिंदू खऱ्या उत्तरेच्या डावे बाजूस दोन बिंदू आहे. म्हणून ह्या होकायंत्रास दोन बिंदू पश्चिम चलन आहे. असें म्हणतात. कारण, त्याची उत्तर पृथ्वीच्या लोहचुंबकाकर्षणानें खऱ्या उत्तरेपासून दोन बिंदू पश्चिमेस आकर्षिली गेली आहे.

**विचलन**—गलबत बांधतांना अगर त्यास दोऱ्या वगैरे लावून तयार करितांना जें लोखंड वापरण्यांत येतें, तसेंच गलबतावर जो लोखंडी माल भरण्यांत येतो, त्याच्या योगानें होकायंत्रावर कांहीं परिणाम घडतो. गलबतावरील या लोखंडानें जो होकायंत्रांत फेरफार पडतो, त्यास विचलन असें म्हणावें. होकायंत्राचें स्थानिक चलन आणि हें विचलन यांतील भेद स्पष्ट करण्याकरितां गलबतावरील कोणत्याही पदार्थापासून जो होकायंत्रांत फेरफार होतो, त्यास त्याचें विचलन म्हणावें, व गलबताशिवाय इतर बाह्य कारणांनीं जो होकायंत्रांत फेरफार होतो, त्यास त्याचें स्थानिक चलन म्हणावें. विचलनानें होणाऱ्या फेरफाराचा ( चुकीचा ) विचार करण्यापूर्वीं कायम लोहचुंबकाकर्षण व थोडा दिवस कायम राहणारें लोहचुंबकाकर्षण म्हणजे काय तें समजून घेतलें पाहिजे.

आपल्या आकर्षणामध्ये आलेल्या लोखंडासारख्या कित्येक पदार्थांमध्ये लोहचुंबकाचे धर्म उत्पन्न करण्याची शक्ति सर्व लोहचुंबकास असते. हे धर्म मृदु अथवा नरम लोखंडांत तेव्हांच उत्पन्न होतात, मग ते लोखंड कसल्याही आकाराचे असो; आतां पृथ्वी हा एक मोठा लोहचुंबक असल्यामुळे ती कोणत्याही लोखंडी पदार्थांत लोहचुंबक—दक्षिणोत्तर दिशेने आकर्षण करणारे लोहचुंबकाचे धर्म उत्पन्न करिते. जर लोखंडी पदार्थ एकाच स्थितीमध्ये पुष्कळ वेळ ठेविला व विशेषतः जर त्यावर घणाचे घांव मारिले तर त्यांत पृथ्वीपासून जे लोहचुंबकाचे धर्म उत्पन्न होतात ते, तो पदार्थ तेथून दूर नेला तरी, त्यांत बरेच कायम राहतात; लोहचुंबकांची टोंके लोखंडामध्ये विरुद्ध धर्माचे लोहचुंबकाकर्षण उत्पन्न करितात म्हणून उत्तरध्रुवाकडे लोखंडाचा जो भाग असेल, त्यांत तांबडे ( अग्न दक्षिण टोंकाचे गुण उत्पन्न होतील आणि दुसऱ्या भागांत उत्तर ( निळ्या टोंकाचे ) गुण उत्पन्न होतील.

यावरून आतां गलबत बांधितांना त्याची नाळ ज्या दिशेस असते, ती दिशा व त्यावरील लोखंडावर मारिलेले हतोढ्याचे घांव यामुळे गलबतांत लोहचुंबकाचे धर्म कसे जागृत होतात, ते कळेल. हे धर्म गलबत तयार झाल्यावर त्याचे स्थित्यंतरामुळे, त्यावर आपटणाऱ्या लाटांमुळे, व खडकावर घांसल्यामुळे बरेच कमी होतात, तरी ते धर्म जोपर्यंत ते गलबत कायम आहे तोपर्यंत थोडेबहुत त्यांत राहतील, कधीच समूळ नाहीसे होणार नाहीत. गलबतामध्ये याप्रमाणे जागृत झालेले लोहचुंबकाकर्षण जे कोणत्याही बाह्य कारणांनी पुढे कमी होत नाही, त्यास थोडे दिवस

कायम राहणारें लोहचुंबकाकर्षण असें म्हणावें. तथापि विद्यार्थ्यांच्या हें लक्ष्यांत येईल कीं, एखादें नवें गलबत तयार होऊन बंदरांतून हाकारल्यावर त्याचे लोहचुंबका-कर्षणांत लाटांनीं वगैरे बराच फरक पडण्याचा संभव आहे.

यावरून लक्ष्यांत येईल कीं, गलबताचे बांधणींत उपयोग केलेलें लोखंड, त्यावरील दोऱ्यांत, नाड्यांत, डोलकाठ्यांत कामास लाविलेलें लोखंड, व त्यावर माल म्हणून भरलेलें लोखंड, या सर्व गलबतावरील लोखंडानें होकायंत्रांत फेरफार होऊन जी चुकी येते, तीस त्याचें विचलन म्हणावें. विचलन हें गलबत बांधतांना गलबतामध्ये वापरलेल्या मृदु लोखंडांत पृथ्वीच्या लोहचुंबकाकर्षणानें व त्यावर मारिलेल्या घावानें उत्पन्न होतें. याचे होकायंत्रावर जे परिणाम घडतात, त्यावरून त्यास अर्धवर्तुल विचलन व काटकोन विचलन अशीं नांवां दिलीं आहेत.

अर्ध वर्तुल विचलन हें गलबतांतील व गलबतावरील उभे लोखंडाचे भागांत उत्पन्न होतें, त्याचे सर्वांत अधिक परिणाम ज्या वेळेस गलबताचें नाळ मुख्य दिशेकडे असतें तेव्हां होतात.

काटकोन विचलन हें पृथ्वीच्या लोहचुंबकाकर्षणानें गलबतावरील क्षितिज-समांतर म्हणजे आडव्या लोखंडाचे भागांत उत्पन्न होतें.

ज्या वेळेस गलबताचें नाळ पूर्व पश्चिम व उत्तर दक्षिण यां मुख्य दिशांकडे असतें, तेव्हां याचा होक्यावर विशेष परिणाम होत नाही, परंतु ज्या वेळेस गलबताचें नाळ आग्नेय, वायव्य व

ईशान्य, नैर्ऋत्य या उपदिशांकडे असतें त्यावेळेस काटकोन विचलनाचे परिणाम विशेष घडतात.

यावरून गलबतावरील मृदु लोखंडाचे लांबट पदार्थावर पृथ्वी-जन्य लोहचुंबकाचे जे परिणाम घडतात ते उभ्या लोखंडावर अर्धवर्तुळ असतात, आणि आडव्या लोखंडावर काटकोन असतात हें लक्ष्यांत येईल.

गलबताचे हेलकावे खाणें—होकायंत्राचे विचलनांत गलबताच्या हेलकाव्यानेंही फेरफार होतो;

कारण हेलकावे जितके कमीजास्त असतील त्या मानानें उभे किंवा आडवें लोखंड तिरपें होतें. खलाशास हा फेरफार समजणें व त्याप्रमाणें होक्यांतील चुकी दुरुस्त करणें हें फार अगत्याचें आहे. कारण:—

( १ ) जसजसें लोह-चुंबक-विषुववृत्तापासून दूर जावें, तसतसे त्याचे परिणाम होक्यावर अधिक होतात, व लोह-चुंबक-विषुववृत्तावर ते कमी होतात; उत्तरगोलार्धातून दक्षिणगोलार्धांत जातांना व दक्षिणगोलार्धातून उत्तरगोलार्धांत जातांना त्याची दिशा बदलते. ( घनाचे ऋण व ऋणाचे घन होतात. )

( २ ) उत्तरगोलार्धांत जेथे बहुतकरून पश्चिमेकडील वारा वाहत असतो तेथें दक्षिणेकडे जाणाऱ्या गलबतास पूर्वेकडे नेण्याचा याचा कल असतो.

त्यानें गलबत स्पेन व पोर्तुगालच्या भयंकर किनाऱ्यावर जातें व हवेंत धुकें असल्यामुळें कंपासचे विचलन पाहण्यास साधन नसतें.

होकायंत्र ठेवण्याची जागा:—दोन अथवा अधिक होकायंत्रें एकमेकांस आकर्षितील इतकीं जवळ कधीं ठेवूं नयेत. तसेंच तें

गलबतावरील उभे व लांबटः लोखंडाचे पदार्थाजवळ ठेवू नये; याचें कारण उघड आहे कीं, एखादें जोरदार चुंबकाचे टोंकाचें आकर्षण कंपासाच्या पट्टीवर चालू होईल आणि गलबत जसजसें निरनिराळ्या दिशेनें फिरेल तसतसें अनियमित विचलन होका-यंत्रांत उत्पन्न होईल. लोहचुंबकाचा नियम कीं;—सारख्या नांवांचीं टोंके एकमेकांस दूर ढकलतात व निरनिराळ्या नांवांचीं टोंके एकमेकांस आकर्षितात, हा लक्ष्यांत ठेविला पाहिजे. त्या नियमप्रमाणें दोन होकायंत्रांची उत्तर टोंके एकमेकांस आकर्षितील अशी जवळ ठेविली व त्यांचे मध्य पूर्व-पश्चिम-दिशेत राहणाऱ्या लंब पातळींत ठेविले तर तीं एकमेकांस दूर लोटतील. त्यांची दक्षिण-टोंके हीं त्याचप्रमाणें एकमेकांस दूर लोटतील. याप्रमाणें तीं दोन होकायंत्रे थोडा वेळ समांतर राहतील. परंतु त्यांचा उत्तर दिशेकडे फिरण्याचा जोर कमी होईल. कारण त्यांचेमधील आकर्षण कमी होईल व त्यांत निरनिराळे फरक पडतील, आणि चुका होतील. जर एक कंपास स्थिर ठेविला आणि दुसरा त्याचे भांवतीं निरनिराळे कोन करून फिरविला तर त्याच्या मध्यें जे अनियमित फेरफार होतात, ते स्पष्ट रीतीनें दाखवितां येतील.

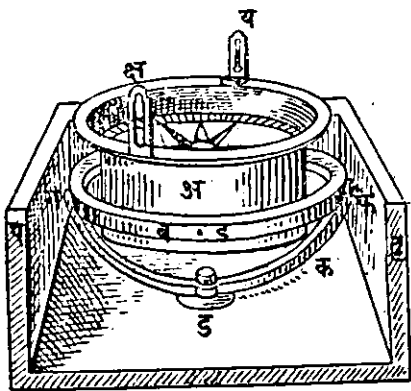
दिगंतरमापक होकायंत्र अथवा क्षितिजांतील कोन पाहण्याचा होका.—

क्षितिज-समांतर पातळींतील कोन पाहण्याचा होका:— याचा उपयोग जरी नाविक ज्योतिषांत मुख्यत्वेन करितात तरी त्याचें येथें थोडक्यांत वर्णन करितों. क्षितिजकोनमापक होकाग्रानें सूर्य अगार आकाशांतील इतर तारे, यांचे क्षितिजांतील उत्तर अगार दक्षिण निंदूपासून अंतर ज्यास (आक्षिप्य) उत्तरांतर अगार दक्षि-

णांतर म्हणतात ते, व त्यांचे उदयाचे वेळेस पूर्व दिशेपासून अंतर आणि अस्ताचे वेळेस पश्चिमबिंदूपासून अंतर ज्यास पूर्वांतर अगर पश्चिमांतर ( ऑफ्लिटयूड ) म्हणतात ते, मापितात.

खरें म्हटलें असतां हें क्षितिजांतील अगर क्षितिज—समांतर पातळींतील कोन मापणारें यंत्र होय. यांस दिगंतरमापकहोका म्हणावें. हे होके साधारण होक्याप्रमाणेंच केलेले असतात. प्रिझम्याटिक कंपास हा एक दिगंतरमापकहोका होय. व त्यांतील चुंबकपट्टी वगैरे बसविण्याची सर्व कृति होक्याप्रमाणेंच असते. त्याचे गंजिफेवर बहुतकरून दोन वर्तुळें असतात. व त्याचे वर अंश, कला वगैरे भाग दाखविलेले असतात. मुख्य दिशांचें अंतर मोजण्याकरितां एका वर्तुळावर उत्तर आणि दक्षिण बिंदूपासून अंश मांडिलेले असतात व दुसऱ्यावर पूर्वेपासून पश्चिम बिंदुपर्यंत अंश मांडिलेले असतात, त्यानें ऑफ्लिटयूड ( पूर्वांतर व पश्चिमांतर ) मापितात.

दुसऱ्या कित्येक कंपासावर बाहेरील वर्तुळाचेच १८० भाग



दिगंतरमापक होकायंत्र आ० १५ अ  
एक उभा केंस बसविलेला असतो.

केलेले असतात. उत्तरेस  
० शून्य असतें आणि द-  
क्षिणेस १८० असतात व  
पूर्व आणि पश्चिम बिंदूवर  
९० नव्वद अंश असतात.  
या होक्यास कोन पाहण्या-  
करितां दोन पट्या समोरा-  
समोर बसविलेल्या अस-  
तात. एका पट्टीच्या चिरेंत  
व दुसऱ्या पट्टीस फक्त चिर



असते. कोन मापतांना चिर अगर फट असलेल्या पट्टीमधून समोरच्या पट्टीतील केंस पाहावा. व ज्या पदार्थाचा दिगंतर-कोन पाहावयाचा असेल, त्या पदार्थाचे मध्य भागी तो केंस येईल असें होकायंत्र फिरवावें. हें यंत्र फिरवितांना गंजिफ फिरत नाही. कारण त्यांतील लोहचुंबकपट्टी, जीवर गंजिफ चिकट-विलेली असते, ती सदोदित उत्तर दक्षिणच राहते.

याप्रमाणें पाहणाऱ्याच्या डोळ्याजवळील पट्टीतील फट, केंस, व त्यानें दुभागलेला पदार्थ, हीं एका सरळ रेषेंत जेव्हां येतात, तेव्हांच डोळ्याजवळील फटीसमोर गंजिफेवर जो अंशाचा अंक मांडिलेला असतो तो पाहून लिहून ठेवावा. हा अंक, केंसासमोरील पदार्थ पाहतांना, एकदम दिसावा म्हणून किंत्येक होक्यांत फटीजवळ एक काटकोनतिकोनी बिलोरी कांच बसविलेली असते. अशा होक्यास प्रिझम्याटिक कंपास म्हणतात.

त्या कांचेंतून गंजिफेवरील अंशाचा अंक व वरील फटींतून केंसासमोरील पदार्थ हे एकदम दिसतात. याप्रमाणें सूर्याचे किंवा दुसऱ्या कोणत्याही पदार्थाचें उत्तरांतर किंवा पूर्वांतर जें पाहिजे तें पाहतां येतें. नाविक ज्योतिषावरून खरें दिशांतर काढितां येतें, तें प्रत्येक स्थळाचे होक्याचें चलन व गलबताचें विचलन मिळवून अगर वजा करून काढितात. गलबतावरील होक्याचें विचलन काढण्याची रीतिः—

मागें सांगितलें आहे की, होक्याचें चलन दाखविणारे नकाशे तयार केलेले असतात. त्यांस होक्याचे चलननकाशे म्हणतात.

त्यांवर सारखें चलन असणाऱ्या सर्व स्थलामधून रेषा काढलेल्या असतात. त्यांवरून खलाशी लोक आपलें गलबत पृथ्वीच्या पाठीवर कोठेही असलें तरी त्या स्थलाचा चलनकोन तो नकाशा पाहतांच शोधून काढितात. आतां होक्याचें चलन आणि विचलन मिळवून सर्व फेर अगर चूक कळली म्हणजे त्याचें विचलनही समजतें. होक्याची सर्व चूक अगर त्याचा एकंदर फेर हा नाविक ज्योतिषवेधानें काढितात; म्हणजे आकाशांतील सूर्य, तारे वगैरेचे कोन पाहून एकंदर फेर काढितात. त्यामध्ये त्या स्थळाचें चलन, त्या चलनकोन-नकाशावरून पाहिलेले, -मिळवून अगर वजा करून येईल तें विचलन होय. होक्याची एकंदर चूक अथवा फेर कित्येक साध्या रितींनीं काढितां येतो. त्यांतील एक रीति येथें सांगतो: -

उत्तर गोलार्धात माध्यान्ह काळीं सूर्य बरोबर दक्षिणेस असतो; म्हणून त्यावेळीं एक लांबसरळ लांकडी\* -पट्टी अगर आंखणी होक्याच्या मध्य बिंदूवर आडवी ठेविली, व तिचें एक टोंक बरोबर सूर्याकडे केलें तर ही पट्टी आणि होक्यावरील उत्तर दक्षिणदिशा यांच्यामध्ये जो कोन होतो, तो होक्याचा एकंदर फेर होय. तो लिहून ठेवावा; आतां दिशाचक्रावरील दक्षिण बिंदु जर सूर्याचे डावे बाजूस असला तर चूक पश्चिम दिशेस आहे; जर तो सूर्याचे उजवे कडेस असला तर चूक पूर्व दिशेस आहे. असें समजावें.

म्हणून जर आपणास खऱ्या उत्तर दिशेचें, होक्यावरून उत्तरां तर पाहिजे असेल तर पश्चिम चलन उजवेकडे व पूर्व चलन

\* ही पट्टी लांकडीच असावी. लोखंडी असल्यास ती हाक्यास आकर्षण करील.

डावकेडे धरलें पाहिजे, म्हणजे जर आपणास खरी उत्तर काढणे आहे व होक्याचें चलन दोन बिंदु पश्चिमेकडे आहे, तर होक्यावरून ती उत्तर दिशा N. N. E. ही होय. तसेंच जर होक्यावरील उत्तर बिंदु खऱ्या उत्तरेच्या डावे हाताकडे वळलेला दिसला तर चूक किंवा फेर पश्चिमेकडील आहे व उजवेकडे असेल तर चलन पूर्वेकडे आहे असें समजावें. होक्याचा एकंदर फेर समजला म्हणजे चलन किती व विचलन किती हें काढतां येणें शक्य आहे. होक्याचें विचलन, हें दिशाचक्रावरील प्रत्येक दिग्बिंदूस निरनिराळें असतें. होक्यावरील प्रत्येक दिशेचें विचलन काढण्याच्या पुष्कळ रीति आहेत. त्यांतील अतिसोपी रीति खाली दिलेली आहे. ( ती सदोदित अगदी बरोबरच असते असें नाहीं. ) ती अशी:—

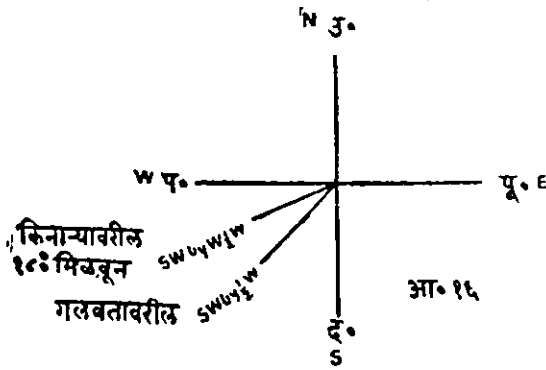
या रीतीत दोन खऱ्या होक्यांचा उपयोग करितात, एक खरा होका गलबतावर ठेवितात. व दुसरा किनाऱ्यावर ठेवितात. ते होके असे ठेविलेले असतात कीं, गलबत सभोंवार फिरविलें तरी प्रत्येक होका पाहणाऱ्या मनुष्यास दुसरा होका स्पष्ट दिसावा आणि प्रत्येक होक्याचें उत्तरांतर दुसऱ्या होक्यापासून पाहतां यावें. किनाऱ्यावरील होका कोणत्याही स्थानिक आकर्षक पदार्थापासून अलग असावा; म्हणजे त्यावर पृथ्वीशिवाय दुसऱ्या कोणत्याही पदार्थाचें आकर्षण चालूं नये. आणि त्यानें बरोबर चुंबक-याम्योत्तर दाखवावें. अशा व्यवस्थेने दोन्ही होके ठेविल्यानंतर होक्याचे दिशाचक्रावरील ३२ दिशांपैकी प्रत्येक दिशा-बिंदूकडे गलबताचें नाळ होईल असें गलबत फिरवितात. गलबत प्रत्येक दिशेकडे

फिरत असतानां ( सांकेतिक खुणा करून ) गलबतावरील होक्या नें जमीनवरील होक्याचें उत्तरांतर पाहतात व लिहून ठेवितात; व त्याच वेळेस जमिनीवरील होक्यानें गलबतावरील होक्याचें उत्तरांतर पाहतात, व लिहून ठेवितात. नंतर किनाऱ्यावरील होक्याचे प्रत्येक उत्तरांतरांत ( दोन्ही होक्यांचीं उत्तरांतरें एकाच दिशेनें पाहिलीं असतां काय येतील तें काढण्याकरितां ) १८० अंश मिळवून, तीं गलबतावरील होक्यानें पाहिलेल्या उत्तरांतरांशीं ताडून पाहतात. या दोन्ही उत्तरांतरांतील प्रत्येक दिशेचा फरक, तें त्या गलबतावरील होक्याचे, ज्या दिशेकडे गलबताचें नाळ असतांना तें उत्तरांतर पाहिलें असेल, त्या दिशेचें विचलन होय. या रीतीस कधीं कधीं होक्याचें परस्पर ( अरसपरस ) उत्तरांतर पाहून विचलन काढण्याची रीति असें म्हणतात. समजूतीकरितां उदाहरणानें याचें स्पष्टीकरण करूं या.

उ०—गलबताचें नाळ N. N. W. कडे असतांना, गलबतावरील होक्यानें किनाऱ्यावरील होक्याचें उत्तरांतर S. W.  $\frac{1}{2}$  W. इतकें आलें; व किनाऱ्यावरील होक्यानें गलबतावरील होक्याचें उत्तरांतर N. E. by E.  $\frac{1}{2}$  E. हें आलें; तर विचलन किती ?

किनाऱ्यावरील होक्याचे उत्तरांतरांत १८०° मिळवून दोन्ही उत्तरांतरें ताडून पहावी व विचलन किती आहे, तें पहावें; दोन्ही उत्तरांतरांतील अंतर तें विचलन होय. हें विचलन पूर्वे आहे किंवा पश्चिमेकडे आहे तें पाहण्याकरितां खालील आकृती काढावी:—

आतां Sw  $\frac{1}{2}$  W हे गलबतावरील होक्याचे उत्तरांतर हे दक्षिण



बिंदूपासून ४३ बिंदु उजवेकडे आहे. व किनाऱ्यावरील होक्याचे उत्तरांतर ५३ बिंदु दक्षिण बिंदूच्या उजवेकडे आहे. त्यांमधील

फेर पाहतां १ बिंदु हे विचलन आहे असे समजते, व खरे उत्तरांतर गलबताच्या उत्तरांतराच्या उजवेकडे आहे म्हणून विचलन हे पूर्वेकडील आहे. म्हणजे जेव्हां जेव्हां गलबताचे नाळ NNW या दिशेस असते तेव्हां तेव्हां गलबतावरील खऱ्या होक्याचे विचलन एक बिंदु पूर्वेकडे असेल ( ११  $\frac{1}{2}$  पूर्व. ) जर किनाऱ्यावरील होक्याचे उत्तरांतर, म्ह० खरे उत्तरांतर गलबतावरील होक्याच्या उत्तरांतराचे डावेकडे असते तर विचलन पश्चिमेकडील झाले असते. याप्रमाणे प्रत्येक दिशाबिंदूकडे गलबताचे नाळ फिरवून त्या दिशेचे विचलन बरोबर वर लिहिल्याप्रमाणेच काढितात. व दिशाचक्रावरील ३२ दिग्बिंदूंचे कोष्टक करून त्यापुढे प्रत्येक दिग्बिंदूचे विचलन खाली लिहिलेल्या कोष्टकाप्रमाणे लिहितात.

### विचलन कोष्टक.

यांतील पहिल्या घरांत गलबतावरील होक्याने दाखविलेल्या ज्या दिशेकडे गलबताचे नाळ असते ती दिशा दिली आहे. व दुसऱ्या घरांत त्या दिशेस नाळ असतां होक्याचे विचलन किती तें दिलें आहे.

होकर्यावरून नाळेची दिशा.	विचलन.	हो० ना० दि०	विचलन.	हो० ना० दि०	विचलन.	हो० ना० दि०	विचलन.
N.	२-३०' पू.	E.	६-४० पू.	S.	२-४५' W.	W.	८-०' प०
N. by E.	३-४०'	E. by S.	५-४०'	S. by W.	३-५०'	W. by N.	७-४०'
N. N. N.	५-४०'	E. S. E.	४-४०'	S. S. W.	५-२०'	W. N. W.	६-४०'
N.E by N.	६-५०'	S. E. by E.	३-४०'	S. W. by S.	६-०'	N.W. by W.	५-४०'
N.E.	८-०'	S. E.	२-०'	S. W.	६-३०	N. W.	४-३०
N.E. by E.	८-१०'	S. E. by S.	१-०'	S.W. by W.	७-३०	N.W. by N.	३-१०
E. N. E.	७-२०'	S. S. E.	०-३०' W.	W. S. W.	७-४९	N. N. W.	१-५०
E. by N.	७-३५'	S. by E.	१-३०'	W. by S.	८-१०	N. by W.	०-४० E.

**नियमः—**दोन होक्यांच्या परस्पर उत्तरांतरावरून विचलन काढण्यास, किनाऱ्यावरील होक्याचे उत्तरांतरांत १८० मिळवून गलबतावरील होक्याच्या उत्तरांतराशी तें ताडून पाहून फेर काढावा; नंतर एकमेकांशी काटकोन करणाऱ्या दोन रेषा काढाव्या, त्या दोन रेषांची चार टोंके हे चार मुख्य दिशाबिंदु समजावे व तीं निर. निराळीं उत्तरांतरें दाखविणाऱ्या दोन रेषा काढाव्या, आणि आपण होक्याच्या मध्यभागी आहों अशी कल्पना करावी; नंतर जर किनाऱ्यावरील म्हणजे खरें उत्तरांतर गलबतावरील उत्तरांतराच्या उजवीकडे असेल तर विचलन पूर्वेकडे आहे, व डावीकडे असलें तर विचलन पश्चिमेकडे आहे असें समजावें.

**होक्याचें चलन व विचलन यावर प्रश्नः—**

( १ ) होक्याचें चलन म्हणजे काय व विचलन म्हणजे काय ? तें स्पष्ट करून सांगा.

( २ ) चलन, विचलन, व स्थानिक आकर्षण यांच्या व्याख्या सांगा. चलन कशावर अवलंबून असतें व तें कोणत्या नियमित प्रकारानें बदलतें तें थोडक्यांत सांगा.

( ३ ) चलन व विचलन यांत फेर काय व विचलन कसें काढावें तें सांगा.

( ४ ) लोखंडाचे गलबतावरील होक्याचें विचलन मुख्यत्वे कोणत्या कारणांनीं होतें ?

# भाग तिसरा.

—:\*:—

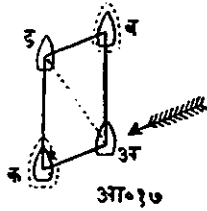
[ गमनमार्गातील चुकी सुधारणे म्हणजे होक्याने दाखविलेल्या गमन-मार्गातील फेर काढणे हा एक नौकानयनांतील मुख्य भाग आहे. ]  
निवाऱ्याकडील कोन- ज्या वेळीं गलबत शीड चढवून वाऱ्याच्या बहुतेक समोर जात असतें म्हणजे तें वाऱ्याशीं जवळ जवळ सहा दिग्विंदु इतका ( ६ ७—३०' चा ) कोन करितें, ( कारण त्याहून लहान कोन करून वाऱ्यासमोर गलबतास शीड चढवून नेतांच येणार नाही. ) त्यावेळीं गलबताचे बाजूवर व शिडांवर जो वाऱ्याचा जोर लागतो, व त्याचे बुडावर समुद्राच्या लाटांचा जो वेग लागतो, त्याच्यायोगाने गलबत निवाऱ्याकडे जात असतें. म्हणजे जिकडून वारा येतो त्याचे उलट दिशेस जात असतें, त्यामुळे गलबताचें नाळ ज्या दिशेस असतें त्याच दिशेनें गलबत बरोबर जात नाही; परंतु थोडेंसें ती दिशा सोडून जाते. गलबत आपला मार्ग सोडून जितकें दूर जातें त्याला गलबताचें निवाऱ्याकडे जाणें अथवा विमार्गगमन म्हणावें. खरें म्हटलें तर गलबत नेण्याची दिशा व गलबत खरोखरी ज्या दिशेनें जातें ती दिशा, यांच्यामधील जो कोन त्यास विमार्गगमनकोन अथवा निवाऱ्याकडील कोन म्हणावें; किंवा आपण गलबत ज्या दिशेनें नेण्याचा प्रयत्न करितों ती दिशा व वारा आणि लाटा यांच्या जोराने खरोखर तें ज्या दिशेनें जातें ती दिशा,



यांच्यामधील कोनास गलबताचा विमार्ग-गमन-कोन अथवा निवाऱ्याकडे जाण्याचा कोन ( आडमार्गाने जाण्याचा कोन ) असे म्हणावे हा निवाऱ्याकडे जाण्याचा कोन लहान अगर मोठा असणे हे गलबताच्या दोऱ्या व नाडे, त्यावरील एकंदर व्यवस्था व ठाकठिक, त्यावरील शिडे व गलबताचा पाण्यांत बुडालेला भाग, वगैरे गोष्टींवर अवलंबून असते. जर वारा साधारण जोराचा असला तर बहुतकरून गलबत ज्या मार्गाने जावयाचे असेल त्याच मार्गाने जाईल. परंतु गलबत फार हळू चालत असले व गलबताच्या बाजूवर अगर समोरून तिरकस लाटा येत असल्या तर मात्र ते आडवाटेने जाईल, म्हणजे आपण ज्या दिशेवर सुकाणू लावून गलबत नेऊ पाहतो त्या दिशेस न जातां लाटांनीं वाऱ्याच्या उलट दिशेस जाईल. पूर्वी गलबतावर जितकी शिडे उभारित असत त्या मानाने निवाऱ्याचा कोन घेत असत. परंतु हल्लीं तो कोन निराळ्या रीतीने काढितात ती रीति अशी:—

गलबताच्या पाठीमागील तक्तपोशीवर एक वर्तुळपाद किंवा वर्तुळ-चतुर्थांश काढितात. त्याच्या मध्यांतून त्या वर्तुळपादावर फिरेल अशी एक त्रिज्या बसवितात. त्या त्रिज्येच्या शेवटास एक खांचणी बसवितात; तिजमध्ये बुडीदची दोरी येते. जेव्हां बुडीद वर उचलतात तेव्हां तिची दोरी त्या खांचणीत कांहीं वेळ ठेवितात आणि नंतर बुडीद वर ओढितात. त्रिज्येच्या खांचणीत बुडीदची दोरी आली म्हणजे ती त्रिज्या त्या वर्तुळपादावर विमार्गगमनकोन ( आडमार्गाचा कोन ) दाखविते.

खरा गमनमार्ग काढितांना विमार्गकोन सदोदित वाऱ्याच्या उलट दिशेचा असतो. वाऱ्याने गलबत कोणच्या दिशेकडे जाईल तें लक्ष्यांत आणून त्याप्रमाणें विमार्गकोन वजा करावा अगर मिळावा. म्हणजे खरा गमनमार्ग कोन निघेल.



अ ठिकाणी एक गलबत आहे, ( आ० १७ पहा. ) व तें अ व दिशेने शीड चढवून जात आहे. वारा ईशान्य आणि उत्तर यांच्या मधील दिशेने म्हणजे E. N. E. या दिशेने येत आहे असे समजा. आतां वारा मुळीच नसता तर तें गलबत एका तासांत अ पासून व पर्यंत गेलें असतें व त्यास वारा नेईल तिकडेच जाऊं दिलें असतें तर एका तासांत तें अ पासून क पर्यंत गेलें असतें असे समजा. यंत्रशास्त्राच्या मूलतत्त्वावरून ह्या दोन्ही गति एकदम त्या गलबतास मिळाल्या असतां तें एका तासाचे शेवटी व एथेही जाणार नाही किंवा क येथेही जाणार नाही. परंतु अडमार्गानें ड येथें जाईल. व अड मार्ग हा अ व ड क या पुरा केलेल्या समांतर-भुज चौकोनांचा कर्ण होईल. व अ व आणि अ क या गती दाखविणाऱ्या त्या चौकोनांच्या लगतच्या दोन बाजू होतील. म्हणून ( लीवे ) अडमार्गाचा कोन हा वाऱ्याच्या उलट दिशेने धरला पाहिजे. जर वारा गलबताच्या उजवे बाजूने ( स्टार बोर्ड ) येत असेल तर विमार्गकोन डावे बाजूकडे घरावा व जर तो वारा डावे ( पोर्ट ) बाजूकडून येत असेल तर विमार्गकोन उजवे बाजूकडे घरावा.

जेव्हां वारा बरोबर गलबताचे पाठीमागून येतो तेव्हां त्यास पाठचा वारा ( आफ्ट विंड ) असे म्हणतात.

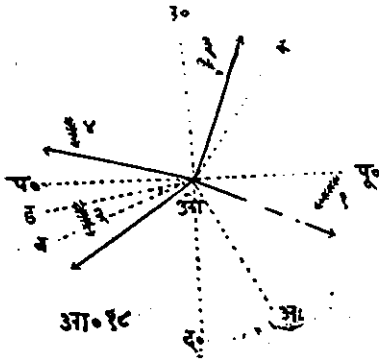
खालील उदाहरणें सोडवितांना होक्यानें दाखविलेल्या दिशेवरून खरा गमन मार्ग काढण्याकरितां सांगितलेला गमनमार्ग उत्तरेच्या अथवा दक्षिणेच्या उजवे अगर डावे बाजूस जितके दिशा-बिंदू अथवा अंश असेल तें लिहा.

नंतर पहिल्यानें विमार्ग-गमनकोन किंवा आड मार्गानें जाण्याचा कोन वाऱ्याच्या उलट दिशेनें वजा करावा अगर मिळवावा नंतर पूर्वेकडील चलन उजवेकडे घरावें व पश्चिमेकडील डावेकडे वजा करावें. विचलनही त्याचप्रमाणें वजा करावें अगर मिळवावें.

टीप—चलन व विचलन हीं जर एकाच बाजूचीं असलीं तर त्यांची बेरीज करून तीं एकदम वजा करावीत अगर मिळवावीत व जर तीं एकमेकांच्या उलट दिशेचीं असतील, तर त्यांची वजावाकी करून नंतर वाकी बाद करावी अथवा मिळवावी.

### उदाहरणें:—

( अ ) उदाहरण:—( १ ) लें. एक गलबत E.S.E. या



होकायंत्राच्या दिशेनें जात आहे. चलन व विचलन मिळून  $२\frac{३}{४}$  बिंदू पूर्वेकडे आहे. वारा ( N. E. ) ईशान्य दिशेचा आहे. व त्यानें  $\frac{३}{४}$  बिंदूइतका आड-मार्ग कोन होत आहे; तर खरा गमनमार्ग कोणता तें सांगा:—

आतां होकायंत्रानें दाखविलेला गमनमार्ग E. S. E. हा सहा दिग्बिंदु किंवा  $६७-३०'$  दक्षिणेच्या डावीकडे, आहे म्हणून.

होक्यावरून गमनमार्ग  $६७-३०'-०''$  द० डावेकडे  
 विमार्गकोन  $\frac{३}{४}$  बिंदु वजा  $= \underline{८-२६'-१५''}$  द० उजवीकडे  
 $५९-३'-४९''$  द० डावेकडे  
 चलन व विचलन }  $= \underline{३०-५६'-१५''}$  द० उजवीकडे  
 मिळून  $२\frac{३}{४}$  बिंदु }

म्हणून खरा गमनमार्ग  $२८-७'-३०''$  द० डावेकडे  
 म्ह० पूर्वेस.

टीप—( १ ) या उदाहरणांत गमनमार्ग E. S. E. आग्नेय व पूर्व यांच्यामध्ये आहे, म्हणजे होक्याच्या गंजिकेच्या मध्यबिंदूशी उभे राहून दक्षिणेकडे तोंड केले अशी कल्पना केली असतां, E. S. E. हा गमनमार्ग दक्षिणेच्या डावीकडे ६ बिंदु आहे. व वारा ( N. E. ) ईशान्य दिशेने येतो तो अर्थात् गलबतास दक्षिणेकडे नंबर १ च्या बाणाच्या दिशेने नेईल. म्हणून खरा गमनमार्ग काढतांना आपण निवाऱ्याचा कोन वजा केला पाहिजे. ( आ० १८ पहा. )

चलन व विचलन मिळून  $२\frac{३}{४}$  बिंदु पूर्वेस इतकी होक्याची एकंदर चुकी आहे म्हणजे होक्याचा उत्तरबिंदु  $२\frac{३}{४}$  बिंदूइतका खऱ्या उत्तरेच्या पूर्वेस किंवा उजवेकडे आहे. म्हणून खरा गमनमार्ग काढण्यास आणखी दक्षिणेकडे गेले पाहिजे म्हणून चलन व विचलन मिळून  $३०-३६'-१५''$  इतके वजा करून खरा गमनमार्ग दक्षिणेच्या डावेकडे  $२८-७'-३०''$  इतका आला.

( ब. ) उदाहरण ( २. रें. ).. होक्याने दाखविलेला गमनमार्ग किंवा गमनदिशा S. W. बाय W. म्हणजे नैऋत्येपासून पश्चि-

मेस एक बिंदु आहे; चलन  $१\frac{३}{४}$  बिंदु E. म्ह. पूर्वेकडे आहे, विचलन  $१४^{\circ}$  पूर्वेकडे आहे; व वारा N. N. W. म्ह. वायव्य व उत्तर यांच्या मधील दिशेने वाहतो आहे, व तो  $१\frac{३}{४}$  बिंदूइतका विमार्गकोन करित आहे; तर खरा गमन मार्ग कोणता ते सांगा.

होक्यावरून गमनमार्गाची दिशा W. S. by W. म्हणजे दक्षिणेकडून पश्चिमेस ५ बिंदु=५ बिंदु द० उजवेकडे विमार्ग गमनकोन ....  $१\frac{३}{४}$  बिंदु द० डावेकडे वजा करून, गमनमार्ग द० प०  $३\frac{३}{४}$  बिंदु द० उजवेकडे  
 ....  $३\frac{३}{४}$  बिंदु=  $४२-११'-१९''$  द० उ०  
 चलन  $१९-४१'-१९''$  }  
 विचलन  $१४-०'-०''$  } =  $३३-४१'-१९''$  द० उ०  
 पूर्वेस  
 म्हणून खरा गमनमार्ग  $७९-५२'-३०''$  द० उ०  
 म्ह० पश्चिमेस.

म्हणून खरा गमनमार्ग— $७९-५२'-००''$  पश्चिमेकडे

टीप—( ब ) ह्या उदाहरणांत गलबत आपल्या होक्यावरून S. W. by W. म्हणजे दक्षिणेकडून उजवीकडे म्ह० पश्चिमेस ५ बिंदु ह्या गमनमार्गांने जाते; आपण निवाऱ्याचा कोन डावेकडे धरता; कारण गलबतांच्या डावे बाजूवर वारा लागून तो गलबतास अधिकच दक्षिणेकडे नेतो. कारण वारा NNW. या दिशेने येत आहे म्हणजे आकृतीत २ नंबरच्या बाणानें दाखविलेल्या दिशेने येत आहे, व तो गलबतास दक्षिणेकडे नेत आहे; म्हणून निवाऱ्याचा कोन वजा करावा. चलन  $१\frac{३}{४}$  बिंदु पूर्वेकडे आहे म्हणजे होक्याचा उत्तर बिंदु पूर्वेकडे गेला आहे; म्हणून चलन उजवे बाजूस मिळविलें पाहिजे म्हणजे पश्चिमेजवळ गमनमार्ग जाईल. विचलन ही

अगदीं याचप्रमाणें मिळवावयाचें. येथें चलन व विचलन दोन्ही एकाच दिशे-  
कडील म्हणजे पूर्वेकडील असल्यामुळें आपण त्यांची बेरीज करितों व ती  
उजवेकडे मिळवितों. यावरून स्पष्ट होतें कीं, हें गलबत आपल्या होक्यावरून  
जरी  $५६^{\circ}-१५'$  ( S. W. W. ) या दिशेनें जातें तरी तें खरोखर दक्षिणे-  
कडून  $७५^{\circ}-५२'-३०''$  इतके पश्चिमेकडे जातें म्हणून हा त्याचा खरा गमन-  
मार्ग होय. ही दिशा आकृतीत “ व ” रेषेनें दाखविली आहे.

उदाहरण—( ३ ) रें. एक गलबत होकार्यत्रावरील N. N. E.  
म्ह० उत्तर व वायव्य यांच्या मधील दिशेनें जाण्याचा यत्न करित  
आहे. होक्याचें चलन  $२\frac{३}{४}$  बिंदु पश्चिमेकडे आहे व विचलन  $१६^{\circ}-$   
 $८'$  (E.) पूर्वे दिशेकडे आहे. वारा (N. W.) वायव्य दिशेकडचा आहे.  
व त्यामुळें गलबत २ दोन दिग्बिंदूंचा कोन करून आडमार्गानें जात  
आहे. तर यावरून खरा गमनमार्ग काढा.

होक्यानें दाखविलेला मार्ग N. N. E. म्हणजे उत्तरेच्या उ-  
जवेकडील २ बिंदू N. २ उ.—उजवीकडे

विमार्गकोन—N. २ उ.—उजवीकडे

जाण्याचा मार्ग N. ४. उ. उजवीकडे

म्हणजे=उत्तरेच्या— $४९^{\circ}$ —०' पूर्वेस म्ह०

चलन  $२५^{\circ}-१९'$  पश्चिमेकडे } अंतर  $९^{\circ}-११'$  पश्चिमेकडे  
विचलन  $१६^{\circ}-८'$  पूर्वेकडे } म्ह० उ० डा०

म्हणून खरा गमनमार्ग  $३९^{\circ}-४९'$  उत्त. उजवे०

म्हणजे उत्तरेकडून  $३९^{\circ}-४९'$  पूर्वेकडे.

टीप—( क ) ह्या उदाहरणांत गलबत आपल्या होक्यावरून N. N.  
E. ह्या दिशेनें जातें, म्हणजे उत्तरेच्या दोन बिंदु उजवे वाजून जातें. वारा  
( ३ ) या वाणानें दाखविल्याप्रमाणें N. W. वायव्य दिशेनें येतो म्हणजे

तो गलबताच्या डावे वाजूर लागून गलबतास अधिक पूर्वेकडे नेतो. म्हणजे तो कोन अधिक मोठा होतो. म्हणून आपण निवाऱ्याकडील कोन मिळविला पाहिजे, म्हणजे खरा गमनमार्ग  $४५^{\circ}$  ईशान्य दिशा हा आला. आतां चलन  $२\frac{१}{४}$  बिंदु पश्चिमेस आहे व विचलन  $१६^{\circ}-८'$  पूर्वेस आहे. ही निरनिराळ्या दिशेची असल्यामुळे त्याचें अंतर  $९^{\circ}-११'-०''$  हें मोठ्या रकमेकडील म्हणजे पश्चिमेकडील झालें; ही होक्याची एकंदर चुकी होय. ही आपण ईशान्य N. W. दिशेच्या पश्चिमेकडे ( म्हणजे डावीकडे ) लावितों म्हणजे वजा करून गमनमार्ग-कोन लहान करितों. यावरून खरा गमनमार्ग उत्तरेकडून  $३५^{\circ}-४९'$  पूर्वेस हा होय. व तो ( क ) ह्या रेषेनें दाखविला आहे.

उदाहरण—( ४ ) थें. होक्यानें दाखविलेला गमनमार्ग W. by N. म्हणजे पश्चिमेकडून उत्तरेकडे एक बिंदु आहे, चलन दोन बिंदु पूर्वेकडे आहे; विचलन  $२१^{\circ}$  पश्चिमेकडे आहे व विमार्गकोन ( आडवाटेनें जाण्याचा कोन ) दोन बिंदु आहे व वाऱ्याची दिशा उत्तरेकडून एक बिंदु पश्चिमेकडे आहे. यावरून खरा गमनमार्ग काढा.

W. by N. पश्चिमेकडून उत्तरेकडे एक बिंदु म्हणजे उत्तरेच्या डावीकडे ७ बिंदु.  $=७८^{\circ}-४५'-०''$  उ०

डावेकडे

निवाऱ्याकडील कोन २ बिंदु.  $=२२^{\circ}-३०'-०''$  उ. डा.

गमनमार्ग

$१०१^{\circ}-१९'-०''$  उ. डा.

चलन  $२२^{\circ}-३०'$  पूर्व E.

विचलन  $२१^{\circ}-०'$  पश्चिम. W.

} अंतर  $१^{\circ}-३०'-०''$  उ.

उजवीकडे

$९९^{\circ}-४९'-०''$

हा  $१८०$  त वजा केला

$१८०-०'-०''$

म्हणून खरा गमनमार्ग

$८०-१९'-०''$

दक्षिणेच्या उजवेकडे

अथवा दक्षिणेकडून पश्चिमेकडे  $८०^{\circ}-१९'-०''$

टीप--वरील उदाहरणांत निवान्याकडील कोन मिळविल्यानंतर चलन विचलन मिळून एकंदर चुकी वजा केली. व गमनमार्ग ९० पेक्षां अधिक आला म्हणजे, आपण उत्तरेकडून पश्चिमेच्या पलीकडे गेलों व दक्षिणेच्या जवळ आलों म्हणून १८०° मधून गमनमार्ग वजा केला व दक्षिण दिशेपासून मोजिलें म्हणजे दक्षिणेकडून ८०°-१५' पश्चिमेकडे हा खरा गमनमार्ग आला.

(ई) उदाहरण ( ९ ) वें. एक गलबत होक्यानें दाखाविलेल्या N. W  $\frac{1}{2}$  W. दिशेनें जात आहे. होक्याचें चलन २  $\frac{1}{2}$  बिंदु पश्चिमेकडे आहे. वारा नैर्ऋत्य ( S.W. ) दिशेचा आहे. विमार्गकोन  $\frac{1}{2}$  बिंदु आहे व विचलन ५  $\frac{3}{4}$  पूर्वेकडे आहे, यावरून गलबताचा खरा गमनमार्ग काढा.

होक्याची दिशा उ० ४  $\frac{3}{4}$  बिंदु पश्चिमेकडे अथवा डावेकडे  
विमार्गकोन उ०  $\frac{1}{2}$  बिंदु उजवेकडे

∴ गमनमार्ग उ० ४  $\frac{3}{4}$  बिंदु पश्चिमे० म्ह० ९०-३७'-३०"-उ. डा.  
चलन २५-१८'-४९" डावेकडे } अंतर १९-३८'-४५" उ. डा.  
विचलन ९-४०'-०" उजवेकडे } ७०-१६'-१५ उ. डा.

∴ खरा गमनमार्ग उत्तरेकडून ७०-१६'-१५" पश्चिमेकडून हा होय.

टापि ( ३ ) या उदाहरणांत वारा डावे वाजूचा आहे व तो गलबतास उत्तरेकडे नेत आहे म्हणजे गमन मार्ग कोन लहान करित आहे म्हणून आपण तो होक्याच्या गमन मार्गातून वजा केला पाहिजे. चलन व विचलन निरनिराळ्या दिशेची असल्यामुळे त्यांची वजावाकी करून एकंदर चुकी १९°-३८'-४५" पश्चिमेकडील आली ती मिळविली असतां खरा गमन मार्ग उत्तरेकडून ७०°-१६'-१५' पश्चिमेस आला.

पुढें दिलेल्या होक्यावरील गमनमार्गावरून खरे गमनमार्ग काढा:-



अ०नं०	होक्थावरलि गमन मार्ग.	चलन.	विचलन.	वाच्याची दिशा.	लिवे कोन.	खरा गमनमार्ग.
१	N. उत्तर.	२३° पश्चिम.	४°-१५' पूर्व E.	S. by E.	०	उत्तरेकडून १८°-४५' पश्चि
२	W. N. W.	२ बिंदु E. पूर्व.	८° W. पश्चिम.	S. W. नैर्ऋत्य.	२ बिंदु	उ० ३०°-३०' पश्चिमेस.
३	N. E. by E.	१ $\frac{३}{४}$ बिंदु पूर्व.	१८° पूर्व	S. E. by E. आग्नेयेकडून पूर्वेकडे १ बिंदु	२ बिंदु.	उ० ७१°-२६'-१५" पूर्वेस.
४	S. S. E.	२७°-३७' पूर्व	५° पश्चिम.	S W.	१ $\frac{३}{४}$ बिंदु.	द० १६°-५२'-३०" पूर्वेस.
५	दक्षिण.	११°-१५ पश्चिम.	६° पश्चिम.	E. S. E.	३ बिंदु.	द० ८°-४८'-४५" पूर्वेस.
६	W. by N.	१८° पूर्वेस	६°-४५' पश्चिम.	S. S. W.	१ बिंदु.	उ० ५६°-१५'-०" पश्चिम.
७	E. N. E.	३ बिंदु पश्चिम.	१८°-३०' पूर्व.	S. E.	३ बिंदु.	उ० ४६°-३७'-३६" पूर्व.
८	S. E. $\frac{३}{४}$ E.	२२°-३०' पश्चिम.	४-१५' पूर्व.	S. S. W.	१ $\frac{३}{४}$ बिंदु.	द. ८५°-४५'-०" पूर्व.
९	E.	१८°-४५' पूर्व.	१६°-५३' पूर्व.	N. N. E.	२ बिंदु.	द. ३१°-५२'-०" पूर्व.
१०	N. W. by W.	२५° W.	५°-१५' पश्चिम.	N. by E.	१ $\frac{३}{४}$ बिंदु.	द. ७३°-४८'-४५" पश्चिम.
११	E. by S. $\frac{१}{२}$ S.	२ $\frac{३}{४}$ बिंदु पूर्व.	१३°-२०' पूर्व.	दक्षिण	$\frac{३}{४}$ बिंदु.	द. ३७°-१७'-३०" पूर्व.
१२	W.	१ $\frac{३}{४}$ बिंदु W.	८° W.	N. N. w.	२ $\frac{३}{४}$ बिंदु.	द. ३९°-४८'-४५" पश्चिम.

( १३ ) एक गलबत आपल्या होक्यावरून S. S. W. या दिशेने जाते. होक्याची चुकी पूर्वेकडे १ बिंदु इतकी आहे यावरून खरा गमनमार्ग काढा. उत्तर— S. W. by S.

( १४ ) समुद्रामधून इंग्लिश खाडीमध्ये येत असतां उत्तर-ध्रुव  $२८^{\circ}$  अंश पश्चिमेकडे दिसला तर चलन व विचलन मिळून होक्याची चुकी किती ? उत्तर—  $२८^{\circ}$  अंश पूर्वेकडे.

( १५ ) मागील उदाहरणांत चलन  $२२^{\circ}$ — $३०'$  पूर्वेकडे होतें तर विचलन काय ? उत्तर—  $५^{\circ}$ — $३०'$  पूर्वेकडे.

( १६ ) समुद्रावरून एडीस्टोन दीपगृहाचे उत्तर अंतर गलबतावरील होक्यावरून N. E. by E  $\frac{1}{4}$  E. आणि होक्याची चुकी  $१\frac{1}{2}$  दिग्बिंदु पश्चिमेकडे होती. यावरून खरें उत्तरांतर किती तें सांगा. उत्तर— N. E.  $\frac{1}{4}$  N.

( १७ ) एक गलबत आपल्या कंपासानें पूर्वेकडून दक्षिणेकडे १ बिंदु या दिशेने चालते. होक्याची चुकी २ दिग्बिंदु पश्चिमेकडे इतकी आहे. वारा दक्षिणेकडून येत आहे. निवाऱ्याचा कोन  $१३$  बिंदु इतका आहे यावरून खरा गमनमार्ग काढा. उत्तर— N. E. by E.  $\frac{1}{4}$  E.

( १८ ) आपल्या होक्यावरून एक गलबत बरोबर दक्षिण-दिशेने जात आहे. वारा W. S. W. या दिशेने वाहत आहे व त्यामुळे  $३$  बिंदु इतका निवाऱ्याचा कोन ( लीवे ) होत आहे. चलन १ बिंदु पूर्वेकडे विचलन  $३$  बिंदु पश्चिमेकडे आहे. यावरून खरा गमनमार्ग काढा. उत्तर— S.

खऱ्या गमनमार्गावरून होक्यावरील दिशा काढणें—जेव्हां गलबत बंदरांतून हाकारावयाचें असतें तेव्हां नाखवा आपला नकाशा पाहतो व त्यावरून गमनमार्ग काढतो. परंतु होका बहुतकरून खरी दिशा दाखवित नाहीं म्हणून नाखऱ्यास आपले होक्याचें चलन व विचलन काढून आपले होक्यावरील कोणत्या दिशेनें गलबत चालवावें हें पहावयाचें असतें. आपले होक्यावरील हा गमन-मार्ग काढण्याकरितां त्यास मागें सांगितलेल्या कृतीच्या उलट कृति करावी लागते. पूर्वेकडील चलन डावे बाजूस समजावें व पश्चिमेकडील उजवे बाजूस समजावें लागतें आणि वाऱ्यामुळें आडवाटेनें जाण्याचा कोन अदमासानें काढून तो वाऱ्याकडेच धरावा लागतो. परंतु विचलन काढतानां, गलबताचें नाळज्या दि-शेनें फिरेल त्याच दिशेचें त्या गलबताचें विचलन पाहून, तें ध्यावें लागतें हें लक्षांत ठेविलें पाहिजे.

उदाहरणार्थ, असें समजा कीं, केप लिझार्डपासून एक मनुष्य नैर्ऋत्य ( S. W. ) दिशेस आपलें गलबत हाकारण्यास इच्छितो. त्यास माहित आहे कीं, त्या स्थळीं कंपासाचें चलन ( $20^{\circ}-1'$ ) वसि अंश आठ कला पश्चिमेस आहे व त्याचे गलबतावरील होक्याचें विचलन  $11^{\circ}-15'$  अकरा अंश व पंधरा कला पूर्वेस आहे. व त्या वेळेस गलबताचें नाळ नैर्ऋत्य दिशेकडून पश्चिमेकडे  $1\frac{3}{4}$  बिंदु आहे, व चलन लक्षांत घेतलें तर हीच गमनदिशा अदमासें निघते. वारा वायव्य दिशेचा वाहत आहे म्हणून आडवाटेनें जाण्याचा कोन तो  $\frac{3}{4}$  बिंदु धरितो; तर आतां त्याचे होक्यावरून कोणत्या गमनमार्गानें त्यानें जावें तें पाहूं:—

खरा गमनमार्ग ४ अर्धदुर्ग =  $४९^{\circ}-०'-०''$  दक्षिणच्या उजवीकडे.

चलन  $२०^{\circ}-८'-०''$  द० उजवे बाजूस

$६९^{\circ}-८'-०''$  द. उजवीकडे

विचलन  $११^{\circ}-१९'-०''$  द० डावे बाजूकडे.

म्हणून होक्यावरील गमनमार्ग.  $५३^{\circ}-५३'-०''$

आतां यावरून लक्षांत येईल कीं, हा जो नवीन गमनमार्ग निघाला त्या मार्गाकडे गलबताचे नाळ फिरविलें तर त्याचे विचलन फक्त  $७^{\circ}$  पूर्वेकडे आहे. म्हणजे पहिल्यापेक्षा  $४^{\circ}-१५'$  कमी आहे. म्हणून तो जर या नव्या दिशेने ( द.  $५३^{\circ}-५३'$  प. ) पश्चिमेकडे जाईल तर तो फक्त दक्षिणेकडून  $६०^{\circ}-५३'-०''$  पश्चिमेकडे या दिशेने जाईल. व त्यास द.  $६५^{\circ}-८'-०''$  पश्चिम या दिशेने जावयाचे आहे. ही जी त्याने  $४३^{\circ}$  अशांचा चूक केली त्यामुळे त्याला कदाचित् मोठ्या धोक्यांत पडावे लागेल. याकरितां त्याने बरोबर विचलन काढण्यासाठीं होक्याचा गमनमार्ग जो निघेल त्या मार्गाकडे गलबताचे नाळ असले म्ह० त्याचे विचलन काय असते तें बरोबर पहावे व तें विचलन धरिलें असतां इष्ट गमनमार्ग निघे तोंपर्यंत तें गणित फिरून फिरून करावे. हें प्रमाण गणितानें म्हणजे त्रैराशिकानेंही काढितां येते, परंतु अदमासानें काढणें हें सोपें आहे. अदमासानें जो गमनमार्ग येईल त्या मार्गाचे विचलन, कोष्टकांत पाहून तें विचलन लाविलें असतां इष्ट गमनमार्ग निघतो कीं नाहीं तें पाहावे व इष्ट गमनमार्ग निघे तोंपर्यंत फिरून फिरून तेंच गणित करावे.

उदाहरण:—विचलनकोष्टक:—

## विचलनकोष्टक.

अंश.	होकर्यावरून नाळेची दिशा	विचलन.	हो० ना० दिशा, विचलन.
३६०°	N.	२° W.	S. ०°
११°-१४'-०	. by E.	४° E.	S. by W. ४° W.
२२°-३०'	N. N. E.	६° E.	S. S. W. ५° W.
३३°-४५'	NE. by E.	८° E.	S. W. by S. ९° W.
४५°-०	N. E.	१२° E.	S. W. १२° W.
५६°-१५'	NE. by E.	१३° E.	S. by W. १७° W.
६७°-३०'	E. N. E.	१६° E.	W. S. W. २३° W.
७८°-४५'	E. by N.	२०° E.	W. by S. २८° W.
९०°-०	E.	२२° E.	W. ३०° W.
७८°-४४'	E. by S.	२२° E.	W. by N. २९° W.
६७°-३०'	E. S. E.	२०° E.	W. N. W. २६° W.
५६°-१५'	S. E. by E.	१७° E.	N. W. by W. २१° W.
४५°-०	S. E.	१४° E.	N. W. १६° W.
३३°-४५'	S. E. by S.	११° E.	N. W. by N. ११° W.
२२°-३०'	S. S. E.	६° E.	N. N. W. ९° W.
११°-२५'	S. by E.	३° E.	N. by W. ५° W.

**उदाहरणः—**एका खलाशास खऱ्या उत्तरेच्या पश्चिमेकडे  $४०^{\circ}-०'$  असलेल्या बेटास जावयाचें आहे; चलन  $२५^{\circ}$  पूर्वेस आहे, व त्याचे होक्याचें विचलन वरील कोष्टकाप्रमाणे आहे, तर त्यानें आपले होक्याचे कोणते दिशेनें गलबत चालवावें म्हणजे तें त्या बेटास जाईल.

( १ ) आतां खरा गमनमार्ग उ० पासून  $४०^{\circ}$  पश्चिमेस  
चलन उलट दिशेनें  $२५^{\circ}$  पूर्वेस

म्हणून होक्यावरील गमनमार्ग  $६५^{\circ}$  पश्चिमेस  
या दिशेस गलबताचें नाळ असतां विचलन  $२५^{\circ}$  पश्चिमेस

( कोष्टकावरून ) वजा

म्हणून अदमासें गलबताचें नाळ  $४०^{\circ}$  प०

परंतु गलबताचें नाळ उत्तरेपासून पश्चिमेकडे  $४०^{\circ}$  अंश असलें म्हणजे कोष्टकावरून त्याचें विचलन  $१४^{\circ}$  प० आहे म्हणून,

( २ ) पुन्हा चुंबक गमनमार्ग उ० पा०  $६५^{\circ}$  प०  
नाळ उ०  $४०^{\circ}$  प० असतां विचलन  $१४^{\circ}$  प०

म्हणून होक्यावरील गमनमार्ग उ० पा०  $५१^{\circ}$  पश्चि०  
परंतु या दिशेस नाळ असतां होक्याचें विचलन  $१९^{\circ}$  प० आहे.

( ३ ) म्हणून पुन्हा

खरा चुंबक गमनमार्ग उ० पा०  $६५^{\circ}$  प०  
नाळ उ० पा०  $५१^{\circ}$  प० असतां विचलन  $१९^{\circ}$  प०  
होक्यावरील अदमासें गमनमार्ग  $४६^{\circ}$  प०

( ४ ) पुन्हा

चुंबक गमनमार्ग उ० पा०  $६५^{\circ}$  प०  
नाळ उ० पा०  $४६^{\circ}$  प० असतां विचलन  $१७^{\circ}$  प०

म्हणून गलबताचे होक्यावरील गमनमार्ग  $४८^{\circ}$  प०  
 ( ५ ) पुन्हा चुंबक गमनमार्ग उ० पा०  $६५^{\circ}$  प०

नाळ उ० पा०  $४८^{\circ}$  प० असतां, विचलन  $१७\frac{१}{२}^{\circ}$  प०

म्हणून गलबताचे होक्यावरील गमनमार्ग  $४७\frac{१}{२}^{\circ}$  प०  
 ( ६ ) पुन्हा चुंबक गमनमार्ग उ० पा०  $६५^{\circ}$  प० कडे.  
 नाळ उ० पा०  $४७\frac{१}{२}^{\circ}$  प० असतां विचलन  $१७\frac{१}{२}^{\circ}$  प० कडे.

म्हणून गलबतावरील होक्याचा गमनमार्ग  $४७\frac{१}{२}^{\circ}$  प०; हे उत्तर.

आतां वर काढिलेला गलबतावरील होक्याचा गमनमार्ग, म्हणजे होक्याचे ज्या दिशेने गलबत चालवावयाचे तो कसा निघाला ते स्पष्ट करून दाखवू; परंतु ही रीति, होक्याचे दिशेवरून खरी दिशा काढण्याची जी रीति आहे, तिचे अगदी उलट आहे हे मागे सांगितलेच आहे.

त्या बेटाचे खरे उत्तरांतर उत्तर दिशेचे पश्चिमेस म्हणजे डावे बाजूस आहे; व चलन पूर्वेस—म्हणजे उजवे बाजूस—आहे, जर हे चलन आपण चुंबक उत्तरांतरास अथवा होक्यावरील दिशेस लावित असतो तर ते आपण उजवे बाजूला धरिले असते; परंतु ह्या वेळीं आपण ते खऱ्या उत्तरांतरास लावीत आहो म्हणून ते डावे बाजूसच धरिले पाहिजे; म्हणून चुंबक उत्तरांतर उत्तरेकडून  $६५^{\circ}$  पश्चिमेकडे येते. परंतु गलबतावरील होका खरी चुंबक-उत्तर दिशा ही दाखवित नाही; कारण त्यावर गलबतावरील लोखंडाचे आकर्षण असते व त्यामुळे त्याचे दिशेंत जे फेरफार होतात ते विचलनकोष्टकांत दिले आहेत; एवढ्याकरितां आपणास अशी गलबताच्या नाळेची दिशा शोधून काढिली पाहिजे की, जिला विचलन लाविले असतां खरे चुंबक-उत्तरांतर उत्तरेपासून  $६५^{\circ}$

पश्चिमकेडे हें येईल. पहिल्यानें आपण उक्त.  $६९^{\circ}$  पश्चिम या दिशेचें विचलन घेऊं. यानें उ० पा०  $४०^{\circ}$  पश्चिम हा होक्यावरील गमनमार्ग आला. परंतु या दिशेकडे जर गलबताचें नाळ फिरविलें तर विचलन फक्त  $१४^{\circ}$  प० आहे. म्हणून या दिशेनें गलबत चालविलें असतां खरी चुंबक दिशा उ०  $९४^{\circ}$  प० ही होईल. व आपणांस उ०  $६५^{\circ}$  प० ही पाहिजे म्हणजे सुमारे अकरा अंश अथवा जवळ जवळ एक बिंदु उत्तरेकडे अधिक होईल. नंतर आपण कोष्टकावरून काढलेलें  $१४^{\circ}$  पश्चिम हें विचलन लावून पाहतां ( कारण तें विचलन गलबताचें नाळ उ०  $४०^{\circ}$  पश्चिम या दिशेकडे असलें म्हणजे येतें. ) आपणांस उक्त.  $५१^{\circ}$  प० या दिशेकडे असलें म्ह० होक्याचें विचलन  $१९^{\circ}$  आहे. म्हणून या मार्गानें आपण गलबत चालविलें तर उ०  $७०^{\circ}$  प० या खऱ्या चुंबक दिशेनें आपण जाऊं म्हणजे आपण पांच अंश पश्चिमकेडे अधिक जाऊं. आतां हें उघड आहे कीं, खरें विचलन या दोन दिशांच्या मध्ये कोठें तरी असलें पाहिजे. व तें प्रमाण गणितानें म्हणजे त्रैराशिकानें काढितां येईल. तें असें, जर  $१६^{\circ}$  गमनमार्गांत फेर पडण्यास  $५^{\circ}$  पांच अंश विचलनांत फेर पडावा लागतो तर  $११^{\circ}$  आकार अंश गमनमार्गांत फेर पडण्यास विचलनांत किती फेर पडला पाहिजे ?

$$१६^{\circ} : ५^{\circ} :: ११^{\circ} : ३\frac{५}{६}$$

हे  $३\frac{५}{६}$  जर  $१४^{\circ}$  पश्चिम चलनांत मिळविले तर एकदम  $१७\frac{५}{६}$  प० विचलन येतें व वरील उदाहरणांत फिरून फिरून अदमासानें गणीत करून आपणांस जवळ जवळ तेंच उत्तर येतें म्हणजे  $१७\frac{५}{६}$  म्हणून होक्यावरील गमनमार्ग (  $६५^{\circ}$  —  $१७\frac{५}{६}$  )  $४७\frac{५}{६}$  हा येतो.



# भाग चवथा.

—:०:—

दोन अक्षांशांमधील व दोन रेखांशांमधील अंतर.

अक्षांशांतर:—दोन अक्षांशांमधील अंतर काढण्याचे खाली सांगितलेले फक्त दोनच प्रकार आहेत.

१ ला प्रकार—अ स्थलाचे उत्तर अक्षांश  $४५^{\circ}-१५'-५१''$  म्हणजे  $४५$  अंश  $१५$  कला व  $५१$  विकला आहे; ब स्थलाचे उत्तर अक्षांश  $२०^{\circ}-१०'-१४''$  (  $२०$  अंश  $१०$  कला  $१४$  विकला ) आहे. यावरून अ व ब या स्थलांचे अक्षांशांतर किती आहे, ते काढा. —

अ चे उ० अक्षांश  $४५^{\circ}-१५'-५१''$  उत्तर.

ब चे उ० अक्षांश  $२०^{\circ}-१०'-१४''$  उत्तर.

अक्षांतर.  $२५^{\circ}-५'-३७''$  आहे. व अ बचे उत्तरेस आहे.

२ रा प्रकार.—(अ) स्थलाचे उत्तर अक्षांश  $२०^{\circ}-१४'-११''$  आहे व ब स्थलाचे दक्षिण अक्षांश  $१९^{\circ}-१४'-१६''$  आहे. या दोहोंमधील अक्षांशांतर काढा, किंवा हीं समांतर अक्षवृत्ते किती अंतरावर आहेत ते सांगा.

अ चे उत्तर अक्षांश  $२०^{\circ}-१४'-११''$  आहे.

ब चे दक्षिण अक्षांश  $१९^{\circ}-१४'-१६''$  आहे.

अक्षांतर.— $३९^{\circ}-२८'-२७''$  आहे आणि ब अ च्या दक्षिणेस आहे.

नियम—जेव्हां दोन स्थले विषुववृत्ताचे एकाच दिशेस अस-

तील म्हणजे दोहोंचेही अक्षांश उत्तर उत्तर अथवा दक्षिण दक्षिण असतील तेव्हां त्या दोहोंचे अक्षांतर काढण्यास त्याच्या अक्षांशांची वजाबाकी करावी; परंतु एक स्थळ विषुववृत्ताचे दक्षिणेस असेल व दुसरे उत्तरेस असेल, म्हणजे एकाचे दक्षिण अक्षांश असतील व दुसऱ्याचे उत्तर अक्षांश असतील तेव्हां त्यांचे अक्षांतर काढण्यास त्या दोन अक्षांशांची बेरीज करावी. विद्यार्थ्यांनी स्वतःस समजण्याकरितां कागदावर तीन रेषा काढाव्या;—एक विषुववृत्ताची व दोन त्या दोन समांतर अक्षांशवृत्तांच्या, म्हणजे त्या दोन स्थळांचे अक्षांशांतर काढण्यास, त्या दोन अक्षांशांची बेरीज करावी किंवा वजाबाकी करावी हें एका क्षणांत लक्ष्यांत येईल.

**रेखांशांतरः**—दोन स्थळांचे मधील रेखांशांतर काढण्याचे निरनिराळे तीन प्रकार आहेत. ( १ ) जेव्हां दोन्ही स्थळे ग्रीनीचचे पूर्वेस अगर पश्चिमेस असतील म्हणजे दोन्ही रेखांश पूर्व पूर्व अगर पश्चिम पश्चिम असतील; ( २ ) जेव्हां एक रेखांश पूर्व व दुसरे रेखांश पश्चिम असतील, तेव्हां व ( ३ ) जेव्हां दुसऱ्या प्रकारांतील रेखांशाची बेरीज  $१८०^{\circ}$  अंशांहून अधिक असेल तेव्हां. उदाहरणः—

प्रकार १ ला—अ स्थल पूर्व रेखांश  $४७^{\circ}-१७'-१८''$  वर आहे व ब स्थल पूर्व रेखांश  $७४^{\circ}-२०'-४८''$  वर आहे. तर त्या दोहोंमधील रेखांशांतर काढ.

अचे रेखांश  $४९^{\circ}-१७'-१८''$  पूर्व.

बचे ,,  $७४^{\circ}-२०'-४८''$  पूर्व.

---

$२९^{\circ}-३'-३०''$

तर रेखांशांतर  $२९^{\circ}-३'-३०''$  हें आहे. व अ स्थळ बचे पश्चि-  
मेस आहे.

२ रा प्रकार.-एक स्थळ अ ग्रीनीचचे पूर्वेस रेखांश  $२७''-१८'-४५''$  वर आहे. व दुसरें ब ग्रीनीचचे पश्चिमेस रेखांश  $१२०^{\circ}-१४'-१५''$  वर आहे. तर त्या दोहोंमधील रेखांशांतर काढा.  
अचे रेखांश  $२७^{\circ}-१८'-४५''$  पूर्व.

बचे रेखांश  $११०^{\circ}-१४'-१५''$  पश्चिमेस दोहोंचे  
रेखांशांतर  $१३७^{\circ}-३३'-०''$  आहे. व अ बचे पूर्वेस आहे.

३ रा. प्रकार.-एक स्थळ अ ग्रीनीचचे पूर्वेस रेखांश  $१२१^{\circ}-१७'-२४''$  वर आहे. व दुसरें ब पश्चिमेरेखांश  $९५^{\circ}-१६'-१८''$  वर आहे. तर त्या दोहोंमधील रेखांशांतर काढा.

अचे रेखांश  $१२१^{\circ}-१७'-२४''$  पूर्व.

बचे रेखांश  $९५^{\circ}-१६'-१८''$  पश्चिम.

बेरीज  $२१६^{\circ}-३३'-४२''$ .

ही बेरीज  $१८०$  हून अधिक आहे

म्हणून ती  $३६०^{\circ}-०'-०''$  तून

वजा करावी  $२१६^{\circ}-३३'-४२''$

बाकी  $१४३^{\circ}-२६'-१८''$  राहतात.

तें त्या दोन स्थळांचे मधील रेखांशांतर होय. आणि अ ब  
च्या पश्चिमेस आहे.

वरील तीन प्रकारांचा लक्ष्यपूर्वक विचार केला असता रेखांशांतर  
काढण्याचा पुढील नियम निघतो हें कळेल.

नियम:-जेव्हां दोन रेखांश ग्रीनीचचे एकाच दिशेकडील  
असतील म्हणजे दोन्ही पूर्व पूर्व अथवा पश्चिम पश्चिम असतील

तेव्हां त्या दोहोंची वजाबाकी तें त्यांचें रेखांशांतर होय व जेव्हां एक रेखांश पूर्व व दुसरे पश्चिम असेल तेव्हां त्यांची बेरीज हें त्या दोहोंचें रेखांशांतर होय; व ही बेरीज जर  $१८०^{\circ}$  अंशांहून अधिक असली तर ती  $३६०^{\circ}$  मधून वजा करावी व जी बाकी येईल तें रेखांशांतर होय.

विद्यार्थ्यांनीं आकृति काढून हे नियम स्पष्ट करण्याची संवय करावी. भूमध्यरेषा दाखविण्याकरितां स्लेटीवर अगर कागदावर एक आडवी रेषा काढावी. आणि ग्रीनीचचे ( पहिलें ) रेखांश दाखविण्याकरितां तिच्याशीं काटकोन करणारी एक उभी रेषा काढावी; नंतर ज्या दोन स्थळांमधील रेखांशांतर काढावयाचें असेल त्या स्थळांचें-रेखांश दाखविणाऱ्या दोन उभ्या रेषा पहिल्या रेखांशाचे उजवे अगर डावे बाजूस ( पूर्वेस अगर पश्चिमेस ) काढाव्या. आतां ह्या दोन्ही रेषा पहिल्या रेखांशवृत्ताचे पूर्वेस असल्या अगर दोन्ही पश्चिमेस असल्या तर त्या दोन्ही रेखांशाची वजाबाकी करावी. म्हणजे बाकी राहिल तें त्या स्थळांचें रेखांशांतर होईल. आणि जर त्या रेषांतील एक पहिल्या रेखांशाच्या पूर्वेस व दुसरी पश्चिमेस असेल तर त्या दोन्ही रेखांशांची बेरीज हें त्या दोन स्थळांचें रेखांशांतर होईल. आतां ही बेरीज  $१८०^{\circ}$  पेक्षां जास्त झाली तर तो प्रकार एक वर्तुळ काढून त्यावर दाखवावा. म्हणजे असें दिसून येईल कीं, वर्तुळावरील दोन स्थळांचें अंतर त्यांतील मोठ्या कंसानें न दाखवितां लहान कंसानें दाखवावें. म्हणून सगळ्या वर्तुळांचें जे  $३६०^{\circ}$  अंश आहेत, त्यांतून आपल्या बेरजेनें आलेला  $१८०^{\circ}$  अंशांपेक्षां मोठा कंस

वजा दिला असतां बाकीचा लहान कंस राहतो तें त्या स्थळांचे रेखांशांतर होय.

मध्याक्षांशः—कोणत्याही दोन स्थळांमधील अक्षांशाचे, मध्य अक्षांश म्हणजे त्या दोन स्थळांमधून जाणाऱ्या अक्षांशवृत्ताच्या बरोबर मध्यभागी असणारे अक्षांशवृत्त तें काढण्याची पुढें जरूर पडेल. तें कसे काढावें हें उदाहरणांनी स्पष्ट करून दाखवितोः—

केप कार्नवालचे उत्तर अक्षांश  $१०^{\circ}-८'-०''$  व डंकन्स बेहेडचे उत्तर अक्षांश  $१८^{\circ}-३०'-४९''$  या दोहोंच्या मधील मध्य-अक्षांश-वृत्त काढा.

केप कार्नवालचे अक्षांश  $५०^{\circ}-८'-०''$  उत्तर.

डंकन्स बेहेडचे अक्षांश  $१८^{\circ}-३९'-४९''$  उत्तर.

$$२) १०८^{\circ}-४७'-४९''$$

बेरजेचे अर्ध  $५४^{\circ}-२३'-५२\frac{३}{४}''$  हें

त्या दोन स्थळांचे उत्तर मध्याक्षांश होत.

या दोन अक्ष वृत्तांची वजा बाकी करून जी बाकी येईल तिचे अर्ध करून तें त्यांतील लहान संख्येत मिळविलें अगर मोठ्या संख्येत वजा केलें तरी बरोबर हेंच उत्तर येईल. व तें बीजगणिता-नेही दाखवितां येईल, तें असें व, अ, पेक्षां अधिक आहे असें असें समजा. तर—

$$\frac{अ + ब}{२} = अ + \frac{ब - अ}{२}, \text{ समच्छेद करून}$$

$$= \frac{२अ + ब - अ}{२}$$

$$= \frac{अ + ब}{२}$$

$$\text{अथवा } ब - \frac{ब - अ}{२} = \frac{२ब - ब + अ}{२} = \frac{ब + अ}{२}$$

केप लोपेक्षेचे दक्षिण अक्षांश  $०^{\circ}-३६'-१०''$  आहेत. व केप गुड होपचे दक्षिण अक्षांश  $३४^{\circ}-२२'-०''$  आहेत. तर या दोहोंचे मध्य अक्षांश काय?

केप लोपेक्षेचे दक्षिण अक्षांश	$०^{\circ}-३६'-१०''$ द०
केप गुड होप. " "	$३४^{\circ}-२२'-०''$ द०
दोहोंच्या बेरजेचे	२ ) $\frac{३४^{\circ}-६८'-१०''}{१^{\circ}-२९'-५''}$

हे त्यांचे मध्य अक्षवृत्त होय.

जिब्रालटरचे उत्तर अक्षांश  $३६^{\circ}-६'-२०''$  आहेत. व केप गुड होपचे दक्षिण अक्षांश  $३४^{\circ}-२२'-०''$  आहेत.

तर यांमधील मध्य अक्षांश काढा.

जिब्रालटरचे उत्तर अक्षांश. ....	$३६^{\circ}-६'-२०''$ उत्तर.
केप गुड होपचे द० अक्षांश.....	$३४^{\circ}-२२'-०''$ द०
दोहोंच्या वजाबाकीचे .....	२ ) $\frac{१^{\circ}-४४'-२०''}{०^{\circ}-६२'-१०''}$

अर्ध हे मध्य अक्षांश वृत्त होय.....

नियम:-जेव्हां दोन्ही अक्षांश वृत्ते उत्तर उत्तर अगर दक्षिण दक्षिण असतात, म्ह० सजातीय असतात, तेव्हां त्यांचे बेरजेचे अर्ध ते मध्यम अक्षांश होय. जेव्हां एक अक्षांश उत्तर असतात, व

दुसरे दक्षिण असतात. म्हणजे ते विजातीय असतात, तेव्हां त्यांचे वजाबाकीचे अर्धे हे त्यांचे मध्य अक्षांश होय.

### ४३ को-मिड्ल्याटिट्यूड=मध्य अक्षांशाचे पूरक

मध्य अक्षांश काढिल्यावर कधी कधी त्या मध्य अक्षांशाचे ध्रुवापासून किती अंतर आहे, ते काढावे लागते. ते  $९०^{\circ}$  तून मध्य अक्षांश वजा करून काढितात व त्यास मध्य अक्षांशाचे पूरक म्हणवें. कारण ध्रुवापासून विषुव वृत्तापर्यंत  $९०^{\circ}$  असतात, व मध्य अक्षांश म्हणजे विषुव वृत्तापासून ध्रुवाकडे कांहीं अंतर आहे; ते नवद  $९०^{\circ}$  मधून वजा केलें असतां त्याचे (को-लाटिट्यूड) ध्रुवापर्यंत अंतर निघते त्यास पूरक अक्षांश म्हणवें.

रेखांश वृत्त बरोबर काढितांना काणत्याही दोन स्थळांमधील मध्य अक्षांश वृत्ताचे पूरक म्हणजे त्या वृत्तापासून जवळच्या ध्रुवाचे अंतर काढणे वरचेवर जरूर पडते.

### उदाहरणे.

( १ ) केप आफ् गुड होप व जिब्राल्टर यांच्या मधील को-मध्याक्षांश किंवा पूरक मध्याक्षांश काढा.

जिब्राल्टरचे अक्षांश.....	$३६^{\circ}-६'-२०''$ उ०
केप आफ् गुड होपचे अक्षांश.....	$३४-२२'-०''$ द०
वजाबाकीचे	२ ) $१^{\circ}-४४'-२०''$
अर्ध.....	$०^{\circ}-१२'-१०''$
हे $९०^{\circ}$ तून वजा करा.	$९०^{\circ}-०-०$
बाकी राहिल ते पूरक मध्याक्षांश,	$८९-७-१०''$

( ११५ )

( २ ) केप लोपेज़ व केप आफ् गुड होप यांचें पूरक मध्याक्षांश किंवा को-मध्याक्षांश काढा.

केप लोपेज़चे अक्षांश.....	०°-३६'-१०" द०
केप आफ् गुडहोपचे अक्षांश.	३४-२२-० द०
बेरजेचें	२ ) <u>३४-५८-१०</u>
अर्ध.....	<u>१७-२९"-५"</u>
हें ९० तून वजा करा.	९०-०-०
को-मध्याक्षांश किंवा पूरक मध्याक्षांश	<u>७२-३०'-५५"</u>



# भाग पांचवा.

—:—

## घडी, पाटली व दोरी.

—:—

नाविक अंतर अगर समुद्रावरील अंतर:—जेव्हां जमीन दिसेनाशी होते, तेव्हां आपलें गलबत कोठें आहे, व पुढें नेमलेल्या ठिकाणी कोणत्या दिशेने जावयाचें हें काढण्यास त्याचा गमनमार्ग व त्यानें क्रमिलेले अंतर हीं मुख्यत्वेकरून पाहवीं लागतात. गमनमार्ग पाहण्याकरितां लागणाऱ्या होकायंत्राचें वर्णन दुसऱ्या भागांत केलें आहे व होक्याचे मार्गावरून ( दिशेवरून ) खरा मार्ग ( दिशा ) कसा काढावा व खऱ्या मार्गावरून ( दिशेवरून ) होक्यावरील मार्ग ( दिशा ) कसा काढावा, हेंही तिसऱ्या भागांत सांगितलें आहे. आतां अंतर म्हणजे काय, व तें कसें काढावें, हें अधिक स्पष्ट करून सांगावयाचें आहे. अंतर सांगतानां खलाशी लोक व नाखवे, पृथ्वीच्या मोठ्या वर्तुळाच्या एका कलेचा उपयोग करितात व ती कला विषुव वृत्तावर मोजतात. विषुववृत्ताचे ३६० अंश असतात व प्रत्येक अंशाच्या साठ कला असतात. म्हणजे विषुववृत्ताच्या २१६०० कला असतात. त्यांस २१६०० नाविक-मैल असें म्हणतात.


पृथ्वीचा परीघ, १२८० फुटांचा एक मैल, असें २४८६९ इंग्लिश मैल आहे, असें काळजीपूर्वक कित्येक वेळां मापें

करून गणितज्ञांनी काढिलें आहे. म्हणून प्रमाण गणितानें समुद्रा-वरील ( नाविक ) एका मैलाचे किती फूट होतात तें काढितां येतें. जसें:-२१६००:२४८६९ मैल :: ५२८०: ६०७९.१ फूट म्हणून नाविक मैल ६०८० फुटांचा धरितात. व हा मैल म्हणजे सदोदित ६०८० फूट समजावे; ६०७९-१ नार्हीत.

समुद्रावरील अंतर म्हणजे गलबत जितके मैल व मैलांचे दशांश जातें तें होय. व तें बहुतकरून २८ सेकंडची घडी व ४६३ फुटांचे भाग पाडून प्रत्येक भागाचे शेवटीं गांठी बांधलेली दोरी, यांनीं मोजतात. परंतु-दुसरी कोणतीही सेकंडाची संख्या दाखविणारी घडी व तिला जुळत्या प्रमाणानें भाग पाडलेली दोरी घेतल्यासही उपयोगी पडते.

पाटली ( फळी )-पाटली हा एक लांकडाच्या फळीचा तिकोनी तुकडा असतो, व त्याची एक बाजू गोल असते. त्यांत वजनाकरितां शिसें घातलेलें असतें, त्यामुळें ती फळी पाण्यावर नीट उभी तरते, व अशी उभी तरत असली म्हणजे ती बहुतेक स्थिरच असते असें मानिलें तरी चालेल. कारण ती पाण्यामधून ओढली जाण्यास बराच अडथळा करिते; सहज ताणली जात नार्हीं. या फळीला एक ५० अगर १०० वांव दोरी बांधलेली असते. तिला पाटलीची दोरी असें म्हणतात. या दोरीची लांबी सेकंडांच्या घडीच्या प्रमाणांत असते. या दोरीचे सारखे भाग केलेले असतात. त्यास ( नाटस् ) गांठी असें म्हणतात. कारण त्या प्रत्येक भागाच्या शेवटीं किती भाग झाले, तें दाखविण्याकरितां गांठी दिलेल्या बारीक दोऱ्यांचे तुकडे त्या दोरीच्या पदरामध्ये बसविलेले असतात. व हे तुकडे घडांतील वाळू गळे तोंपर्यंत किती भाग अथवा गांठी

झाल्या तें दाखवितात. खालील आकृतीवरून पाटलीस दोरी कशी बसवितात हें कळून येईल.



आ० १९ पाटली.

फळीच्या जवळील तीन दोऱ्यांपैकीं दोन दोऱ्या एका लांकडाच्या मेखेस बसविलेल्या असतात व ती मेख त्या पाटलीच्या दोरीत बसविलेली असते. वेळ झाली म्हणजे माप घेणारा मनुष्य पाटलीच्या दोरीला एक हिस्का देतो. त्यासरशी ती मेख निवून जाते व पाटली पाण्यावर आडवी पडते व मग ती गलबतावर सहज ताणून घेतां येते.

आम्हीं वर म्हटलें आहे कीं, २८ सेकंडांत वाळू गळून जाणारी साधी घडी उपयोगांत घेण्याचा हल्लीं प्रघात आहे; परंतु आपणास कोणतीही घडी वापरण्यास सांपडेल; मात्र तिनें दाखविलेली वेळ ही, एका तासाचा जो भाग ( जितकावा भाग असेल ) असेल, तोच भाग त्या दोरीच्या एका भागाची लांबी, हा एका मैलाचा होईल. म्हणजे घडीचे सेकंड ( घडीची वेळ ) हा एक तासाचा जितकावा, ( पांचवा, सातवा, किंवा सतरावा असा जितकावा ) भाग असेल तितकावाच भाग ( पांचवा, सातवा, सतरावा, ) त्या दोरीच्या भागाची लांबी हा एक नाविक मैलांचा होईल.

हल्लीं २८ सेकंडांच्या घडीच्या मानानें दोरीच्या एका भागाची लांबी घेण्याचा प्रचार आहे. परंतु जर १४ सेकंडाची घडी घेतली तर तेवढ्याच दोरीचे दुप्पट भाग करावे, म्ह० एक एक भागाची लांबी

अर्धी होईल, व पुष्कळ लहान दोरी उपयोगी पडेल. घडी, व पाटलीच्या दोरीच्या भागाच्या लांबीत मुख्यत्वे हें प्रमाण आहे की; दोरीच्या एक भागाची लांबी एक नाविक मैलाचा जितकावा भाग असते, तितकावाच भाग घडीने दाखविलेली वेळ, ही एका तासाचा असते. म्हणजे जर २८ सेकंड हा एक तासाचा  $\frac{३६००}{२८}$  वा. भाग आहे; तर दोरीच्या एक भागाची लांबी ही एक नाविक मैलांचा  $\frac{३६००}{२८}$  वाच भाग असला पाहिजे; पण नाविक मैल ६०८० फूट लांब आहे. म्हणून दोरीचा एक भाग  $\frac{२८ \times ६०८०}{३६००} = ४७$  फूट ३.४ इंच इतका आहे.

हेंच प्रमाण अस मांडतां येईल:—

दोरीच्या लांबीचे फूट.      घडीचे सेकंड.  
एका नाविक मैलाचे फूट.      एका तासाचे सेकंड.

प्रचारांत दोरीच्या एका भागाची किंवा गांठीची ( नाटची ) लांबी ४६ फूट ८ इंच धरितात. ही लांबी एक नाविक मैलाचे ६००० फूट धरिले म्हणजे येते. याने कोणतीही घडी असली तरी तिला लागू पडणारी दोरीची लांबी सहज काढितां येते ती अशी:—

घडीतील वाळू जितक्या सेकंडांत गळून खलास होत असेल, त्या सेकंडाचे आंकड्यावर एक शून्य देऊन त्यास साहानीं भागावें, म्हणजे दोरीच्या भागाचे गांठीमधील अंतरांचे फूट येतील, व बाकी राहिल त्याच्या दुप्पट इंच येतील, म्हणजे घडीच्या सेकंडाच्या दसपटीस साहानीं भागून येतील ते फूट व बाकी राहिल त्याच्या दुप्पट इंच, इतकें दोरीचे गांठीमधील अंतर राखावें. आतां उदाहरणार्थ, २८ सेकंडांची घडी घेऊं, तर तिच्या गांठी—

मधील अंतर काढण्यास २८ साला दहांनी गुणून व सहांनी भागून येतील ते फूट, बाकी राहिल त्यास दोहोंनी गुणून येतील ते इंच, इतके दोन गांठीमधील अंतर होय.  $२६^{\circ} = ४६$ ; फूट व  $४ \times २ = ८$  इंच. आतां ही रीत कशी निघाली तें पाहूं:—

गांठीमधील अंतराचे फूट. = घडीचे सेकंड.

नाविक मैलाचे फूट. = तासाचे सेकंड.

किंमतीचे आंकडे लिहून,

गांठीमधील अंतराचे फूट. = २८ सें.

६००० = ३६०० सें.

म्हणून गांठीमधील अंतराचे फूट =  $\frac{२८ \times ६०००}{३६००} = \frac{२८ \times १०}{६} = २८$

६) २८० ( ४६' - ८"

२४

४०

३६

$\frac{०४ \times १२ = ४ \times २ = ८$

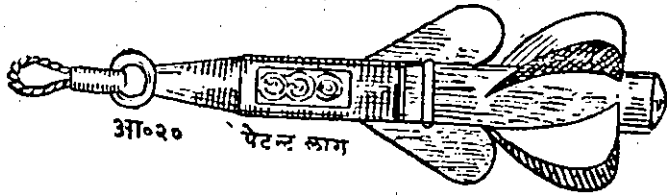
म्हणून ४६' - ८" हें उत्तर.

पाटली (फळी) पाण्यांत टाकल्यानंतर गलबताच्या चालण्याने जें पाणी हाललेलें असतें त्याच्या पलीकडे ती गेल्यावर मापण्यास सुरवात व्हावी म्हणून, सुमारे दहा वांव अगर अधिक दोरी सोडून नंतर गांठी मोजण्यास सुरवात करितात. या दोरीला स्ट्रॅन्-ईन म्हणजे वायफळ दोरी किंवा फालतू दोरी असें म्हणतात. व ती सरली म्हणजे तेंथे एक खुणेकारितां पांढरी चिंधी दोरीस बांधितात. दोरी सोडतांना ही खूण गलबताच्या कांठावरून गेल्याबरोबर घडी उलटतात व वाळू गळण्यास सुरवात होते. सर्व वाळू गळतांच दोरी सोडण्याची बंद करितात व तेंथपर्यंत सोडलेल्य

दोरीच्या गांठी व त्यावरील दशांस भाग मोजतात, त्यावरून गलबताचा वेग कळतो. पाटली ( फळी ) समुद्रांत टाकली म्हणजे तिची दोरी जी एका लांकडाचे लाटेस ( गरेडीस ) गुंडाळलेली असते, ती ज्या वेगाने गलबत जात असेल त्या वेगाने सोडितात; त्याने गलबताचा वेग कळतो; कारण जितक्या सेकंडांत घडी रिकामी होते, ती सेकंडांची संख्या एका तासाच्या सेकंडांचा जितकावा भाग असते तितकावाच भाग, दोरीच्या दोन गांठीमधील अंतराचे फुटाची संख्या ही एक नाविक मैलाच्या फुटाच्या संख्येचा असतो, म्हणून घडीने दाखविलेल्या वेळांत जितक्या गांठी गलबत चालते तितकेच मैल, ते सारख्या वेगाने चालल्यास, एका तासांत जाते. आतां गलबत एका तासांत ४ किंवा ५ गांठी ( नाटस ) चालते, असे म्हणतात त्याचा अर्थ समजेल. त्याचा खरा अर्थ एका तासांत ते ४ अगर ५ नाविक मैल चालते असा आहे.

समुद्रावर नुसत्या शिडाने चालणाऱ्या गलबताचा वेग कधीही सारखा नसतो. कारण वाऱ्याचा वेग व दिशा ही बदलत असतात. व थोडेसे सुकाणू फिरविले असतां गलबताचे वेगांत पुष्कळ फरक पडतो. म्हणून सध्यां निरनिराळ्या प्रकारचे पेटेंट लागू उपयोगांत आणितात. त्यांना आगबोटीच्या पंख्यासारखी स्क्रूच्या आकाराची लहान पाती बसविलेली असतात त्यामुळे ते पाण्यांत फिरतील असे केलेले असतात. जेव्हां गलबताचा वेग बरोबर काढावयाचा असेल किंवा ते किती चालले ते पहावयाचे असेल तेव्हां हा पेटेंट लागू गलबताचे मार्गे पाण्यांत ओढला जाईल असा बांधितात व गलबताच्या वेगाप्रमाणे तो हळू अगर जलद फिरत असतो. हे फेरे मोजण्याची तजवीज गलबतास जेथे त्या

लागची दोरी बांधतात तेथे किंवा त्या लागमध्येच केलेली असते; परंतु पेटंट लाग हे यंत्र समुद्रावरील शेवाळांनी किंवा गलबतावरून टाकलेल्या जिनसांनी विघडण्याचा संभव आहे, म्हणून पेटंट लाग वापरला तरी घडी-पाटलीचा उपयोग करण्यास हयगय करू नये.



### घडी-पाटलीच्या हिशेवांतील चुकीची दुरुस्ती.

घडी-पाटलीने काढलेल्या वेगांत अथवा अंतरांत तीन प्रकारांनी चुकी होण्याचा संभव आहे. १ घडी खोटी असल्यामुळे, २ पाटलीच्या दोरीचे भाग बरोबर नसल्यामुळे व ३ दोन्ही बरोबर नसल्यामुळे. ते तीन प्रकार असे:— ( १ ) दोरीचे भाग बरोबर आहेत परंतु घडी बरोबर नाही, ( २ ) घडी बरोबर आहे; परंतु दोरीचे भाग बरोबर नाहीत, ( ३ ) जेव्हां दोन्ही बरोबर नाहीत.

( १ ) जेव्हां दोराच भाग बरोबर पाडिलेले असतात, परंतु घडीतील वाळू लवकर संपते तेव्हां पुऱ्या गांठी मोजल्या जात नाहीत व गलबताचा वेग असेल त्यापेक्षां कमी मोजिला जातो हे उघड आहे. तसेच घडीतील वाळू गळण्यास अधिक वेळ लागेल तर अधिक गांठी मोजल्या जातील व गलबताचा वेग आहे त्यापेक्षां अधिक मानला जाईल.

( २ ) जर घडी बरोबर आहे. परंतु दोरीचे भाग बरोबर

नाहीत तर देखील चुकी होण्याचा संभव आहे. कारण जर घडी बरोबर असेल आणि दोरीचे भाग लहान असतील तर त्या वेळेस अधिक गांठी मोजल्या जातील आणि अधिक अंतर गणिले जाईल व घडी बरोबर असून दोरीचे भाग लांब असले तर थोड्या गांठी गणल्या जातील व गलबताचा वेग कमी मानला जाईल.

या वरील दोन प्रकारांवरून असे आढळून येईल की, सारख्याच वेळामध्ये गणिलेले अंतर हे गांठीमधील अंतराच्या उलट प्रमाणांत ( व्यस्त प्रमाणांत ) असते. म्हणजे जर गांठी फार लांब लांब असतील तर अंतर कमी गणिले जाईल व गांठी जवळ जवळ असल्या तर अंतर अधिक गणिले जाईल; व जर गांठीचे अंतर बरोबर असेल व घडी खोटी असेल तर ( १ ) या खोट्या घडीने मापलेले ( गणिलेले ) अंतर घडीच्या वेळेच्या सम प्रमाणांत असेल म्हणजे जर घडीने दाखविलेली वेळ असावी त्याहून कमी असेल तर गणून काढिलेले अंतरही कमी होईल व घडीचा वेळ अधिक असेल तर ते अधिक येईल.

( ३ ) तिसऱ्या प्रकारांस म्हणजे जेव्हां घडी व दोरी ही बरोबर नसतात तेव्हां खाली दिलेल्या संक्षिप्त रीतीचा किंवा सरणीचा उपयोग करण्याचा प्रघात आहे:—

$$D = \frac{3}{4} \frac{a \times l}{v} = D = \frac{3}{4} \frac{dl}{t}$$

यांत  $D = \text{खरे अंतर. ( मैल )}$

$d = \text{खोटे अंतर. ( मैल )}$

$t = \text{घडीची वेळ. ( सेकंड )}$

$l = \text{गांठीमधील लांबी, किंवा अंतर ( फूट ).}$



ही संक्षिप्त रीति अथवा सरणी खाली सांगितल्याप्रमाणें निघाली आहे:—

एका घडीतील वाळू ( वे ) सेकंडांत खलास होते, व दोरीच्या गांठीचें अंतर बरोबर नाहीं आणि तें ( लां ) आहे. यावरून खरें अंतर ( ड ) किती मैल तें काढा. या लाग ( घडीपाटली ) वरून गणून काढलेलें खोटें अंतर ( अ ) मैल आहे असें समजा.

( १ ) ला प्रकार:—जेव्हां दोरीच्या भागाचें अंतर बरोबर आहे व घडी खोटी आहे; असें असले म्हणजे गांठीमधील अंतराला जुळणारी वेळ ( म्ह० किती सेकंडाची घडी असावी तें ) सम प्रमाणानें काढावें; कारण ह्या प्रकारामध्ये अंतर हें वेळेच्या सम प्रमाणांत असतें, म्हणजे वेळ अधिक असेल तर अंतर अधिक असतें व वेळ कमी असेल तर अंतर कमी असतें.

प्रथमतः ( वे ) सेकंडामध्ये वाळू गळून रिकामी होणाऱ्या घडीस किती अंतरावर दोरीच्या गांठी असाव्या तें काढावें. जसें:—

से.                      से.                      फूट.  
३६०० : :              वे ::              ६०८० : अंतराचे फूट.

म्हणून,

$$\text{गांठीमधील अंतराचे फूट} = \frac{\text{वे} \times ६०८०}{३६००} = \frac{\text{व} \times ६०८०}{३६००}$$

( २ ) रा प्रकार:—ज्या वेळीं घडी बरोबर असते, परंतु दोरीच्या गांठीमधील अंतर बरोबर नसतें, या वेळेस आपणास व्यस्त प्रमाणाचा उपयोग करून खोट्या अंतरावरून खरें अंतर काढावें लागतें.

मागें सांगितल्याप्रमाणें खाली दिलेलें व्यस्त प्रमाण मांडावें.

गांठीमधील खऱ्या अंतराचे फूट. खोटे अंतराचे मैल.  
 गांठीमधील खोटे अंतराचे फूट. खऱ्या अंतराचे मैल.

अथवा,

गांठीच्या खऱ्या लांबीसः खोटी लांबीः :: खोटे अंतराचे मैलः खरे मैल.  
 या प्रमाणामध्ये आपण वर काढिलेली गांठीची खरी लांबी घातली

असतांः—

$\frac{३६००}{६००} \times$  वेः लां :: अं :: ड.

अला  $\frac{३६००}{६००} = ६ \times$  अला ही सरणी येते. कारण  $\frac{३६००}{६००} = ६$   
 $\frac{ड}{व} \times \frac{३६००}{६००} = \frac{३ \times अला}{व}$

जवळ जवळ आहे. म्हणून  $\frac{ड}{व} = \frac{३ \times अला}{व}$

उदाहरणें.

( १ ) २५ सेकंडाचे घडीस लागू पडणारे दोरीच्या गांठी-  
 मधील अंतर काढा.

एक तासाचे

एक मैलाचे

सेकंड

सेकंड

फुटांस

३६०० :

२५ ::

६०८० :

गांठीमधील अंतराचें फूट

म्हणून गांठीमधील अंतर

$$\frac{२५ \times ६०८०}{३६०} = \frac{५ \times ६०८}{६०} = ५०.६६ \text{ फूट.}$$

( २ ) पाटलीच्या दोरीस ५९ फुटांवर गांठी आहेत तर या  
 दोरीस लागू पडणारी घडी किती सेकंडाची असावी तें सांगा.

एका मैलाचे  
 फुटांस

} दोरीचे फूट.

तासाच्या सेकंडास. }

} घडीचे  
 सेकंड.

६०८० :

५९ ::

३६०० :

= ३२.९६ सेकंड हें उत्तर.

# भाग सहावा.

सरळ रेषा त्रिकोणमितीमधील व्याख्या.

त्रिकोणमितीतील प्रमाणें:—त्रिकोणमितीतील जे थोडे सोपे पारि-  
भाषिक शब्द, नाविक अंतर व दिशा काढण्याच्या निरनिराळ्या  
कृत्यांत ( उदाहरणांत ) उपयोगी पडतात, त्यांचा अर्थ समजण्या-  
करितां त्यांच्या व्याख्या देणें जरूर आहे.

( १ ) कोणत्याही वर्तुळाचे ३६० सारखे भाग केलेले असतात;  
त्यांस अंश असें म्हणतात. प्रत्येक अंशाचे ६० सारखे भाग  
केलेले असतात त्यांस कला असें म्हणतात व प्रत्येक कलेचे ६०  
सारखे भाग केलेले असतात त्यांस विकला असें म्हणतात.

ते ( ° ) अंश ( ' ) कला ( " ) विकला अशा खुणांनीं दाख-  
विलेले असतात; जसें— $१४^{\circ} ३७' - २६''$  असें लिहिलेले असले  
म्हणजे ते १४ अंश ३७ कला २६ विकला असें वाचावें.

( २ ) जर दोन सरळ रेषा एका वर्तुळाच्या मध्याशीं मिळत  
असल्या तर त्या दोहोंमध्ये जो वर्तुळाचा कंस येतो, तो त्या दोन  
रेषांमधील कोनाचें माप ( महत्व ) दाखवितो.

( ३ ) कोन मापणारे कंस कितीही लांब अथवा आंखूड त्रिज्यांनीं  
काढलेले असेल तरी त्या त्रिज्यांमधील ते कंस व कोन यांमधील  
अंशांची संख्या सारखीच होईल, कारण ते ३६० चे सारखेच  
भाग असतात.

( ४ ) ज्या दोन कंसांची बेरीज अर्ध वर्तुळाबरोबर असते, तसेंच

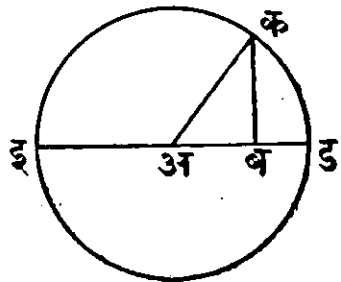
ज्या दोन कोनांची बेरीज दोन काटकोनांबरोबर असते; त्या दोन कंसांस व दोन कोनांस एकमेकांचे पूरक कंस किंवा पूरक कोन ( म्ह०सष्टिमेट ) असे म्हणावे.

( ५ ) ज्या दोन कंसांची अथवा कोनांची बेरीज अथवा वजाबाकी वर्तुळपादा ( चतुर्थांश )—बरोबर अथवा एक काटकोनाबरोबर असेल, त्या कंसांस अगर कोनांस एकमेकांचे भरतीचे कंस अथवा भरतीचे कोन किंवा कोटिकोन( कांष्टिमेट ) असे म्हणतात.

( ६ ) प्रत्येक सरळ रेषा-त्रिकोणांत सहा अवयव म्हणजे तीन बाजू व तीन कोन यांचा विचार करावयाचा असतो; परंतु ती विजातीय परिमाणे असल्यामुळे त्यांची एकमेकांशी प्रत्यक्ष तुलना करता येत नाही; परंतु त्या त्रिकोणाची एक बाजू ही त्रिज्या मानून काढिलेल्या वर्तुळाशी त्यांचा संबंध जोडिला असता त्या त्रिकोणाच्या बाजू व त्यांनी एकमेकांशी केलेले कोन, अगर कोन मापणारे कंस यांच्यामधील संबंध काढिता येतो.

२१ व्या आकृतीमध्ये अ ब क या सरळ रेषा त्रिकोणाभोवती

अ क ( कर्ण ) त्रिज्येने क ड ई हे वर्तुळ काढिले आहे; तर अ ब रेषा वर्तुळाच्या दोन्ही बाजूंस परिघांस इ व ड बिंदूंत मिळेल अशी वाढविली असता ती त्या वर्तुळाचा व्यास होईल; क ड हा कंस अकोनाचे माप दाखविले. या कंसाच्या

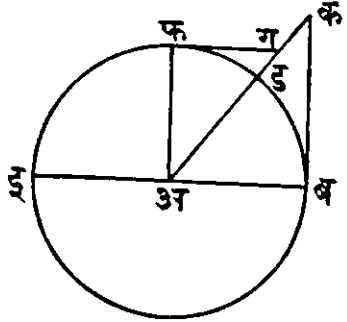


एका टोंकापासून काढलेल्या ( ड ई ) व्यासावर त्या कंसांच्या दुसऱ्या टोंकापासून काढलेल्या लंबास म्ह० क ब बाजूस त्या

कंसाची ( साईन ) भुजज्या म्हणावें. क ह्या कोनाचें माप ड क कंसाच्या पूरक कंसानें दाखविलें जातें व अ व ही कची भुजज्या ( साईन ) आहे म्हणून तिला अची पूरक भुजज्या किंवा को-भुजज्या म्हणतात. कोणत्याही कंसाचा शर ( व्हरसेड साईन ) म्हणजे त्या कंसाचें एक टोंक व भुजज्या यांच्यामध्ये येणारा व्यासाचा तुकडा वड होय. व ( सव्हरसेड साईन )—म्हणजे त्याचे भरतीच्या कंसाचा शर ( व्हरसेड साईन ) होय. जसें:— व ई ही, डकची सव्हरसेड साईन आहे. अथवा डकच्या ( सफ्लि-मेंट ) भरतीच्या कोनाची ( साईन ) भुजज्या आहे.

२२ व्या आकृतीमध्ये अ व क त्रिकोणाचा अ व पाया ही

त्रिज्याधरून अ मध्यापासून वर्तुळ काढलें व, व अ, ईपर्यंत वाढविली तर व ई हा व्यास झाला, व व ड हा कंस अ कोनाचें माप ( महत्त्व ) दाखवितो. व व ड कंसाच्या व्यासाशी भिळणाऱ्या व टोंकापासून त्या व्यासाशी काटकोन करून काढलेली रेषा व क, वर्तुळमध्यांतून व कंसाचे



दुसरे ड टोंकांतून काढिलेल्या दुसऱ्या अ ड क रेषेला मिळेतोंपर्यंत वाढविली असतां त्या रेषेस स्पर्शरेषा असें म्हणावें. म्हणजे व क ही स्पर्शरेषा होय. व तिला छेदणारी कंसाच्या दुसऱ्या टोंकांतून व वर्तुळमध्यांतून जाणारी अ क ही छेदनरेषा होय. म्हणजे अ कोनाची अथवा त्याचें महत्त्व दाखविणाऱ्या व ड कंसाची व क ही स्पर्शरेषा व अ ड क ही छेदनरेषा होय. आणि क

कोन मापणारा कंस हा बडचा भरतीचा कंस आहे; म्हणून फ ग ही त्याची स्पर्शरेषा होय, म्हणून तिला बडची अथवा अ कोनाची को-स्पर्शरेषा म्हणावें. वर्तुळमध्यांतून व कंसाच्या दुसऱ्या टोंकांतून जाऊन स्पर्शरेषेस मिळणारी रेषा ती छेदनरेषा होय. म्हणून अक ही बड कंसाची अथवा अ कोनाची छेदनरेषा होय. आणि अग ही त्याच्या पूरक कोनाची छेदन रेषा होय. अथवा बडची को-छेदनरेषा होय.

खाली लिहिलेली त्रिकोणमितीतील प्रमाणे आहेत.

भुजज्या ( साईन ) sine

को-भुजज्या ( को-साईन ) co-sine

स्पर्शरेषा ( टांजन्ट ) tangent

को-स्पर्शरेषा ( को-टांजन्ट ) co-tangent

छेदनरेषा ( सीकंट ) secant

को-छेदनरेषा ( को-सीकंट ) co-secant

या प्रमाणांचा परस्परसंश्लेषा संबंध दाखवितांना त्यांच्या छेदस्थळी त्रिज्या व अंशस्थळी ती नावे दाखविणाऱ्या बाजू लिहून अपूर्णाकांनी लिहितात;—जसे आकृती २१ मध्ये.

$$\frac{\text{बक}}{\text{अक}} = (\text{साईन अ}) \text{भुजज्या अ} = \text{को भुजज्याक (को-साईनक.)}$$

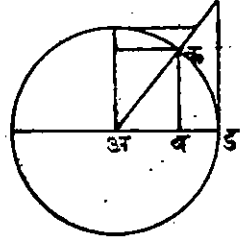
$$\frac{\text{अब}}{\text{अक}} = \text{को भुजज्या अ} = \text{भुजज्याक.}$$

आकृती २२ मध्ये.

$$\frac{\text{कब}}{\text{अब}} = \text{स्पर्शरेषा-अ.}$$

अक  
अब = छेदनरेषा अ.

या दोन आकृती २१ व २२ मधील त्रिकोण सरूप आहेत अशी कल्पना केली आहे. ते दोन्ही त्रिकोण आ. २३ मध्ये दाखविल्याप्रमाणे एकाच आकृतीत दाखवितां आले असते, परंतु लहान विद्यार्थ्यांस ते समजणे कठीण पडून नये म्हणून ते निरनिराळे दाखविले आहेत. विद्यार्थ्यांने त्रिकोणमितीचे थोडे तरी ज्ञान मिळविल्याशिवाय राहून नये.



आ० २३ वी.

हे सहज दाखवितां येईल की ( १ ) को-छेदनरेषेने गुणणे व भुजज्याने भागणे हे सारखेच आहे, ( २ ) छेदनरेषेने गुणणे व को-भुजज्येने भागणे हे सारखेच आहे, ( ३ ) स्पर्शरेषेने गुणणे व को-स्पर्शरेषेने भागणे हे सारखेच आहे.

कारण ज्या एक धरिली असतां असे दाखवितां येईल की,

$$\text{छेदनरेषा} = \frac{1}{\text{कोभुजज्या}} \quad \text{कोछेदनरेषा} = \frac{1}{\text{भुजज्या}}$$

$$\text{स्पर्शरेषा} = \frac{1}{\text{कोस्पर्शरेषा}}$$

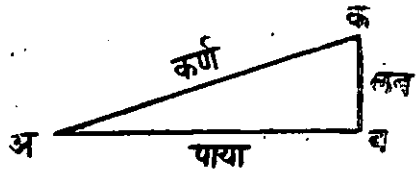
$$\text{कोस्पर्शरेषा} = \frac{1}{\text{स्पर्शरेषा}}$$

वरिल माहितीवरून उदाहरणे सोडवितांना भागाकाराचे काम गुणाकाराने होईल व लागर्थमाचा उपयोग केला असतां वना-वाकीचे काम बेरजेने होईल हे सहज लक्षांत येईल.

### त्रिकोणमितींतील व्याख्यांचें विशेष स्पष्टीकरण.

कोनः—एका सरळ रेषेत नसणाऱ्या दोन सरळ रेषा एका बिंदूशी मिळाल्या असता त्यांचे मधील वक्रतेस कोन म्हणतात.

जसें:—अब आणि कअ  
अबिंदूशी मिळून कअब कोन  
करितात त्यास अ कोन म्हणूं.



अकतील कोणत्याही क बिंदूपासून अबवर कब लंब काढिला असतां, त्रिकोणमितीचीं प्रमाणें अबक या काटकोन त्रिकोणाच्या बाजूंनीं दाखविलीं जातात. तीं अशीं:—

$$\frac{\text{कब}}{\text{अक}} = \text{भुजज्या अ} = \frac{\text{लंब}}{\text{कर्ण}} \dots\dots\dots १$$

$$\frac{\text{अब}}{\text{अक}} = \text{कोभुजज्या अ} = \frac{\text{पाया}}{\text{कर्ण}} \dots\dots\dots २$$

$$\frac{\text{कब}}{\text{अब}} = \text{स्पर्शरेषा अ} = \frac{\text{लंब}}{\text{पाया}} \dots\dots\dots ३$$

$$\frac{\text{अब}}{\text{कब}} = \text{को-स्पर्शरेषा अ} = \frac{\text{पाया}}{\text{लंब}} \dots\dots\dots ४$$

$$\frac{\text{अक}}{\text{अब}} = \text{छेदनरेषा अ} = \frac{\text{कर्ण}}{\text{पाया}} \dots\dots\dots ५$$

$$\frac{\text{अक}}{\text{कब}} = \text{कोछेदनरेषा अ} = \frac{\text{कर्ण}}{\text{लंब}} \dots\dots\dots ६$$



( १३२ )

आतां

$$\text{स्पर्श अ} \times \text{को-स्पर्श अ} = \frac{\text{कव}}{\text{अव}} \times \frac{\text{अव}}{\text{कव}} = १$$

$$\text{म्हणून स्पर्श. अ} = \frac{१}{\text{कोस्पर्श अ}}; \text{कोस्पर्श अ} = \frac{१}{\text{स्पर्श अ}}$$

$$\text{छेदन अ} \times \text{कोमुज अ} = \frac{\text{अक}}{\text{अव}} \times \frac{\text{अव}}{\text{अक}} = १$$

$$\text{छेदन अ} = \frac{१}{\text{कोमुज अ}}; \text{कोमुज अ} = \frac{१}{\text{छेदन अ}}$$

तसेंच

$$\text{कोछेदन अ} \times \text{मुजज्या अ} = \frac{\text{अक}}{\text{बक}} \times \frac{\text{बक}}{\text{अक}} = १$$

$$\therefore \text{को-छेदन अ} = \frac{१}{\text{मुजज्या अ}}; \text{मुजज्या अ} = \frac{१}{\text{कोछेदन अ}}$$

हीं प्रमाणें विद्यार्थ्यांच्या लक्ष्यांत लवकर येतील म्हणून मुद्दाम दिली आहेत तीं लक्ष्यपूर्वक वाचार्वीत.



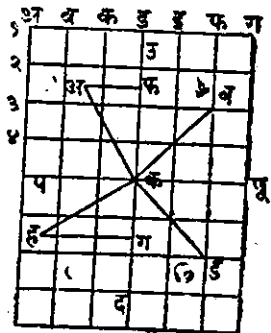
# भाग सातवा.

सरळ पातळी नौकागमन.



या नौकागमनांत अशी कल्पना केली असते की, पृथ्वीचा पृष्ठभाग अगदी सपाट आहे, मध्यान्हवृत्तं या सरळ रेषा आहेत, त्या एकमेकींशी समांतर आहेत, व भूमध्यवृत्तावर लंब आहेत; तसेंच अक्षांशवृत्तं ह्या सरळ रेषा आहेत, व त्या एकमेकींशी व भूमध्यवृत्ताशी समांतर आणि बरोबर आहेत. पृथ्वीच्या पाठीवरील कोणताही भाग अगदी सपाट आहे हें म्हणणें बरोबर नाही. तथापि गलबत फार लंब जात नसेल व पृथ्वीवरील थोडे चौरस मैलांचा मात्र विचार करावयाचा असेल, तेव्हां या सरळ पातळी-नौकागमनां केलें गणित पुष्कळ उपयोगी पडतें व तें बहुतेक जवळ जवळ बरोबर असतें.

उ, पू, द, प, हा पृथ्वीच्या पृष्ठ भागाचा एक तुकडा सरळ पातळीवर ( सपाट कागदावर ) काढिलेला आहे, अशी कल्पना करा. त्यावर १, २, ३, ४, ई. अक्षवृत्तं काढिलेली आहेत व ७ ८ ९ ३ ४ इत्यादि मध्यान्हवृत्तं काढिली आहेत असें समजा.



आ० २४ वी.

आतां अशी कल्पना करा की क ठि-काणाहून एक गलबत क अ दिशेने जाण्यास तयार आहे. तें अ या स्थळीं आलें म्हणजे अक हें त्याचें नाविक मैलांत अंतर होय; फक, हें त्याचें अक्षां-

शांतर होय. अफ त्याचें रेखांशांतर होय. व अकफ हा त्याचा गमन-  
मार्गकोण होय. यांतील कोणतीही दोन मापें मिळालीं तर तिसरें  
त्रिकोणमितीच्या व्याख्यांवरून सहज काढितां येतें.

आतां अफक त्रिकोणांत, त्रिकोणमितीच्या व्याख्यांवरून.

$$\text{भुजज्याक} = \frac{\text{अफ}}{\text{अक}}$$

$$\text{अथवा गमनमार्गकोणाची भुजज्या} = \frac{\text{रेखांशांतर}}{\text{अंतर.}}$$

$$\text{म्हणजे गमनमार्गभुजज्या} = \frac{\text{रेखांशांतर}}{\text{अंतर}}$$

$$\text{म्हणून रेखांशांतर} = \text{अंतर} \times \text{गमनमार्गकोण} - \text{भुजज्या.}$$

$$\therefore \text{अंतर} = \frac{\text{रेखांशांतर.}}{\text{गमनमार्गभुजज्या}} = \frac{\text{डीपारचर}}{\text{साईनकोर्स.}}$$

$$\therefore \text{अंतर} = \text{रेखांशांतर} \times \text{गमनमार्गकोणदनेरेषा}$$

$$\text{को साईनक} = \frac{\text{फक}}{\text{अक}}$$

$$\text{अथवा गमनमार्गकोणाची कोभुजज्या} = \frac{\text{अक्षांशांतर}}{\text{अंतर.}}$$

$$\therefore \text{म्हणून अक्षांशांतर} = \text{अंतर} \times \text{गमनमार्गकोभुजज्या.}$$

$$\therefore \text{अंतर} = \text{अक्षांशांतर} \times \text{गमनमार्गकोणदनेरेषा.}$$

$$\text{स्पर्शरेषा क} = \frac{\text{अफ.}}{\text{फक.}}$$

$$\text{अथवा गमनमार्ग स्पर्शरेषा} = \frac{\text{रेखांतर.}}{\text{अक्षांतर.}}$$

विद्यार्थानें वरील प्रमाणें पुरी समजे तोंपर्यंत बारंवार वाचावी व तीं कअफ, बकफ, कडग, आणि कहग. या चारी त्रिकोणांस लावून पहावी.

उदाहरण १:—एक गलबत अक्षांश  $४१^{\circ}-१५'$ . पासून  $८५$  मैल N. W. म्हणजे वायव्य दिशेने जाते; तर त्याचें अक्षांशांतर व रेखांशांतर काढा.

क स्थलापासून तें गलबत निघालें, व अक ही रेघ  $८५$  मैल अंतर दाखविते. असें समजा. उत्तर-दक्षिण दिशेने जाणाऱ्या क स्थलाच्या मध्यान्हवृत्तावर अफ ही लंब काढा. अफ हें रेखांशांतर झालें म्ह० तें ज्या मध्यान्हवृत्तापासून गलबत निघालें व ज्या मध्यान्हवृत्तावर तें आलें त्या दोन मध्यान्हवृत्तांमधील लंबांतर होय. क फ हें अक्षांशांतर होय. म्हणजे ज्या अक्षांशवृत्तापासून गलबत निघालें व ज्या अक्षांशवृत्तावर तें आलें त्या दोहोंमधील अंतर होय. फकअ हा कोन गमनमार्ग दाखवितो म्हणजे वायव्य दिशा अथवा उत्तरेकडून  $४५^{\circ}$  पश्चिमेकडे हा गमनमार्ग-कोण होय. आतां आपण पहिल्यानें अक्षांशांतर काढूं. अफक त्रिकोनांत कफ हें अक्षांशांतर आहे व त्याचा अकफ गमन-मार्ग-कोणाच्या कोमुजज्येशीं संबंध आहे. म्हणून कोमुजज्या व अक्षांशांतर यांचा संबंध दाखवूं. जसें:—

$$\text{गमनमार्ग कोमुजज्या} = \frac{\text{कफ}}{\text{अक}} = \frac{\text{अक्षांशांतर}}{\text{अंतर}}$$

$$\therefore \text{म्हणून अक्षांशांतर} = \text{अंतर} \times \text{गमनमार्गकोमुजज्या} \\ = ८५ \times ४५^{\circ} \text{ कोमुजज्या}$$

$$\left. \begin{array}{l} \therefore \text{लाग } ८९ = १.९२९४१९ \\ \text{लाग कोमुज्या } ४५^{\circ} = ९.८४९४८५ \end{array} \right\} \text{कोष्टकावरून}$$

$$\underline{\hspace{10em}} ११.७७८९०४$$

$$\text{लाग } ६०^{\circ} १' = १.७७८९०४$$

$\therefore$  म्हणून अक्षांशांतर =  $६०.१$  मैल उत्तरेकडे.

रेखांशाचा संबंध मुजज्येशी आहे:—

$$\text{तेव्हां गमनमार्ग मुजज्या} = \frac{\text{अफ रेखांशांतर}}{\text{अक अंतर}} = \frac{\text{अफ}}{\text{अक}}$$

$\therefore$  म्हणून रेखांशांतर = अंतर  $\times$  गमनमार्ग मुजज्या.

$$\left. \begin{array}{l} \text{लाग } ८९ = १.९२९४१९ \\ \text{लाग मुजज्या } ४५^{\circ} = ९.८४९४८५ \end{array} \right\} \text{कोष्टकावरून}$$

$$\underline{\hspace{10em}} १.७७८९०४$$

$$\text{लाग } ६०^{\circ} १' = १.७७८९०४$$

म्हणून रेखांशांतर =  $६०.१$  मैल पश्चिमेकडे.

या उदाहरणांत रेखांशांतर व अक्षांशांतर हे सारखेंच आहे; व जेव्हां गमनमार्ग  $४५^{\circ}$  असतो तेव्हां सदोदित अक्षांशांतर व रेखांशांतर सारखेंच असतें म्हणजे ईशान्य, आग्नेय, नैर्ऋत्य आणि वायव्य या चार उपदिशांस गलबत जात असतां त्यांचे रेखांशांतर व अक्षांशांतर सारखेंच असतें. अक्षांशांतर  $६०.१$  मैल आले एका अंशाचे  $६०$  मैल होतात म्हणून  $६०.१$  यास  $६०$  भागिले असतां  $१$  व एका अंशाच्या साठ कला असतात, तेव्हां प्रत्येक मैल ही एक कला होय. यांत मैल राहिले नाहींत म्हणून  $०$  कला आल्या व  $.१$  मैलास  $६०$  यांनी गुणिले  $६.०$  इतक्या विकला आल्या म्हणजे =  $६.०$ "

आतां आपलें गलबतः रेखांश =  $४१^{\circ}-१५'-०''$  वरून निघालें व रेखांशांतर  $६०^{\circ}१' मेल = १^{\circ}-०'-६''$  चाललें.

∴ म्हणून तें गलबत =  $४२^{\circ}-१५'-६''$  रेखांशावर आलें. वरील उदाहरणावरून पुढील दोन नियम निघतातः—

१ ला नियमः—अक्षांशांतर काढण्यास, लाग अंतरास लाग-को-भुजज्यागमनमार्ग मिळवावा, बेरीज येईल ती अक्षांशांतराचें लागरथम् होय. ( त्यावरून कोष्टकामधून अक्षांशांतर मैलांत येईल त्याचे अंश करावे )—

२ नियमः—रेखांशांतर काढण्यास लाग अंतरास लाग-भुजज्या गमनमार्ग मिळवावा व बेरीज येईल ती रेखांशांतराचें लागरथम् येईल ( त्यावरून कोष्टकामधून रेखांशांतर काढवें ते मैल येतील त्याचे अंश करावे. )

२ रें उदाहरणः—एक गलबत  $४४^{\circ}-३०'$  उत्तर अक्षांशापासून E. N. E. या दिशेने निघालें व उत्तर अक्षांश  $४६^{\circ}-१०'-०''$  पर्यंत चाललें; तर तें किती अंतर चाललें व त्याचें रेखांशांतर किती तें काढा.

अक्षांशांतर दिलें आहे. कारण गलबत निघालें तेथील उ० अक्षांश  $४४^{\circ}-३०'-०''$  व गलबत आलें तेथील उत्तर अक्षांश

$४६^{\circ}-१०'-०''$  दिलें आहेत }  $४४^{\circ}-३०'-०''$  उ०  
 $४६^{\circ}-१०'-०''$  उ०

त्यांची वजावकी हे अक्षांशांतर ∴ म्हणून  $१^{\circ}-४०'-०''$  उ०

आतां  $१^{\circ} \times ६० + ४०$  बरोबर मैल. =  $\frac{६०}{१००}$  मैल.

आतां अक्षांशांतराचा संबंध गमनमार्गाच्या कोभुजज्यशी  
असल्यामुळे:—

कफ त्रिकोणांत

$$\text{को भुजज्यागमनमार्ग.} \dots\dots\dots = \frac{\text{कफ}}{\text{कव}} = \frac{\text{अक्षांशांतर.}}{\text{अंतर.}}$$

येथे आपणास गमनमार्गकोण व अक्षांशांतर हीं दोन्ही माहीत आहेत, तेव्हां आपणास अंतर काढितां येईल.

$$\therefore \text{अंतर} = \frac{\text{अक्षांशांतर.}}{\text{को भुजज्यागमनमार्ग.}} = \text{अक्षांशांतर} \times \text{छेदनरेषा. गमनमार्ग.}$$

$$= १०० \times \text{छेदनरेषा. } ६७^{\circ} - ३०''$$

$$\text{लाग } १०० \dots\dots\dots = २००००००$$

$$\text{लागछेदनरेषा ( } ६७^{\circ} - ३०' \text{ )} = १० \cdot ४१७१६०$$

$$\underline{२ \cdot ४१७१६०}$$

$$\text{लाग } ० \cdot २६१ \cdot ३ \dots\dots\dots = २ \cdot ४१७१६ \cdot$$

$\therefore$  अंतर २६१.३ मैल E. N. E. दिशेंत. आतां रेखांशांतर काढण्यास भुजज्येशी संबंध आहे;

$$\text{म्ह० भुजज्यागमनमार्ग} = \frac{\text{कफ}}{\text{कव}} = \frac{\text{रेखांशांतर.}}{\text{अंतर.}}$$

$$\text{रेखांशांतर} = \text{अंतर} \times \text{भुजज्यागमनमार्ग}$$

$$= २६१ \cdot ३ \times \text{भुजज्या ( } ६७^{\circ} - ३०' \text{ )}$$

$$\text{लाग } २६१^{\circ}३' \text{-----} = २०४१७१ \text{ } ६०$$

$$\text{लाग भुजज्या } ६७^{\circ}-३०' \text{-----} = ९९६५६.१५$$

$$\underline{\hspace{10em}} \\ २३८२७ \text{ } ७५$$

$$\text{लाग } २४१^{\circ}४' \text{-----} = २३८२७ \text{ } ७५$$

∴ अंतर = २४१^{\circ}४' मैल पूर्व.

यावरून आपणास एक तिसरा नियम अंतर काढण्याचा मिळतो तो असा:---

३ रा नियम:—अंतर काढण्यास अक्षांशांतराच्या लागरथमांत गमनमार्ग छेदनरेषेचे लागरथम् मिळवावे व बेरीज येईल ती अंतराचे लागरथम् होईल ( त्यावरून कोष्टकांतून अंतर काढावे. )

३ रे उदाहरण:—एक गलबत उत्तरअक्षांश  $४४^{\circ}-३०'-०''$  वरून S.S.E. दिशेने ८० मैल जाते; तर त्याचे रेखांशांतर किती व ते कोणत्या अक्षांशावर आले, ते सांगा.

गमनमार्ग S.S.E. किंवा दक्षिणेहून पूर्वेकडे  $२२^{\circ}-३०'-०''$  आहे. व अंतर ८० मैल आहे.

आतां प्रथम रेखांशांतर काढूं; म्हणजे कगड त्रिकोणांत गकड कोनाची ( गमनमार्गाची ) भुजज्या काढा.

$$\text{भुजज्या गमनमार्ग} = \frac{\text{गड}}{\text{कड}} = \frac{\text{रेखांशांतर}}{\text{अंतर}}$$

$$\therefore \text{रेखांशांतर} = \text{अंतर} \times \text{भुजज्यागमनमार्ग} \\ = ८० \times \text{भुजज्या} ( २२^{\circ}-३०' )$$

कोष्टकावरून



( १४० )

लाग ८० ————— = १. ९०३.०९०  
लागभुजज्या २२°-३०' ——— = ९. ६८२८४०  
१. ४८५९३०  
लाग ३०.६१ ————— = १. ४८५९३०

महणून:—

अंतर=३०.६१ मैल पूर्व.

आतां अक्षांशांतर काढूं; म्हणजे कगड त्रिकोणांत गमनमार्गाची कोभुजज्या काढावी.

कोभुजज्या ग क ड =  $\frac{\text{गक}}{\text{कड}}$  =  $\frac{\text{अक्षांशांतर}}{\text{अंतर}}$

∴ अक्षांशांतर = अंतर × कोभुजज्यागमनमार्ग  
= ८० × कोभुजज्या २२°-३०'.

लाग ( घातांक ) ८०.....१. ९०३०९०

लाग ( घातांक ) २२°-३'.....९. ९६५६१५

कोष्टकावरून १. ८६८७०५

घातांक ७३.९१.....१. ८६८७०५

∴ ( म्हणून ) अक्षांशांतर ७३. ९१ मैल. आतां साठ मैलांचा १° व १३' = मैल १३ कला व ९१ × ६० = ५४.६०" विकला म्हणून

रेखांशांतर = १°-१३'-५४.६".

∴ गलबत आले त्या स्थलाचे अक्षांश काढण्यास, गलबत निघाले तेथील अक्षांश = ४४°-३०'-उत्तर.

+ अक्षांशांतर..... = १°-१३'-५४.६" उ०

बरोबर गलबत आले त्या स्थलाचे अक्षांश = ४३°-१६'-५४.४" उत्तर.

४ थें उदाहरणः—एक गलबत  $४४^{\circ}-३०'-०''$  उत्तर अक्षां-  
शावरून निघालें, व दक्षिण आणि पश्चिम या दिशांच्या मधून  
 $१७०$  मैल चालून उत्तर अक्षांश  $४२^{\circ}-५९'-४४''$  वर आलें;  
तर त्याचा खरा गमनमार्ग कोणता व त्याचें रेखांशांतर काय  
तें सांगा ?

( अ ) अंतर  $१७०$  मैल दिलेलें आहे.

( ब ) अक्षांतर दिलेलें आहे. कारण,  
निघाल्या जागेचे अक्षांश  $४४^{\circ}-३०'-०''$  उत्तर.  
आलेल्या जागेचे अक्षांश  $४२-५९-४४''$  उत्तर.

अक्षांशांतर. दक्षिण.  $१^{\circ}-३४'-१६''$

$१^{\circ}$  अंशाचे  $६०$  मैल.  $= ६० + ३४ = ९४$

$\frac{१६''}{६०} = ०.२६ \therefore = ९४. २६$  मैल दक्षिण.

आतां ( १ ) आपणास गमनमार्ग काढावयाचा आहे. व आप-  
णास अंतर व अक्षांशांतर माहीत आहे म्हणून आपण कहग त्रिको-  
णाची कोभुज्या काढली पाहिजे, म्हणजे गमनमार्ग निघेल.

कोभुज्या क ह ग  $= \frac{\text{कग}}{\text{क ह}} = \frac{\text{अक्षांशांतर}}{\text{अंतर}} = \frac{९४-२६}{१७०}$

$९४-२६$  चा घातांक  $( + १० ) = ११. ९७४३२७$

$१७०$  चा घातांक  $\dots\dots\dots = २. २३०४४९$

कोभुज्या  $५६-१९$  चा घातांक  $= ९. ७४३८७८$

∴ गमनमार्ग ५६°-१९' दक्षिणेकडून पश्चिमेस.

आतां ( २ ) रेखांशांतर काढण्यास आपण भुजज्येचा उप-  
योग केला पाहिजे. हकग त्रिकोणांत.

$$\text{भुजज्या हकग} = \frac{\text{हग}}{\text{हक}} = \frac{\text{रेखांशांतर}}{\text{अंतर}}$$

$$\therefore (\text{म्हणून}) \text{ रेखांशांतर} = \text{अंतर} \times \text{भुजज्या हकग} \\ = १७० \times \text{भुजज्या } ५६-१९$$

$$\text{घातांक भुजज्या } ५६-१९ \dots = ९. ९२०१८४$$

$$\text{घातांक } १७० \dots = २. २३०४४९$$

$$\text{कोष्टकावरून} \quad \underline{\quad \quad \quad} \quad २. १५०६३३$$

$$\text{घातांक } १४१. ४ \dots = २. १५०६३३$$

$$\therefore (\text{म्हणून}) \text{ रेखांशांतर} = १४१. ४ \text{ मैल पश्चिमेकडे.}$$

या उदाहरणावरून गमनमार्ग काढण्याचा एक नियम  
निघतो तो असा:—

( १ ) गमनमार्ग काढण्यास, अक्षांशांतराचे घातांकांतून  
अंतराचा घातांक वजा करावा, बाकी राहिल तो गमनमार्गाचे  
कोभुजज्येचा घातांक होय. ( वजाबाकी करितांना अक्षांशांतराचे  
घातांकांत १० मिळवावे. )

५वें उदाहरण:—एक गलबत उत्तर अक्षांश ४४°-३०'-०"वरून  
निघून उत्तर व पश्चिम यांच्या मधील कोणत्या तरी दिशेने २००  
मैल जाते; तेव्हां त्याचे रेखांशांतर १५५ मैल होते; तर ते कोणत्या  
स्वऱ्या गमनमार्गाचे गेले व त्याचे अक्षांशांतर किती ते काढा.

( १ ) अंतर दोनशें २०० मैल दिलेले आहे, व ( २ )

रेखांशांतर १५५ मैल दिले आहे. यावरून गमनदिशा ( मार्ग ) काढावयाची.

रेखांशांतर १५५ मैल दिले आहे तेव्हां अकफ त्रिकोणांत आपण मुजज्येचा ( साईनचा ) उपयोग करावा म्हणजे गमन-दिशा निघेल.

$$\text{मुजज्या अकफ} = \frac{\text{अफ रेखांशांतर}}{\text{अक अंतर}} = \frac{१५५}{२००}$$

$$\text{घातांक } १५५ ( + १० ) \dots = १२. १९०३३२$$

$$\text{घातांक } २०० \dots = २. ३०१०३०$$

$$( \text{कोष्टकावरून} ) \quad \underline{\underline{९. ८८९३०२}}$$

$$\text{मुजज्या } ( ५०^{\circ} - ४८' ) \dots = ९. ८८९३०२$$

∴ गमनमार्ग उत्तरेकडून  $५०^{\circ} - ४८'$  पश्चिमेकडे.

( २ ) अक्षांशांतर काढण्यास कोमुजज्येचा उपयोग करावा. म्हणून अकफ त्रिकोणांत.

$$\text{को मुजज्या अकफ} = \frac{\text{कफ अक्षांशांतर}}{\text{अक अंतर}}$$

∴ अक्षांशांतर = अंतर × को मुजज्या अकफ

$$= २०० \times \text{को मुजज्या } ( ५०^{\circ} - ४८' )$$

$$\text{घातांक } २०० \dots = २. ३०१०३०$$

$$\text{घातांक कोमुजज्या } ( ५०^{\circ} - ४८' ) = ९. ८००७३७$$

$$( \text{कोष्टकावरून} ) \quad \underline{\underline{२. १०१७६७}}$$

$$\text{घातांक } १२६.४ \dots = २. १०१७६७$$

∴ ( म्हणून ) अक्षांशांतर = १२६.४ मैल उत्तरेस.



$$\text{म्हणून अक्षांतर क फ} = \begin{cases} \text{कोभुजज्या अ क फ} \times २०० \\ \text{त्रिज्या ( १०' )} \end{cases}$$

या ( पांचव्या ) उदाहरणावरून गमनमार्ग काढण्याचा दुसरा नियम निघतो तो असा:—

२ रा नियम:—गमनमार्ग काढण्यास, रेखांशांतराचे घातांकांत १० मिळवून त्यांतून अंतराचा घातांक वजा करा. बाकी राहिल ती गमनमार्गभुजज्येचा घातांक होय.

६ वे उदाहरण:—एक गलबत उत्तराक्षांश--४४°-३०'-०" वरून निघून S दक्षिण व E पूर्व याच्या मधील कोणत्या तरी दिशेने रेखांशांतर ८० मैल व अक्षांशांतर १६९ मैल होईल तोपर्यंत जाते; तर त्याचा खरा गमनमार्ग काय व त्याचे अंतर किती आणि ते कोणत्या अक्षांशांतरावर आले ते सांगा.

येथे अक्षांशांतर १६९ मैल व रेखांशांतर ८० मैल दिलेले आहे. त्यावरून आपणास गमनमार्ग क ड ग त्रिकोणावरून काढितां येईल.

( आकृति २६ पहा - ).

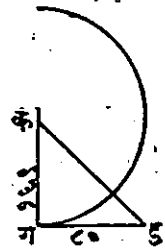
स्पर्शरेषा ड क ग = गड.

$$\frac{\text{रेखांशांतर.}}{\text{अक्षांशांतर.}} = \frac{८०}{१६९}$$

$$\text{घातांक } ८० (+१०) = ११००३०९०.$$

$$\text{घातांक } १६९ = २२२७७८८,$$

$$९६१५२०२$$



आ० २६.

घातांकस्पर्शरेषा  $२५^{\circ}-२०' = ९.६७९२०३$

∴ गमनमार्ग कोन दक्षिणेकडून  $२५^{\circ}-२०'$  पूर्वेकडे हा होय.

भुजज्येचा अथवा कोभुजज्येचा उपयोग करून अंतरकाढितां येते:—

$$\text{भुजज्या गकड} = \frac{\text{गड}}{\text{कड}} = \frac{\text{रेखांशांतर}}{\text{अंतर}}$$

$$\therefore \text{अंतर} = \frac{\text{रेखांशांतर}}{\text{भुजज्या गकड}} = \text{रेखांशांतर} \times \text{छेदनरेषा गकड.}$$

$$= ८० \times \text{कोछेदनरेषा ( } २५^{\circ}-२०' \text{ )}$$

$$\text{घातांक } ८० \dots \dots \dots = १.९०३०९०$$

$$\text{घातांक कोछेदनरेषा } २५^{\circ}-२०' = १०.३६८६७४$$

$$\text{( कोष्टकावरून )} \quad \underline{\quad \quad \quad २.२७१७६४}$$

$$\text{घातांक } १८६.९ \quad \quad \quad = २.२७१७६४$$

$$\therefore \text{अंतर} = १८६.९ \text{ मैल.}$$

गलबत निघालें तेथील अक्षांश.  $४४^{\circ}-३०'-०''$  उत्तर.

वजा अक्षांशांतर— $२^{\circ}-४९'-०''$  द०

$$\therefore \text{गलबत आलें तेथील अक्षांश.} = ४१^{\circ}-४१'-०'' \text{ उ०—}$$

७ वें उदाहरण:—वरील उदाहरणांत जर होक्याचें चलन  $३१^{\circ}-२०'$  पूर्वेकडे व विचलन  $९^{\circ}$  पश्चिमेस असतें, तर गमनमार्ग काय होता.

खरा गमनमार्ग.....  $२५^{\circ}-२०'$  दक्षिणेचे डावे बाजू.

चलन.....  $३१^{\circ}-२०'-०''$  ( उलट ).

$$\underline{\quad \quad \quad ५६^{\circ}-४०'-०''}$$

विचलन..... ९—०— द. उ. बा.

होक्यावरील गमनमार्ग  $४७^{\circ}-४०'-०''$  द. डा. बा.

या उदाहरणावरून गमनमार्ग काढण्याचा तिसरा नियम निघतो तो असा:—

३ रा नियम:—गमनमार्ग काढण्यास--रेखांशांतराचे घातांकांतून अक्षांतराचा घातांक वजा करावा. बाकी राहिल तो गमनमार्ग-स्पर्श-रेषेचा घातांक होय.

८ वें उदाहरण:—एक गलबत अ पासून व पर्यंत गेलें तर होक्यावरून गमनमार्ग काय होईल?—

अचे उत्तर अक्षांश  $५०^{\circ}-२५'$ , पश्चिम रेखांश  $५^{\circ}-१५'$ ; वचे उ० अक्षांश  $५१^{\circ}-५५'$ , पश्चिम रेखांश  $५^{\circ}-१५'$ , होक्याचे चलन  $२३^{\circ}-१६'$  पश्चिमेस, विचलन  $८^{\circ}-४'$  पूर्वेस आहे.

येथें फक्त अक्षांशांतर  $१^{\circ}-३०' = ९०$  मैल आहे. रेखांशांतर नाही; म्हणून खरा गमनमार्ग उत्तर हा आहे; व अंतर  $९०$  मैल आहे. आतां आपणास खऱ्या गमनमार्गावरून होक्यावरील गमनमार्ग काढावयाचा आहे.

म्हणून चलन व विचलन हीं खरा गमनमार्ग काढितांना घेतात त्याचे उलट दिशेने घ्यावी.

खरा गमनमार्ग—उत्तर.

चलन—  $२३^{\circ}-१६'$  उजवेकडे

विचलन—  $८^{\circ}-४'$  डावेकडे.

होक्यावरील मार्ग  $१९^{\circ}-१२'$  उजवेकडे.

म्हणजे उत्तरेच्या.  $१५^{\circ}-१२'$  पूर्वेस.



### सरलैकरेणानौकागमन—

म्हणजे एका सरळ रेषेत गलबताची चाल काढणे:--या रीतीने गलबत निरनिराळ्या दिशेने निरनिराळीं अंतरें चालून शेवटीं ज्या स्थळीं येते, त्या स्थळीं तें कोणच्या एकाच दिशेने आले असते, व त्या शेवटच्या स्थळाचे प्रथम स्थलापासून एका सरळ रेषेत अंतर किती झाले असते, तें काढितां येते. कोणतेही गलबत एका बंदरापासून दुसऱ्या बंदरीं एकाच दिशेने क्वचितच नेतां येते. कारण मध्ये जमीन खडक, वाळूचे ढाग, प्रतिकूल वारा वगैरे आल्यामुळे गलबताची दिशा वरचेवर फिरवावी लागते. हा जो निरनिराळ्या दिशेने गलबताचा मार्ग त्यास ट्राव्हर्स म्हणतात.

५०. ट्राव्हर्स कोष्टके—नाविककोष्टकांच्या प्रत्येक पुस्तकांत ट्राव्हर्स कोष्टके असली पाहिजेत. तीं पुढें सांगितल्याप्रमाणें केलेली असतात. एक मैलापासून ३०० मैलांपर्यंत प्रत्येक पूर्ण मैलाचे अंतर दिलेले असते व त्या अंतरापुढें एक अंशापासून ४५° पर्यंत प्रत्येक दिशेचे (गमनमार्गाचे) अक्षांशांतर व रेखांशांतर दिलेले असते; म्हणजे = त्यांत काटकोन त्रिकोणाचे सर्व अवयव दिलेले असतात. कारण १ पासून ३०० पर्यंत अंतर दिलेले असते; तो त्या काटकोन त्रिकोणाचा कर्ण (काटकोनासमोरची बाजू) होय, व अक्षांशांतर आणि रेखांशांतर ह्या त्या काटकोनाच्या जवळच्या दोन बाजू होत. व १° पासून ४५° पर्यंत कोन दिलेले असतात त्यावरून तिन्ही कोन निघतात; कारण काटकोन त्रिकोणांत एक काटकोन असतोच व बाकीचे दोन कोन हे एकमेकांचे कोटि-कोण असतात. पहिल्या पानावर १ पासून ३०० पर्यंत मैल दिलेले असतात. त्यापुढे १° गमनमार्ग कोनाचे अक्षां-

शांतर व रेखांशांतर दिलेले असते. परंतु कोणत्याही कोनाची भुजज्या त्याचे कोटि—कोणाच्या कोभुजज्येबरोबर असते व  $१^{\circ}$  चा कोटि—कोण  $८९^{\circ}$  हा आहे. म्हणून  $१$  अंशाच्या कोनाचे अक्षांशांतर हे  $८९^{\circ}$  अंशाच्या कोनाच्या रेखांशांतराबरोबर आहे व  $१^{\circ}$  अंशाच्या कोनाचे रेखांशांतर हे  $८९^{\circ}$  अंशाच्या कोनाच्या अक्षांशांतराबरोबर आहे. म्हणून  $१^{\circ}$  अंशाच्या पानाचे खाली  $८९^{\circ}$  मांडलेले असतात म्हणजे  $१^{\circ}$  चे पान  $८९^{\circ}$  अंशाच्या उपयोगी पडते. फक्त अक्षांशांतराचे सदराखाली रेखांशांतर लिहावे व रेखांशांतराच्या सदराखाली अक्षांशांतर लिहावे म्हणजे झाले. याचप्रमाणे  $२^{\circ}$  अंशाचे पान  $८८^{\circ}$  अंशाचे उपयोगी पडते म्हणून  $४९$  पानांत सर्व ट्राव्हर्स कोष्टक पुरे होते. खरे म्हटले असता दर्यावर्दी लोक एक एक अंशावर गलबताची नाळ लावीत नाहीत. तर ते आपला गमनमार्ग एक एक दिशाबिंदु ( $११\frac{३}{४}^{\circ}$ ) म्हणजे खंड, व पाव दिशा बिंदु पावखंड ( $२\frac{३}{४}^{\circ}$ ) यावर लावितात. म्हणून पाव, अर्धा, पाऊण, इत्यादि दिशाबिंदूंचे म्ह० खंडांचे अक्षांशांतर व रेखांशांतराचे कोष्टक निराळें तयार केले असते, म्हणजे ते पाव पाव दिशा बिंदूचे अंतराने सर्व गमनमार्ग दाखविते. व ते एक एक अंशाच्या अंतराच्या गमनमार्गाच्या कोष्टकाच्या आधी देतात.

कोणत्याही काटकोन त्रिकोणाचे फक्त दोन अवयव दिले असता ट्राव्हर्स कोष्टकावरून गणित केल्याशिवाय, इतर सर्व अवयव काढिता येतात. या रीतीस कोष्टकावरून गणित करण्याची रीति असे म्हणतात. या भागांत मागे दिलेली सर्व उदाहरणे या रीतीने करिता येतील. म्हणून विद्यार्थ्यांना सरळपातळी

नौकागमनाचे हिशेबाचीं उत्तरे ट्रान्झर्स कोष्टकावरून पाहून आपले गणिताशीं मिळतात किंवा नाहीं तें पाहावें.

सरलैकरेधानौकागमनाची रीति म्हणजे—निरनिराळ्या दिशांनीं, निरनिराळ्या सरळ रेषांत झालेली गलबताची निरनिराळी चाल एकाच दिशेनें एकाच सरळ रेषेत काढिली असतां कोणत्या दिशेनें व किती लांब येईल हें काढण्याची रीति होय. ही गलबताची मिश्र चाल एकाच दिशेनें ( म्ह० एकाच सरळ रेषेत ) किती लांब येईल हें भूमितीच्या आधारे कसे काढावें तें, एक उदाहरण घेऊन प्रथम दाखवूं; व नंतर ट्रान्झर्स कोष्टकाचा उपयोग करून ती हमेशा कशी काढतात तें दाखवूं.

### उदाहरण.

एक गलबत उत्तर अक्षांश  $५१^{\circ}-२५'$  व पश्चिम रेखांश  $८०^{\circ}-१२'$  या स्थलाहून निघालें, तें ( १ ) S. S. E. ( म्ह० दक्षिणेकडून पूर्वेकडे दोन बिंदु या दिशेनें ३० मैल चाललें; ( २ ) E. बाय S. ( म्हणजे पूर्वेकडून दक्षिणेकडे १ बिंदु ) या मार्गानें १८ मैल चाललें; ( ३ ) नंतर S. W. बाय W. ( म्हणजे दक्षिणेकडून पांच बिंदु पश्चिमेकडे ) या मार्गानें ३६ मैल चाललें; व ( ४ ) W.  $\frac{३}{४}$  N. ( म्हणजे उत्तरेकडून पश्चिमेकडे  $७\frac{३}{४}$  बिंदु ) या मार्गानें १४ मैल चाललें व ( ५ ) SE by E  $\frac{३}{४}$  E ( म्हणजे दक्षिणेकडून पूर्वेकडे  $५\frac{३}{४}$  बिंदु ) या मार्गानें ४६ मैल चाललें, तर त्या गलबताचा एक गमनमार्ग व अंतर काय; व तें ज्या स्थळीं आलें त्या स्थळाचे अशांक्ष व रेखांश काय तें काढा. म्हणजे तें गलबत इतके निरनिराळे मार्ग क्रमून शेवटीं ज्या ठिकाणीं आलें, त्या ठिकाणीं एकाच सरळ मार्गानें आलें असतें, तर तें तेथें कोणत्या दिशेनें आलें असतें व

त्यास किती मैल चालवें. लागलें असतें तें सांगा. व तें शेवटीं ज्या स्थळीं आलें त्या स्थळाचे अक्षांश व रेखांश किती तें सांगा.

आकृति २७ मध्ये अ हा दिशाचक्राचा मध्य आहे असे समजा. ( १ ) प्रथम अ स्थळापासून गलबत S. S. E. दिशेने ३० मैल गेलें तर अब रेघ S. S. E. दिशेने काढा ह्यणजे उअग या

मध्यान्हवृत्ताशीं अ व २ बिंदु ह्यणजे २२°-३०'-० एवढा कोन करील.

नंतर ३६ मैलांस १ इंच या अगर दुसऱ्या पाहिजे त्या स्केलानें अ व ३०

मैल लांब करून घ्या. ( २ ) नंतर तें गलबत E बाय S या दिशेने

१८ मैल जातें ह्यणून ब क, E बाय S ह्यणजे दक्षिणेकडून पूर्वेकडे ७

बिंदु या दिशेने त्याच स्केलानें १८ मैल काढा. ( ३ ) आतां गलबत

SW by W या दिशेने ३६ मैल जातें म्हणून क ड ही दक्षिणेकडून पांच

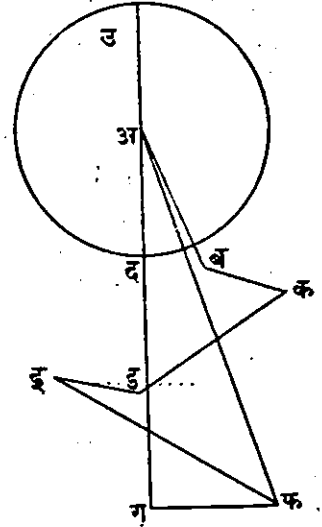
बिंदु पश्चिमेकडे या दिशेने काढा व ती स्केलानें ३६ मैल करून घ्या. ( ४ )

नंतर तें गलबत W ३/४ N या दिशेने १४ मैल जातें म्हणून ड ई उत्तरेकडून

पश्चिमेकडे ७ १/४ बिंदु ह्यणजे ८१°-३३'-४५" एवढा कोन करून काढा व ती त्याच स्केलानें १४ मैल करून घ्या.

( ५ ) शेवटीं तें गलबत मागे फिरून SE बाय E ३/४ E या दिशेने ४६ मैल जातें म्हणून ई फ ही दक्षिणेकडून ५ १/४

स्केल ३६ मैल = १ इंच.



आ० २७.

बिंदु पूर्वेकडे या दिशेने काढा व ती ४६ मैल त्याच स्केलाने करून घ्या. याप्रमाणे ते गलबत फ ठिकाणी आले. हे भूमितीच्या आधारें आकृतीवरून निघाले. आतां त्या स्थळाचे अक्षांश व रेखांश त्याच रीतीने काढूं. ज्या अ स्थळावरून गलबत निघाले त्या स्थळाच्या उअग या मध्यान्हवृत्तावर फ बिंदूपासून फ ग हा लंब काढा म्हणजे फग हे रेखांशांतर होईल व ते स्केलाने २९ मैल आहे. अग हे अक्षांशांतर झाले व ते स्केलाने ७२ मैल आहे. अफ सांधा म्ह० गअफ हा गमनमार्ग कोन आहे व तो मापला असतां दक्षिणेकडून पूर्वेकडे १९ अंश आहे असे आढळून येईल. व अफ अंतर हे स्केलाने ७७ मैल भरते म्हणून भूमितीच्या आधारें:—

अक्षांशांतर ७२. मैल.

रेखांशांतर २९. मैल.

गमनमार्ग कोन द० १९° पूर्वेस.

अंतर .... ७७ मैल.

} ही उत्तरे आली.

टीप:—वरील उत्तरे भूमितीचे आधारें काढितांना आकृति फार जपून स्केलाने काढिली पाहिजे; त्यांत किंचित् चूक झाली असतां उत्तरांत मोठी चूक येण्याचा संभव आहे.

आतां या मिश्र मार्गाचा ट्रान्हर्स कोष्टकांवरून सरलैकरेषा-गमनमार्ग कसा काढावा ते दाखवूं म्हणजे, फक्त ट्रान्हर्स कोष्टकांचा उपयोग करून, कांहीं गणित केल्याशिवाय, वरील उत्तरे कशी काढावीं ते समजेल.

याकरितां एक सहा सदरांचें कोष्टक तयार करावें लागतें. ते असे:—

( १५३ )

## ट्रान्हर्स कोष्टक.

गमनमार्ग (कोन).	अंतर मैल	अक्षांशांतर मैल		रेखांशांतर मैल	
		उ०	द०	पू०	प०
( Points )					
S. S. E. दक्षिणेक० पूर्वस २ बिंदु.	३०		२७°७	११°५	
E. बाय S. द० पूर्वस ७ बिंदु.	१८		३°५	१७°७	
S. W. बाय W द० पश्चिमेस ५ बिंदु.	३६		२०°		२९°९
W. $\frac{३}{४}$ N. उ० पश्चिमेस ७ $\frac{३}{४}$ बिंदु.	१४	२१			१३°८
S. E. बाय E. $\frac{१}{४}$ E. = द० पूर्वस ५ $\frac{३}{४}$ बिंदु.	४६		२३°६	३९°५	
		२°१	७४°८	६८°७	४३°७
			२°१	४३°७	
		अक्षांशांतर दक्षिण	७२°७	२५°०	रेखांशां तर पूर्व

( १ ) प्रथम उभ्या रेघा काढून सहा सदरें करा. पहिल्या किंवा डावे हाताचे सदरांत क्रमानें गमनमार्गकोन एकाखाली एक असे लिहा. दुसऱ्या सदरांत त्या त्या गमनमार्गाचीं अंतरें क्रमानें लिहा. त्याचे पुढील दोन सदरांत अक्षांशांतर उत्तर किंवा दक्षिण हें दाखविण्याकरितां उ० व द० हीं दोन अक्षरें लिहा व शेवटच्या दोन सदरांत रेखांशांतर पूर्व किंवा पश्चिम हें दाखविण्याकरितां पू. व प. हीं दोन अक्षरें लिहा. ( २ ) आतां पहिला गमनमार्ग २ बिंदु आहे म्हणून ट्रान्हर्स कोष्टकाचे दोन बिंदु किंवा २२-३०' चें पान काढा. त्यांत अंतराचे सदराखाली ३० मैल हें अंतर पहा. त्याचे पुढें २७.७ अक्षांशांतर व ११.५ रेखांशांतर हे आंकडे मिळ-

तील ते याम्योत्तर ( दक्षिणोत्तर ) वृत्तांशी उत्तरेकडून किंवा दक्षिणेकडून दोन बिंदु ( २२-३०" ) चा कोन करून ३० मैल चालले असता अक्षांशांतर व रेखांशांतर किती मैल येईल ते दाखवितात. गमनमार्ग S S E आहे म्हणून अक्षांशांतराचे ६० सदराखाली २७.७ मैल लिहा व रेखांशांतराचे कोष्टकांत पू. सदराखाली ११.५ लिहा.

दुसरा गमनमार्ग E बाय S असल्यामुळे, ट्रान्हर्स कोष्टकाचे खालून ७ बिंदूचे व वरून १ बिंदूचे अक्षांशांतर व रेखांशांतर दाखविणारे पान काढा, व त्यांत पहिल्या किंवा डावे हाताकडील अंतर या सदराखाली १८ मैल हें अंतर पहा, त्याचे समोरील सदरांत १७.७ व ३.५ हे आंकडे सांपडतील. परंतु आपला गमनमार्ग ७ बिंदु हा त्या पानाचे खाली असल्यामुळे ३.५ हें अक्षांशांतर व १७.७ हें रेखांशांतर होय. हीं नांवे त्या सदरांचे खालच्या बाजूस दिलेली असतात, तीं पहावीं; व अक्षांशांतर दक्षिण आहे म्हणून तें द० या सदराखाली लिहावें व रेखांशांतर पूर्व आहे म्हणून तें पू० या सदराखाली लिहावें.

तिसरा गमनमार्ग दक्षिणेकडून पश्चिमेस ५ बिंदु आहे म्हणून ट्रान्हर्स कोष्टकाचे ५ बिंदुचे पान काढा; पांच बिंदु त्या पानाचे खाली लिहिलेले सांपडतील त्यांत ३६ अंतराचे पुढें २० व २९.९ हे आंकडे सांपडतील. त्यांतील २० हें अक्षांशांतर द० या सदराखाली लिहा व २९.९ हें रेखांशांतर पू० या सदराखाली लिहा. येथें गमनमार्ग ५ बिंदु हा पानाचे खाली दिलेला असल्यामुळे अक्षांशांतर व रेखांशांतर हीं नांवेही पानाच्या खालच्या बाजूस दिलेली असतील तीं पहावीं.

चवथा गमनमार्ग ७३ बिंदु हाही पानाचे खाली सांपडेल ७३ बिंदूचे पानांत अंतरसदरांत १४ मैल पहा व त्याचेपुढे १३.८ व २.१ हे दोन आंकडे असतील ते २.१ अक्षांतर व १३.८ रेखांतर असे वाचावे व ते उ० व प० या सदरांत क्रमाने लिहावे.

पांचवा गमनमार्ग ९३ बिंदु हाही ट्रान्हर्स कोष्टकांतील पानाचे खाली लिहिलेला असेल ते पान पहावे आणि ४६ अंतराचे समोर २३.६ व ३९.५ हे आंकडे असतील त्यांतील २३.६ हे अक्षांतर द० सदराखाली लिहावे व ३९.५ हे रेखांतर पू० या सदराखाली लिहावे.

( ३ ). अक्षांशांतर व रेखांशांतर या सदरांतील द० व उ० तसेच पू० व प० या सदरांतील अंकांची निरनिराळी बेरीज करा व द० उ० या जोडीतील व पू० प० या जोडीतील बेरजेचा लहान आंकडा मोठ्या आंकड्यांतून वजा करा. वरील उदाहरणांत ७४.८ द० मधून २.१ उ० अक्षांश वजा करावे व बाकी ७२.७ द० अक्षांशांतर राहिल. नंतर रेखांश ६८.७ पूर्व मधून पश्चिमरेखांशांतर ४३.७ प. हे वजा करावे म्हणजे बाकी २५ मैल पूर्व रेखांशांतर राहिल. म्हणजे हे पांच मार्ग क्रमून शेवटी गलबताचे ७२.७ मैल हे दक्षिण अक्षांशांतर व २५ मैल हे पूर्व रेखांशांतर आहे.

( ४ ) आतां फिरून ट्रान्हर्स कोष्टक पहा व त्यांत ७२.७ व २५ हे आंकडे एकापुढे एक असे अक्षांतर व रेखांतर या सदरांत पहा. थोडासा अभ्यास केला असतां हे लवकर सांपडतील. परंतु हे लक्ष्यांत ठेवावे कीं जर अक्षांशांतर अधिक असेल तर गमनमार्ग पानाच्या वरती लिहिलेला असेल; व जर रेखांशांतर अधिक असेल तर गमनमार्ग पानाच्या खाली लिहिलेला सांपडेल. आतां वरील



उदाहरणांतील ७२.७ व २५ हे आंकडे किंवा त्याचे अगदी जवळचे ७२.८ व २५.१ हे आंकडे १९ अंशांचे पानावर ७७ अंतरासमोरचे सदरांत सांपडतील; म्हणून आपण खाली लिहिल्या-प्रमाणे उत्तरे लिहावी:-

गमनमार्ग	द० क० १९° पूर्वेकडे.
अंतर .....	७७ मैल.
अक्षांशांतर .....	७२ मैल द०
रेखांशांतर .....	२५ मैल पूर्व

ही टाव्हर्स कोष्टकावरून काढलेली उत्तरे भूमितीच्या आधारें स्केलानें आकृतीवरून काढलेल्या उत्तरांशी किती बरोबर जुळतात हें विद्यार्थ्यांनै लक्षांत ठेवावें.

( ५१ ) कोष्टकावरून रेखांशांतर काढणें.

आतां ज्या ठिकाणी गलबत आलें त्या ठिकाणचे अक्षांश व रेखांश काढावयाचे आहेत. ज्या ठिकाणाहून गलबत निघालें त्या ठिकाणच्या अक्षांशांस गलबताचें अक्षांशांतर मिळविलें म्हणजे, गलबत ज्या ठिकाणी आलें, त्या ठिकाणचे अक्षांश मिळतील. परंतु रेखांश काढण्याची रीति इतकी सरळ नाही, कारण रेखांशांतराचे जे मैल येतात, ते फक्त विषुववृत्तावर अंश, कलांनी सहज दाखवितां येतात; पण जसजसे विषुववृत्तापासून उत्तरेकडे अथवा दक्षिणेकडे जावें; तसतसे रेखांशाच्या एका कलेची लांबी कमी कमी होते. म्हणून जितके मैल गलबत पूर्व किंवा पश्चिम गेलें असेल त्या मैलांचे रेखांश करणें, हें तें गलबत ज्या मध्य अक्षांशांतरावर चाललें असेल त्यावर अवलंबून आहे. तें कसे हें पुढें स्पष्ट करून दाखवूं. परंतु सध्या गलबत ज्या ठिकाणी आलें त्या ठि-

काणचे रेखांश टाव्हर्स कोष्टकावरून काढतां येणें जरूर असल्या-  
मुळें ( डिपार्चरा ) रेखांशांतरावरून रेखांश कसे काढावे तें सांगितलें  
पाहिजे. तें थाडक्यांत वरील उदारण घेऊन सांगतो.

$$\begin{aligned} \text{निघाल्या ठिकाणचे अक्षांश .... } & ११^{\circ}-२५'-०'' \text{ उत्तर,} \\ \text{अक्षांशांतर } ७२-७ \text{ मैल द०} & = १^{\circ}-१२'-४२'' \text{ दक्षि०} \\ \text{पोंचल्या ठिकाणचे अक्षांश} & = \frac{१०^{\circ}-१२'-१८''}{\phantom{=}} \end{aligned}$$

यावरून मध्य अक्षांश काढण्यास दोहोंची बेरीज घेऊन त्यास  
दोहोंनी भागावें.

$$\begin{aligned} \text{निघाल्या ठिकाणचे अक्षांश .... } & ११^{\circ}-२५'-०'' \\ \text{पोंचल्या-ठिकाणचे अक्षांश .... } & ५०^{\circ}-१२'-१८'' \\ \text{बेरीज } \div २२ & \frac{१०१^{\circ}-०७'-१८''}{\phantom{=}} \\ \text{=मध्याक्षांश०=} & \frac{५०^{\circ}-४८'-४९''}{\phantom{=}} \text{ हें} \\ & ९०^{\circ}-०-० \end{aligned}$$

$$९०^{\circ} \text{ तून वजा केलें असतां } \frac{३९^{\circ}-११'-२१''}{\phantom{=}} \text{--हे}$$

को-मध्यअक्षांश अथवा पूरक मध्यअक्षांश होत.

पूरक मध्यअक्षांश ह्मणजे दिलेल्या दोन अक्षांशांच्या मध्यां-  
शाचें जवळच्या ध्रुवापासून अंतर.

आतां टाव्हर्स कोष्टकांतून हे पूरक मध्याशांक्षांचें (  $३९^{\circ}$  )  
पान काढा; त्यांत डिपार्चरचें किंवा रेखांशांतराचे घरांत २५ मैल  
( किंवा त्याचे अगदीं जवळचा अंक २५.२ ) आहे तो पहा,  
व त्याच्या मागें, अंतराचे घरांत, ४० मैल हा आंकडा सांपडेल.  
तें खरें रेखांशांतर जाणवें.  $४० \text{ मैल} = ०^{\circ}४०'-०''$

( १५८ )

निघाल्या ठिकाणचे पश्चिम रेखांश  $८^{\circ}-१२'-०''$  पश्चिम  
खरे रेखांशंतर पूर्व  $०^{\circ}-४०'-०''$  पूर्व  
वजा करून बाकी राहिले ते }  
पोंचल्या ठिकाणचे रेखांश }  $७^{\circ}-३२'-०''$  पश्चिम  
रेखांश.

## उदाहरण.

--:०:--

एक गलबत दक्षिण अक्षांश  $२०^{\circ}-४४'-०''$  व पूर्व रेखांश  $४०^{\circ}-२७'-०''$  या ठिकाणाहून खाली लिहिलेल्या दिशेने दिलेली अंतरे चालून गेले, तर ते शेवटी कोणत्या ठिकाणी पोहोचले ते सांगा; व जर चलन  $०^{\circ}-३१'-०''$  पूर्व, आणि विचलन- $८^{\circ}-५६'-०''$  पश्चिम, असेल तर त्याचाखाली दिलेल्या मिश्र मार्गावरून एक सरळ गमनमार्ग व अंतर काढा,

( १ ) SSW या दिशेने अंतर ११२ मैल; ( २ ) S.by ( बाय ) E या दिशेने अंतर ८६ मैल; ( ३ ) S बाय W या दिशेने ८६ मैल; ( ४ ) SSE दिशेने ११२ मैल; ( ५ ) दक्षिण दिशेने ५० मैल; ( ६ ) SE बाय S या दिशेने ९० मैल.

( १५९ )

## ट्रान्हर्स कोष्टक.

गमनमार्ग अ० दिशा.	अंतर मैल	अक्षांशांतर		दिपारचर रेखांशांतर	
		उत्तर	दक्षिण	पूर्व	पश्चिम
विंदु					
S. S. W. द. क. पश्चि. २	११२	"	१०३°६	"	४२°९
S. by E. द. क. पूर्वस १	८६	"	८४°३	१६°८	
S by W. द. क. पश्चि. १	८६	"	८४°३	"	१६°८
S. S. E. द. क. पूर्वस २	११२	"	१०३°५	४२.९	
S. दक्षिण	५०	"	५०.	"	"
S. E. by S. S. पूर्वस ३	९०	"	७४°८	५०°०	"
		अक्षांशांतर दक्षिण.		५००°४	१०९°७
				५९°७	रेखां० प.
				५०°०	पूर्व

खरा गमनमार्ग द० क० पूर्वस ६°; अंतर ५०२ मैल.

विद्यार्थ्यांनीं प्रत्येक उदाहरणाकरितां एक आकृति काढावी. त्यास हत्याराची जरूर नाहीं; कारण वर्तुळें कांहीं नाणें कागदावर दाबून धरून त्यांभोवतीं रेघ काढून काढावी, व अंतराच्या सरळ रेघा नजरेनें लांबीच्या प्रमाणांत काढाव्या म्हणजे झालें.

टीप—या उदाहरणांतील प्रत्येक गमनमार्गाचे अंतरावरून त्याचें अक्षांशांतर व रेखांशांतर हीं ट्रान्हर्स कोष्टकांतून काढिलीं आहेत. तीं मागील उदाहर-

गांत सांगितल्याप्रमाणेच काढिली आहेत. परंतु एक सरळ गमनमार्ग व अंतर काढतांना, अशी शंका येते की, कोष्टकांत अंतरें फक्त ३०० पर्यंतच दिली आहेत व त्यांचेच अक्षांशांतर व रेखांशांतर दिलेले आहे, म्हणजे तेंही तीनशें मैलांहून कमीच असावयाचें; व आपलें या उदाहरणांतील उत्तरांत अक्षांशांतर ५००'४ मैल आलें आहे व रेखांशांतर=डिपार्चर ५० मैल आलें आहे, त्यावरून या कोष्टकांतून गमनमार्ग कसा काढावा? परन्तु या अक्षांतर व रेखांतरांचें अर्थ केलें असतां, कोनांत फेर न पडतां, आपणांस या कोष्टकावरून अंतराचें अर्थ मिळेल. म्हणून ५००'४ अक्षांशांतराचें अर्थ २५०'२ व ५० रेखांशांतराचें अर्थ २५ हे आंकडे कोष्टकांतील कोणच्या पानांत समोरासमोर आहेत ते पहावे. ह्या आंकड्याच्या अगदीं जवळचे आंकडे २४९'३ व २६'२ हे कोष्टकांत ६° चे पानावर सांपडतात म्हणून गमनमार्ग दक्षिणेकडून पूर्वेस ६° अंश हा आला व कोष्टकांत २४९'६ व २६'२ या आंकड्यासमोर अंतर २५१ मैल दिलें आहे त्याची दुप्पट ५०२ हे अंतर होय.

आतां ज्या ठिकाणीं गलबत आलें त्या ठिकाणचे अक्षांश व रेखांश काढूं:--

निघाल्या ठिकाणचे अक्षांश .... २०°-४४'-०" दक्षिण.

अक्षांशांतर ५००'४ मैल = ८-२०'-२४" दक्षिण.

पोंचल्या ठिकाणचे अक्षांश .... २९-४'-२४"

मध्य अक्षांश काढण्यास,

निघाल्या ठिकाणचे अक्षांश ..... २०°-४४'- ०" द०

पोंचल्या ठिकाणचे अक्षांश २९- ४'-२४ द०

यांच्या बेरजेस दोहोंनीं भागून आले ते ४९- ४८'-२४'

मध्याक्षांश ..... २४°-१४'-१२"

ते ९०° तून वजा केले असतां ९०-०-०

६५°-५'-४८"

येईल तें पूरक मध्याक्षांश अथवा

जवळच्या ध्रुवापासून मध्याक्षांशाचें अंतर होय.

ह्या पूरक मध्याक्षांश ६५° चें पान ट्राव्हर्स कोष्टकांतून काढावें; ६५° अंश हे त्या पानाचे खाली लिहिलेले सांपडतील नंतर खालील रेखांशांतराचे ( डिपारचरचे ) सदरांत ५० हा आंकडा पहावा; त्याचे अगदीं जवळचा आंकडा ४९.८ हा सांपडतो त्याचे मागें अंतर या सदराखाली ५५ मैल हा अंक आहे, तें खरें रेखांशांतर होय. तें निघाल्या ठिकाणच्या रेखांशांत मिळवावे. कारण दोन्ही पूर्वेस आहेत.

निघाल्या ठिकाणचे रेखांश.....४०°-२७'-०" पूर्व.

खरें रेखांशांतर ५५ मैल—= ०-५५'-०-पूर्व.

∴ पोंचल्या ठिकाणचे रेखांश.= ४१°-२२'-०" पूर्व.

आतां होकायंतावरील गमनमार्ग काढण्यास,

खरा गमनमार्ग.....६°-०'-०" द० पूर्वेस.

चलन.....०-५६'-० पूर्वेस.

६°-५६'-०"

विचलन पश्चिमेस वजा ८°-४९'-० पश्चिमेस.

होकायावरील गमनमार्ग १°-५३'-०" द० पश्चिमेस

हीं उत्तरे ट्राव्हर्स कोष्टकांवरून आलीं.

( १६२ )

आतां सरल-एक-रेषा नौकागमनाच्या रीतीनें गमनमार्ग व अंतर कसे काढावे तें सांगू.

$$\left. \begin{array}{l} \text{गमनमार्ग स्पर्शरेषा} \\ \text{( Tan course )} \end{array} \right\} = \frac{\text{रेखांशांतर}}{\text{अक्षांशांतर}}$$
$$\frac{50}{500.8}$$

$$\begin{array}{rcl} 50 \text{ चा घातांक.....} & = & 1.698970 \\ 500.8 \text{ चा घातांक} & = & 2.699317 \\ \therefore \text{स्पर्श रेखा } 5^\circ-42' & = & \frac{1.698970}{2.699317} \end{array}$$

( कोष्टकावरून )

$\therefore$  गमनमार्ग  $5^\circ-42'-0$  द० कडून पूर्वस आहे.

अंतर काढण्यास—

$$\text{गमनमार्ग को-भुजज्या} = \frac{\text{अक्षांशांतर}}{\text{अंतर}}$$

$\therefore$  अंतर = अक्षांशांतर  $\times$  गमनमार्ग छेदन-रेषा

$$\text{घातांक } 500.8 = 2.699317$$

( अक्षांशांतर )

$$\text{घातांक छेदन रेषा ( } 5^\circ-42' \text{ )} = 10.002153$$

$$\text{अंतर } 502.8 = \frac{10.002153}{2.699317}$$

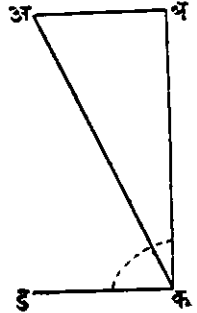
यावरून दिसून येईल कीं या दोन रीतींनीं काढलेल्या उत्तरांत किती थोडा फरक आहे; कोष्टके नीट रीतीनें पाहिलीं असतां असाच अगदीं थोडा फरक पडेल.

( १ ) टीपः—दिपारचर म्हणजे ज्यास येथे रेखांशांतर म्हटलें आहे तें खरें रेखांशांतर नव्हे त्यास मध्यान्ह वृत्तांतर म्हटलें तरी चालेल; व तें विषुव वृत्त किंवा भूमध्य रेषेवर मात्र खऱ्या रेखांशांतराबरोबर असतें. बहुतेक समानार्थी निरनिराळे शब्द लक्ष्यांत ठेवण्यास कठीण पडतें म्हणून दिपारचर यास रेखांशांतर म्हटलें आहे; तरी तें फक्त मध्यान्हांतर म्हणजे दोन मध्यान्ह वृत्तांमधील मध्याक्षांश वृत्तावर मोजलेलें अंतर समजावें; व फक्त भूमध्य-रेषेवर मोजलेल्या मध्यान्हांतरास खरें रेखांशांतर म्हणावें.

( २ ) टीपः—विषुव वृत्तापासून जसजसें ध्रुवाकडे जावें तसतसें मध्यान्हांतर हें खऱ्या रेखांशांतरापेक्षां मैलांनीं मापल्यास कमी कमी भरतें तें कोणत्या प्रमाणानें कमी असतें तें येथें थोडक्यांत सागूंः—

ज्या ठिकाणच्या मध्यान्हांतरावरून आपणास खरें रेखांशांतर काढावयाचें आहे त्या ठिकाणचे अक्षांश डकअ कोनाचें दाखवा. अ

डकअ हा काटकोन करा म्हणजे अकअ हा पूरक अक्षांश कोन होईल. कअ वर अअ हा लंब मध्यान्हांतरा- एवढा करून घ्या म्हणजे अकअ हा एक काटकोन त्रिकोन होईल. आतां जर अअ हें त्या ठिकाणचें मध्यान्हांतर दाखवितें तर अक हा कर्ण त्या ठिकाणचें खरें रेखांशांतर दाखवील ( हें पुढें सिद्ध केले आहे ) आतां या त्रिकोनांत खरें रेखांशांतर अक हें कायम ठेविलें व पूरक अक्षांश कोन अकअ हा कमी कमी केला म्हणजे अक्षांश वाढविले तर जसजसें अक्षांश वाढतील तसतसें अअ हें मध्यान्हांतर कमी कमी होईल व जसजसा अक्षांश कोन कमी कमी होईल म्हणजे पूरक अक्षांश वाढतील तसतसें मध्यान्हांतर वाढेल व विषुव वृत्तावर तें खऱ्या रेखांशांतराबरोबर होईल. म्हणून मध्यान्हांतर हें फक्त विषुव वृत्तावर खरें रेखांशांतराबरोबर असतें व जसजसें अक्षांश वाढतील तसतसें तें कमी कमी होतें व तें पूरक अक्षांश कोनाच्या समोरील वाजूस जसा कर्ण या प्रमाणांत असतें म्हणजे पूरक अक्षांशकोनाच्या (साईन) भुजज्येप्रमाणें असतेंः—



आ० २७.



आतां ट्राग्हेर्स कोष्टकावरून खरें रेखांशांतर काढतांना आपण पूरक कोनाचे पानावरील ( डिपारचर ) मध्यान्हांतरा ( किंवा रेखांतरा ) चे मार्गील व अंतर सदराखालील अंक का घेतो हें समजेल.

### उदाहरण.

एक गलबत उत्तर अक्षांश  $२४^{\circ}-३२'-०$  व पूर्व रेखांश  $१७९^{\circ}-४२'-०$  येथून निघून, खाली दिलेल्या ( दिशांनी ) मार्गीनी दिलेली अंतरें चालून जातें. तर तें शेवटीं ज्या ठिकाणी येईल त्या ठिकाणाचे अक्षांश व रेखांश सांगा; व तें त्या ठिकाणी एकाच सरळ मार्गीनें आलें असतें तर त्या मार्गीचा उत्तर-दक्षिण वृत्ताशी ( याम्योत्तर वृत्ताशी ) किती अंशांचा कोन झाला असता व त्यास किती अंतर चालवें लागलें असतें तें सांगा.

गमनमार्ग	अंतर
S. W. by W ... ..	४५ मैल
E. S. E. ... ..	५० मैल
S W. ... ..	३० मैल
S. E. by E.... ..	६० मैल

प्रथमतः स्केलानें आकृति काढून त्यावरून स्केलानेंच उत्तरें काढूं:- ( १ ) दिशाचक्र दाखविण्याकरितां एक वर्तुळ काढा. ( आकृति ३० पहा ) त्या वर्तुळाच्या ( अ ) मध्यांतून S. W. by W. ही दिशा दाखविणारी एक रेषा, अत्र, काढा व ती स्केलानें ४५ मैल लांब करून घ्या.

( २ ) व विंदूपासून उत्तर-दक्षिण रेषेशीं दक्षिणेकडून पूर्वेकडे ६ दिग्बिंदु किंवा ६ खंड इतका कोन करणारी म्हणजे E. S. E. दिशा दाखवणारी एक वक्र रेषा काढा व ती पहिल्याच स्केलानें ५० मैल लांब करून घ्या.

( ३ ) क टोंकापासून उत्तर-दक्षिण रेवेशीं दक्षिणेकडून पश्चि-  
मेकडे चार बिंदू ( खंडां ) चा म्हणजे  $४५^{\circ}$  चा कोन करणारी  
एक कड रेषा काढा व ती वरील स्केलानें तीस मैल लांब करून  
ध्या.

( ४ ) ड बिंदूपासून उत्तर-दक्षिण दिशेशीं दक्षिणेकडून पूर्वे-  
कडे ५ बिंदूंचा ( ५ खंडांचा ) कोन करणारी डई रेषा काढा व  
ती वरील स्केलानें ६० मैल करून ध्या.

( ५ ) आतां हें गलबत वरील अ ब क ड ई हा मार्ग क्रमून  
ई ह्या ठिकाणीं आलें त्या ठिकाणचे अक्षांश, रेखांश आपणास  
काढावयाचे आहेत. अ ई रेघ काढा; व अ फ या माध्यान्ह वृत्तावर  
फ ई लांब करा, म्ह० अ ई हें अंतर फ ई हें रेखांतर किंवा डिपा-  
रचर, अ फ हें अक्षांतर व, फ अ ई हा गमन मार्ग होईल.

( ६ ) पूर्वीच्याच स्केलानें अई मापा ती  $१०५.५$  मैल भरेल  
व ईफ, जी उत्तर-दक्षिण रेषेवर लांब काढिली आहे ती  $३७.५$  मैल  
भरेल व अफ  $९९$  मैल होईल व गमनमार्ग म्हणजे फअई कोन  
हा  $२१^{\circ}$  चा होईल.

∴ उत्तर:—

{	गमनमार्ग $द० २१^{\circ}$ पूर्वेस.
	अक्षांशांतर $९९$ मैल.
	रेखांशांतर ( डिपारचर ) $३७.५$ मैल.
	अंतर $१०५.५$ मैल.

हेंच उदाहरण आतां ट्रान्झर्स कोष्टकावरून करून दाखवूं म्हणजे  
दोन्ही रीतीनीं तींच उत्तरे कशीं येतात तें समजेल.

## ट्रान्हर्स कोष्टकः—

गमनमार्ग.	पाइंटस	अंतर मैल	अक्षांशांतर मैल		रेखांशांतर मैल ( डिपारचर )	
			उ०	द०	पू०	प०
SW. by W.	५ खंड	४५		२५		३७°४
E. S. E.	६ खंड	५०		१९°१	४६°२	
S. W.	४ खंड	३०		२१°२		२१°२
SE by E.	५ खंड	६०		३३°३	४९°९	
				९८°६	९६°१ ७८°६	५८°६
			द०अ०	९८°६	३७°५	पूर्वरेखी.

या अक्षांशांतररेखांशांतरांवरून ट्रान्हर्स कोष्टकामधून गमनमार्ग  
२१° दक्षिणेकडून पूर्वेस निघतो व अंतर १०५.५ मैल येते.

## अक्षांश.

निघाल्या ठिकाणचे उ० अक्षांश= २४°-३२-० उत्तर.  
अक्षांशांतर ९८°६ मैल= १°-३८'-३६" दक्षिण.  
∴ पांचल्या ठिकाणचे अक्षांश= २२°-५३'-२४" उत्तर.

## मध्याक्षांश.

निघाल्या ठिकाणचे अक्षांश=२४-३२-० उ०

पोंचल्या ठिकाणचे अक्षांश=२२-५३-२४ उ०

$$\text{बेरजेचे अर्ध०} = \frac{४७^{\circ}-२५'-२४''}{२} = २३^{\circ}-४२'-४२''$$

$$\therefore \text{मध्याक्षांश } \left. \begin{array}{l} २३-४२'-४२'' \\ ९०-०-० \end{array} \right\}$$

$$\left. \begin{array}{l} \text{कोमध्याक्षांश} \\ \text{किंवा पूरक अक्षांश} \end{array} \right\} \frac{६६^{\circ}-१७'-१८''}{}$$

आतां रेखांश काढण्याकरितां ट्रान्हेर्स कोष्टकांतून या पूरक मध्याक्षांश  $६६^{\circ}$  चें पान काढून त्यांत  $३७५$  हा अंक रेखांशांतराचे सदराखालीं पहा, त्याचे मागे अंतर सदराखालीं  $४१$  मैल हा आंकडा मिळतो तें खरें रेखांशांतर होय म्हणून—

निघाल्या ठिकाणचे रेखांश .....  $१७९^{\circ}-४२'-०$  पूर्व.

खरें रेखांशांतर  $४१$  मैल .....  $०$  —  $४१'$  —  $०$  पूर्व.

$\therefore$  पोंचल्या ठिकाणचे रेखांश ....  $१८०^{\circ}-२३'-०$  पूर्व.

हे  $१८०^{\circ}$  हून अधिक आहेत  $३६०^{\circ}-०-०$  यांतून वजा

म्हणून ते  $३६०^{\circ}$  तून वजा करावे  $१७९^{\circ}-३७'-०''$  पश्चिम.

व येतील ते पश्चिम रेखांश होत.

येथें पूर्व रेखांशांचे पश्चिम रेखांश कसे होतात तें थोडक्यांत सांगूं:—ग्रोनिचचें प्रथम रेखांश वृत्त, जें दोन्ही ध्रुवांमधून पृथ्वीचे खालून जातें, त्यावर  $१८०^{\circ}$  मांडिलेलें असतात, व ती रेखांशांतराची सीमा होय. आतां जर गळवत हें वृत्त ओलांडून पूर्वेकडून

पलीकडे जाईल, तर तें गलबत पश्चिमेकडून ग्रीनिचच्याजवळ आलें असें होईल; व आपण रेखांश सांगतांना  $१८०^{\circ}$  हून कमी कोन असेल तोच सांगतो; म्हणून  $१८०^{\circ}$  हून पूर्व रेखांश कांहीं अधिक असले तर तितकेच ते पश्चिमेकडून  $१८०^{\circ}$  हून कमी असतील म्हणून  $१८०^{\circ}$  हून अधिक रेखांशांतर येईल तर तें  $३६०^{\circ}$  यांतून वजा करावें व त्याचें नांव बदलावें; म्हणजे पूर्व रेखांश असले तर पश्चिम करावे व पश्चिम असले तर पूर्व करावे म्हणजे त्या ठिकाणचे खरे रेखांश येतील.

आणखी उदाहरणें घेऊन एकदोन मुद्यांचें स्पष्टीकरण करणें जरूर आहे.

( १ ) असें समजा कीं एक गमनमार्ग तीन खंड किंवा दिशा-बिंदु आहे व अंतर  $५४६$  मैल आहे तर यावरून ट्राव्हर्स कोष्टकामधून अक्षांशांतर व रेखांशांतर काढा.

आतां ट्राव्हर्स कोष्टकांत  $३००$  पर्यंत अंतर दिलेलें असतें. तर आपण  $५४६$  अंतर याचे दोन भाग करावे किंवा त्याचा त्रितियांश, चतुर्थांश असा भाग घ्यावा. व त्यावरून अक्षांशांतर व रेखांशांतर काढून त्यास जितकावा भाग घेतला असेल त्याप्रमाणें  $३, ४, वगैरेंनी$  गुणावें, किंवा प्रथमतः  $३००$  मैलांचें अक्षांशांतर व रेखांशांतर काढावें व नंतर  $२४६$  चें अक्षांशांतर रेखांशांतर काढावें व दोहोंची अक्षांतर रेखांशांतराची निरनिराळी बेरीज घ्यावी जसें:—

गमनमार्ग तीन खंड किंवा  $३$  बिंदु =  $३३^{\circ} - ४५' - ०''$

अंतर  $५४६ = ३ \times १८२ =$  किंवा  $५४६ = ३०० + २४६$

अंतर अक्षांशांतर रेखांशांतर	अंतर, अक्षांशांतर, रेखांशांतर.
१८२ = १५१.३; १०१.१	३०० = २४९.४, १६६.६
×३      ×३      ×३	+२४६ = २०४.५, १३६.७
गुणाकार ५४६ = ४५३.९; ३०३.३	बेरीज ५४६, ४५३.९, ३०३.३

( २ ) उत्तरेकडून ३७° अंश पश्चिमेकडे या दिशेने एक गलबत ४८५.७ मैल गेलें तर त्याचें ट्रान्हेर्स कोष्टकावरून अक्षांशांतर व रेखांशांतर काढा.

आतां गमनमार्ग ३७°चे पान कोष्टकांतून काढा. त्यांत ४८५.७ हें अंतर नाही व ४८५.७ हेंही नाही; म्हणून ४८५.७ चे ३०० + १८५ + ७ असे भाग पाडा. व तीं अंतरें कोष्टकांत त्याच ३७°चे पानावर पहा म्हणजे,—अंतर      अक्षांशांतर      रेखांशांतर ( डिपारचर )

३००	२३९.६	१८०.५
१८५	१४७.७	१११.३
७	६	४

बेरीज ४८५.७      ३८७.९      २९२.२

या प्रत्येक भागाचीं निरनिराळीं अक्षांशांतरें व रेखांशांतरें आलीं; त्यांची बेरीज घ्या; ती बेरीज त्या अंतरांचें, अक्षांशांतर व रेखांशांतर होईल. ७ चें अक्षांतर रेखांतर हे सात ( ७ ) पूर्णांकांतरावरून काढावे व त्याचें एक स्थळ उजवीकडे सोडून दशांश चिन्ह करावें.

( ३ ) एक गलबत उत्तरेकडून पूर्वेकडे ३१°चा कोन करून जातें व त्याचें अक्षांशांतर २१६.५ मैल इतकें होतें; तर त्या गलबताचें रेखांशांतर किती व अंतर किती हें ट्रान्हेर्स कोष्टकावरून काढा.

ट्रान्हेर्स कोष्टकाचे ३१°चें पान काढा व त्यांत अक्षांशांतर या सदराखाली २१६ हा आंकडा पहा; त्याचे मागे २५२ हें अंतर

निघेल आतां ५ पांच दशांश राहिले म्हणून त्याच पानावर अक्षां-  
शांतराचे सदराखाली ५ पूर्णांक हा अंक पहा, त्याचें अंतर ६ येंतें  
व ( डिपारचर ) रेखांशांतर ३.१ येंतें. त्यांत दशांश चिन्ह एक  
एक स्थळ डावीकडे सारा म्हणजे .६, .५, .३१ हे आंकडे येतात.  
आतां हे आंकडे ज्या त्या सदराखाली बरोबर लिहून त्यांची बेरीज  
ध्या म्हणजे अंतर व डिपारचर येईल.

अंतर	अक्षांशांतर ( दिलेलें )	डिपारचर
को०वरून		को०वरून
२५२	२१६.०	१२९.८
.६	.५	.३
<hr/> २५२.६,	<hr/> २१६.५,	<hr/> १३०.१.

आतां अक्षांश, रेखांश दिलेले असून त्यांवरून अक्षांशां-  
तर, रेखांशांतर कसे काढावे व तीं दोन्ही ३०० पेक्षां अधिक  
असलीं तर ट्रान्हेर्स कोष्टकांतून त्यांवरून गमनमार्ग व अंतर कसे  
काढावे तें सांगूं:—

### उदाहरण.

( ४ ) एक गलबत उत्तरअक्षांश  $४९^{\circ}-३५'$  व पश्चिम रेखांश  
 $२४^{\circ}-३०'$  या ठिकाणावरून, उत्तर अक्षांश  $४३^{\circ}-३७'-०$   
व पश्चिम रेखांश  $२०^{\circ}-१७$  या स्थळीं आले; तर ट्रान्हेर्स कोष्टका-  
वरून त्याचा गमनमार्ग व अंतर काढा.

निघाल्या ठिकाणचे अक्षांश  $४९^{\circ}-३५'$ -उत्तर.

पोंचल्या ठिकाणचे अक्षांश  $४३^{\circ}-३७'$ -उत्तर.

अक्षांशांतर  $५^{\circ}-५८'$ -उत्तर.

$\times ६० + ५८$

$\therefore$  अक्षांशांतर =  $३५८$  मैल दक्षिण.

निघाल्या ठिकाणचे रेखांश  $२४^{\circ}-५०-०$  पश्चिम.

पोंचल्या ठिकाणचे रेखांश  $२०^{\circ}-१७-$  पश्चिम.

रेखांशांतर  $४^{\circ}-३३'-०$

$\times ६० + ३३$

रेखांशांतर मैल =  $२४० + ३३ = २७३$

किंवा रेखांश गमनमैल  $२७३$  पूर्वेस.

मध्याक्षांश व को-मध्याक्षांश किंवा पूरक मध्याक्षांश:—

नि. ठि. अक्षांश  $४९^{\circ}-३५'-०'$  उत्तर.

पों. ठि. अक्षांश  $४३^{\circ}-३७'-०'$  उत्तर.

वेरजेचे अर्ध  $२) ९३^{\circ}-१२'-०$

मध्याक्षांश =  $४६^{\circ}-३६'-०$

$९०-०-०-०$

को-मध्याक्षांश  $४३^{\circ}-२४'-०$

आतां  $४३^{\circ}$  पूरक अक्षांशावरील ( मध्यान्हांतर किंवा ) रेखांशांतर काढण्यास, ह्या को-मध्याक्षांशाचे ( म्हणजे  $४३^{\circ}$  चे पान टाव्हर्स कोष्टकांतून काढा व त्यांत, अंतर या सदराखाली  $२७३$  हे रेखांश पहा, त्याचेसमोर रेखांतर ( डिपारचर ) सदराखाली,  $१८६.२$  हा अंक सांपडेल. तो मध्यान्हांतराचा अंक समजावा. आतां  $३५८$



अक्षांशांतर व १८६.२ रेखांशांतर हे आंकडे समोरासमोर ट्रान्हर्स कोष्टकाचे कोणच्या पानावर येतात ते पहा; परंतु हे आंकडे ३०० हून अधिक आहेत व ट्रान्हर्स कोष्टक ३०० पर्यंतच आहे, म्हणून आपण त्या आंकड्याचे अर्ध घेऊं, म्हणजे त्यांत सारखेंच प्रमाण राहिलः—

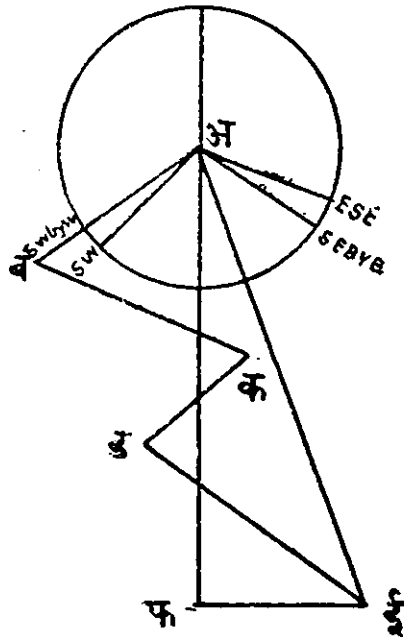
अर्ध            १७९ अक्षांशांतर            ९३.१ रेक्षांशांतर

हे आंकडे समोरासमोर ट्रान्हर्स कोष्टकाचे २७° या पानावर सांपडतात, व त्यांचे मागे अंतर २०१ मैल सांपडते; म्हणून गमनमार्ग २७° पूर्व व अंतर ४०२ मैल हें उत्तर.

येथें बेरजेनें भाग पाडतां येत नाहींत; कारण अक्षांतरच्या व रेखांशांतरच्या अंकांत प्रमाण सारखेंच राहिलें पाहिजे, नाहीं तर निराळाच गमनमार्ग निघेल.


मिश्रगमनमार्गावरून सरलैकरेषा गमनमार्ग काढितांना विद्यार्थ्यांनीं आपलें गणित हमेशा तपासून पहावें. प्रथमतः गमनमार्ग बरोबर काढले आहेत किंवा नाहीं तें पहावें; नंतर त्या प्रत्येक गमनमार्गापुढें अक्षांशांतरे उत्तर किंवा दक्षिण या सदरांत बरोबर लिहिलीं आहेत किंवा नाहीं तें पहावें, तसेंच रेखांशांतरे पूर्व व पश्चिम या सदराखालीं बरोबर लिहिलीं आहेत किंवा नाहीं तेंही पहावें, म्हणजे पूर्व रेखांशांतरे पूर्व सदराखालीं व पश्चिम रेखांशांतरे पश्चिम या सदराखालीं बरोबर लिहिलीं आहेत किंवा नाहीं तें पहावें. गमनमार्ग ४५° अंशाहून मोठा असेल तर ( डिपारचर ) रेखांशांतर हें

# आकृति ३०बी



स्केल एक इंचांत ४५ मैल

अक्षांशांतरापेक्षां अधिक असतें व गमनमार्ग  $४५^{\circ}$  पेक्षां कमी असेल तर ( डिपारचर ) रेखांशांतर अक्षांशांतरापेक्षां कमी असतें हें लक्ष्यांत ठेवावें. या सर्व खुब्या लक्ष्यांत ठेवून विद्यार्थ्यांनी आपलीं उदाहरणें वारंवार तपासून पहावीं म्हणजे मोठीशी चूक होणार नाहीं. कारण नौकानयनांत गणित करण्याच्या कृतींत थोडी चूक झाली तरी तिचा परिणाम फार भयंकर होण्याचा संभव असतो.



# भाग आठवा.



## गलबतावरील रोजनिशी.



आपलें गलबत कोठें आहे हें नक्की करण्याकरितां जीं जीं मापें गलबतावर घेतात, त्यांची बरोबर नोंद एका वर्हावर करितात त्यास गलबतावरील रोजनिशी किंवा रोजनामा असें म्हणतात. प्रथमतः हीं सर्व मापें एका स्लेटावर लिहितात. ती स्लेट नीट आंखून तिजवर आठ सदरें अथवा घरें करितात. पहिले घरांत तास लिहितात; दुसऱ्या घरांत कंपासानें दाखविलेले गमनमार्ग लिहितात. तिसऱ्या घरांत गलबत एका तासांत किती गांठी किंवा मैल चालतें. तें लिहितात व चवथ्या घरांत मैलाचे दशांश असतील तर ते लिहितात म्हणजे तिसऱ्या व चवथ्या घरांत मिळून गलबताचा वेग किती मैल व मैलाचे किती दशांश आहे तें लिहितात; पांचव्या घरांत बारा कोणत्या दिशेंने वाहतो तें लिहितात. सहाव्यांत निवाऱ्याकडे जाण्याचा कोन मापला असेल तर तो लिहितात. गलबत ज्या दिशेंने चालत असेल त्या दिशेकडे त्यांचें नाळ असतां त्या गलबतावरील होक्याचें विचलन किती तें सातव्या सदरांत लिहितात. आठवें सदर मोठें ठेऊन त्यांत ताराख व विशेष शेरें नोंदितात. ही नोंद व्यापारी गलबतावर दोन दोन तासांनीं

करितात, परंतु अडचणीच्या जागी वरचेवर गलबताची दिशा व वेग बदलेल तर ही नोंद वरचेवर करितात. स्लेटीवर जे गमन-मार्ग लिहितात, ते होक्यानें दाखविलेले गमनमार्ग असतात, त्यावरून खरे गमनमार्ग काढतांना होक्याचें चलन, विचलन, व गलबताचा निवाऱ्याकडे जाण्याचा कोन हीं प्रत्येक वेळीं विचारांत घेतलीं पाहिजेत. स्लेटीवरील नोंद प्रत्येक दिवशीं दोन प्रहरीं एका वहीवर लिहितात. ती स्लेटीप्रमाणेंच आंखलेली असते व तिला गलबता-वरील रोजनिशी किंवा रोजनामा असें म्हणतात. ( त्यास इंग्रजीत लागवुक असें म्हणतात. ) स्लेटीवरील सर्व नोंद रोजनिशीवर उतरून घेतल्यावर त्यावरून खरे गमनमार्ग काढावे, व प्रत्येक गमनमार्गानें, वेग बदलला असल्यास त्या निरनिराळ्या वेगांनीं गलबत किती मैल एकंदर एकाच दिशेनें ( मार्गानें ) चालेलें तें अंतर काढावें, व तें प्रत्येक गमनमार्गापुढें लिहून एक ट्राव्हर्स कोष्टक तयार करावें, म्हणजे त्यांत सर्व खरे गमनमार्ग व त्या प्रत्येक गमनमार्गानें व निरनिराळ्या वेगांनीं क्रमिलेलीं एकंदर अंतरें येतात. याप्रमाणें ट्राव्हर्स तयार करून ट्राव्हर्स कोष्टकावरून त्या मिश्र-मार्गाचा एक सरळ मार्ग-कोन व अंतर काढिलें म्हणजे, एकंदर अंतर, अक्षांशांतर, रेखांशांतर, एक गमनमार्ग आणि गलबत ज्या ठिकाणीं पोहोंचेलें, त्या ठिकाणचे अक्षांश-रेखांश हीं ( डेडरेकनिंगनें ) गलबतावरील पृथ्वीच्या मापानें ( अथवा पार्थिव मापानें ) आलीं असें समजावें. हें जें गलबताचें नवीन ठिकाण पार्थिव मापानें काढिलें, तेंच शक्य असल्यास, ज्योतिर्वेधानेंही काढण्याचा ( परिपाठ ) रिवाज आहे. पार्थिव मापानें काढिलेलें गलबताचें ठिकाण, व ज्योतिर्वेधानें काढिलेलें ठिकाण, जवळ जवळ एकच आलीं तर गलबत

पाण्याच्या प्रवाहांत सांपडलें नाहीं हें उघड होतें. परंतु हीं ठिकाणें जर एकमेकांपासून फार दूर आलीं तर ज्योतिर्वेधानें काढिलेलें गलबताचें ठिकाण खरें समजावें. कारण पार्थिव मापें कित्येक वेळां खोटीं ठरतात. उदाहरणार्थ आपलें गलबत प्रवाहांत सांपडलें असतां त्याचें नाळ कोर्णाकडेही असलें तरी तें प्रवाहाच्या दिशेनें वाहत जाईल व त्याचा वेगही प्रवाहाच्या वेगाबरोबर असेल म्हणजे या वेळेस होक्यानें दाखविलेली दिशा चुकते. त्या दिशेनें गलबत खरो-खर जात नाहीं. म्हणून एक प्रवाहमार्ग धरावा लागतो, तो पुढें सांगूं.

वर सांगितल्याप्रमाणें गलबतावरील रोजनिशी ( अथवा लागबुक ) ही एक वही अथवा पुस्तक असतें. त्यांत नियमितपणें गलबतावर रोज घेतलेलीं मापें व त्यावरून दररोज काढिलेलें गलबताचें ठिकाण, हीं नोंदलेलीं असतात. त्याशिवाय गलबताच्या सफरीमध्ये जें जें लक्ष्यांत ठेवण्यासारखें घडून येईल, तें सर्व—म्हणजे हवेंतील फेरफार पाऊस, वादळ, तुफान वगैरे, तसेंच समुद्रावर दिसून आलेलें पदार्थ पक्षी, व समुद्रांत दिसणारे मासे, सर्प, व उथळ समुद्राच्या तळा-शीं असलेलें खडक, चिखल व रेती वगैरे ह्या सर्वांची नोंद असते. सारांश, गलबताचा सुरक्षितपणा व त्याचें मार्गक्रमण या संबंधानें जें जें नोंदण्यासारखें असेल तें सर्व गलबताच्या रोजनिशींत नोंदितात.

रोजनिशीमध्ये जीं मापें वगैरे नोंदावीं लागतात, तीं कशीं घ्यावीं व त्यांवरून गलबताचें नवें ठिकाण दररोज कसें काढावें, हें सर्व एथपर्यंत सांगितलें आहे. आतां प्रस्थान-गमनमार्ग व प्रवाह-गमनमार्ग म्हणजे काय तें सांगूं.

**प्रस्थान-गमनमार्गः**—जेव्हां गलबत जमीन सोडून दूर जाऊं लागतें, तेव्हां गलबतावरील नाखवा अथवा मालम, ज्या ठिकाणाहून

गलबत निघालें तें ठिकाण नकाशावर पहातो. व त्याचे अक्षांश रेखांश नकाशावर असतात ते लिहून ठेवितो. नंतर त्या ठिकाणाचें अथवा त्याचे अगदीं जवळ भूशरिर् वगैरे जो जमिनीचा भाग दिसत असेल त्याचें तो कंपासानें अथवा होक्यानें उत्तरांतर पाहतो, व तें लिहून ठेवितो. तसेंच उत्तरांतर पाहते वेळीं त्या ठिकाणाहून गलबत किती दूर आलें असेल तें पाहून तेंही तो लिहून ठेवितो. ( त्याच वेळीं होक्याचें चलन लिहून ठेवावें व गलबताचें नाळ कोणीकडे आहे, तें पहावें म्हणजे होक्याचें विचलन काढण्यास ठीक पडतें. ) याप्रमाणें निघण्याच्या ठिकाणाची रोजनिशीत जीं नोंद करितात, त्यास ( प्रथम गमनमार्ग अथवा ) प्रस्थान गमनमार्ग असें म्हणावें. आतां पाहिल्या दिवसाच्या नोंदीवरून ट्रान्झर्स तयार करितात तेव्हां निघण्याच्या ठिकाणाचें जें उत्तरांतर घेतलेलें असतें, व ज्यास प्रस्थान गमनमार्ग म्हणतात, तें  $१८०^{\circ}$  हून कमी असेल तर त्यांत  $१८०$  मिळवावे व अधिक असेल तर त्यांत  $१८०$  वजा करावे व येईल. तो खरा प्रस्थान-गमनमार्ग म्हणून ट्रान्झर्समध्ये लिहावा. व त्यापुढें त्या वेळचें गलबताचें अंतर नोंदिलेले असेल तें लिहावें. प्रस्थान-गमनमार्ग हा निघण्याच्या ठिकाणावरून पाहिलेला गलबताचा गमनमार्ग कोन नसतो, परंतु गलबत बरेंच लांब समुद्रावर गेल्यावर समुद्रावरील गलबताच्या ठिकाणावरून निघण्याच्या ठिकाणाचा पाहिलेला उत्तरांतर कोन असतो. जमिनीवरील ठिकाणाचे नकाशावरून आपणांस अक्षांशरेखांश माहित असतात; व त्यांवरून समुद्रावरील ठिकाण आपणांस काढावयाचें असतें. म्हणून प्रस्थान-गमनमार्ग  $१८०$  मिळवून किंवा वजा करून तो उलट दिशेनें घ्यावा लागतो. म्हणजे जमिनीवरील ठिकाणावरून समुद्रावरील गलबताचें

प्रथम ठिकाण कोणच्या दिशेस आहे तें निघतें; व त्याचें अंतर ही नोंदलेलें असतें, त्यावरून समुद्रावरील गलबताचें प्रथम ठिकाण नक्की करतां येतें.

**प्रवाह-गमनमार्ग**—जर गलबत पाण्याच्या प्रवाहाबरोबर जात आहे, असें आढळलें तर त्या प्रवाहाची दिशा व वेग अंदाजानें काढितात व तीं ट्रान्झर्स कोष्टकांत प्रवाहमार्ग व अंतर म्हणून लिहितात, म्हणजे गलबताचें बहुतेक बरोबर ठिकाण मिळतें.

समुद्रामध्ये दिवसाचे दोन प्रहरीं, सूर्य बरोबर मध्यान्हवृत्तावर आला म्हणजे एक दिवस पूर्ण झाला. असें मानणें सोईचें आहे. कारण त्या वेळीं सूर्य मध्यान्हवृत्तावर असल्यामुळे ज्योतिष वेधानें गलबताचें ठिकाण सहज तपासतां येतें व त्या वेळीं साऱ्या दिवसाचें मापण्याचें काम पुरें केलें जातें.

गलबतावरील रोजचीं मापें रोजनिर्शांत कशीं नोंदितात, तें एक दोन उदाहरणांवरून स्पष्ट करून दाखवूं.

रोजनिर्शांत गमनमार्ग खरे करून लिहितांना प्रथमतः निवाऱ्याकडे जाण्याचा कोन ( लीवे ) लक्ष्यांत घेऊन तो गमनमार्गांत मिळविला किंवा वजा केला पाहिजे. नंतर होक्व्याची चूक जी चलन व विचलन ह्या दोहोंनीं मिळून झालेली असते, ती लक्ष्यांत घेऊन गमनमार्गांत मिळविली किंवा वजा केली पाहिजे, हें विसरतां कामा नये.

#### उदाहरण.

• एक गलबत केपलिझार्डपासून १० मैलांवर आहे; त्याचा प्रस्थान-गमनमार्ग पाहून असें नोंदिलें आहे कीं, लिझार्डचे उत्तर अक्षांश ४९° - ५७' व पश्चिमरेखांश ५° - १४' आहे; व १० मैलां-



वरून त्याचें उत्तरांतर N. E. dy N. आहे. नंतर तें गलबत खाली लिलिलेल्या रोजनिशीच्या नोंदीप्रमाणें चाललें; त्याचा प्रस्थानगमन-मार्ग तारीख १ जून रोजी पाहिला होता, तर त्याचें तारीख २ जून रोजी खालील रोजनिशीवरून अक्षांश रेखांश काय होतील तें सांगाः—

### गलबतावरील रोजनिशी.

क्र.	गमनमार्ग.	अंतर. मै.। द.	वाऱ्याची दिशा.	लीवे निवा ऱ्याचा को न विंद.	विचलन.	शेरा व तारीख.
१	S.S.W.	५	S. E.	३ खंड.	१६० प.	तारीख १ जून १८९२.
२		५				केपलिझार्ड उ० अक्षांश ४९°-५७'
३		५				५० रेखांश ५०-१४०
४		५				होऱ्यावरून उत्तरांतर N. E.
५	Nby. E	५	E by. N	१	१५० पूर्व	by. N.
६		५				अंतर १० मैल.
७		५				गलबताचें नाळ SS.W विचलन
८		५				काष्टकावरून.
९	S.W. by.W.	५	S.by. E	१ ३	१९० प०	
१०		५				
११		५				
१२		७				
१	S. ३ W.	७	E. S. E.	१	१०० प०	चलन २३°-३० पश्चिम.
२		७				
३		७				
४		७				
५	S. S. E.	८	S. W.	३	७० पूर्व	प्रवाह दिशा N. E.
६		८				[ खरें चुंबक उत्तरांतर ]
७		७				अंतर ३६ मैल. निघाल्यापासून
८		७				सर्व दिवसभर प्रवाह सुरू आहे.
९	S. E.	६	S.W.- by.S.	३	१४० पूर्व.	
१०		६				
११		६				
१२		५				

या रोजनिशीवरून प्रत्येक गमनमार्ग, चलन व विचलन मिळवून खरा करून, व त्या मार्गांनी निरनिराळ्या वेगांनी क्रमिलेल्या अंतःरांची बेरीज घेऊन ट्राव्हर्स कसे तयार करावे तें पुढें सांगितलें आहे.

प्रस्थान-गमनमार्ग N. E. dy. N. म्हणजे उत्तरेकडून पूर्वेस  $३३^{\circ} - ४५'$  हा उलट केला तर तो दक्षिणेकडून पश्चिमेस  $३३^{\circ} - ४५'$  म्ह. उजवेस

चलन  $२३३^{\circ} ५०'$  } म्ह० पश्चिमेस  
 विचलन  $१६^{\circ} ५०'$  }  $३९^{\circ} - ३०'$   $३९^{\circ} - ३०'$  डावे बाजूस  
 . . . खरा प्रस्थान-मार्ग-  $५^{\circ} - ४५'$

अथवा  $६^{\circ}$  द० पूर्वेस } १  
 व अंतर  $१०$  मैल.

( १ ) पहिला गमनमार्ग S. S. W. म्हणजे दक्षिणेकडून उजवेकडे दोन बिंदु  $= २२^{\circ} - ३०'$  द० उजवीकडे.  
 ( लीवे ) निवाऱ्याचा कोन.  $५^{\circ} - ३७'$  द० उजवीकडे.  
 $२८^{\circ} - ७'$  द० उजवीकडे.

चलन  $२३३^{\circ} ५०'$  }  
 विचलन  $१६^{\circ} ५०'$  }  $३९^{\circ} - ३०'$  उत्तरेच्या डावीकडे.  
 . . . खरा गमनमार्ग  $११ - २३'$  द० उजवीकडे. } २  
 व अंतर  $२२$  मैल.

( २ ) दुसरा गमनमार्ग N. dy. E. म्हणजे उत्तरेकडून एक बिंदु पूर्वेस  $= ११^{\circ} - १५'$  उत्तरेच्या उजवीकडे.  
 ( लीवे ) निवाऱ्याकडील }  $११ - १५'$  उत्तरेच्या डावीकडे.  
 कोन. }  $० - ०$  म्हणजे थेट उत्तर ग.मा.

चलन २३ $\frac{१}{२}$  पश्चिमेस } ८°-३०' उत्तरेच्या डावीकडे ९ } ३  
 विचलन १५° पूर्वेस

∴ खरा गमनमार्ग = ९° - ०; व अंतर २३ मैल.

( ३ ) तिसरा गमनमार्ग S. W. dy. W. म्हणजे दक्षिणे-  
 कडून ५ खंड किंवा बिंदु पश्चिमेस; द० प० ५ खंड उजवीकडे.

( लीवे ) निवाऱ्याकडील कोन द० १ $\frac{३}{२}$  खंड उजवीकडे.

द० प०  $\frac{६३}{२} = ७३^{\circ} - ८' द० उ०$

चलन २३ $\frac{१}{२}$  प० } ४२°-३०' द० डावीकडे ४२-३०'  
 विचलन १९° प०

खरा गमनमार्ग द. उजवीकडे ३०-३८' } ४  
 व अंतर २४ मैल, = ३१'

( ४ ) चवथा गमनमार्ग; S.  $\frac{३}{४}$  W. म्हणजे द० उ०  $\frac{३}{४}$  खंड प.

( लीवे ) निवाऱ्याचा कोन द० १ खंड उजवीकडे = १ खंड प.  
 = १ $\frac{३}{४}$  खंड प.

चलन २३ $\frac{३}{४}$  प० } = १६ - ५३ द० उ०  
 विचलन १० पश्चिम. } ३३-३० डावीकडे. ३३-३० द० डा.  
 $\frac{१६-३७}{४}$  द० डा०

खरा गमनमार्ग दक्षिणेकडून पूर्वेस = १७° } ५  
 व अंतर ३० मैल.

( ५ ) पांचवा गमनमार्ग S. S. E. म्हणजे द० २ खंड

( १८२ )

डावीकडे =  $२२^{\circ} - ३०'$  द० डा०  
( लीवे ) निवाऱ्याचा कोन ३ खंड डा० =  $५^{\circ} - ३८'$  द० डा०  
चलन  $२३\frac{३}{४}^{\circ}$  ५० }  $२८^{\circ} - ८'$  द० डा०  
विचलन ७ पू० }  $१६^{\circ} - ३०'$  डावीकडे.  
 $४४^{\circ} - ३८' =$  द. डा.  $४५^{\circ}$  पू. } ६

व अंतर ३१ मैल.

( ६ ) सहावा गमनमार्ग

S. E. म्हणजे द०  $४५^{\circ}$  - डावीकडे } ७  
(लीवे) निवाऱ्याचा कोन  $२^{\circ} - ४९'$  डावीकडे. }  
द०  $४७^{\circ} - ४९'$  डावीकडे.

चलन  $२३\frac{३}{४}^{\circ}$  ५० }  
विचलन  $१४^{\circ}$  पू० }  $-९^{\circ} - ३०'$  डावीकडे.

$५७ - १९'$  द० डावीकडे म्ह० पू.

खरा गमनमार्ग  $५७^{\circ} - ०$  व अंतर २४ मैल ७

( ७ ) प्रवाह-गमनमार्ग

N. E. म्हणजे  $४५ - ०$  उत्तरेच्या उजवीकडे उ० पू०

चलन  $२३ - ३०$  उत्तरेच्या डावीकडे.

$२१^{\circ} - ३०'$  उ० उ० =  $२२^{\circ}$  उ० पूर्वेस }  
व अंतर ३६ मैल. } ८

हे सर्व खरे केलेले गमनमार्ग व अंतरें आलीं, तीं ट्राव्हर्समार्गें  
लिहून ट्राव्हर्स कोष्टकावरून गलबत कोठें आलें तें ठिकाण काढावें.

( १८३ )

## ट्रान्हर्स कोष्टक.

	गमनमार्ग.	अंतर मैल.	अक्षांशांतर.		रेखांशांतर.	
			उ०	द०	पूर्व.	प०
प्रस्थान मार्ग	द० ६° पू०	१०		९-९	१-०	
१ ला मार्ग.	द० ११° पू०	२२		२१-६	४-२	
२ रा	उ० ९° प०	२३	२२-७			३-६
३ रा	द० ३१° प०	२४		२०-६		१२-४
४ था	द० १७° पू०	३०		२८-७	८-८	
५ वा	द० ४५° पू०	३१		२१-९	२१-९	
६ वा.	द० ५७° पू०	२४		१३-१	२०-१	
प्रवाहमार्ग.	उ० २२° पू०	३६	३३-४		१३-५	
			५६-१	११५-८	६९-५	१६-०
				५६-१	१६-०	
			द.अक्षांश	५९-७	५३-५	पूर्व रेखांश.

ट्रान्हर्स कोष्टकांत ५९.७ अक्षांशांतर व ५३.५ रेखांशांतर हे आंकडे ४८° अंशाचे पानावर समोरासमोर सांपडतात व त्याचें मार्गें ८० मैल अंतर सांपडतें म्हणून एक गमनमार्ग ४८° व अंतर ८० मैल हें उत्तर. गमनमार्ग दक्षिणेकडून ४८° पूर्वेस, व अंतर ८० मैल.

अक्षांश काढण्यास—

निघाल्या ठिकाणचे अक्षांश  
अक्षांशांतर ५९.७ मैल  
पोंहोंचल्या ठिकाणचे अक्षांश

४९°-५७'-०" उत्तर.  
०-५९'-४२" दक्षिण.  
४८°-५७'-१८" उत्तर.

मध्याक्षांश व पूरक मध्याक्षांश:—

निघाल्या ठिकाणचे अक्षांश  $४९^{\circ}-५७-०''$

पोहोचल्या ठिकाणचे अक्षांश  $४८^{\circ}-५७'-१८''$

वेरजेचे अर्थ, २ )  $\frac{९८-५४-१८}{२}$

= मध्याक्षांश  $४९-२७'-९''$

कोमध्याक्षांश  $४०^{\circ}-३३'$

}  $९०^{\circ}.०'.०''$

रेखांश:—

कोमध्याक्षांश  $४०^{\circ}-३३'$  किंवा  $४१^{\circ}$  चें पान ट्रान्हर्स कोष्टकांतून काढा व रेखांशांतर ( डिपारचर )  $५३-५$  मैल हें रेखांशांतराचे घरांत त्या पानावर पहा; त्याचें मागें अंतर  $८२$  मैल सांपडेल, तें खरें रेखांशांतर ( म्ह० भूमध्यरेषेवर मापिलेलें ) आहे. त्याचे अंश  $१^{\circ}-२२'$  कला करून तें रेखांशांत वजा करा.

निघाल्या ठिकाणचे रेखांश  $५^{\circ}-१४$  प०

रेखांशांतर  $८२$  मैल =  $१-२२$  पूर्व.

पोहोचल्या ठिकाणचे रे. =  $\frac{३^{\circ}-५२'}{२}$  पश्चिम.

म्हणून गलबताचे नवीन ठिकाणाचे

उत्तर अक्षांश  $४८^{\circ}-५७'$

पश्चिमरेखांश  $३^{\circ}-२२'$  } हें आहे.

टीप—( १ ) ट्रान्हर्स कोष्टकांत  $१^{\circ}$  पासून  $९०^{\circ}$  पर्यंत प्रत्येक पूर्ण अंशाचे गमनमार्ग दिले आहेत. ते  $१^{\circ}$  पासून  $४५^{\circ}$  पर्यंत पानाच्या वरल्या बाजूस दिलेले आहेत व  $४५^{\circ}$  पासून  $९०^{\circ}$  पर्यंत पानाच्या खालच्या बाजूस दिले आहेत. परंतु त्यांत कला किंवा अंशाचे भाग दिलेले नाहीत, व आपल्या गमनमार्गांत अंश व कला हीं कधीं कधीं असतात, म्हणून कोष्टकांतून गमनमार्ग काढतांना

कला सोडून देऊन त्याचे अगदी जवळील पूर्ण अंशाचा आंकडा घेतात, व तो गमनमार्ग समजून त्याचें दिलेल्या अंतरापुढें अक्षांश-गमन व रेखांशगमन किती तें पाहतात. वरील उदाहरणांत प्रस्थान मार्ग  $५^{\circ}-४५'$  आहे. परंतु तो आपण  $६^{\circ}$  धरला आहे. कारण  $६^{\circ}$  हा  $५^{\circ}-४५'$  चे अगदी जवळचा पूर्ण अंशाचा अंक आहे. प्रवाह-मार्ग  $२१^{\circ}-३०'$  आहे. तो  $२१^{\circ}$  व  $२२^{\circ}$  यांच्या अगदी मध्ये आहे. म्हणून कोणताही जवळचा पूर्णांक धरला तरी सारखेंच आहे. आपण  $२२^{\circ}$  धरला आहे, तो  $२१^{\circ}$  घेतला तरी चालेल.

टीप—( २ ) प्रवाह-मार्गाची दिशा खरी चुंबक दिशा दिली आहे. ती होकायंत्रानें दाखवितां येत नाहीं, कारण इतक्या गमन मार्गास लागू पडणारी एक दिशा होक्यावरून निघत नाहीं. कारण होक्यास विचलन असतें तें निरनिराळ्या दिशेस निरनिराळें असतें व प्रवाह, प्रस्थान-मार्ग पहिल्यापासून शेवटपर्यंत, एकाच दिशेचा आहे म्हणून त्याची खरी चुंबक दिशा काढून त्यास फक्त चलन लाविलें आहे.

टीप—( ३ ) होक्याचें चलन शेन्याचे सदरांत दिलेलें असतें, तें पाहून तें प्रत्येक गमनमार्गास सारखेंच लाविलें पाहिजे. विचलन मात्र प्रत्येक मार्गास निरनिराळें असतें. म्हणून त्याचें सदर निराळें केलें असतें. चलन एकसारखें असतें म्हणून तें शेन्याचे सदरांत लिहितात.

टीप—( ४ ) पहिल्या गमनमार्गाचें अंतर  $२२$  मैल आहे, तें पहिल्या चार तासांच्या अंतरांची बेरीज करून आलेलें आहे.  $( ५+५-४+५-६+६=२२ )$  कारण या चार तासांत गलबताच

( १८६ )

गमनमार्ग बदलला नाहीं. गमनमार्ग पांचव्या तासाच्या आरंभी बदलला आहे व तो आठव्या तासाच्या शेवटापर्यंत तसाच राहतो म्हणून त्या प्रत्येक तासाच्या अंतराची बेरीज केली ती  $६+६+५-५+५-६=२३$  आली. हें दुसऱ्या गमनमार्गाचें अंतर आलें तें त्या गमनमार्गापुढें मांडिलें आहे. याप्रमाणेंच पुढील मार्गाचीं अंतरे काढिलीं आहेत. अक्षांश रेखांशही मार्गे सांगितल्याप्रमाणेंच काढिले आहेत.





# भाग नववा.



## समांतर नौकागमन किंवा भूमध्यवृत्तसमांतर नौकागमन.



समांतर नौकागमन म्हणजे जेव्हां गलबत बरोबर पूर्व-पश्चिम चालते, म्हणजे ते कोणच्या तरी एकाच अक्षांशवृत्तावर चालते, तेव्हां त्याचे चालीवरून त्याचे रेखांशांतर किती होते ते काढण्याची रीती होय; अथवा कोणत्या तरी एकाच अक्षांशवृत्तावरील दोन ठिकाणांमधील रेखांशांतरावरून त्यांच्यामधील अंतर मैलांत काढण्याची रीति होय.

सरलैकरेण नौकागमनाच्या रीतीमध्ये पृथ्वीचा पृष्ठभाग ही एक सपाट पातळी आहे असे मानिले होते; परंतु आतां पृथ्वीचा पृष्ठभाग खरोखर जसा गोल आहे तसाच धरून गलबताचे रेखांश काढण्याच्या रीति आहेत त्या पाहिल्या पाहिजेत. म्हणजे पृथ्वी गोलकार आहे असे धरून गलबताचे खरे रेखांशांतर काढिले पाहिजे.

भूमध्यवृत्तावर जर गलबत बरोबर पूर्वेस किंवा पश्चिमेस ६० मैल चालले तर त्याच्या रेखांशांत जवळ जवळ एक अंशाचा फेर पडतो; परंतु दुसऱ्या कोणत्याही ठिकाणी हें खरे होत नाहीं. कारण उत्तर अथवा दक्षिण ४५° अक्षांशाच्या-वृत्तावर जर गलबत बरोबर पूर्वेस अथवा पश्चिमेस ६० मैल चालले तर त्याच्या रेखांशांत

१°-२५'-०" चा फेर पडतो. तसेच ते उत्तर अथवा दक्षिण ६० अक्षांशांवर बरोबर पूर्व-पश्चिम ६० मैल चालले असतां, त्याचे रेखांशांत २° अंश अथवा १२०' कला, इतका फेर पडतो. व तेच उत्तर अथवा दक्षिण ७३° अक्षांशांवर, पूर्व पश्चिम, ६० च मैल चालले असतां, त्याचे रेखांशांत ३°-२५' इतका फेर पडतो. पृथ्वीच्या कृतिम गोलाकडे पाहिले असतां, असे कां होतें तें सहज लक्ष्यांत येईल. गोलावरून असे कळून येईल कीं, रेखांशवृत्ते किंवा मध्यान्हवृत्ते, जीं याम्योत्तर किंवा दक्षिणोत्तर असतात, तीं भूमध्य-रेषेवर एकमेकांपासून फार दूर असतात व जसजसे उत्तर अगर दक्षिण ध्रुवाकडे जावे तसतशीं तीं एकमेकांचे जवळ जवळ येतात व दोन्ही ध्रुवांशीं तीं सर्व एके बिंदूंत मिळतात. म्हणून जसजसे उत्तर अगर दक्षिण अक्षांश वाढत जातात तसतसे त्या अक्षांशावरील दोन रेखांशवृत्तांमधील अंतर, भूमध्यरेषेवरील त्याच दोन रेखांशवृत्तांमधील अंतरापेक्षां कमी भरते; म्हणजे जसजशीं अक्षांशवृत्ते भूमध्य-वृत्तापासून दूर जातात तसतशीं त्यांवरील रेखांशांच्या प्रत्येक अंशाची लांबी मैलांनीं मापली असतां कमी कमी भरते.

### गोलावरील वर्तुलांसंबंधीं व्याख्या.

गोलावरील मोठें वर्तुल म्हणजे ज्या वर्तुलाची पातळी गोलाच्या मध्य बिंदूंतून जाते व ती त्या गोलाचे दोन समान भाग करिते, तें वर्तुल होय. त्या प्रत्येक समान भागास गोलार्ध असें म्हणतात. जसें पूर्वगोलार्ध व पश्चिम गोलार्ध हे पृथ्वीचे दोन समान भाग २०° विसाव्या रेखांश वृत्तानें केले आहेत. तसेच उत्तर गोलार्ध व दक्षिण गोलार्ध असे पृथ्वीचे दोन समान भाग भूमध्यवृत्तानें केले आहेत.

म्हणून भूमध्यवृत्त व सर्व याम्योत्तरवृत्ते ( रेखांशवृत्ते ) हीं पृथ्वीच्या गोलावरील मोठीं वर्तुलें होत.

गोलावरील लहान वर्तुलें:—ज्या वर्तुलाची पातळी गोलाच्या मध्यबिंदूतून जात नाही, व जें त्या गोलाचे दोन असमान ( लहान मोठे ) भाग करिते त्यास गोलाचें लहान वर्तुल म्हणावें. जसें कर्क-वृत्त, मकरवृत्त, उत्तर व दक्षिण ध्रुववृत्त व भूमध्य वृत्ताशिवाय सर्व अक्षांशवृत्ते हीं पृथ्वीचीं लहान वर्तुलें होत.

कर्कवृत्त हें एक पृथ्वीचें लहान वर्तुल भूमध्य रेषेपासून  $२३\frac{१}{२}^{\circ}$  अंश उत्तरेस आहे; व मकरवृत्त हें दुसरें एक पृथ्वीचें लहान वर्तुल भूमध्य रेषेपासून  $२३\frac{१}{२}^{\circ}$  अंश दक्षिणेस आहे.

उत्तर ध्रुववृत्त हें एक पृथ्वीचें लहान वर्तुल उत्तर ध्रुवाभोवतीं  $२३\frac{१}{२}^{\circ}$  अंशांवर आहे; व दक्षिण ध्रुववृत्त हें दुसरें एक लहान वर्तुल दक्षिण ध्रुवाभोवतीं  $२३\frac{१}{२}$  अंशांवर आहे.

कर्कवृत्त व उत्तर ध्रुववृत्त यांच्यामधील प्रदेशास उत्तर समशीतोष्ण कटिबंध म्हणतात; व मकरवृत्त आणि दक्षिण ध्रुववृत्त यांच्या मधील प्रदेशास दक्षिण समशीतोष्ण कटिबंध म्हणतात.

समांतर (भूमध्यवृत्त समांतर) नौकागमन काढण्याची सरणी किंवा रीति:—

गोलावरील वर्तुलासंबंधीं जखरीच्या व्याख्या सांगितल्यावर आतां भूमध्यवृत्तसमांतर नौकागमनांतील मुख्य नियम किंवा सरणी:—

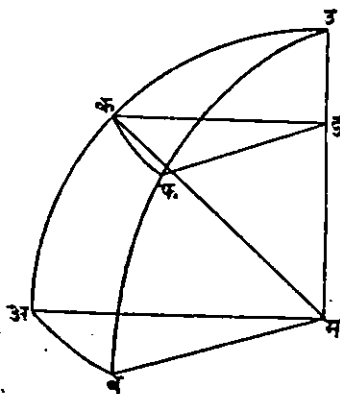
मध्यान्हांतर = रेखांशांतर  $\times$  अक्षांशकोभुजज्या हीं सिद्ध करून दाखवूं.

वरील नियमाचा अर्थ असा आहे कीं कोणतेही गलबत एकाद्या अक्षांशवृत्तावर बरोबर पूर्व-पश्चिम चाललें असतां, त्यानें क्रमिलेलें

अंतर ( त्याची चाल=मुसाद ), हें, तें ज्या रेखांशवृत्तावरून निघालें तें रेखांशवृत्त, व ज्या रेखांशवृत्तावर तें आलें, तें रेखांशवृत्त, या दोहोंच्यामधील अंतरास ( म्ह० रेखांशांतरास ) तें ज्या अक्षांशवृत्तावर चाललें त्या अक्षांशकोनाच्या को-भुज्येनें गुणिलें असतां, त्या गुणाकाराबरोबर आहे. आतां दोन रेखांशवृत्तांमधील कोणत्याही अक्षांशवृत्तावर मैलांनीं मापलेल्या अंतरास मध्यान्हांतर म्हणावें, व त्याच दोन रेखांशांमधील भूमध्यरेषेवर मैलांनीं मापलेल्या अंतरास खरें रेखांशांतर म्हणावें असें मागें सांगितलें आहे; म्हणून वरील नियम कीं, कोणत्याही दोन रेखांशवृत्तांमधील पाहिजे त्या अक्षांशवृत्तावर मापिलेलें अंतर ( म्हणजे मध्यान्हांतर ) हें, त्या दोन रेखांशांमधील खऱ्या रेखांशांतरास त्या अक्षांशकोनाच्या को-भुज्येनें गुणिलें असतां त्या गुणाकाराबरोबर असतें, हा नियम थोडक्यांत—

मध्यान्हांतर=रेखांशांतर×अक्षांशको-भुज्यया, असा लिहिला आहे. परंतु त्याचा खरा अर्थ वर दिल्याप्रमाणें व्यापक आहे.

### सिद्धता



आतां असें समजा कीं, उ अ ब म हें एक भू-गोलाचें खंड आहे, म हा पृथ्वीचा मध्य आहे, उ उत्तर ध्रुव आहे, उ क अ, व उ फ ब, हे दोन मध्यान्हवृत्ताचे भाग आहेत, अ ब हा भू-मध्यवृत्ताचा एक कंस आहे व क फ हा अक्षांशवृत्ताचा एक कंस आहे. क म सांधा; म्हणजे अ क, व ब फ कंस, अथवा अ म क कोन

हा क किंवा फ चे अक्षांश आहे. अ ब रेखांशांतर आहे. कारण ते भू-मध्यवृत्तावर मापिलेले दोन रेखांशवृत्तांमधील अंतर आहे; व क फ हे मध्यान्हांतर आहे. कारण ते भू-मध्यवृत्तावर मापले नसून दुसऱ्या एका अक्षांशवृत्तावर मापलेले दोन रेखांशवृत्तांमधील अथवा मध्यान्हवृत्तामधील अंतर आहे. अ ब म ही भूमध्यवृत्ताची पातळी आहे, व क फ ड ही भू-मध्यवृत्ताशी समांतर अशी एक दुसरी पातळी आहे, असे समजा. म्हणून कड, अ म शी समांतर आहे, व फ ड, ब म शी समांतर आहे व अ म ब कोन कड फ कोनाबरोबर आहे.

आतां जे कंस सारखे कोन करितात, ते ज्या वर्तुलांचे ते कंस असतात, त्या वर्तुलांच्या त्रिज्यांशी प्रमाणांत असतात;

$$\text{म्हणून } \frac{\text{कफ कंस}}{\text{अब कंस}} = \frac{\text{कड त्रिज्या}}{\text{अम त्रिज्या}} = \frac{\text{कड}}{\text{कम}}$$

कारण, कम=अम आहे; कारण त्या दोन्ही एकाच गोलाच्या त्रिज्या आहेत.

$$\text{आणि } \frac{\text{कड}}{\text{कम}} = \text{भुजज्या क म ड}$$

$$= \text{को-भुजज्या क म अ}$$

$$\text{म्हणून } \frac{\text{कफ कंस}}{\text{अब कंस}} = \text{को-भुजज्या क म अ}$$

परंतु कफ कंस हे मध्यान्हांतर ( म्हणजे दोन मध्यान्हवृत्तांमधील किंवा रेखांशवृत्तांमधील अंतर ) आहे व अब कंस हे स्वरें रेखांशांतर आहे, कारण ते भूमध्यवृत्तावर मापिलेले त्याच दोन रेखांशवृत्तांमधील

अंतर आहे; व कमअ कोन हा अक्षांशकोन आहे, कारण तो अक कंसानें दाखविला आहे. म्हणून को-भुजज्या कमअ=

=को-भुजज्या अक्षांश, किंवा अक्षांशको-भुजज्या.

$$\text{म्हणून} \quad \frac{\text{मध्यान्हांतर}}{\text{रेखांशांतर}} = \text{अक्षांशको-भुजज्या.}$$

∴ मध्यान्हांतर=रेखांशांतर×अक्षांशको-भुजज्या.

अथवा जर म=मध्यान्हांतर, कफ कंस.

र=रेखांशांतर, अब कंस.

अक्ष=अक्षांशांतर अक कंस.

तर, म=र×को-भुजज्या अक्ष, अशी ही सरणी थाडक्यात लिहितां येते; परंतु त्याचा अर्थ मागें दिल्याप्रमाणेंच व्यापक आहे.

### उदाहरण.

एक गलबत अ ठिकाणाहून ब ठिकाणीं जातें तर खालीं दिलेल्या माहितीवरून त्याचा होक्यावरील गमनमार्ग ( मुजरो ) व अंतर ( मुसाद ) काढाः—

अ चे अक्षांश ३२°-४२' उत्तर } अक्षांशांतर=०  
ब चे अक्षांश ३२°-४२' उत्तर }

अ चे रेखांश ९°-९' पश्चिम } रेखांशांतर=१०°-१'  
ब चे रेखांश १९°-१०' पश्चिम }

चलन २१°-१०' पश्चिम }

विचलन ८°-१२' पूर्व }

दोन्ही ठिकाणीं एकाच अक्षांशांवर आहेत म्हणून गलबत बरोबर पूर्व-पश्चिम चालविलें पाहिजे, व ब स्थल अ चे पश्चिमेस आहे म्हणून आपणांस थेट पश्चिमेसच गलबत नेलें पाहिजे.

रेखांशांतर  $१०^{\circ}-१' = ६०१$  मैल .

सरणी:—

$m = r \times \text{कोभुज अक्ष}$

किंवा

मध्यान्हांतर = रेखांशांतर  $\times$  अक्षांश को-भुजज्या.

आतां येथें रेखांशांतर  $६०१$  मैल, व अक्षांश  $३८^{\circ}-४२'$  आहेत.

म्हणून मध्यान्हांतर =  $६०१ \times \text{को-भुजज्या} ( ३८^{\circ}-४२' )$

$६०१$  चे लागर्थम् =  $२^{\circ}७७'८८''$

को-भुजज्या  $( ३८^{\circ}-४२' )$  चे लागर्थम् =  $९^{\circ}८९२३३४$

$२^{\circ}६७१२०८$  लाग.

लागर्थम कोष्टकांवरून संख्या  $४६९$

$\therefore ४६९$  मैल हें अंतर.

आतां होक्यावरील गमनमार्ग काढण्यास

खरा गमनमार्ग पश्चिम दिशा  $९०^{\circ}-०$  उत्तरेच्या डावीकडे

चलन पश्चिम- ( चे उलट )  $२१^{\circ}-१०'-०$  उजवीकडे

$६८^{\circ}-५०'-०$  उत्तरेच्या डावीकडे

विचलन पूर्वे ( च्या उलट )

$८^{\circ}-१२'-०$  उत्तरेच्या डावीकडे

$७७^{\circ}-२'-०$

$\therefore$  उत्तर होक्यावरील गमनमार्ग ( किंवा मजुरो )

= उत्तरेच्या  $७७^{\circ}-२'$  पश्चिमेकडे.

( २ ) रें उदाहरण.

कोणत्या अक्षांशवृत्तावर रेखांशाच्या एका अंशाची लांबी  $४५$  मैल भरते तें काढा.

येथे मध्यान्हवृत्तांतर, म=४५ मैल,

खरें रेखांशांतर, र=६० मैल ( कारण रेखांशाच्या ' एक अंशाची लांबी भूमध्यवृत्तावर मापिली असतां ६० मैल भरते ).

म्हणून सरणीत म व र ची किंमत ठेवावी. म्ह० को मुज अक्ष निघेल.

सरणा म=र×को-भुज अक्ष

४५=६०×को-भुज अक्ष.

म्हणून अक्ष को-मुजज्या= $\frac{४५}{६०}=\frac{३}{४}$

लागर्थम ४५ (+१०) = ११°६५३२१३

वजा लागर्थम ६० = १°७७८१५१

कोष्टकावरून ९°८७५०६२

लाग को-मुज (४१°-२५') = ९°८७५०६२

∴ उत्तर=४१°-२५' अक्षांश.

( ३ ) रें उदाहरण.

४५° अक्षांशवृत्तावर रेखांशवृत्ताच्या एका अंशाची लांबी काय भरेल तें काढा.

येथे खरें रेखांशांतर ६० मैल आहे म्हणून

म=र×अक्ष को-मुजज्या

=६०×को-मुज ( ४५° )

लागर्थम ६० = १°७७८१५१

लाग को-मुज ४५ = ९°८४९४८५

११°६२७६३६

कोष्टकावरून संख्या ४२.४३



उत्तर ४२.४३ मैल.

( ४ ) थें उदाहरण.

उत्तर अक्षांश  $५०^{\circ}-३५'$  या वृत्तावर एक गलबत थेट पूर्वेस ३४० मैल जातें तर त्याच्या रेखांशांत किती फेर पडला तें काढा.

$m = r \times \text{को-भुजज्या अक्ष.}$

येथें  $m = ३४०$  मैल.

$$\therefore ३४० = r \times \text{को-भुजज्या } ( ५०^{\circ}-३५' )$$

$$\therefore r = ३४० \times \text{छेदनरेषा } ( ५०^{\circ}-३५' )$$

$$३४० \text{ चे लागर्थ } = २.५३१४७९$$

$$\text{छेदनरेषा } ( ५०^{\circ}-३५' ) \text{ चे लाग.} = १०.१९७२५७$$

$$\frac{२.७२८७३६}{१०.१९७२५७} \text{ लांगर्थम्-}$$

कोष्टकावरून संख्या

$$५३५.५ \text{ मैल, } ६० ) ५३५.५ ( ८$$

$$\frac{४८०}{५५.५}$$

$$५५.५$$

$$५३५.५ \text{ मैल} = ८^{\circ}-५५'-३०'' \text{ हें उत्तर.}$$

( ५ ) वें उदाहरण.

पृथ्वीच्या दैनंदिन गतीमुळे भू-मध्यवृत्तावरील एकादें ठिकाण दर तासांत किती मैल चालतें तें काढा व  $६०^{\circ}$  अक्षांशवृत्तावरील एकादें ठिकाण दर तासास किती मैल चालतें तें सांगा.

पृथ्वीच्या पृष्ठभागावरील प्रत्येक ठिकाण दर दिवसांत म्हणजे दर २४ तासांत  $३६०^{\circ}$  फिरतें.

( १९६ )

म्हणजे दर तासांत  $\frac{३६०}{२४} = १५^{\circ}$  अंश फिरते.

म्हणजे  $१५^{\circ}$  रेखांश फिरते

आतां भू-मध्यवृत्तावर रेखांशाच्या प्रत्येक अंशाची लांबी ६० मैल आहे.

म्हणून  $१५^{\circ} \times ६० = ९००$  मैल हा वेग भू-मध्यवृत्तावरील प्रत्येक ठिकाणास दर तासांत आहे.

आतां ६० अक्षांशावरील प्रत्येक ठिकाण दर तासांत किती चालते ते काढण्यास ६० अक्षांशावरील रेखांशाच्या एका अंशाची लांबी कळली पाहिजे. व तिला  $१५$  नीं गुणिलें म्हणजे झालें.

$$m = r \times \cos - \text{भुजज्या} ( ६०^{\circ} )$$

$$= ६० \times ५०००००$$

$$= ३० \text{ मैल}$$

$\therefore १५^{\circ} \times ३० = ४५०$  मैल हा दर तासांत ६० अक्षांशावरील प्रत्येक ठिकाणाचा वेग झाला.

# भाग १० वा.



## मध्याक्षांश नौकागमन.



मध्याक्षांश नौकागमन—जेव्हां गलबत थेट दक्षिणेस किंवा थेट उत्तरेस जातें, ( म्हणजे तें एकाच रेखांशवृत्तावर चालतें ) तेव्हां त्यानें क्रमिलेलें अंतर हें त्याचें अक्षांशांतर होय. तें मैलांत येईल त्याचे अंश करून तें निघाल्या ठिकाणच्या अक्षांशांत मिळविले असतां किंवा वजा केले असतां त्याचें पोहोचल्या ठिकाणचे अक्षांश काढितां येतात व रेखांश तेच असतात, बदलत नाहींत; म्हणून गलबताचे पोहोचल्या ठिकाणचे अक्षांश व रेखांश एकदम नकी करितां येतात. आतां गलबत जर थेट पूर्वेस अगर पश्चिमेस चाललें तर त्याचे अक्षांश बदलत नाहींत, म्हणजे तें कोणत्या तरी एकाच अक्षांशवृत्तावर चालतें तेव्हां त्याचें रेखांशांतर हें त्याच्या पूर्व-पश्चिम चालीनें एकदम काढतां येत नाहीं. परंतु त्याची पूर्व-पश्चिम चाल म्हणजे मध्यान्हांतर  $m = r \times$  अक्षांश—कोमुजच्या, याबरोबर असते, हें समांतर नौकागमनांत दाखविलें आहे, त्यावरून त्या गलबताचें खरें रेखांशांतर निघतें व तें निघाल्या स्थळाच्या रेखांशांत मिळविलें किंवा वजा केलें म्हणजे पोहोचल्या ठिकाणचे रेखांश निघतात. परंतु जेव्हां गलबत तिरपें चालतें म्हणजे तें थेट उत्तर-दक्षिण किंवा पूर्व-पश्चिमही चालत नाहीं ( म्हणजे तें कोणत्याही एकाच रेखांशवृत्तावर किंवा अक्षांशवृत्तावर चालत

नाहीं. ) परंतु त्याशिवाय दुसऱ्या कोणत्यातरी तिरप्या दिशेने चालते व त्याचे अक्षांश व रेखांश हीं दोन्ही बदलतात, तेव्हां त्याचे अक्षांशांतर सरळ पातळी नौकागमनाच्या रीतीने काढितां येते; परंतु त्याचे खरे रेखांशांतर हें निघाल्या ठिकाणाच्या अक्षांशावर मापिलेल्या मध्यान्हांतरावरून किंवा पोहोचल्या ठिकाणच्या अक्षांशावर मापिलेल्या मध्यान्हांतरावरूनही काढितां येत नाहीं; कारण ध्रुवाकडील अक्षांशांवर मापिलेल्या मध्यान्हांतरावरून काढिलेले खरे रेखांशांतर वाजवीपेक्षां कमी येईल व विषुववृत्ताकडील अक्षांशावर मापिलेल्या मध्यान्हांतरावरून खरे रेखांशांतर काढिले तर तें वाजवीपेक्षां अधिक येईल; म्हणून या दोहोंमधील मध्याक्षांशावर मापिलेल्या मध्यान्हांतरावरून खरे रेखांशांतर काढितात; म्हणून या रीतीस मध्याक्षांश नौकागमन म्हणतात; व तीमध्ये सरळ पातळी नौकागमन व समांतर नौकागमन या दोन्ही रीतींचें मिश्रण केलेलें आहे. म्हणजे मध्याक्षांश नौकागमनांत सरळ पातळी नौकागमनाप्रमाणेंच गणित करून रेखांशगमन ( डिपारचर ) काढितात, व तें मध्य अक्षांशावरील मध्यान्हांतर घरून त्यावरून खरे रेखांशांतर काढितात; याप्रमाणें सरळ पातळी नौकागमन व भूमध्यवृत्त समांतर नौकागमन या दोन्ही रीतींचा उपयोग करून, सरळ पातळी नौकागमनांत पृथ्वीचा पृष्ठभाग ही एक सरळ पातळी आहे असें मानिल्यामुळे होणारी चूक, मध्याक्षांशगमन रीतीनें बहुतेक दूर केली जाते.

गलबत कोणत्या तरी एकाच रेखांशवृत्तावर किंवा अक्षांशवृत्तावर चालले असतां त्याचे पोहोचलेल्या ठिकाणचे अक्षांश व रेखांश हे त्याच्या चालीवरून कसे काढावे हें मार्गें सांगितलेच आहे. आतां गलबत थेट पूर्व-पश्चिम किंवा दक्षिणोत्तर या दिशेनें न जातां

तिरप्या दिशेनें म्हणजे प्रत्येक मध्यान्हवृत्ताशीं काटकोन न करितां दुसरा कोणता तरी सारखाच कोन करून जातें, तेव्हां त्याचे अक्षांश व रेखांश हे दोन्ही बदलतात. मध्य अक्षांश नौकागमनाच्या रीतीनें आपण या तिरप्या चालींत गलबताचा गमनमार्ग, अंतर, रेखांशांतर, अक्षांशांतर व ज्या ठिकाणीं गलबत आलें त्या ठिकाणचे अक्षांश, रेखांश हीं कांहीं दिलेल्या माहितीवरून काढूं शकतो.

समांतर नौकागमन रीतींत—

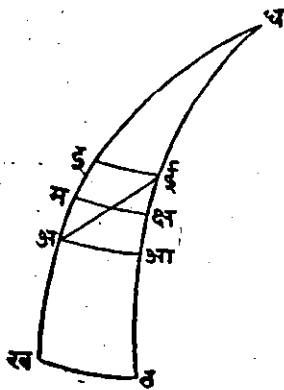
$m = r \times$  अक्षांश को-भुजज्या— ( १ )

हें समीकरण कसें येतें तें सिद्ध करून दाखविलें आहे. आतां मध्य अक्षांश नौकागमनांत हें समीकरण—

$m = r \times$  मध्याक्षांश को-भुजज्या ( २ ) या समीकरणानें दाखविलें जातें व त्याचा अर्थ असा होतो कीं, ( म ) म्हणजे दोन मध्यान्हवृत्तांमधील अंतर हें खरें रेखांशांतर गुणिले मध्य अक्षांश को-भुजज्या, याचे बरोबर असतें. पहिल्या समीकरणाचें रूपांतर करून दुसरें समीकरण लिहिण्याचें कारण असें आहे कीं, पहिल्या समीकरणांतील दोन ठिकाणें एकाच अक्षांशवृत्तावर होती व दुसऱ्या समीकरणांतील दोन ठिकाणें निरनिराळ्या अक्षांशवृत्तावर आहेत, व निरनिराळ्या अक्षांशवृत्तांवर असणाऱ्या दोन स्थळांमधून जाणाऱ्या दोन मध्यान्हवृत्तांमधील रेखांशांतर हें त्या दोन स्थळांमधील मध्याक्षांशवृत्तावर मापिलेल्या मध्यान्हांतराबरोबर ( डिपारचरबरोबर ) बहुतेक असतें, असें गृहीत घेतलें आहे.

पुढील आकृतींत घ हा पृथ्वीचा ध्रुव आहे. व अ आणि ई हीं पृथ्वीवरील दोन स्थळें निरनिराळ्या अक्षांश व रेखांशावर आहेत, असें समजा. घइ, अख, व घई, आत, हीं दोन मध्यान्हवृत्ते

आणि ई या दोन स्थळांमधून जात आहेत, व खत हा त्या दोन मध्यान्हवृत्तांमधील भूमध्यवृत्ताचा भाग आहे, व अ आ आणि इ ई हे त्या दोन स्थळांमधून जाणाऱ्या दोन अक्षांशवृत्ताचे भाग आहेत, व मक्ष हा त्या दोन स्थळांच्या मध्य अक्षांशाचा भाग त्या दोन रेखांशवृत्तांच्यामध्ये आहे असें समजा. आतां अ पासून ईपर्यंत एकादें गलबत जातें अशी कल्पना केली तर त्याचें रेखांशगमन ( डिपारचर ) हें इ ईपेक्षां अधिक होईल परंतु अ आपेक्षां कमी होईल, व तें बहुतेक मक्ष बरोबर होईल



आकृती ३२ वी.

म्हणजे थोडक्यांत  $m = r \times$  मध्याक्षांश को-भुजज्या.

आतां ही सरणी सर्व ठिकाणी लागू पडत नाही, तरी समुद्रावर खलाशी लोकांचें काम चालविण्यास ती पुरे आहे. अ आणि ई यांच्या दरम्यान एक तिसरें कोणचेंतरी अक्षांशवृत्त आहे. त्याचा उपयोग केल्यास गणित बरोबर येतें; खालील तीन स्थितींमध्ये हें तिसरें अक्षांशवृत्त बहुतेक मध्याक्षांशाशीं मिळतें. ( तरी तें किंचित् ध्रुवाकडेच असतें. ) :—

( १ ) जेव्हां भूमध्यवृत्ताचे जवळ व त्याचे एकाच बाजूस हीं दोन स्थळे असतात तेव्हां—

व मक्ष हा त्या दोन अक्षांशांमधील मध्यअक्षांशाचा भाग त्या दोन रेखांशवृत्तांमध्ये आलेला आहे. समक्ष = खत  $\times$  को-भुजज्या खम.  $\therefore$  मध्यान्हवृत्तांतर = रेखांशांतर  $\times$  मध्य अक्षांश को-भुजज्या.

( २ ) जेव्हां अक्षांशांतर थोडें असेल तेव्हां, व जेव्हां—

( ३ ) गमनमार्ग  $४५^{\circ}$  अंशांहून मोठा असेल तेव्हां—

या तीन स्थितींमध्ये मध्याक्षांश नौकागमनाच्या रीतीने केलेले गणित बरोबर येते. त्याचे उलट स्थिति असेल तेव्हां म्हणजे—

( १ ) ध्रुवाकडील अक्षांशावर व जेव्हां एक स्थल भूमध्यवृत्ताचे दक्षिणेस व दुसरें उत्तरेस असेल तेव्हां

( २ ) अक्षांशांतर फार असेल तेव्हां

( ३ ) गमनमार्ग  $४५^{\circ}$  अंशापेक्षा कमी असेल, तेव्हां मध्य-अक्षांश नौकागमनाच्या रीतीचा उपयोग करूं नये. केल्यास त्यांत अधिक चूक होण्याचा संभव आहे. कारण मध्याक्षांश नौकागमनांत गृहित घेतलेली गोष्ट की, दोन स्थलांच्या मध्यान्हवृत्तामधील मध्या-न्हांतर हें त्या दोन स्थलांमधील मध्य अक्षांशांवर मापिलेल्या मध्या-न्हांतराबरोबर असते, ही यावरील तीन स्थितींत बरोबर लागू पडत नाही, म्हणून चूक होण्याचा संभव आहे.

पृथ्वीच्या पृष्ठभागावरील कोणत्याही एका स्थळापासून एकादें गलबत दुसऱ्या स्थळापर्यंत मधील सर्व मध्यान्हवृत्तांशी सारखाच कोन करून म्हणजे एकाच तिरप्या दिशेने नेले असता त्याचें रेखां-शगमन ( डिपारचर ) हें त्या स्थळांमधून जाणाऱ्या दोन रेखांश-वृत्तांमधील ( मध्यान्हवृत्तांमधील ) त्या दोन स्थलांपासून जाणाऱ्या अक्षांशवृत्ताच्या मध्यअक्षांशावर मापिलेल्या अंतराबरोबर बहुतेक असते. म्हणजे त्या गलबताचें रेखांशगमन ( डिपारचर ), हें त्या दोन स्थलांमधून जाणाऱ्या दोन अक्षांशवृत्तांच्या मध्यअक्षांशवृत्तांचा जो भाग, त्या दोन स्थलांपासून जाणाऱ्या दोन मध्यान्हवृत्तांमध्ये येतो, त्याच्या बहुतेक बरोबर असते. तें अगदी बरोबर नसतें त्याचें

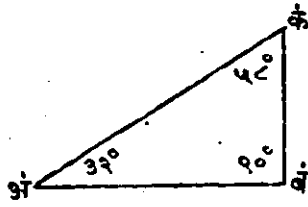
कारण त्या दोन स्थलांमधून जाणाऱ्या मध्यान्हवृत्तांमधील त्या दोन स्थलांच्या अक्षांशवृत्तांचे कंस, व त्याच्या मध्य-अक्षांशवृत्तांचा कंस, हे जरी गणितप्रमाणांत असले, तरी त्यांच्या को-भुजज्या गणितप्रमाणांत असत नाहीत. ( म्हणजे त्या दोन स्थलांच्या मध्यान्हवृत्तांमधील त्या स्थलांमधून जाणाऱ्या अक्षांशवृत्तांच्या दोन कंसांच्या बेरजेस दोहोंनीं भागून जो भागाकार येतो, तो जरी मध्य अक्षांशाच्या कंसांबरोबर असला तरी त्या दोन अक्षांश कंसांच्या दोन को-भुजज्यांच्या बेरजेस दोहोंनीं भागिलें असतां तो भागाकार मध्यअक्षांश कंसाच्या को-भुजज्येबरोबर येत नाही. ) तसेंच दोन मध्यान्हवृत्तांवरील दोन अक्षांशवृत्तांचे दोन कंस व त्याचे मध्य-अक्षांशवृत्तांचा ( त्याच दोन मध्यान्ह वृत्तांमधील ) कंस, हे सदोदित गणितप्रमाणांत नसतात. ( कारण मध्यान्हवृत्ते या सरळ रेषा नाहीत, वर्तुळें आहेत ) परंतु कधी कधी असतात, तथापि जेव्हां तीं दोन स्थले भूमध्यरेषेजवळ असतात व त्यांमधून जाणारीं अक्षांशवृत्ते जवळ जवळ असतात तेव्हां मध्य-अक्षांशवृत्तांत गृहित घेतलेल्या गोष्टीपासून फार थोडी चूक येते व ती समुद्रावरील गणितांत चालण्यासारखी असते.

मध्य-अक्षांशगमनाच्या रीतीनें गणित करितांना विद्यार्थ्यांनें उदाहरणांत सांगितल्याप्रमाणें एक त्रिकोणाकृति काढावी व त्या त्रिकोणावरून उदाहरण सोडविण्याचे नियम लक्ष्यांत ठेवावे. नियम नुसते तोंडपाठ करून उपयोगीं नाही.

समांतर नौकागमनांत सांगितलें आहे कीं,

मध्यान्हांतर = रेखांशांतर  $\times$  अक्षांश को-भुजज्या. अबक या काटकोन त्रिकोणांत अब हें मध्यान्हवृत्तांतर समजा, व कअब कोन हा मध्याक्षांश कोन समजा. तर अक हें खरें रेखांशांतर होईल.





आकृति ३३ वी.

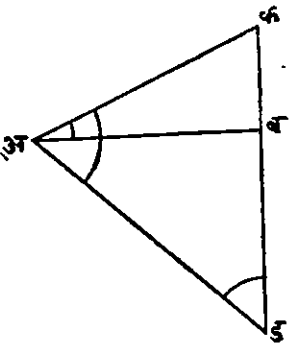
कारण त्रिकोनमितीतील व्याख्यांवरून  
अब = को-भुजज्या अ,  
अक = को-भुजज्या अ,

∴ अब = अक × को-भुजज्या अ, परंतु  
अब = मध्यवृत्तांतर आहे, व अ हा  
अक्षांश कोन आहे म्हणून अक हे रेखां-

शांतर झाले.

आतां या आकृतीशी ३२ व्या आकृतीतील गमनमार्ग अई, व अक्षांशांतर, अइ; मध्यान्हांतर, मक्ष; हीं जोडून एक संयुक्त आकृति काढूं.

३२ व्या आकृतीतील गमनमार्ग अई हा या आकृतीत अडने दाखविला आहे, असें समजा. व अक्षांशांतर अइ किंवा अई, हे यात डबने दाखविले आहे, तर अब हे अई या तिरप्या गमनमार्गाचे मध्यान्हांतर किंवा मध्य-अक्षांशवृत्तांवर मापिलेले रेखांशगमन ( डिपारचर ) बहुतेक मक्ष बरोबर होईल. म्हणजे ते मध्यअक्षांशांवर मापिलेल्या मध्यान्हवृत्तां-



आकृती ३४ वी.

तराबरोबर बहुतेक होईल. तसेंच क अब हा मध्याक्षांश मापणारा कोन समजला, तर अक हे खरे रेखांशांतर, खत बरोबर होईल. आतां हे उघड आहे की, जर अड हे दोन स्थलांमधील अंतर आहे, डब हे त्याचे रेखांशांतर आहे, आणि व अक कोन हा मध्याक्षांश दाखविणारा कोन आहे, तर बड अ हा गमनमार्ग होईल. अब

हैं रेखांशगमन (डिपारचर) अथवा मध्याक्षांशांवर मापिलेलें मध्यांतर व अक हें खरें रेखांशांतर बहुतेक बरोबर होईल हें उघड आहे.

याप्रमाणें मध्याक्षांश नौकागमन रीतीनें उदाहरणें सोडवितांना जी आकृति काढावी लागते ती दोन त्रिकोन मिळून झालेली असते; त्या दोहोंस एक बाजू साधारण असते; ती बाजू रेखांशगमन (डिपारचर) किंवा मध्यान्हांतर दाखविते; एक त्रिकोन सरळ पातळी नौकागमनाची रीति स्पष्ट करून दाखवितो, व दुसरी समांतर नौकागमनाची रीति उघड करून दाखवितो.

आतां या संयुक्त आकृतीतील ( आ. ३४ ) अ व क या काटकोन त्रिकोनांत  $\frac{\text{अब}}{\text{अक}} = \text{को-भुजज्या क अ ब}$

∴ अब = अक × को-भुजज्या क अ ब.

म्हणजे रेखांशगमन ( डिपारचर ) अ० मध्यान्ह वृत्तांतर =  
= खरें रेखांशांतर × मध्याक्षांश को-भुजज्या. ( १ )

फिरून  $\frac{\text{अब}}{\text{डब}} = \text{स्पर्शरेषा अ ड ब ( गमनमार्ग )}$

∴ गमनमार्गस्पर्शरेषा = खरें रेखांशांतर × मध्याक्षांश को-भुजज्या. ( २ )  
अक्षांशांतर

क अ ड या विशाळकोन त्रिकोनांत

भुजज्या क : अड बाजू :: भुजज्या ड : अक बाजू  
( कारण त्रिकोनाच्या बाजू, समोरील कोनाच्या भुजज्येच्या प्रमाणांत असतात ) व क कोन क अ ब चा पूरक कोन आहे म्हणून  
को-भुजज्या मध्याक्षांशः अंतर :: गमनमार्ग भुजज्या : खरें रेखांशांतर.  
∴ खरें रेखांशांतर = अंतर × गमनमार्ग भुजज्या × मध्याक्षांश छेदनरेषा. ( ३ )

मध्याक्षांश नौकागमनरीतीतील सर्व उदाहरणें वरील तिन्ही प्रकारांपैकी कोणच्या तरी एका समीकरणानें सोडवितां येतात. त्यांपैकी ( २ ) व ( ३ ) फार उपयोगी आहेत. या निरनिराळ्या रीति देण्याचा हेतु इतकाच आहे की, खरें रेखांशांतर होईल तितकें बरोबर यावें.

मध्याक्षांश नौकागमनाची रीति सर्वत्र सारखी लागू पडत नाही म्हणून मरकाटरनें शोधून काढिलेली रीति पुढील भागत दिली आहे ती बहुतकरून सर्वत्र सारखी लागू पडते. तथापि, मध्याक्षांश नौकागमनाची रीति खाली दिलेल्या स्थितीत चांगली उपयोगी पडते व ह्या रीतीनें सोडविलेलीं उदाहरणें बहुतेक बरोबर येतातः--म्हणजे

( १ ) जेव्हां गलबत भूमध्य रेषेजवळून फार दूर जात नसेल तेव्हां,

( २ ) जेव्हां तें भूमध्य रेषा ओलांडून जात नसेल तेव्हां,

( ३ ) जेव्हां गमनमार्ग बहुतेक पूर्व पश्चिम असेल तेव्हां म्ह. निदान गमनमार्ग ४५ अंशापेक्षां आधीक असेल तेव्हां; मध्याक्षांश नौकागमन रीतीचा उपयोग करावा. बाकीच्या सर्व ठिकाणीं मरकाटरचे रीतीचा उपयोग करावा.

( १ ) दोन ठिकाणाच्या दिलेल्या अक्षांशरेखांशांवरून गमनमार्ग व अंतर काढणें.

### उदाहरण.

खाली दिलेल्या माहितीवरून केप निग्रोपासून केप सेन्ट राकपर्यंत होवयावरील गमनमार्ग व अंतर काढा.

केप निग्रो ६० अक्षांश १५'—५०'; पूर्व रेखांश ११°—३०'

केप सेन्ट राक द० अक्षांश  $५^{\circ}-१५'$ ; पश्चिम रेखांश  $३४^{\circ}-३०'$   
होक्याचें चलन  $१९^{\circ}-१०'$  पश्चिमेस; विचलन  $७^{\circ}-५'$  पश्चिमेस.

प्रथम अक्षांशांतर, रेखांशांतर, व मध्य अक्षांश काढा.

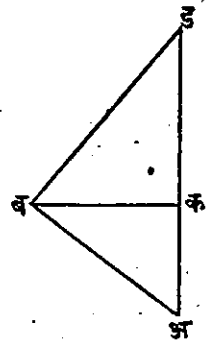
अक्षांशांतर.	मध्य अक्षांश.
केप निग्रो द० अक्षांश $१५^{\circ}-५०'$	केप निग्रो अक्षांश $१५-५०$ द०
केप सेन्ट राक द० अक्षांश $५^{\circ}-१५'$	केप सेन्ट राक $५-१५$ द०
अक्षांशांतर $१०^{\circ}-३५'$	२) $२१^{\circ}-५'$
$\text{=मैल} \frac{\times ६० + ३५}{६३५}$	$१०^{\circ}-३२३'$
	$९०-०$
	को-मध्याक्षांश $७९^{\circ}-२७३'$

रेखांशांतर

केप निग्रो पू० रेखांश  $११^{\circ}-३०'$  }  
केप सेन्ट राक पू० रेखांश  $३४-३०$  }

खरें रेखांशांतर  $४६^{\circ}-० = \text{मैल } २७६०.$

आतां अ ब क हा एक काटकोन त्रिकोन करा; त्यांत अक अक्षांशांतर =  $६३५$  मैल आहे असें समजा, व बक रेखांशागमन ( डिपारचर )  $२७६०$  मैल आहे असें समजा. तर क अ ब कोन हा गमनमार्ग होईल.



$$\therefore \text{गमनमार्ग काटण्यास, स्पर्शरेषा क अ ब} = \frac{\text{बक रेखांशगमन}}{\text{अक अक्षांशांतर}} - (१)$$

आतां क ब ड हा मध्याक्षांशाएवढा ( म्हणजे  $१०^{\circ}-३२३'$  ) कोन आहे असे समजा आणि ब क ड हा काटकोन त्रिकोन पुरा करा. बक हे मध्यान्हांतर ( डिपारचर ) क ब ड या मध्य अक्षांशावर आहे असे समजा.  $m = r \times \text{मध्याक्षांश को-भुजज्या}$  ( २ ) आहे, म्हणून  $\text{बक} = r \times \text{मध्याक्षांश को-भुजज्या}$ ; ही ब क ची किंमत ( १ ) समीकरणांत ठेवा.

$$\therefore \text{स्पर्शरेषा क अ ब} = \frac{\text{बक रेखांशगमन}}{\text{अक अक्षांशांतर}}$$

$$= \frac{\text{खरें रेखांशांतर} \times \text{मध्याक्षांश को-भुजज्या}}{\text{अक्षांशांतर}}$$

आतां २७६० मैल हें खरें रेखांशांतर दिलेले आहे,

मध्याक्षांश कोन =  $१०^{\circ}-३२३'$  दिलेला आहे, व अक्षांशांतर

६३५ मैल दिलेले आहे, त्यावरून लागर्थमिक-कोष्टकावरून अ कोनही निघेल.

खरें रेखांशांतर २७६० चे लागर्थम ३.४४०९०९  
को-भुज-मध्याक्षांश (  $१०^{\circ}-३२३'$  ) चे लागर्थम ९.९९२६०८

बेरीज

१३.४३३५१७

उणे अक्षांशांतर ६३५ चे लागर्थम ....

२.८०२७७४

बाकी ....

१०.६३०७४३

कोष्टकावरून  $७६^{\circ}-५०'$  ची स्पर्शरेषा =  $१०.६३०९०६$  ही आहे म्हणून  $७६^{\circ}-५०'$  हा गमनमार्ग होय.

( २०८ )

अंतर काढण्यास,

$$\text{को-भुज्या अ} = \frac{\text{अक}}{\text{अब}}$$

$$\therefore \text{अब} = \frac{\text{अक}}{\text{को-भुज.अ.}}$$

$\therefore$  अंतर = अक्षांशांतर  $\times$  छेदनरेषागमनमार्ग.

अक्षांशांतर ६३५ मैल दिले आहे व गमनमार्ग  $७६^{\circ}-५०'$  हा काढिला आहे म्हणून लागर्थमचे कोष्टकावरून अंतर निघते.

अक्षांशांतर ६३५ चे लागर्थम ..... २८०२७७४  
छेदनरेषागमनमार्ग (  $७६^{\circ}-५०'$  ) चे लाग. १०६४२४७६  
बेरीज... .. १३४४५२५०

मागील दशक काढून टाकून आलेल्या लागर्थमवरून संख्या २७८८ येते ते अंतर होय.

होक्यावरील गमनमार्ग काढण्यास,

खरा गमनमार्ग उ०  $७६^{\circ}-५०'$  पश्चिमेस  $७६^{\circ}-५०'$  उ० डा०  
चलन  $१९^{\circ}-१०'$  }  
विचलन  $७^{\circ}-१५'$  } २६-२५' उ० उ०  
उत्तरेक० ५०^{\circ}-२५' पश्चिमेस.

$\therefore$  होक्यावरील गमनमार्ग उ०  $५०^{\circ}-२५'$  पश्चिमेस व अंतर २७८८ मैल हे उत्तर.

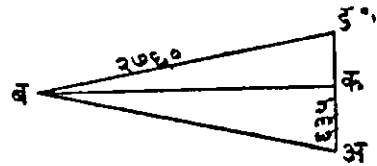
## आकृतीवरून:—

मागील उदाहरणांतील आकृति बरोबर स्केलानें ( प्रमाणपट्टीनें ) काढिली तर वरील उत्तरे आकृतीवरून स्केलानें मापूनही काढितां येतात.

ड अ हें केप निग्रोमधून जाणारें मध्यान्हवृत्त आहे असें समजा.

अडरेषेत ड बिंदूशीं अ ड ब कोन को-मध्याक्षांश (  $७९^{\circ}-२७३'$  )

एवढा करून घ्या; ड ब खरें रेखां-  
शांतर  $२७६०$  मैल बरोबर स्के-  
लानें करा, ब बिंदूपासून अड-  
वर बक लंब काढा. व, कअ ही  
अक्षांशांतर  $६३५$  मैल बरोबर



आकृति ३६.

त्याच स्केलानें करा, व अब जोडा; म्हणजे क अ ब हा गमनमार्ग  
कोन  $७६^{\circ}-५०'$  भरेल, व अब अंतर स्केलानें  $२७८८$  मैल भरेल.  
यावरून होक्यावरील गमनमार्ग चलन व विचलन लावून मार्गें सांगि-  
तल्याप्रमाणें काढावा.

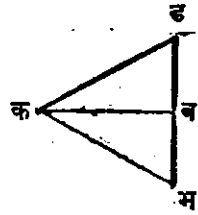
( २ ) निघाल्या ठिकाणचे अक्षांश व रेखांश दिले आहेत व  
खरा गमनमार्ग आणि अंतर हीं दिलीं आहेत, त्यांवरून पोहोंचल्या  
ठिकाणचे अक्षांश व रेखांश काढा.

## उदाहरण.

एक गलबत उत्तर अक्षांश  $५२^{\circ}-६'$  व पश्चिम रेखांश  $३५^{\circ}-६'$   
वरून निघालें तें N W By W या दिशेनें  $२२९$  मैल गेलें, तर तें  
पोहोंचलें त्या ठिकाणचे अक्षांश-रेखांश काढा.

( अ ) आकृतीवरून.

अ ड ही एक रेखांशवृत्त दाखविणारी रेषा काढा, ड अ च्या अ बिंदूशीं गमनमार्गकोन ५ बिंदु किंवा ५ खंड एवढा, ड अ क, हा कोन करून घ्या, व अक अंतर हें २२९ मैलांबरोबर स्केलानें करा; क बिंदूपासून अडवर कब लंब काढा; म्हणजे बक रेखांशगमन ( डिपारचर ) हें १९० मैल मरेल व अब अक्षांशांतर हें १२७ मैल मरेल. आकृति ३७. म्हणून पोहोचल्या ठिकाणचे अक्षांश  $५४^{\circ}-१३'$  हे आहेत.



$$\left. \begin{array}{l} \text{व मध्याक्षांश, } ५२^{\circ}-६' \\ ५४^{\circ}-१३' \end{array} \right\} = \frac{१०६^{\circ}-१९'}{२} = ५३^{\circ}-९'-३०''$$

आतां ब क च्या क बिंदूशीं ब क ड कोन हा मध्याक्षांश  $५३^{\circ}-९'$  एवढा करा म्हणजे कड हें खरें रेखांशांतर येईल व तें  $३१७$  मैल मरेल.

( आ ) गणितानें

अक्षांशांतर काढण्यास,

$$\text{को-भुजज्या-गमनमार्ग} = \frac{\text{अक्षांशांतर}}{\text{अंतर}}$$

∴ अक्षांशांतर = अंतर × को-भुजज्या-गमनमार्ग.

अक्षांशांतरचे लागर्थम = अंतरचे लागर्थम + को-भुजज्या गमनमार्गाचे लागर्थम

$$\text{अंतर } २२९ \text{ चे लाग.} \text{ ————— } २.३५९८३५$$

$$\begin{array}{l} \text{गमनमार्ग } ५ \times ११३^{\circ} \\ = ५६^{\circ}-१५' = \end{array}$$



( २११ )

$$\therefore \text{लाग. को-भुज ( } ५६^{\circ}-१५' ) = \frac{९-७४४७३९}{\text{बेरीज } १२-१०४५७४}$$

\therefore \text{लागर्थम कोष्टकावरून अक्षांशांतर } १२७-२ \text{ मैल.}

रेखांशांतर काढण्यास—( आ. ३७ पहा ).

$$\begin{aligned} \text{छेदनरेषा ड क ब} &= \frac{\text{कड रेखांशांतर}}{\text{कब रेखांशगमन}} = \frac{\text{रेखांशांतर}}{\text{मध्यान्हांतर (डिपारचर)}} = \text{मध्या-} \\ &= \text{मध्याक्षांशछेदनरेषा.} \end{aligned}$$

\therefore \text{रेखांशांतर} = \text{मध्यान्हांतर} \times \text{मध्याक्षांश छेदनरेषा} — ( १ )

$$\text{व } \frac{\text{मध्यान्हांतर ( डिपारचर )}}{\text{अंतर}} = \text{गमनमार्गभुजज्या} — ( २ )$$

\therefore \text{मध्यान्हांतर} = \text{अंतर} \times \text{गमनमार्गभुजज्या ( } ५३^{\circ}-९'-३०'' )

म्हणून रेखांशांतर = अंतरगमनमार्गभुजज्या  $\times$  मध्याक्षांश छेदनरेषा ( ३ ),  
लागर्थमाचे रीतीप्रमाणे

रेखांशांतराचे लागर्थम = अंतरचे लाग० + लागर्थमिक गमनमार्गभुजज्या.

+लाग. मध्याक्षांश छेदनरेषा.

अंतर २२१ चे लाग ————— २-३५९८३५

भुजज्या गमनमार्ग ( ५६<sup>०</sup>-१५' ) चे लाग. — ९-९१९८४६

लागर्थमिक छेदनरेषा मध्याक्षांश ( ५३<sup>०</sup>-९' ) १०-२२२०५०

रेखांशांतराचे लागर्थम ————— २-५०१७३१

त्यावरून कोष्टकांतून रेखांश ३१७-९ आले.

आतां पोहोचल्या ठिकाणचे अक्षांश काढण्यास;

निघाल्या ठिकाणचे अक्षांश— — — — — ५२°-६' उत्तर.

अक्षांशांतर १२७ मैल— — — — — २°-७' उत्तर.

पोहोंचल्या ठिकाणचे अक्षांश— — — — — ५४°-१३-०

निघाल्या ठिकाणचे अक्षांश ५२ - ६ - ०

वेरीज ÷ २ २ ) १०६-१९

=मध्याक्षांश .... .... ५३°-९'-३०'

९०—०

कोमध्याक्षांश ३६°-५०'३०

—५०°-३०

पोहोंचल्या ठिकाणचे रेखांश काढण्यास

निघाल्या ठिकाणचे रेखांश ३५°-६' पश्चिमः

रेखांशांतर ( ३१७ - ५ ) मैल= ५°-१७° . ५ पश्चिम.

पोहोंचल्या ठिकाणचे रेखांश ४०°-२३'-३०°

( ई ) आतां हेंच उदाहरण ट्रान्हर्स कोष्टकावरून मार्गे सरल पातळीत सरलैकरेबा नौकागमनाचे रीतीत सांगितल्याप्रमाणें करितां येईल. तें असें:—गमनमार्ग ५ खंड म्हणजे ५६°-१५' दिलेला आहे म्हणून ५ खंडाचें पान काढा ( ५ खंड हें कोष्टकांत पानाच्या खालचे बाजूस पहावें. ) त्यांत अंतर २२९ याचेसमोर अक्षांशांतर १२७-२ सांपडेल व रेखांशांतर ( डिपारचर ) १९०-४ सांपडेल. आतां कोमध्याक्षांश ३७° चें पान ट्रान्हर्स कोष्टकांतून काढा व त्यांत रेखांशगमनाचे ( डिपारचरचे ) सदराखाली १९०-४ हा अंक

( २१३ )

पहा म्हणजे त्याचे मार्गे अंतर या सदरांत ३१६ हा अंक सांपडेल  
ते खरे रेखांशांतर होय. ते निघाल्या ठिकाणचे रेखांशांत मिळवि-  
ल्यास  $३५^{\circ}-६'$  } पोहोचल्या ठिकाणचे पश्चिम रेखांश हे  
 $५^{\circ}-१६'$  } येतात.

रेखांश  $४०^{\circ}-२२'$

व अक्षांश  $५२-६$  } =  $५४^{\circ}-१३'$  उत्तर. हे येतात.  
 $२-७$



# भाग ११ वा.

## मरकॉटरचें नौकागमन.

मध्याक्षांश नौकागमनांत जे नियम दिले आहेत ते कित्येक ठिकाणीं उपयोगीं पडत नाहींत असें मागे सांगितलें आहे. आतां जे नौकागमनाचे नियम देऊं ते बहुतेक सर्वत्र उपयोगीं पडतील असे आहेत. मरकॉटरच्या नौकागमन रीतीनें गमनमार्गकोन, अंतर, व रेखांशांतर काढण्याच्या ज्या सरण्या दिलेल्या आहेत त्या बहुतेक बरोबर आहेत असें म्हटलें तरी चालेल. त्या जरी अगदीं तंतोतंत बरोबर नाहींत. तरी त्यावरून केलेलें गणित समुद्रावरील खलाशी लोकांचे कामास उपयोगीं पडेल इतकें तें बरोबर येतें यांत संशय नाहीं. मरकॉटरचें नौकागमन म्हणजे मरकॉटरनें जीं मते किंवा तत्त्वे स्थापित केलीं आहेत त्यांवरून गणित करून कोणत्याही गलबताचें अंतर, गमनमार्ग ( कोन ) व गलबताचे अक्षांश व रेखांश नक्की करण्याची रीति होय.

अक्षांशवृत्ते, रेखांशवृत्ते, आणि गलबतांचे तिरपे गमनमार्ग हीं सर्व नकाशावर सरळ रेषांनीं कशीं दाखवावीं हें प्रथमतः मरकॉटरनें शिकविलें, तरी तीं गणितशास्त्राप्रमाणें अगदीं बरोबर नकाशावर कशीं काढावीं हें प्रथम दाखविण्याचा मान एडवर्ड रिट नांवाच्या इंग्रजास देणें योग्य आहे. मरकॉटरच्या नकाशांत सर्व मध्यान्हवृत्ते ( याम्योत्तरवृत्ते ) अथवा रेखांशवृत्ते हीं एकमेकांशीं समांतर काढि-

तात; त्यामुळे भूमध्यरेषेवर मात्र त्यांच्या परस्परांमधील अंतरें खरी असतात; दुसऱ्या कोठेही तीं बरोबर नसतात. भूमध्यरेषेपासून जस-जसें दूर जावें तसतसा त्यांच्यामधील अंतरांत व खऱ्या अंतरांत अधिक अधिक फेर पडत जातो. म्हणजे भूमध्यरेषेपासून जसजसें उत्तरेकडे अथवा दक्षिणेकडे जावें तसतसें मध्यान्हवृत्तामधील अंतर खऱ्या अंतरापेक्षां मरकॉटरचे नकाशावर अधिक अधिक वाढत जातें; याचें कारण सर्व मध्यान्हवृत्तें ( अथवा रेखांशवृत्तें ) जीं ध्रुवाशीं एके बिंदूत मिळावयाची तीं मरकॉटरचे नकाशावर समांतर काढितात व प्रत्येक अक्षांशवृत्त भूमध्यवृत्ताएवढें आहे असें मानितात; म्हणजे प्रत्येक अक्षांशवृत्ताची लांबी, जसजसें तें भूमध्यवृत्तापासून दूर दूर असेल तसतशी अधिक अधिक वाढत जाते. आतां अक्षांशवृत्तें व रेखांशवृत्तें यांच्या अंशकलेच्या लांबीमधील प्रमाण सारखेंच रहावें म्हणून जशी अक्षांशवृत्तांच्या अंशकलेची लांबी वाढली तशी रेखांशवृत्तांच्या अंशकलेचीही लांबी त्यांच्या अक्षांशाच्या प्रमाणानें वाढविली पाहिजे, म्हणजे त्यांच्यामधील अंतराचें प्रमाण सारखेंच राहिल. म्हणून मरकॉटरचे नकाशावर कोणत्याही दोन अक्षांशवृत्तांमधील अंतर, जें रेखांशवृत्तावर मापितात, तें तीं दोन अक्षांशवृत्तें, भूमध्यरेषेपासून जसजशीं दूर असतील तसतसें अधिक अधिक होतें.

समांतर नौकागमनांत दाखविलें आहे कीं,

मध्यान्हांतर = रेखांशांतर × अक्षांशको-भुजज्या.

∴ रेखांशांतर = मध्यान्हांतर × अक्षांशछेदनरेषा.

यावरून हें उघड आहे कीं, आपण मरकॉटरचें मध्यान्हांतर हें खऱ्या रेखांशांबरोबर करितों म्हणजे प्रत्येक अक्षांशवृत्त-भूमध्यरेषे-बरोबर करितों, म्हणजे आपण अक्षांशाच्या छेदनरेषेच्या प्रमाणानें

मध्यान्हांतर वाढवित्तों, व सर्व मध्यान्हवृत्ते एकमेकांशीं समांतर करित्तों. आतां मध्यान्हवृत्ते एकमेकांशीं समांतर काढिल्ली असतां रेखांशाच्या प्रत्येक अंशकलेची लांबी त्यांच्या अक्षांशाच्या छेदनरेषेच्या प्रमाणानें वाढिली जाते ( म्हणून तीं सर्व ठिकाणीं सारखीच भरते ) व रेखांश आणि अक्षांश यांच्या लांबीमध्ये सारखेंच प्रमाण राहावें म्हणून रेखांशवृत्तावर मापले जाणाऱ्या अक्षांशाच्या प्रत्येक अंशकलेची लांबीही त्याचप्रमाणानें ( म्हणजे अक्षांशांच्या छेदनरेषेच्या प्रमाणानें ) वाढविली पाहिजे. म्हणून भूमध्यरेषेपासून उत्तरेस अगर दक्षिणेस अक्षांशाचा एक मैल ( जो एक कलेबरोबर असतो ) हा १' × छेदनरेषा १' यानें दाखविला जातो. दुसरा मैल—१' × छेदनरेषा २' यानें दाखविला जातो. तिसरा मैल—१' × छेदनरेषा ३' यानें दाखविला जातो.

व नवा मैल १' × छेदनरेषा न' यानें दाखविला जाईल. वरील रकमांची बेरीज = १'(छेदनरेषा १' + छेदनरेषा २' + + न रकमांपर्यंत.) म्हणून भूमध्यरेषेपासून न' ( न कला ) इतके अंतरावर असणाऱ्या अक्षांशवृत्ताचे मरकॉटरचे नकाशावरील भूमध्यरेषेपासून अंतर काढण्यास छेदनरेषा १' + छेदनरेषा २' + छेदनरेषा ३' + इ० इ० न रकमेपर्यंत, यांच्या बेरजेस १' कलेनें गुणलें पाहिजे, व येईल तें त्या नव्या कलेचें मरकॉटरचे नकाशावर भूमध्यरेषेपासून अंतर होईल. याप्रमाणें मध्यान्हवृत्ते वाढविलेलीं आहेत व त्यांस मध्यान्हवृत्तांचे वाढविलेले भाग (मैल) असें म्हणतात. त्यांचें कोष्टक नाविक कोष्टकांत निराळें दिलेलें असतें तें मैलांत दिलेलें असतें. मध्यान्हवृत्ताचे वाढविलेले भाग ( मैल ) काढण्याची ही रीति खरें पाहूं जातां अगदीं तंतोतंत बरोबर नाहीं. कारण पृथ्वी पूर्ण गोलाकार नाहीं. भ्रुवाकडे किंचित्

चपटी झालेली आहे, त्यामुळे मध्यान्हवृत्तावर मापलेल्या ध्रुवाकडील प्रत्येक अंशाची लांबी किंचित् अधिक होत जाते, परंतु त्यामुळे, ज्या अक्षांशापर्यंत गलबर्ते चालविणे शक्य आहे, त्या अक्षांशाच्या वाढविलेल्या भागांत ( मैलांत ) म्हणण्यासारखा फेर पडत नाही.

विशेष स्पष्टीकरणार्थ मरकॉटरचे मत उघड करून सांगूः—  
 भूमध्यरेषेवर अक्षांशाच्या एका अंशाची लांबी रेखांशांच्या एका अंशाच्या लांबीबरोबर असते, परंतु जसजसे आपण भूमध्यरेषेपासून दूरदूर जातो व ध्रुवाच्या जवळ जवळ येतो, तसतशी रेखांशवृत्ताच्या प्रत्येक अंशाची लांबी कमी कमी होत जाते, परंतु अक्षांशवृत्ताच्या प्रत्येक अंशाची लांबी ( पृथ्वी पूर्ण गोल आहे असे मानले तर ) सारखीच राहते. आतां पृथ्वीचा हा गोल आकार सरळ पातळीने दाखविण्याकरितां मरकॉटरने पृथ्वीचा आकार पंचपात्राप्रमाणे ( सिलेंडरप्रमाणे ) मानिला व त्याचा परिघ भूमध्यवृत्ताएवढाच ठेवला व सर्व अक्षांशवृत्ते भूमध्यवृत्ताएवढी केली. उत्तर व दक्षिण ध्रुव जे बिंदु आहेत ते सुद्धां भूमध्यवृत्ताएवढी वर्तुले आहेत असे मानिले. एवढेच मानून तो थांबला नाही; तर आपल्या या विचारास खरे गणिताचे प्रमाण दाखवून त्याने त्या पंचपात्राची लांबीही वाढविली; ती पृथ्वीच्या दोन ध्रुवांमधील अंसापेक्षां पुष्कळच वाढविली; व ती किती मैलांनी वाढविली त्याचे एक कोष्टक तयार केले. आतां अशी कल्पना करा की त्याने या पंचपात्राभोंवती एक कागद गुंडाळून चिकटविला व त्या पंचपात्राच्या दोन्ही टोंकांस कागद लाविला नाही, तीं तशींच खुली ठेविली. या पंचपात्राच्या मध्यभागी त्या कागदावर एक भूमध्यवृत्त काढिले व त्यांशी समांतर परंतु १' ( छेदनरेषा १' + छेदनरेषा २' + ) अशा बरोबर गणित करून

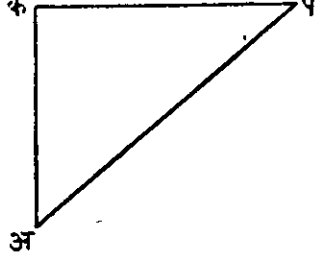
काढिलेल्या निरनिराळ्या अंतरावर, दुसरीं अक्षांशवृत्ते काढिलीं, तीं थेट दोन्ही ध्रुवांच्या जवळ जवळ जाईतोपर्यंत काढिलीं. आतां या वृत्तांशीं काटकोन करून एकमेकांपासून सारख्याच अंतरानें व समांतर अशीं रेखांशवृत्ते काढिलीं व त्या कागदावर पृथ्वीची आकृति पुरी करून एका सोयीवार रेखांशावर, ( कीं ज्यावर कापिलें असतां जमिनीचा फारसा भाग कापला जाणार नाहीं ) म्हणजे २० व्या अगर दुसऱ्या एकाद्या रेखांशावर तो कागद कापिला व पंचपात्रापासून सुटा करून एका सरळ फळीवर पसरला. हा मरकॉटरचे मताप्रमाणें पृथ्वीचा नकाशा ज्ञाला. आपण पुष्कळ ठिकाणीं पृथ्वीचा नकाशा ( दोन गोलाधीनीं न दाखवितां ) चौरस आकाराचा पाहतों तो याच मरकॉटरचे मताप्रमाणें काढिलेला असतो. आतां हें उघड आहे कीं हा नकाशा फक्त भूमध्यवृत्ताजवळ मात्र कांहींसा खरा असतो इतर सर्व ठिकाणीं तो बराच वाढत्या प्रमाणावर काढिलेला असतो व ध्रुवाकडे हें प्रमाण फारच वाढलें जातें; त्यामुळें ग्रीनलंड वगैरे प्रदेश यावर फार मोठे दिसतात. आतां तो कोणत्या प्रमाणांत वाढविलेला असतो तें वर सांगितलेंच आहे. त्या प्रमाणाचें कोष्टक मैलांत मध्यान्हवृत्ताचे वाढविलेले भाग ( मडीडिंनलपार्टस ) म्हणून नाविक कोष्टकांत दिलेलें असतें. ( व त्या वाढविलेल्या कळांचें स्केल नकाशाच्या बाजूवर दाखविलेलें असतें. त्या प्रत्येक कलेची लांबी एक मैल घरावी व अंशाची लांबी साठ मैल घरावी. ) याप्रमाणें मरकॉटरच्या मताप्रमाणें पृथ्वीचा नकाशा सरळ पातळीवर काढिलेला असतो. सरळ पातळी नौकागमनांत पृथ्वीचा थोडथोडा भाग हा सरळ पातळी आहे असें मानून गणित केलेलें असतें, परंतु तसें मानण्यानें किती चूक होते याचा विचार



त्यांत केला जात नाही. मरकॉटरचे मतानें पृथ्वीचा नकाशा एका सरळ पातळीवर काढून तो तसा काढल्यामुळे किती चूक होते, त्याची कोष्टकावर बरोबर नोंद केलेली असते, व त्यावरून खरें अंतर काढतां येतें. या नकाशांत मुख्य तत्त्व हेंच आहे कीं रेखांश-वृत्तें समांतर करण्यास निरनिराळ्या अक्षांशांवर ज्या प्रमाणानें रेखांशाच्या प्रत्येक कलेची लांबी वाढली जाते, त्याचप्रमाणानें त्या अक्षांशावरील प्रत्येक अक्षांशवृत्ताच्या कलेचीही लांबी वाढवावी लागते, तरच अक्षांश व रेखांश यांच्या लांबीमध्ये सारखें प्रमाण राहतें. प्रत्येक अक्षांशाच्या कलेची लांबी वाढविली म्हणजे मध्या-न्हवृत्ताची लांबी त्याचप्रमाणानें वाढते; म्हणून प्रत्येक अक्षांशावरील अक्षांशाच्या व रेखांशाच्या प्रत्येक कलेची लांबी सारख्याच प्रमाणांनें वाढते व त्या वाढविलेल्या प्रत्येक कलेची लांबी मैलांमध्ये एका कोष्टकांत दिलेली असते. हें कोष्टक अक्षांश व रेखांश या दोहोंच्याही प्रत्येक कलेची भूमध्यरेषेपासून निरनिराळ्या अंतरावरील ( म्हणजे निरनिराळ्या अक्षांशावरील ) वाढविलेली लांबी मैलांत दाखविते व त्यावरून खरी लांबी काढितां येते. नकाशावरही मैलांचें प्रमाण दिलें असतें म्हणजे प्रत्येक कला, ती आकारानें मोठी असली तरी, एक मैल घरितात. व प्रत्येक अंश ६० मैलांचा घरितात, व त्या कला आणि अंश हीं नकाशाच्या बाजूवर दाखविलेलीं असतात. त्या कलांची लांबी ( एकाच नकाशांत ) सर्व ठिकाणीं सारखी नसते, म्हणून ज्या अक्षांशावर आपण अंतर पहातो त्याच अक्षांशावर त्या नकाशाच्या बाजूवर ज्या कला दाखविलेल्या असतील त्यावरच अंतर मोजावें, व जितक्या कला तितके मैल, व प्रत्येक अंशाचे ६० मैल घरावे. एका इंचास ५०० मैल किंवा

६०० मैल असें सर्व ठिकाणीं सारखे लागू पडणारें स्केल या नकाशावर नसतें. त्याच्या प्रत्येक कलेची लांबी कोष्टकाप्रमाणें वाढवून काढिलेली असते व ती कला नकाशाच्याच बाजूवर दाखविलेली असते. हें मरकॉटरचें तत्त्व आपलेकडील कित्येक विद्वान् लोकांसही माहीत नसल्यामुळे विशेष स्पष्ट करून दाखविलें आहे. तें तो नकाशा समजण्यास सर्वास उपयोगी पडेल असें आहे.

आतां असें समजा कीं एक गलबत अ ठिकाणापासून तिरप्या दिशेनें प ठिकाणीं गेलें ( आकृती ३९ क पहा ) पृथ्वीच्या गोलावर हें अंतर बरोबर अप रेषेनें दाखवितां आलें असतें. व त्याचें अक्षांशांतर अक रेषेनें दाखविलें जातें व रेखांशांतर कप रेषेनें दाखविलें जातें.

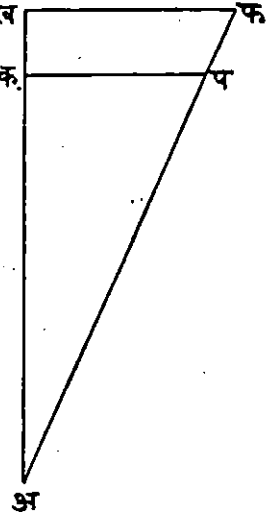


आकृति ३९.

आतां मरकॉटरचे नकाशावर ह्या अ क प त्रिकोणार्शी समकोन त्रिकोण कसा काढावा हें दाखवूं. ज्या अर्थीं मरकॉटरचे नकाशावर अक्षांश व रेखांश हे सारख्याच प्रमाणानें वाढवून दाखविलेले असतात, त्या अर्थीं अक्षांशाचे  $१८०^{\circ}$  अंश ( म्हणजे भूमध्यरेषेपासून उत्तरेस  $९०^{\circ}$  व दक्षिणेस  $९०^{\circ}$  ) व रेखांशाचे  $३६०$  अंश हे गोलावर दाखविण्यास जी जागा लागते, त्याहून पुष्कळ अधिक जागा मरकॉटरचे नकाशावर तितकेच अक्षांश व रेखांश दाखविण्यास लागते. म्हणून गोलावर अक्षांशांतर दाखविणारी रेष, ही मरकॉटरचे नकाशावर तेंच अंतर दाखविणाऱ्या रेषेपेक्षां लहान

असते. तसेंच भू-गोलावरील मध्यान्हांतर ( किंवा रेखांशगमन अ० डिपारचर ) दाखविणारी रेषा ही मरकॉटरच्या नकाशावर तेंच रेखांशांतर दाखविण्यास वाढवावी लागते. कारण, गोलावर भूमध्य-रेषेवरील रेखांशाच्या प्रत्येक अंशाची मैलांत जी लांबी असते, तिजहून ध्रुवाकडील कोणत्याही अक्षांशावरील रेखांशाच्या प्रत्येक अंशाची लांबी कमी असते; व मरकॉटरचे नकाशांत पृथ्वीवरील कोणत्याही अक्षांशावर रेखांशाच्या प्रत्येक अंशाची मैलांत लांबी सारखीच असते; म्हणजे भूमध्यवृत्तावर रेखांशाच्या प्रत्येक अंशाची जी लांबी मैलांत असते तीच ध्रुवाकडील पाहिजे त्या अक्षांशावर असते, म्हणून भूमध्यवृत्ताशिवाय दुसऱ्या कोणत्याही अक्षांशावर गोलावरील रेखांशांतर दाखविणारी रेषा, मरकॉटरचे नकाशावर तेंच रेखांशांतर दाखविण्यास वाढवावी लागते. म्हणजे गोलावरील मध्यान्हांतर ( डिपारचर ) हें मरकॉटरचे नकाशावर सर्व ठिकाणीं स्वऱ्या रेखांशांतरानें दाखविलेलें असतें. म्हणून हें उघड आहे कीं मरकॉटरचे नकाशावरील कोणत्याही तिरप्या दिशेंत असणाऱ्या दोन स्थलमधील अंतर, हें गोलावरील त्याच दोन स्थलांमधील अंतरापेक्षां अधिक भरतें, कारण पृथ्वीचा सर्व पृष्ठभाग मरकॉटरचे मताप्रमाणें सरळ पातळीवर दाखविण्यास जी जागा लागते. ती गोलाच्या पृष्ठभागापेक्षां पुष्कळ अधिक असते.

आकृति ४० मध्ये मरकॅाटरच्या नकाशावरील पृथ्वीचा कांहीं भाग दाखविला आहे असें समजा. यांत अ क ख हा मध्यान्हवृत्ताचा कंस आहे, व अ प, हें एका गलबतानें क्रमिलेले अंतर आहे, कप हें प मधून जाणारें एक समांतर अक्षांशवृत्त आहे असें समजा. तर क अ प हा गलबताचा गमनमार्गकोन होईल, अ क हें गलबताचें खरें अक्षांशांतर होईल, क प हें मध्यान्हांतर होईल. अ ख, हें अ क या खच्या अक्षांशांतराचें वाढविलेले ( मध्यान्हवृत्त-) भाग आहेत असें समजा. ख फ ही रेघ ख बिंदूपासून क प ला समांतर काढून ती अ प वाढवून तिला



आकृति ४०.

फ बिंदूमध्ये मिळवा, म्हणजे अ, ख, फ, हा त्रिकोन पुरा होईल. आतां ख फ हें जर खरें रेखांशांतर आहे, तर प फ जोडिले असतां अ प आणि प फ हीं एकाच सरळ रेषेत येतील हें सिद्ध करितां येईल. म्हणून:—

अ ख=अक्षांशांतराचे वाढविलेले मध्यान्हवृत्ताचे भाग.

अ क=खरें अक्षांशांतर.

क प=मध्यान्हांतर किंवा मध्यान्हवृत्तांतर.

ख फ=खरें रेखांशांतर.

गमनमार्ग-स्पर्शरेषा =  $\frac{\text{ख फ खरें रेखांशांतर}}{\text{अ ख अक्षांतराचे वाढविलेले मध्यान्हवृत्तभाग}}$  ( १ )

∴ खरें रेखांशांतर=अक्षांतराचे वाढविलेले मध्यान्हवृत्तभाग×गमनमार्ग-  
—स्पर्शरेषा ( २ )

यावरून गमनमार्ग निघतो, व गमनमार्ग-कोन निघाल्यावर खरें अंतर काढण्यास खऱ्या अक्षांशांतराचा उपयोग करावा.

म्हणजे, को-भुजगमनमार्ग क अ प =  $\frac{\text{अ क अक्षांशांतर.}}{\text{अ प अंतर.}}$

∴ अंतर=अक्षांशांतर×गमनमार्ग छेदनरेषा..... ( ३ ).

मरकॉटरचे नौकागमनाचे सर्व हिशोब या तीन नियमांवरून करितां येतात.

### उदाहरण.

तारीख १२ मार्च रोजी संध्याकाळी ५ वाजून ३० मिनिटांनी एक गलबत सेन्ट आन्सहेड ( उत्तरअक्षांश ५१°-४१'; व पश्चिम रेखांश ५°-९' ); येथून लांडस् एन्ड-( उत्तर अक्षांश ५०°-४' व पश्चिम रेखांश ५°-४२' ) कडे जाण्यास निघालें. तर त्या गलबतावरील कंपासचे कोणत्या दिशेनें तें गलबत चालवावें ? गलबतावरील कंपासचें चलन २३° पश्चिमेस आहे व विचलन ३° पश्चिमेकडे आहे, व निवान्याकडे जाण्याचा कोन ३ खंड ३ ( दिग्बिंदु ) एवढा आहे, वारा E.S.E. या दिशेनें वाहतो आहे तर तें ३ गलबत दर तासास १० गाठी ( मैल ) चाललें असतां, लान्डस एन्डला केव्हां पोचेल व त्यास किती अंतर जावें लागेल तें सांगा.

आतां, अक्षांशांतर मध्यान्हवृत्ताचे रेखांशांतर.  
वाढविलेले भाग.

सेंट आन्सहेड  $५१^{\circ}-४१'$  उ. अ.  $३६३४$  प. रे.  $५^{\circ}-९'$   
लान्डस् एन्ड  $५०^{\circ}-४'$  उ. अ.  $३४८१$  प. रे.  $५^{\circ}-४२'$   
खरें अक्षांशांतर  $१^{\circ}-३७'$  उ. अ.  $१५३$  भा. प. रे.  $०-३३$ .

$१^{\circ} \times ६० + ३७ = ९७$  मैल, व र =  $३३$  मैल.

गमनमार्ग काढण्यास:—

स्पर्श रेखा स्व अ म =  $\frac{\text{ख भ}}{\text{अ ख}}$

स्पर्शरेषागमनमार्ग =  $\frac{\text{खरें रेखांशांतर.}}{\text{वाढविलेले अक्षांशांतर.}}$

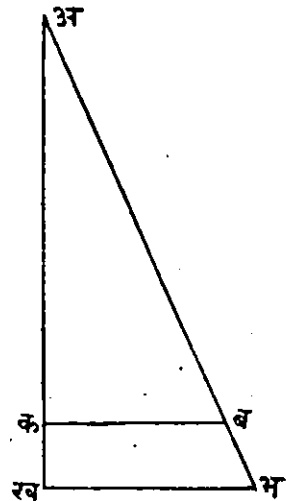
— घातांक  $३३$  खरें रेखांशांतर }  
(  $+१०$  ) =  $११-५१८५१४$  }

घातांक  $१५३$  }  
वाढविलेले अक्षांशांतर =  $२-१८४६९१$  }

( वाढा )  $९-३३३८२३$

घातांक स्पर्श रेखा (  $१२^{\circ}-१०३'$  )

अंतर काढण्यास:—



आकृति ४१.

को-भुजज्या क अ ब =  $\frac{\text{अ क}}{\text{अ ब}} = \frac{\text{खरें अक्षांशांतर.}}{\text{अंतर.}}$

∴ अंतर = खरें अक्षांशांतर × गमनमार्ग छेदनरेषा.

घातांक ९७ अक्षांशांतर खरे ————— १-९८६७७२

घातांक छेदनरेषा ( १२°-१०३' ) गमनमार्ग १०-००९८८०

घातांक ९९-२३ मैल अंतर. ११-९९६६५२

होक्यावरील गमनमार्ग काढण्यास:—

खरा गमनमार्ग .... १२°-१०'-३०" द०उजवेकडे.

होक्याची एकंदर चूक (२३+३)२६°- ०- ० द०उजवेकडे.

३८°-१०-३०" द० उ०

निवाऱ्याकडील कोन ११°-१५' २-४८'-४५" द० डावीकडे.

४ ३५°-२१'-४५" द. उ. पश्चिम.

∴ होक्यावरील गमनमार्ग दक्षिणेकडून ३५°-२१'-४५" पश्चिमेस.

पोंचण्याची वेळ काढण्यास:—

$$\frac{९९-२३}{१०} = \frac{\text{अंतर}}{\text{वेग}} = ९-९२३ \text{ तास.}$$

$$= ९ \text{ तास } ५५ \text{ मिनिटें } २३ \text{ सेकंद.}$$

क. भि. से.

निघण्याची वेळ तारीख १२ मार्च ५-२०-० संध्याकाळ.

जाण्यास लागलेली वेळ ९-५५-२३ से.

पोंचण्याची वेळ १२ मार्च, १५क.--१५मि.--२३ से.

म्हणजे ता० १३ मार्च, ३--१५--२३ सकाळीं

किंवा पहाटेस.

आतां हें उदाहरण कसें केलें तें सांगूं:—

१ ज्या ठिकाणाहून गलबत निघालें व ज्या ठिकाणी पोहोंचलें त्या दोन्ही ठिकाणांचे अक्षांश एकाखाली एक लिहावे व त्यांचें

अक्षांशांतर काढावे; तसेच त्या दोहों ठिकाणाचे रेखांश एकाखाली एक लिहून त्यांचे रेखांशांतर काढावे; व त्याचप्रमाणे त्या दोन्ही ठिकाणांच्या अक्षांशांचे समोर त्यांचे मध्यान्हवृत्तांचे वाढविलेले भाग ( मरीडिओनलपार्टस् ) कोष्टकांतून पाहून लिहावे व त्यांचेही अंतर काढावे.

( अ ) अक्षांशांतर काढतांना दोन्ही अक्षांश सजातीय म्हणजे उत्तर, उत्तर, किंवा दक्षिण, दक्षिण, असले तर त्यांची वजाबाकी करावी; परंतु ते विजातीय असले तर, म्हणजे एक उत्तर अक्षांश व एक दक्षिण अक्षांश असे असले तर, त्यांची बेरीज करावी म्हणजे येईल ते अक्षांशांतर होईल.

(आ) खरे अक्षांशांतर जर खरे अक्षांश मिळवून काढिले असेल तर त्यांच्या वाढविलेल्या भागांचीही बेरीज घेऊन त्यांचे अक्षांशांतर काढावे व जर खरे अक्षांशांची वजाबाकी करावी लागली तर त्यांचे वाढविलेल्या भागांचीही वजाबाकी करावी.

२ गमनमार्ग काढण्यास:—पहिले समीकरण.

गमनमार्गस्पर्शरेषा =  $\frac{\text{रेखांशांतर}}{\text{अक्षांशांतराचे वाढविलेले मध्यान्हवृत्ताचे भाग.}} (१)$

याचा उपयोग लागर्थमाचे रीतीने करावा; म्हणजे रेखांशांतराच्या घातांकांतून १० मिळवून, त्यांतून वाढविलेल्या मध्यान्हवृत्ताचे भागांचा घातांक वजा करावा, बाकी राहिल तो गमनमार्गकोनाच्या स्पर्शरेषेचा घातांक होय; त्यावरून कोष्टकांतून गमनमार्ग कोन काढावा.

३ अंतर काढण्यास समीकरण (३) चा उपयोग करावा. म्हणजे अंतर = खरे अक्षांशांतर  $\times$  गमनमार्ग छेदनरेषा (३)



याचा लागर्थमाचें रीतीनें उपयोग करावा म्हणजे खऱ्या अक्षां-  
शांतराच्या घातांकास गमनमार्ग छेदनरेषेचा घातांक मिळवावा व  
वेरजेतून १० वजा करून येईल तो अंतराचा घातांक होय.  
त्यावरून कोष्टकांतून अंतर काढावें.

४ नंतर खऱ्या गमनमार्गास चलन व विचलन मिळून झालेली  
होक्याची चूक विचारपूर्वक मिळवून अगर वजा करून होक्यावरील  
गमनमार्ग काढावा व निवाऱ्याकडील कोन ( लीवे ) वाऱ्याकडे  
( पवनसन्मुख ) धरून विचारपूर्वक मिळवावा किंवा वजा करावा.

मरकॉटरचा नकाशा—मरकॉटरचे मताप्रमाणें पृथ्वीचा अगर  
पृथ्वीच्या कोणत्याही भागाचा नकाशा कसा काढितात तें सांगूं व  
नंतर त्याचे उपयोग सांगूं म्हणजे इतर नकाशे न वापरतां खलाशी  
लोक मरकॉटरचेच नकाशे कां वापरतात हें कळेल.

हा नकाशा काढण्याची उत्तम रीति म्हटली म्हणजे अशी  
आहे कीं, एका कागदाचे मध्यभागी एक आडवी रेषा अ म घ ही  
काढावी. हें भूमध्यवृत्त झालें. नंतर सारख्या अंतरावर कित्येक उभ्या  
समांतर सरळ रेषा भूमध्य रेषेचीं काटकोन करून काढाव्या. जशा  
अ अ, ब ब, क क, ड ड, ई ई इत्यादि. हीं मध्यान्हवृत्तें समजावीं.  
तीं सर्व समांतर आहेत व एकमेकांपासून सारख्या अंतरावर आहेत.  
हीं जीं मध्यान्हवृत्तें काढिलीं तीं १०° अंशांचे अंतरावर आहेत  
असें समजा, म्हणजे तीं भूमध्यरेषेवर एकमेकांपासून ६०० मैलांचे  
अंतरावर आहेत असें समजा. ( तीं विद्यार्थ्यांनै पाहिजे त्या सारख्या  
अंतरावर काढावीत ) म्हणजे

०° पासून १०° पर्यंत अंतर ६०० मैल.

१०° पासून २०° पर्यंत अंतर ६०० मैल.

२०° — ३०° — ६०० मैल.

३०° — ४०° — अंतर ६०० मैल.

इ०

इ०

इ०

सर्व ठिकाणी रेखांशवृत्तांमध्ये सारखेंच अंतर ठेवावें. नंतर वाढविलेल्या भागाचें कोष्टक पाहवें. आपण मध्यान्हवृत्तें जर १०, १० अंशांचे अंतरावर काढिली आहेत तर अक्षांशवृत्तेही १०, १० अंशांचे अंतरावर काढावी, व त्यांचे वाढविलेले मध्यान्हवृत्तावराल अंतर कोष्टकावरून काढावें.

जसे १०° अंश = ६०३ मैल किंवा भाग.

२०° अंश = १२२५ मैल. १२२५ - ६०३ = ६२२.

३०° अंश = १८८८ मैल. १८८८ - १२२५ = ६६३.

४०° = २६२३ मैल, २६२३ - १८८८ = ७३५.

इ.

इ.

इ.

असे पाहिजे तितकें म्हणजे ९० अंशांपर्यंत अंतर काढावें.

नंतर ज्या स्केलानें भूमध्य रेषेवर ०° पासून १०° पर्यंत ६०० मैल घेतले त्याच स्केलावर कंपासानें ६०३ मैल घ्यावे व त्यानें तितक्या ६०३ मैल अंतरावर भ च्या उत्तरेस एक ( ज ), व दक्षिणेस एक, ( य ) असे दोन बिंदू करावे; तसेंच त्याच अंतरावर ( घ ) पासून उत्तरेस एक ( स ) व दक्षिणेस ( र ) असे बिंदू करावे, नंतर स ज व य र ह्या रेषा काढाव्या. हीं दोन अक्षांशवृत्ते शाली-एक विषुववृत्ताचे उत्तरेस १०° व दुसरे दक्षिणेस १० अंश,

आतां दुसरी दोन अक्षांशवृत्ते काढण्यास भूमध्य रेषेपासून १२२५  
 मैल वरील स्केलानें घेऊन ( भ ) पासून उत्तरेस १२२५  
 मैलांवर एक ( आ ), व दक्षिणेस तितक्याच अंतरावर एक ( उ ),  
 असे दोन बिंदु करावे. तसेंच ( ध ) पासूनही तितक्याच अंत-  
 रावर उत्तरेस एक ( ल ) व दक्षिणेस एक ( ओ ) असे दोन  
 बिंदु करावे व आ ल आणि उ ओ अशा दोन रेखा काढाव्या.  
 ती भूमध्यरेषेपासून उत्तरेस २०° अंशांवर एक व दक्षिणेस २०°  
 अंशांवर एक अर्शी दुसरी दोन अक्षांशवृत्ते होतील. आतां भूमध्य-  
 रेषेपासून १२२५ भाग घेतले किंवा ज्ञस आणि यर या रेखां-  
 पासून ६२२ भाग घेतले तरी सारखेंच आहे. कारण ज्ञस व यर  
 या रेखा भूमध्यवृत्तापासून ६०३ अंतरावर आहेत. व  $६०३ + ६२२$   
 $= १२२५$ . तिसरी अक्षांशवृत्ताची जोडी जी ३०° वर काढावयाची  
 ती भूमध्यरेषेपासून १८८८ मैल अंतरावर ( वरील स्केलानें )  
 अथवा आ ल पासून उत्तरेस ६३३ मैल अंतरावर व उ ओ पासून  
 दक्षिणेस ६३३ मैल अंतरावर काढिली पाहिजे. यावरून अक्षांश-  
 वृत्तांमधील अंतर क्रमाक्रमानें कसे वाढतें तें लक्ष्यांत येईल. ह्या  
 नकाशाच्या दोन्ही बाजूंच्या मध्यान्हवृत्तावर मैल व अक्षांश दाख-  
 विण्याकरितां फार काळजीनें भाग पाडिलेले असतात. नकाशाच्या वरील  
 बाजूचे समांतर अक्षांशवृत्त व खालील समांतर अक्षांशवृत्त यांच्या  
 वर रेखांश मोजण्याकरितां सारखे भाग पाडिलेले असतात. मोठ्या  
 नकाशावर मध्येही भाग पाडिलेले एक मध्यान्हवृत्त असतें. विद्या-  
 र्थ्यानें हे नकाशे काढण्याचा चांगला अभ्यास करावा, म्हणजे ते  
 सहज काढतां येतील.

मध्यान्हवृत्ताच्या वाढविलेल्या भागाचें कोष्टक ( मैलांत ).

अक्षां.	मैल.	अक्षां.	मैल.	अक्षां.	मैल.	अक्षांश.	मैल.
१°	६०२	२३°	१४१९	४५°	३०३०	६८°	५६३१
२°	१२०	२४°	१४८४	४६°	३११६	६९°	५७९५
३°	१८०	२५°	१५५०	४७°	३२०३	७०°	५९६६
४°	२४०	२६°	१६१६	४८°	३२९२	७१°	६१४६
५°	३००	२७°	१६८४	४९°	३३८२	७२°	६३३५
६°	३६१	२८°	१७५१	५०°	३४७४	७३°	६५३४
७°	४२१	२९°	१८१९	५१°	३५६९	७४°	६७४६
८°	४८२	३०°	१८८८	५२°	३६६५	७५°	६९७०
९°	५४२	३१°	१९५८	५३°	३७६४	७६°	७२१०
१०°	६०३	३२°	२०२८	५४°	३८६५	७७°	७४६७
११°	६६४	३३°	२१००	५५°	३९६८	७८°	७७४५
१२°	७२५	३४°	२१७१	५६°	४०७४	७९°	८०४६
१३°	७८७	३५°	२२४४	५७°	४१८३	८०°	८३७५
१४°	८४९	३६°	२३१८	५८°	४२९४	८१°	८७३९
१५°	९१०	३७°	२३९३	५९°	४४०९	८२°	९१४५
१६°	९७३	३८°	२४६८	६०°	४५२७	८३°	९६०६
१७°	१०३५	३९°	२५४५	६१°	४६४९	८४°	१०१३७
१८°	१०९८	४०°	२६२३	६२°	४७७५	८५°	१०७६५
१९°	११६१	४१°	२७०२	६३°	४९०५	८६°	११५३३
२०°	१२२५	४२°	२७८२	६४°	५०३९	८७°	१२५२२
२१°	१२८९	४३°	२८६३	६५°	५१७९	८८°	१३९१६
२२°	१३५४	४४°	२९४६	६६°	५३२४	८९°	१६३००
			६७°	५४७४	८९°-५९'		३०३७२

नाविक कोष्टकांत प्रत्येक कलेची वाढविलेली लांबी मैलांत दिलेली असते. परंतु येथे नवीन विद्यार्थ्यांकरितां फक्त अंशांचीच वाढविलेली भूमध्यवृत्तापासून लांबी मैलांत दिली आहे. त्यावरून निरनिराळ्या अक्षांशांवर ध्रुवाकडे प्रत्येक अंशाची लांबी कशी वाढत जाते ते लक्षांत येईल. व तिचा नकाशे काढण्यासही उपयोग पडेल.

मरकॉटरचे नकाशाचा एक मोठा उपयोग आहे तो हा की, त्या नकाशावरील कोणत्याही एका स्थलापासून दुसऱ्या स्थलापर्यंत रेषा काढिली असता ती कोणत्याही मध्यान्हवृत्ताशी जो कोन करील तोच त्या पहिल्या ठिकाणाहून दुसऱ्या ठिकाणी जाणाऱ्या गलबताचा गमनमार्ग होय.


पृथ्वीच्या पृष्ठभागावरील एक शहर ( ख ) या अक्षराने व दुसरे शहर ( न ) या अक्षराने मरकॉटरचे नकाशावर दाखविले आहे असे समजा. ख न ही एक सरळ रेषा काढून ती दोन स्थळे जोडा. म्हणजे ख स्थळापासून न स्थळाकडे जाण्याचा अ, अ हा गमनमार्ग—कोन झाला. ( आकृति ४३ पहा ) व ( व ) ( घ ) हा नपासून खकडे जाण्याचा गमनमार्ग आहे व ते दोन्ही एकसारखेच आहेत.

गलबताचे मालमाजवळ बहुतकरून एक मोठा समांतर रूलर असतो. तो त्या दोन्ही स्थलांवर ठेवावा. व नंतर त्या नकाशावर जी एकदोन दिशाचक्रे काढिलेली असतात त्यांपैकी जवळच्या दिशा चक्राच्या मध्यावर तो रूलर तसाच समांतर रेषेत सरकवीत न्यावा; म्हणजे त्या दिशाचक्रावरून गमनमार्ग समजतो. कारण समांतर रूलरची कोर ती दिशा दाखविते.

कॉप्टनफील्डने एक सुधारलेला समांतर रूलर केला आहे. त्याचे दोन पट्यांच्या मध्यमार्गी बरोबर मध्य धरून त्याच्या चारी बाजूंवर दिशा दाखविणाऱ्या रेषा काढिलेल्या असतात. म्हणजे ते दोन प्रोट्रॉक्टरच दोन समांतर पितळेच्या पट्ट्यांनी एकमेकांशी जोडलेले असतात, असे की ते एकमेकांस लाविले असता त्यांचे मध्य एकाच ठिकाणी बरोबर मध्यावर येतात. या रूलरची एक कोर नकाशावरील पाहिजे त्या दोन स्थलांवर ठेवावी व नंतर तो रूलर तसाच समांतर रेषेत जवळच्या एकाद्या मध्यान्हवृत्तावर त्याचा मध्य येई तोपर्यंत सरकवावा म्हणजे त्याची कोर ( बाजू ) मध्यान्हवृत्ताशी जो कोन करिते तो एकदम दिसून येतो. तो रूलर नकाशावरील दिशाचक्रापर्यंत सरकवीत न्यावा लागत नाही व त्यामुळे सरकवितांना रूलर हलून चुकी होण्याचा संभव नसतो.

मरकॉटरचे नकाशे वापरण्यांत दुसरा एक फायदा आहे, तो असा की, कोणत्याही दोन स्थळांमधील अंतर त्यावरून कपासाने एकदम काढितां येते. ख, आणि न, या दोन ठिकाणांमधील अंतर पाहिजे आहे; आणि ग ग हे त्या दोन ठिकाणांमधील मध्य अक्षांश आहे असे समजा. तर ग मधून अक्षांशवृत्ताशी समांतर ग ग रेषा नकाशाच्या बाजूपर्यंत काढा. व ती ज्या ग बिंदूत त्या बाजूवरील विभागलेल्या मध्यान्हवृत्ताशी मिळेल त्या बिंदूचे उत्तरेस ख न चे अर्धे अंतर मापा व अर्धे दक्षिणेस मापा व दोन्हीकडे एक एक बिंदु करा त्या दोन बिंदूमधील अंतर खन बरोबर होईल; व या दोन बिंदूंमध्ये जे अंश व ज्या कला असतील त्याचे मैल करा ( एका अंशाचे मैल ६० व प्रत्येक कलेचा मैल एक ) म्हणजे जे मैल येतील ते त्या दोन ठिकाणांमधील अंतर होय.

याचप्रमाणें कोणत्याही ठिकाणचे अक्षांश काढावयाचे असल्यास त्याच्या जवळील अक्षांशवृत्तापासून त्या ठिकाणाचें अंतर मापावें व तें नकाशाच्या बाजूवरील विभागलेल्या मध्यान्हवृत्तावर त्याच अक्षांशवृत्तापासून किती अंश व कला भरतें तें पहावें व त्यावरून त्या ठिकाणाचे अक्षांश काढावे. रेखांश काढावयाचे असतील तर त्या ठिकाणाचे अगदीं जवळ जें मध्यान्हवृत्त असेल त्यापासून त्या स्थळांचें अंतर मापावें व तें नकाशाच्या वरील अथवा खालील विभागलेल्या अक्षांशवृत्तावर ठेवून किती अंश व कला भरते ते पहावें व त्यावरून त्या ठिकाणचे रेखांश काढावे.



# भाग १२ वा.

## बृहद्वर्तुल नौकागमन अथवा बृहद्वर्तुल- मार्ग नौकागमन.

हा विषय फार गहन आहे व त्याला गोलतिकोन-मितीचें ज्ञान लागतें. परंतु या रीतीनें गणित करून गलबतें मोठें वर्तुल अथवा बृहद्वर्तुल मार्गांनै कां चालवावीं लागतात, हें थोडक्यांत सांगूं. मोठें वर्तुल म्हणजे जें गोलाचे दोन समान भाग करितें व ज्याची पातळी गोलाच्या मध्यबिंदूतून जाते तें होय, हें मार्गें सांगितलें आहे.

पृथ्वीच्या पृष्ठभागावरील दोन स्थलांमधील अगदीं कर्मीतकर्मी अंतर म्हणजे त्या दोन स्थलांमधून जाणाऱ्या मोठ्या वर्तुलाचा त्यांच्यामधील लहान कंस हें होय. हें साधारण आकृति काढून सिद्ध करून दाखवितां येईल.

पृथ्वीच्या कृत्रिम गोलावरील दोन स्थलांमधील मोठें वर्तुल दाखविणें सोपें आहे व तो गोल, तीं दोन्ही स्थलें लांकडी क्षितिजावर येतील अशा रीतीनें, फिरवून त्यांच्यामधील अंतर काढतां येईल. या स्थितीत गोल असतांना बृहद्वर्तुल गमनमार्ग कसा जातो हें पाहतां येतें. त्यावरून असें आढळेल कीं मोठें वर्तुल हें सर्व मध्यान्हवृत्तांशीं सारखा कोन करित नाही तर प्रत्येक मध्यान्हवृत्तांशीं निरनिराळा कोन करितें. त्यामुळें बृहद्वर्तुल नौकागमनांत



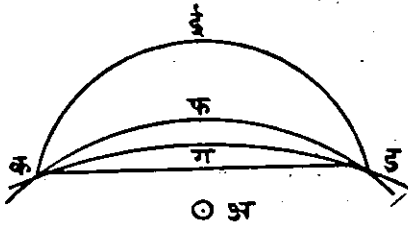
गमनमार्ग वरचेवर बदलावा लागतो. आतां मरकॉटरचे रीतीनें जो गमनमार्ग निघतो तो सर्व मध्यान्हवृत्तांशीं सारखाच कोन करितो म्हणून तो सर्वांत जवळचा गमनमार्ग नव्हे, हें उघड होतें. निर-  
निराळ्या गमनमार्ग रीति देण्याचा मुख्य उद्देश हा आहे कीं, गलबत एके ठिकाणाहून दुसऱ्या ठिकाणीं थोड्या वेळांत सुरक्षित रीतीनें नेतां यावें. मरकॉटरचे रीतीनें गलबत सुरक्षितपणें खातीनें पाहिजे त्या ठिकाणीं नेतां येईल हें खरें, परंतु त्या रीतीनें सदोदित अगदीं जवळचाच मार्ग निघेल अशी खात्री नाही. तथापि भूमध्यवृत्तावर गलबत बरोबर पूर्वपश्चिम चालविलें असतां किंवा मध्यान्हवृत्तावर बरोबर दक्षिणोत्तर चालविलें असतां त्याचा गमनमार्ग पृथ्वीच्या मोठ्या वर्तुळावर असतो, कारण सर्व मध्यान्हवृत्तें व भूमध्यवृत्त हीं पृथ्वीचीं मोठीं वर्तुळें आहेत. व त्यावर जात असतां गलबताचा गमनमार्ग फिरवावा लागत नाही म्हणून मरकॉटरच्या रीतीनें केलेलें गणित व गमनमार्ग या वेळीं बरोबर व फायदेशीर असतात. इतर सर्व अक्षांशवृत्तांवर व तिरप्या दिशेनें लांबीच्या पल्ल्यावर सफर करावयाची असतां जवळचा गमनमार्ग काढण्यास मोठे वर्तुळ नौका-गमनाचे रीतीचा उपयोग केला पाहिजे. मरकॉटरची रीति सदोदित उपयोगी व फायदेशीर पडावयाची नाही हें उघड आहे. गलबत जरी कोणत्याही एका मोठे वर्तुळावरून फार वेळ एकाच दिशेनें सारखें चालवितां येणार नाही तरी त्याची दिशा बरचेवर बदलवून तें बरचेवर मार्गाजवळ जवळ आणतां येईल व होईल तितकें त्याचे जवळ राखितां येईल.

पृथ्वीच्या पृष्ठभागावरील कोणत्याही दोन स्थलांमधील सर्वांत जवळचा रस्ता म्हणजे एका मोठे वर्तुळाचा, त्या दोन स्थलांमधील

लहान कंस हा होय. हें गणितशास्त्रानें सिद्ध करून दाखवितां येईल. कारण एका सरळ पातळीवरील दोन स्थळांमधील कर्मांत कमी अंतर म्हणजे त्या दोन स्थलांस जोडणारी एक सरळ रेषा होय. तसेंच भरीव गोलावरील दोन स्थळांमधील अंतर हें त्या दोन स्थलांस जोडणारी ज्या होय. त्या मार्गानें मुळींच जातां येत नाही. परंतु त्या ज्येच्या बरोबरीची, किंवा जवळ जवळ तिच्याएवढी, गोलावरील रेषा म्हटली म्हणजे, सर्वांत मोठ्या त्रिज्येनें, काढिलेल्या वर्तुळाचा, त्या दोन स्थळांमधून जाणारा लहान कंस ही होय. या कंसाला वांक अगदीं कमी असतो. असा कंस म्हणजे अर्थात् त्या गोलाच्या मोठ्या वर्तुलाचा लहान कंस हा होय. आतां पृथ्वीच्या कृत्रिम गोलावरील तीं दोन स्थळें लांकडी क्षितिजावर आणून त्यांच्यामध्ये बारीक रेशमाचा धागा ताणून त्यांच्यामधील कर्मांत कमी अंतर जें असतें तें त्या गोलाच्या मोठ्या वर्तुलाचा लहान कंस होय. हें सहज दाखवितां येतें. कारण तो गोल फिरवून निरनिराळ्या रीतीनें तो धागा त्या दोन स्थळांमध्ये ठेवून त्यांच्यामधील अंतर मापिलें असतां लांकडी क्षितिजावर मापिलेलें, त्या दोन स्थळांमधील जें अंतर, तें इतर सर्व रीतींनीं मापिलेल्या अंतरापेक्षां कमी असतें, असें आपल्या लक्षांत येईल.

बाजूच्या आकृतीवरूनही लक्षांत येईल कीं, जसजशी वर्तुलाची त्रिज्या मोठी ध्यावी तसातसा क आणि ड बिंदूंमधील कंस लहान लहान होतो व क ड या ज्येच्याजवळ जवळ येतो. परंतु गोलावरील सर्वांत मोठें वर्तुल म्हणजे त्याचे पृष्ठभागावर काढिलेलें मोठें वर्तुल होय. म्हणून गोलावरील दोन स्थळांमधील कर्मांत कमी अंतर म्हणजे त्या दोन स्थळांमधील मोठ्या वर्तुलाचा लहान कंस हें

होय. क आणि ड या बिंदूंमधून जाणाऱ्या क ई ड कंसाचा अ हा



मध्यबिंदु आहे असे समजा, व ब हा, क फ ड या गोलाच्या मोठ्या वर्तुलाच्या कंसाचा मध्यबिंदु आहे असे समजा. तर आकृतीवरून हे उघड आहे की, क फ ड हा जो मोठ्या वर्तुलाचा कंस आहे तो क आणि ड यांच्यामधील सर्वात कमी अंतर आहे. व जसजशी तिज्या लांब घ्यावी तसतसा क ड कंस जवळ जवळ एक सरळ रेषा क ड एवढा होतो व सरळ रेषा हे दोन स्थलां-

आकृति ४४

मधील कमीत कमी अंतर होय. परंतु गोलाच्या मोठ्या वर्तुलापेक्षा अधिक मोठे वर्तुल किंवा वर्तुल कंस गोलाच्या पृष्ठभागावर काढितां येत नाहीं. म्हणून मोठ्या वर्तुलाचा लहान कंस हेच गोलावरील दोन स्थलांमधील कमीत कमी अंतर होय व ते काढण्याकरितां बृहद्वर्तुल नौकागमन शिकले पाहिजे. हल्ली त्याचा फार उपयोग करितात, म्हणून प्रौढ विद्यार्थ्यांनी ते इतर पुस्तकावरून शिकावे.

# भाग १३ वा.

## प्रवाह नौकागमन.

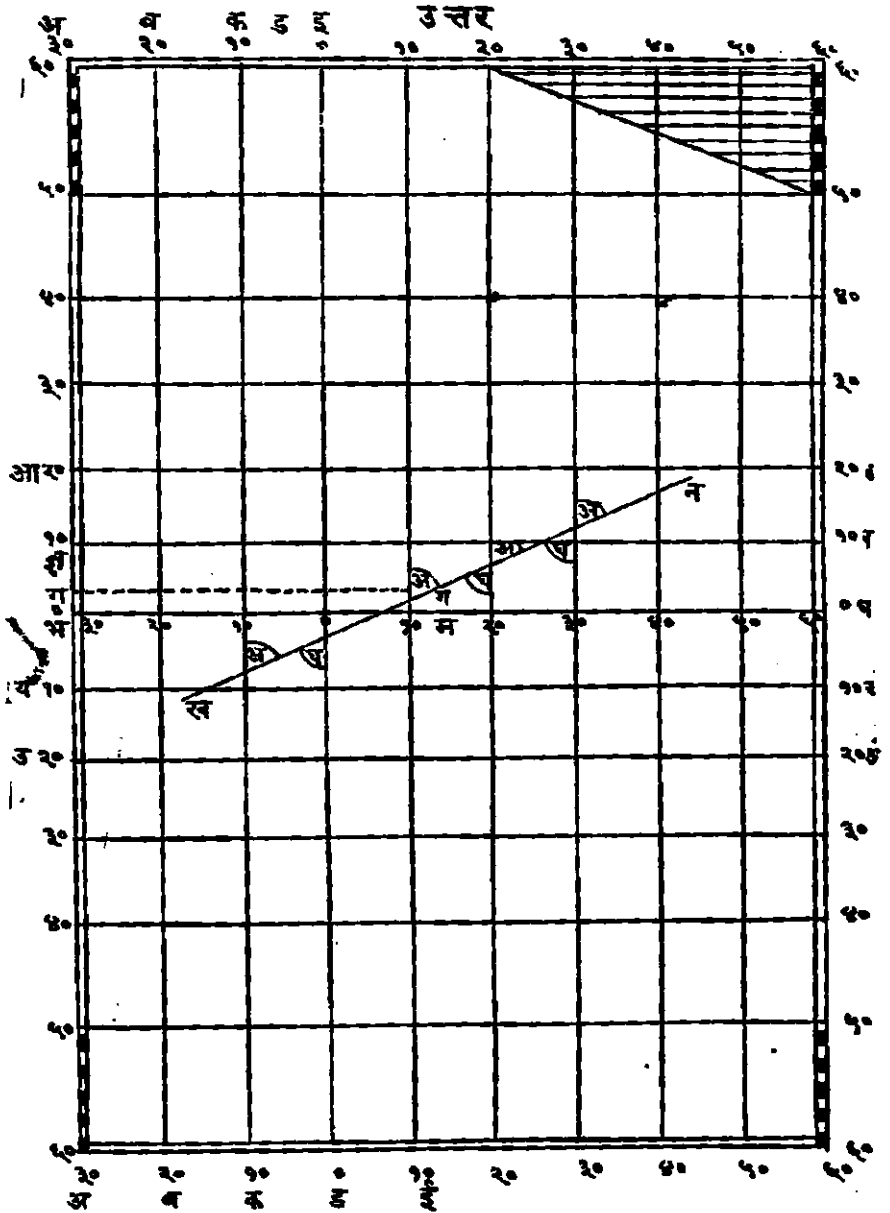
कोणत्याही नियमित दिशेने वाहणाऱ्या पाण्याच्या भागास प्रवाह म्हणावे.

ज्या दिशेने प्रवाह जातो त्या दिशेस प्रवाहदिशा किंवा सेंट ( Set ) असे म्हणतात.

अमुक एक वेळेमध्ये प्रवाह जितका जातो त्यास प्रवाहवेग अथवा ड्रिफ्ट ( Drift ) असे म्हणतात.

स्वतःच्या अगर वाऱ्याच्या जोरावर चालणारे एकादें गलबत, प्रवाहांत सांपडले असतां, प्रवाहाच्या व त्याच्या जाण्याच्या दिशे-प्रमाणें, तें प्रवाहाबरोबर जाईल, प्रवाहाच्या उलट दिशेने जाईल, किंवा प्रवाहाशी कांहीं कोनकरून आडवें अगर तिरपें जाईल. जेव्हां तें प्रवाहाच्या दिशेने प्रवाहाबरोबर जातें, तेव्हां पृथ्वीच्या पृष्ठ-भागावरील म्हणजे समुद्राच्या तळावरील त्याची गति प्रवाहाच्या पूर्ण गतीने वाढते हें उघड आहे. व त्याचा स्वरा वेग म्हणजे त्याचे स्वतःचा वेग व पाण्याच्या प्रवाहाचा वेग यांच्या बेरजेबरोबर असतो. जेव्हां तें प्रवाहाच्या अगदीं उलट दिशेने जातें तेव्हां त्याचा स्वरा वेग हा त्याचे स्वतःचे वेगांत प्रवाहाचा वेग वजा करून बाकी राहिल तो होय.

# आकृति ४३वी



जेव्हां तें प्रवाहाच्या दिशेशीं कांहीं कोन करून त्याशीं तिरप्या किंवा आडव्या दिशेनें जातें तेव्हां, प्रवाहाच्या व गलबताच्या जाण्याच्या दिशांमध्ये जो लघु अथवा विशाल कोन होतो त्या-प्रमाणानें गलबताचा खरा वेग प्रवाहामुळें अधिक अगर कमी होतो. याप्रमाणें एका दिशेंत नाहींत अशा दोन निरनिराळ्या गर्तींची प्रेरणा त्या गलबतावर एकदम झाली म्हणजे तें, ज्याची एक बाजू गलबताचा वेग व दिशा दाखविते, व दुसरी बाजू प्रवाहाचा वेग व दिशा दाखविते, अशा समांतर भुज-चौकोनाच्या कर्णा-वरून जातें.

प्रवाहाचा वेग व त्याची दिशा काढण्याची सोपी रीति पुढें दिल्याप्रमाणें आहे:—एका लहान होडींत बसून ती होडी गलबतापासून कांहीं दूर वल्हवीत न्यावी, व एक लहान नांगर अथवा जड वजन पाण्यांत सोडून ती स्थिर करावी. नंतर वेग मापण्याची फळी ( पाटली ) पाण्याच्या प्रवाहांत सोडावी व ज्या वेगानें तिची दोरी ताणली जाईल तो प्रवाहाचा वेग समजावा; व त्या पाटलीची दिशा लहानशा कंपासानें पहावी ती त्या प्रवाहाची दिशा होय. परंतु ही रीति अगदीं बरोबरच आहे असें समजूं नये; कारण बोटीवरून पाण्यांत सोडलेलें वजन कदाचित् खालीं दुसऱ्या प्रवाहांत सांपडल्यामुळें होडी स्थिर रहाणार नाहीं.

प्रवाह-नौकागमन हीही प्रवाहांत सांपडलेल्या गलबताचा खरा गमनमार्ग व अंतर काढण्याची एक रीति आहे. अफाट समुद्रामध्ये जेथून जमीन मुळींच दिसत नाहीं तेथें प्रवाहनौकागमनाचे नियम मुळींच उपयोगीं पडत नाहींत म्हटलें तरी चालेल. तरी पण प्रत्येक दिवसाचे शेवटीं प्रवाहाचे वेगाचा व दिशेचा अदमास काढण्या-

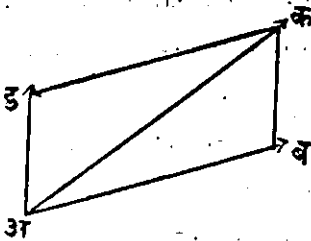
करितां या रीतीचा उपयोग करितात. परंतु किनाऱ्याच्या जवळून जातांना, जमिनीजवळ येतांना वेटांजवळून, किंवा खडक, वाळूचे ढीग वगैरे खराब्याजवळून जातांना, तसेंच भरती, ओहोटी असणाऱ्या समुद्रांत व नद्यांत व ज्या ठिकाणी प्रवाहाच्या वेगाची व दिशेची माहिती आहे अशा ठिकाणी प्रवाहनौकागमन रीति पुष्कळ प्रकारांनी उपयोगी पडते.

प्रवाहनौकागमनाच्या दोन सोप्या रीति आहेत:—एक नकाशावर आकृति काढून गलबताचा गमनमार्ग व अंतर काढण्याची, व दुसरी ट्रान्झर्स कोष्टकांतून गणित करून अंतर व गमनमार्ग काढण्याची.

( १ ) पहिली रीति, आकृतीवरून गमनमार्ग व अंतर काढण्याची:—

माणें सांगितलेंच आहे, कीं जेव्हां गलबताचा गमनमार्ग व प्रवाहाची दिशाहीं एकाच सरळ रेषेत असतात तेव्हां प्रवाहामुळे गमनमार्गाची दिशा बदलत नाही. अंतर मात्र प्रवाह अनुकूल अथवा प्रतिकूल असेल त्याप्रमाणें गलबताचा वेग व प्रवाहाचा वेग यांच्या बेरजेबरोबर अथवा वजाबाकीबरोबर येईल. परंतु जेव्हां गलबताची गमनदिशा व प्रवाहाची दिशा यांच्यामध्ये कांहीं कोन होतो, त्या वेळीं गलबताचा खरा गमनमार्ग हा, ज्याची एक बाजू कांहीं ठराविक वेळामधील गलबताचा वेग व दिशा यांनीं दाखविली जाते, व दुसरी बाजू त्याच वेळामधील प्रवाहाचा वेग व दिशा यांनीं दाखविली जाते, अशा समांतर भुज-चौकोनाचा कर्ण होईल. एक सोपें उदाहरण घेऊन हें स्पष्ट करून दाखवूं. अशा ठिकाणीं एक गलबत आलें असतां तें उत्तरेकडे जाणाऱ्या प्रवाहांत सांपडलें

असें समजा. अ ब रेषा त्याचा गमनमार्ग व एक तासांतील गलब-  
ताचा वेग दाखविते; व अ ड रेषा ही प्रवाहाची दिशा व एकच  
तासांमधील त्याचा वेग दाखविते असें समजा. आतां हें उघड



आकृति ४५.

आहे की, गलबत एक तासांत अ  
पासून ब पर्यंत जात असतां प्रवाह  
त्याला अ ड अथवा ब क या दि-  
शेनें नेतो, व एक तासाचे शेवटीं तें  
गलबत अ क कर्णावरून जाऊन क  
ठिकाणीं पोहोंचते. यावरून यंत्रशा-

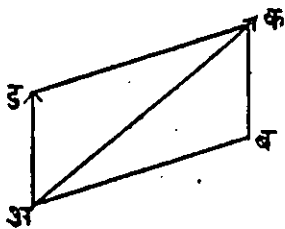
स्त्रांतील गतिविषयक असा एक व्यापक नियम निघाला आहे कीं,  
कोणत्याही एका पदार्थावर एकाच वेळीं दोन निरनिराळ्या गति  
दोन निरनिराळ्या दिशांनीं लागू पडल्या असतां, तो पदार्थ, त्या  
गतींची दिशा व वेग दाखविण्याच्या दोन रेषा, ज्या समांतर भुज-  
चौकोनाच्या दोन बाजू होतील, त्यांच्या कर्णावरून जातो हा  
नियम एका सरळ रेषेत नसणाऱ्या दोन गति एका पदार्थावर  
एकदम चालू झाल्या असतां सर्व ठिकाणीं लागू पडतो.

आतां वरील आकृतीत अ हें गलबताचें ठिकाण आहे, व तें  
प्रवाहांत सांपडलें असतां अ क या दिशेनें जावें म्हणून आपणांस  
अ ब या दिशेवर गलबत चालविलें पाहिजे; म्हणजे, अ ब दिशेवर  
गलबताची नाळ लाविली असतां तें प्रवाहाच्या योगानें अ क या  
कर्णावरून चालेल. म्हणून प्रवाह-गमनमार्ग काढावयाचा म्हणजे  
आपणांस अ ब दिशा काढावयाची आहे, आणि अ क, व अ ड, या  
दोन दिलेल्या आहेत. म्हणजे गतिदर्शक समांतर भुज-चौकोनाचा



कर्ण व एक बाजू दिली असतां दुसरी बाजू काढण्याचा हा प्रकार आहे. ज्या मार्गाने आपणांस गलबत न्यावयाचे आहे. तो खरा गमनमार्ग हा या चौरसाचा कर्ण होय. प्रवाहाची दिशा व गति ही याची एक बाजू होय. यावरून गलबताची दिशा व गति, जी दुसरी बाजू होईल तो गमनमार्ग काढावयाचा आहे. व गलबताचा वेग माहीत असतोच त्यावरून या बाजूची लांबी निघेल व कर्णाची लांबी म्हणजे गलबताचे प्रत्येक तासाचे अंतर अथवा मार्गक्रमणही निघेल. ही आकृति काढण्यास गतिदर्शक समांतर भुज-चौकोन काढण्याच्या उलट कृति केली पाहिजे. ती अशी:—

नकाशावरील गलबताच्या ( अ ) ठिकाणापासून ज्या ठिकाणा-  
 कडे गलबत न्यावयाचे आहे. त्या ( क )  
 ठिकाणाची दिशा दाखविणारी म्हणजे  
 खरा गमनमार्ग दाखविणारी एक अ क  
 रेषा काढा. त्याच ( अ ) स्थलापासून  
 प्रवाहाची दिशा दाखविणारी दुसरी  
 अ ड रेषा काढा व अ ड ची लांबी स्के-



आकृति ४६.

लाने प्रवाहाच्या एका तासांतील वेगाएवढी करून घ्या. आतां गल-  
 बताच्या एका तासाच्या वेगाइतके अंतर त्याच स्केलावरून कंपासाने  
 मापून घ्या, व त्या कंपासाचे एक टोंक प्रवाहाचा वेग दाखवि-  
 णाच्या अ ड रेषेच्या ड टोंकावर ठेवा, व दुसरे टोंक खरा गमनमार्ग  
 दाखविणाऱ्या अ क रेषेस मिळवा; व ते दोन, क आणि ड बिंदु  
 जोडा म्हणजे क ड ही रेषा गलबताचे नाळ कोणच्या दिशेकडे  
 लावावे तें दाखवील. ड क र्शी समांतर अशी अ बिंदूमधून अ ब

रेष काढितां येईल. म्हणजे अ व हा प्रवाहगमनमार्ग झाला त्याला चालन व विचलन लावून होक्यावरील प्रवाहगमनमार्ग काढावा.

दुसरी रीति:—ट्रान्हर्स कोष्टकावरून गमनमार्ग व अंतर काढण्याची—

ही रीति एक उदाहरण घेऊन नीट दाखवितां येईल.

१ लें उदाहरण.—एक गलबत दर तासांत सात मैलप्रमाणें S वाय W. ( दक्षिणेकडून पश्चिमेकडे १ बिंदु =  $११^{\circ}-१५'$  ) या दिशेनें बारा तास चाललें. त्यास निघाल्या वेळेपासून शेवटपर्यंत प्रवाह दर तासांत ३ मैलप्रमाणें E. N. E. ( उत्तरेकडून पूर्वेस २ बिंदु =  $२२^{\circ}-३०'$  ) या दिशेनें नेत आहे. तर त्याचा खरा गमनमार्ग व बारा तासांत त्यानें क्रमिलेलें अंतर काढा.

### ट्रान्हर्स कोष्टक.

गमनमार्ग	अंतर मैल	अक्षांशांतर मैल		रेखांशांतर मैल		
		उत्तर	दक्षिण	पूर्व	पश्चिम	
S वाय W.	८४		८२-४		१६-४	
E. N. E.	३६	१३-८		३३-३		
		१३-८	८२-४	३३-३	१६-४	ट्रान्हर्स कोष्ट- कावरून उत्तर काढा.
			६८-६	१६-९		

उत्तर गमनमार्ग =  $१४^{\circ}-१६'$  पूर्वेस; अंतर ७०-८ मैल.

( २४४ )

२ रें उदाहरण.—एक गलबत, N. N. E. या दिशेने दर तासांत चार मैलप्रमाणें ५ पांच तासपर्यंत चाललें व तितक्या वेळांत प्रवाहानें १ तासांत १ मैल या वेगानें त्याला N. W. (वायव्य) दिशेने नेलें तर त्या पांच तासांत तें किती चाललें व त्याच खरा गमनमार्ग काय ?

या उदाहरणांत फक्त दोन गमनमार्ग व दोनच अंतरें दिलीं आहेत. त्यावरून ट्रान्हर्स कोष्टकावरून एक गमनमार्ग काढावयाचा आहे.

### ट्रान्हर्स कोष्टक.

गमनमार्ग	अंतर मैल	अक्षांशांतर		रेखांशांतर (Departure)	
		उत्तर मैल	दक्षिण मैल	पूर्व	पश्चिम
		N. N. E. = २ बिंदु खंड	२०	१८.५	
N. W. = ४ बिंदु खंड	५	३.५			३.५
		२२-०		७-७	३.५
		२१-६		४-२	

उत्तर अंतर २२ मैल व गमनमार्ग ११° उत्तरेकडून पूर्वेस.

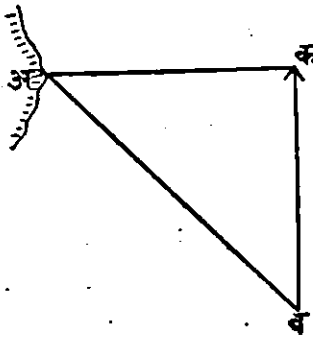
# भाग १४ वा.



## कोन मापून गलबताचें ठिकाण काढणें.

समुद्राच्या किनाऱ्याजवळून गलबत जात असतां तें किनाऱ्या-  
पासून किती दूर आहे हें वरचेवर काढणें फार अगत्याचें आहे.  
हें सोप्या रीतीनें काढण्याचा मार्ग म्हणजे जमिनीवरील एकादें उंच  
अथवा सहज दिसण्याजोगें ठिकाण गलबताच्या गमनमार्गाशीं  $४५^{\circ}$   
अंशाचा कोन केव्हां करितें ती वेळ टिपून ठेवावी; व नंतर गलबत  
पुढें जातां जातां, त्याच ठिकाणाशीं काटकोन केव्हां करितें ती वेळ  
पहावी व त्या दोन्ही वेळांच्या मधील अंतरांत गलबत जितकें  
चाललें असेल तितकेंच जमिनीपासून त्याचें अंतर समजावें. हें  
खालील आकृतीवरून नीट लक्ष्यांत येईल.

अ हें एक किनाऱ्यावरील उंच ठिकाण आहे असें समजा. व

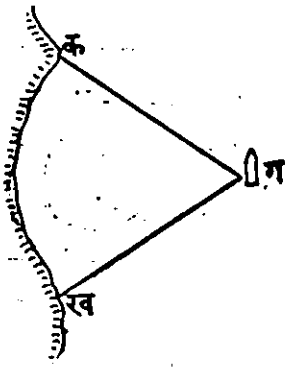


ब क हा गलबताचा गमनमार्ग आहे,  
ब ह्या ठिकाणीं गलबत आलें असतां  
तेथून गमनमार्गाशीं अ स्थलाचा (४ बिंदु)  
 $४५^{\circ}$  चा कोन होतो असें समजा.  
नंतर क ठिकाणीं गलबत आलें असतां  
त्याच अ स्थळाचा गमनमार्गाशीं  
काटकोन होतो असें समजा. आतां,

अ क ब हा काटकोन आहे व अ ब क हा  $४५^{\circ}$  चा कोन आहे. तेव्हां क अ ब कोनही  $४५$  अंशाचाच असला पाहिजे ( कारण तें एकाच त्रिकोनाचे कोन आहेत व त्या सर्वांची बेरीज  $१८०^{\circ}$  बरोबर असली पाहिजे ) व अ क बाजू क ब बरोबर असली पाहिजे. कारण एकाच त्रिकोनांत समान कोनांसमोरील बाजूही समान असतात. म्हणून अक, अ ब बरोबर आहे.

विद्यार्थ्यांनी लक्ष्यांत ठेवावें कीं, ब क अंतर अ क बरोबर आहे. परंतु ब अ हें सदोदित नुसत्या गलबताच्या वेगाबरोबर असणार नाही, कारण गलबतास प्रवाह अगर भरतीओहटी लागल्यामुळें त्याचे गर्तीत फेरफार होणार आहे. म्हणून तो लक्ष्यांत घेऊन ब क अंतर किती हें बरोबर काढिलें पाहिजे. म्हणजे तितकेंच अंतर अ क हें होय.

दुसरी रीति—नकाशावर दाखविलेल्या जमीनीवरील कोणत्याही दोन



(क आणि ख) स्थळांचीं उत्तरांतरे गलबतावरून ध्यावीत. व तीं उलट करून नकाशावर बारीक रेघांनीं काढावीत. त्या दोन रेघा एकमेकांस जेथे छेदितील, तें गलबताचें नकाशावरील (ग) स्थळ होय. या दोन उत्तरांतील अंतर जवळ जवळ एक काटकोनाइतकें असावें कारण  $९०^{\circ}$  इतकें अंतर अस-

तांना कोन घेतांना थोडी चूक झाली असतां तिचा परिणाम या वेळीं फार कमीही होतो. परंतु काळजीपूर्वक कोन मापिला तर ४५° अंशापासून १३५° अंशांपर्यंत कोणतेही अंतर त्या दोन उत्तरांतरांत असले तरी गलबताचे ठिकाण नकाशावर दाखवितां येईल. परंतु त्याहून कमी अगर अधिक मोठा कोन त्या दोन स्थलांच्या उत्तरांतरांत असला तर त्या गलबताचे ठिकाण नकाशावर बरोबर दाखवितां येणार नाही. हे कोन नकाशावर बरोबर काढण्याकरितां होक्याची चलन व विचलन मिळून झालेली चुकी बरोबर माहीत करून घेऊन ती विचारांत घेतली पाहिजे. नकाशावर गलबताचे ठिकाण दाखविलें म्हणजे त्याचे अंतरही कळेल.



# भाग १५ वा.



## भरती-ओहोटी.



समुद्राच्या नकाशावर पाण्याच्या खोलीचे आंकडे दिलेले असतात. ते त्या त्या ठिकाणी पाण्याची खोली किती वांव आहे, तें दाखवितात. ( सहा फूट म्हणजे एक वांव किंवा फॉदम समजावा.) समुद्राचें पाणी भरती-ओहोटीमुळें कमी जास्ती होतें. खोल समुद्रांत भरती-ओहोटी कळून सुद्धां येत नाहीं. परंतु किनाऱ्याजवळ, व नदीच्या किंवा खाडीच्या मुखाशीं जे खडक व वाळूचे ढांग ओहोटीच्या वेळीं स्पष्ट दिसतात, ते भरतीच्या वेळीं दिसत नाहींत व त्यावर गलबतें लागण्याचा संभव असतो. तसेंच कित्येक बंदरांत ओहोटीच्या वेळीं गलबतें नेतां येत नाहींत, तीं भरतीच्या वेळीं सुरक्षित रीतीनें नेतां येतात. अशा अनेक कारणामुळें भरती-ओहोटीचें पूर्ण ज्ञान असणें हें खलाशांस व नाखव्यास फार जरूरीचें आहे. म्हणून भरती-ओहोटीचें यथे थोडक्यांत वर्णन करूं.

चंद्र आणि सूर्य या दोहोंच्या आकर्षणामुळें समुद्रास भरती-ओहोटी उत्पन्न होते. समुद्राच्या पाण्यावर व एकंदर पृथ्वीवर चंद्रसूर्याचें जें आकर्षण असतें तें त्यांच्यामधील जड द्रव्याच्या ( वजनाच्या ) समप्रमाणांत व अंतराच्या वर्गाच्या विषम प्रमाणांत असतें. ( म्हणजे ज्याचें वजन अधिक त्याचें आकर्षण अधिक, परंतु ज्याचें अंतर कमी त्याचें आकर्षण अधिक. आकर्षण अंतराच्या

वर्गाचे विषम प्रमाणांत कमी-अधिक होतें. म्हणजे अंतर दुप्पट झालें तर आकर्षण चतुर्थांश होतें. व अंतर अर्धे झालें तर आकर्षण चौपट होतें. ) म्हणून चंद्र हा सूर्यापेक्षां जरी लहान आहे तरी तो पृथ्वीच्या इतकाजवळ आहे कीं, त्याच्या आकर्षणाचा समुद्राच्या भरती-ओहोटीवर सूर्याच्या आकर्षणापेक्षां अधिक परिणाम होतो. स्थूलमानानें चंद्राचें आकर्षण सूर्याच्या आकर्षणाच्या दुप्पट आहे.\* ( वास्तविक तें सवा दोन पट आहे म्हणजे सूर्याचें आकर्षण ४ मानिलें तर चंद्राचें ९ आहे. )

\* सूर्याचें आकर्षण एकंदर पृथ्वीवर, चंद्राच्या आकर्षणापेक्षां, पुष्कळपट अधिक आहे. परंतु चंद्राच्या आकर्षणाचा भरती-ओहोटीवर अधिक परिणाम होतो याचें कारण असें आहे कीं समुद्रास जी भरती येते ती, चंद्रसूर्याचें पृथ्वीच्या, त्यांच्याजवळील ( त्यांच्याकडील ) पृष्ठ भागावर जें आकर्षण असतें त्याहून तें पृथ्वीच्या मध्य बिंदूवर ज्या मानानें कमी होतें, त्या मानानें एकंदर पृथ्वीपेक्षां त्यांचेकडील ( त्यांचे जवळील ) तिच्या पृष्ठभागावरील पाणी त्यांचेकडे अधिक ओढलें जातें. ( समुद्राचें पाणी बर्फासारखें घट्ट होऊन पृथ्वीस चिकटलेलें असतें तर त्यासही पृथ्वीवरील इतर घन द्रव्याप्रमाणें भरती-ओहोटी झाली नसती, परंतु पाणी प्रवाही आहे व पृथ्वीच्या पृष्ठभागावर हळू शकतें, म्हणून चंद्र-सूर्याच्या अधिक आकर्षणामुळे पृथ्वीपासून किंचित् वर चढतें ) आतां पृथ्वीची त्रिज्या सुमारे ४००० चार हजार मैल आहे. हें अंतर, सूर्यापासून तिचें जें महदंतर आहे त्याशीं ताडून पाहिलें असतां एकास २३२५० या प्रमाणांत आहे, परंतु हेंच अंतर चंद्रापासून तिचें जें ( थोडें ) अंतर आहे त्यांच्याशीं ताडून पाहिलें असतां एकास ६० या प्रमाणांत आहे. म्हणून सूर्याचें पृथ्वीच्या सूर्यो-कडील पृष्ठभागावर जें आकर्षण पडतें त्याहून तिच्या मध्यावर जें आकर्षण पडतें, तें फारसें कमी असत नाहीं. कारण पृथ्वीच्या पृष्ठभागापेक्षां तिच्या मध्याचें अंतर एकंदर अंतराच्या फक्त १/३२५० सांनीं अधिक होतें. त्यामुळे सूर्याचे पृथ्वीच्या पृष्ठभागावरील व मध्यावरील आकर्षणांत फरक थोडा असतो. ( पुढें चाल. )



समुद्राच्या ज्या ज्या भागावर चंद्र बरोबर डोक्यावर ( अथवा मध्यान्हवृत्तावर) येतो, त्या त्या भागावर त्याचे आकर्षणाचा जोर अधिक लागतो; व ते भाग चंद्राकडे अधिक ओढले जातात. तसेंच पृथ्वीच्या पलीकडच्या समुद्राच्या भागावर चंद्राचे आकर्षण फार कमी असते. त्यामुळे ते समुद्राच्या पाण्याचे भाग मागे राहतात; कारण, पृथ्वीवर जे चंद्राचे आकर्षण असते, त्याहीपेक्षा तिच्या पलीकडील पाण्याच्या भागावर ते कमी असते. याप्रमाणे पृथ्वीच्या दोहों बाजूंवर समुद्राचे पाणी एकदम चढते. या दोन्ही बाजू पृथ्वी व चंद्र यांच्या मध्यबिंदूस जोडणाऱ्या सरळ रेषेत असतात. एक

परंतु चंद्राचे तसे नाही. चंद्राचे एकंदर पृथ्वीवरील आकर्षण सूर्याच्या आकर्षणापेक्षा जरी पुष्कळपट कमी आहे तरी तो पृथ्वीच्याजवळ असल्यामुळे त्याचे पृथ्वीच्या त्याजकडील पृष्ठभागावर जे आकर्षण पडते त्याहून तिच्या मध्यावर पुष्कळ कमी पडते. कारण पृथ्वीचा चंद्राकडील पृष्ठभाग तिच्या मध्यापेक्षा एकंदर अंतराच्या  $\frac{1}{6}$  शान्ती जवळ असतो. म्हणून पृष्ठभागावर आकर्षण त्या मानाने अधिक असते व मध्यावर कमी होते. व मध्यावर जे आकर्षण असते त्याहीपेक्षा तिच्या चंद्रापासून दूरच्या पृष्ठभागावर ते कमी असते. म्हणून चंद्र पृथ्वीच्या आपलेकडील पृष्ठ भागावरील पाणी पृथ्वीच्या मध्यापेक्षा आपणाकडे अधिक जोराने ओढून घेतो. व ते प्रवाही असल्यामुळे त्यास किंचित् चंद्राकडील बाजूस फुगवटा येतो व तेथे भरती होते. तसेंच पृथ्वीच्या मध्यावर जे चंद्राचे आकर्षण पडते व घनपृथ्वीस तो ज्या जोराने आपणाकडे ओढून घेतो त्यापेक्षा तिच्या पलीकडल्या समुद्राच्या पाण्यावर त्याचे आकर्षण कमी पडते व ते पाणीही प्रवाही असल्यामुळे पृथ्वीबरोबर ओढले न जाता किंचित् मागे राहते व तेथे त्यास फुगवटा येऊन पृथ्वीच्या दुसऱ्या बाजूस म्हणजे चंद्रापासून दूरच्या बाजूवरही भरती उत्पन्न होते. सारांश सूर्य-चंद्रांच्या पृथ्वीच्या मध्यावर व पृष्ठभागावर कमी जास्त आकर्षणामुळे पृथ्वीवरील समुद्राच्या पाण्याची पृथ्वीपासून सारखी ओढाताण चालली आहे, त्यामुळे समुद्रास भरती येते.

बाजू चंद्राकडील मध्यान्हवृत्तावर व दुसरी त्याच मध्यान्हवृत्ताच्या दुसऱ्या अर्धवर्तुळ भागावर असते.

याप्रमाणे चंद्र पूर्वेकडून पश्चिमेस प्रत्येक मध्यान्हवृत्तावरून जातां जातां त्यावर दर चौवीस तासांत दोन वेळां भरती उत्पन्न करितो; एक वेळ त्या मध्यान्हवृत्ताचे एका अर्धवर्तुळावर आला म्हणजे व दुसऱ्या वेळीं सुमारे बारा तासांनीं तो त्याच मध्यान्हवृत्ताच्या दुसऱ्या अर्धवर्तुळावर गेला म्हणजे. याप्रमाणे पृथ्वीच्या एका अर्धावर भरती झाली म्हणजे ती दुसरे अर्धावरही होतेच, म्हणून प्रत्येक वेळेस एकाच मध्यान्हवृत्ताचे पूर्ण वर्तुळावर दोन दोन ठिकाणीं अशी दोन वेळां भरती होते.

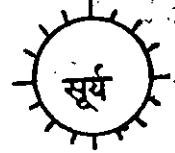
आतां हें जें समुद्राचें पाणी वर चढतें तें पहिल्या मध्यान्हवृत्तावरचें पाणी दुसऱ्या मध्यान्हवृत्तावर येऊन चढतें असें नाहीं. तर ज्या मध्यान्हवृत्तावर चंद्र असतो तेथीलच पाणी चढतें. तो तेथून पलीकडे गेला म्हणजे तें उतरतें. पाणी चंद्राबरोबर फिरत नाहीं, परंतु त्याला चंद्र समोर आहे तोंपर्यंत लट्टेसारखा फुगवटा मात्र येतो. ज्या ज्या ठिकाणीं चंद्र माथ्यावर किंवा मध्यान्हवृत्तावर असतो त्या त्या ठिकाणीं हा फुगवटा अधिक असतो. ही चंद्राच्या आकर्षणामुळे समुद्रास आलेली भरती होय. याचप्रमाणे सूर्याच्या आकर्षणामुळे दोन भरत्या उत्पन्न होतात. त्या लहान असतात. परंतु चंद्र व सूर्य या दोघांच्या आकर्षणाचा मिळून परिणाम असा होतो कीं, चार निरनिराळ्या भरत्या न होतां, चंद्राच्या आकर्षणामुळे झालेल्या भरतीवर सूर्याचे आकर्षणाचा जोर लागून त्यांत फेरफार मात्र होतो. जेव्हां चंद्र व सूर्य हे एकाच मध्यान्हवृत्तावर असतात तेव्हां दोघांचें आकर्षण एकाच सरळ रेषेत असल्यामुळे

सर्वांत मोठी भरती होते. अशा स्थिति अमावास्येस व पौर्णिमेस असते. अमावास्येचे दिवशी चंद्र व सूर्य पृथ्वीच्या एकेच बाजूस असल्यामुळे ते एकदम मध्यान्हवृत्तावर येतात. व पौर्णिमेच्या दिवशी ते एकाच मध्यान्हवृत्ताच्या दोन समोरासमोरील अर्धावर असतात, म्हणून त्या दोघांचें आकर्षण पौर्णिमेसही एकाच

चंद्र  





पौर्णिमेची भरती.



चंद्र  


अमावास्येची भरती.

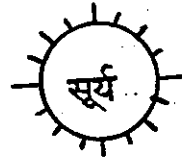


चंद्र  


आ.  
४९



अष्टमीची भरती



सरळ रेषेत असतें व त्यामुळे मोठी भरती उत्पन्न होते. अष्टमीचे सुमारास चंद्र व सूर्य यांच्या पृथ्वीवरील आकर्षणाच्या दिशांमध्ये फार मोठा म्हणजे ९०° अंशाइतका कोन होतो, व त्यामुळे त्या दोन्हीही आकर्षणाचा परिणाम समुद्राच्या पाण्यावर फार कमी

होतो, म्हणून अष्टमीस सर्वांत लहान भरती उत्पन्न होते. अमावा-  
 स्येस व पौर्णिमेस ज्या मध्यान्हवृत्तावर चंद्राच्या आकर्षणानें भरती  
 उत्पन्न होते त्याच मध्यान्हवृत्तावर सूर्याचे आकर्षणानेही भरती  
 उत्पन्न होते. त्यामुळे दोन्ही आकर्षणाची मिळून मोठी भरती  
 होते. परंतु अष्टमीचे सुमारास ज्या मध्यान्हवृत्तावर चंद्राच्या आक-  
 र्षणानें ओहोटी उत्पन्न होते त्याच मध्यान्हवृत्तावर सूर्याच्या आक-  
 र्षणानें भरती होते. व जेथे चंद्राच्या आकर्षणानें भरती येते तेथे  
 सूर्याच्या आकर्षणानें ओहोटी येते. त्यामुळे अष्टमीस ओहोटीही  
 पुरी होत नाही व भरतीही पुरी येत नाही. चंद्र व सूर्याची स्थिति:  
 पौर्णिमेस व अमावास्येस कशी असते व अष्टमीस कशी असते व  
 त्यामुळे भरती-ओहोटींवर कसा परिणाम होतो हें वरील आकृती-  
 वरून लक्षांत येईल.

पृथ्वी जर बरोबर गोलकार असती व तिच्या सभोंवती भूमध्य-  
 वृत्तावर पुष्कळ व सारख्या खोलीच्या समुद्राचें वेष्टण असतें तर  
 भरती नियमित वेळीं व सारख्या उंचीचीं झाली असती व चंद्रसूर्या-  
 च्या आकर्षणामुळे या भरतीच्या लाटेचा अप्रतिबंध वेग  
 एका तासांत ( १००० ) हजार मैल झाला असता व तिची  
 उंची म्हणण्यासारखी झाली नसती. परंतु पृथ्वीच्या पृष्ठभागावरील  
 जमिनीचे भाग, महाद्वीपें, निरनिराळ्या दिशांत असणारे किनारे,  
 समुद्राची निरनिराळी खोली, या सर्वांमुळे भरतीमध्ये फेरफार  
 होतो. भरतीच्या लाटेस पहिल्यानें चंद्रसूर्यांवरोवर पश्चिमेकडे जा-  
 ण्याची गति मात्र मिळते. या गतीस अडथळे आले म्हणजे पाण्यास  
 जोर येतो. हे अडथळे, समुद्राचा उथळपणा, अखातांचे उंच किनारे  
 खाड्यांची व नद्यांची मागे अरुंद होणारीं मुखें, यामुळे फार येतात

व त्यांमुळे भरतीच्या लाटांवर लाटा चढून किनाऱ्यावर पाण्याची उंची वाढते; म्हणजे पहिली लाट येते तिला एखाद्या अरुंद खाडीच्या किनाऱ्याचा अडथळा येऊन तिचे पाणी वर चढते; इतक्यांत मागून दुसरी लाट येते ती पहिल्या लाटेस मागे येऊं न देतां आपणही वरती चढते; याप्रमाणे समुद्राकडे तोंडे रुंद असून जमिनीकडे अरुंद होत गेलेल्या अखातांत व खाड्यांत मुखाशीं भरतीचे पाणी फार चढते. व त्यामुळे जमिनीवर लांब जाणाऱ्या खाड्यांत व नद्यांत भरतीचा प्रवाह उत्पन्न होतो.

जमिनीपासून दूर अशा अफाट समुद्रामध्ये भरतीची लाट कळूनसुद्धां येत नाही. व तिची उंचीही फार कमी असते. पॉसिफिक समुद्रांतील कित्येक वेदांत उघाणांचे पाणी फक्त ४ किंवा ६ फूट चढते परंतु स्थानिक कारणामुळे भरतीची उंची कित्येक ठिकाणीं फार वाढते म्हणजे किनाऱ्याकडे समुद्र उथळ होत गेला असेल तर, खाड्या समुद्राकडे रुंद असून जमिनीकडे अरुंद होत गेल्या असतील तर, तसेंच अखाते, खाड्या व नद्या यांची मुखे भरतीचे पुष्कळ पाणी सहज आंत येऊं देण्यासारखी रुंद व खोल असून पुढे अरुंद व उथळ होत गेलीं असतील, तर त्या ठिकाणीं भरतीचे पाणी फार चढते.

अशा ठिकाणीं भरतीचे पाणी ३५ पासून ४५ फूट किंवा अधिकही चढते. खंबायतचे आखातांत व हुगली नदींत याचप्रमाणे पाणी पुष्कळ चढते. अशा ठिकाणीं भरतीमुळे जो प्रवाह उत्पन्न होतो, त्याचा वेगही फार असतो. कित्येक ठिकाणीं तर अशा स्थानिक कारणामुळे एकदम पहिल्यानेच नद्यांच्या मुखांत भरतीची मोठी लाट शिरून ती मोठ्या वेगाने फोंफावत व फेंसाळत वर

ज्ञाते व वाटेंत गलबतें, जहाजें वंगरे जें कांहीं असेल त्यांचा नाश करून टाकते. अशी लाट अमाझोन व हुगळी या नद्यांमध्ये येते, तिला बोअर ( Bore ) किंवा घोडा असे म्हणतात.

मराठी क्रमिक चौथ्या पुस्तकांत भागिरथीच्या लोंढ्याचें वर्णन केलें आहे. तें माहितीकरितां येथें उतरून घेतलें आहे. त्यावरून स्थानिक कारणाचे नद्यांच्या भरती-ओहोटीवर कसे परिणाम होतात व नद्याही व्यापारास किती उपयोगी पडतात तें कळून येईल व खलाशास भरती-ओहोटीच्या ज्ञानाची किती जरूरी आहे तें समजेल.

‘ भागिरथीच्या मुखांतून जें समुद्राच्या भरतीचें पाणी येतें तें क्रमानें चढत नाहीं तर समुद्राची भरती समा होण्याच्या सुमारास आली म्हणजे एकदम पाण्याचा लोंढा घोड्याप्रमाणें मोठ्या वेगानें धांवत येतो. पौर्णिमेस आणि अमावास्येस हा लोंढा २०० मैलपर्यंत जाऊन पोहोचतो. ह्या लोंढ्याची उंची मुखाजवळ बारा फूट असते. हा लोंढा कधीं सगळ्या तासांतून जात नाहीं.

तो कधीं ह्या बाजूनें व कधीं त्या बाजूनें जातो. त्याचा शब्दही मोठा भयंकर असतो. ह्याला घोडा असें म्हणतात.

गंगा नदीचा उपयोग म्हटला तर फारच आहे. व्यापाराचा हा एक मोठा मार्गच आहे. गंगा आणि तिला मिळणाऱ्या नद्या ह्यांत डोंगरापर्यंत देखील सहा महिने गलबतें चालण्याची सोय असते. ह्या नदींत गलबताच्या कामावर उपजीविका करणारे असे लोक एक लक्षाहून अधिक असतील. ”

फार खोल व रुंद अशा अफाट समुद्रामध्ये भरती कळूनसुद्धा येत नाही. कारण अशा समुद्रांत भरती म्हणजे थोडा वेळ राहणारा समुद्राचा फुगवटा मात्र असतो. त्यापासून पाण्यांत प्रवाह उत्पन्न होत नाही व जवळ जमीन नसल्यामुळे त्याची उंचीही कळत नाही. पृथ्वीच्या पृष्ठभागावर भरती कसकशी पसरते, त्याचे नकाशे काढलेले असतात. व त्यांवर अमावास्येच्या किंवा पौर्णिमेच्या मोठ्या भरत्यांचें म्हणजे उघाणाचे पाण्याचा समा एकाच वेळीं होणारीं सर्व ठिकाणें कांहीं गोल रेषांनीं जोडून दाखविलेलीं असतात.

सरोवरासारखे जे समुद्र असतात त्यांस मुळांच भरती येत नाही; जसें काळा समुद्र व कास्पियन समुद्र. भूमध्य समुद्र व तांबडा समुद्र, ज्यांस पाणी जाण्यायेण्यास थोडासा रस्ता आहे त्यांस थोडी भरती येते.

अमावास्या व पौर्णिमेच्या दिवशीं जी भरती येते, त्यांहिपेक्षां द्वितीयेची व त्रितीयेची भरती अधिक मोठी असते. मोठ्या भरतीस उघाणाचें पाणी ( Spring Tides. ) असें म्हणतात. अष्टमी-सारख्या कमी भरतीस भांगाचें पाणी असें म्हणतात. पूर्ण भरती होऊन कांहीं वेळ पाणी स्थिर दिसतें, त्यास समा असें म्हणतात.

मोठी भरती अष्टावीस दिवसांनीं म्हणजे एक चांद्रमासानें फिरून होते. हवेंतील फेरफाराचा भरतीवर बराच परिणाम होतो. वारा भरतीस अनुकूल असला तर भरती उंच चढते. तोच प्रतिकूल असला तर थोडी चढते. तसेंच हवेचा दाब पाण्यावर अधिक पडल्यास पाणी थोडें चढतें व दाब कमी असल्यास अधिक चढतें. तें किती कमीजास्ती होतें, हें नक्की सांगतां येत नाही. तरी हवेच्या

भारमापक यंत्रांत एक इंच पारा उतरला असतां सातपासून वीस इंचपर्यंत भरतीचें पाणी चढतें, असा अदमास करण्यांत आला आहे.

पूर्ण भरतीची किंवा ओहोटीची वेळ ही पाण्याच्या प्रवाहाच्या दिशेवरून कळून येत नाही. कारण पूर्ण भरती होऊन समुद्राचें पाणी उतरूं लागलें तरी तें नद्यांच्या मुखांतून व कित्येक खाड्यांतून वरती म्हणजे जमिनीकडे वाहत असतें. तसेंच पूर्ण ओहोट होऊन समुद्रांत पाणी चढूं लागलें तरी खाडीचें पाणी समुद्राकडे जातच असतें. जेथें समुद्राचें पाणी नद्यांमधून किंवा खाड्यांतून लांबवर जमिनीकडे जातें, तेथें हा प्रकार विशेष दृष्टोत्पत्तीस येतो. समुद्रास जो भरतीचा उंचवटा येतो तो चंद्रसूर्याच्या आकर्षणामुळें येतो. परंतु उंचीवरील पाण्यानें सखल जागेकडे जावें व आपला पृष्ठभाग सदोदित क्षितिजसमांतर राखावा, हा जो पृथ्वीच्या गुरुत्वाकर्षणामुळें पाण्यांत घर्म उत्पन्न झाला आहे त्यामुळें पाण्यांत प्रवाह उत्पन्न होतात व त्यांची दिशा सदोदित सखल किंवा खोल जागेकडे जाण्याची असते. भरतीच्या वेळेशीं त्यांचा संबंध नसतो; तर उंचीशीं मात्र असतो.

सुधारलेल्या देशांतील प्रसिद्ध बंदरांतील दररोजच्या पूर्ण भरतीची व पूर्ण ओहोटीची कित्येक वर्षे मापें घेऊन पूर्ण भरती-ओहोटीची वेळ व त्या वेळीं पाण्याची उंची अनुभवानें ठरवून टाकिली असते. व त्यावरून पुढील वर्षांत दररोज पूर्ण भरती व ओहोटी केव्हां होईल व पाण्याची उंची त्या त्या बंदरांत त्या वेळीं किती



होईल, यार्ची कोष्टकें करून तीं दर्यावर्दी लोकांकरितां सरकारांतून प्रसिद्ध होत असतात. अशीं कोष्टकें हिंदुस्थान सरकारही प्रसिद्ध करतें. त्यांत सुएज, एडन, हिंदुस्थानच्या पश्चिम व पूर्व किनाऱ्यांवरील बंदरें, व चिनांतील हांगकांग वगैरे बंदरांतील भरतीची व ओहोटीची दररोजची वेळ व त्या वेळीं असणारी पाण्याची उंची हीं दिलेलीं असतात. तीं दर्यावर्दी व इतर लोकांच्याही फार उपयोगी आहेत. त्यांच्या साहाय्यानें गलबतें सुरक्षित रीतीनें बंदरांत नेतां येतात.

समुद्राच्या नकाशावर जे पाण्याच्या खोलीचे आंकडे दिलेले असतात, ते मोठ्या ओहोटीच्या म्हणजे जेव्हां समुद्राचें पाणी फार उतरतें, त्या पाण्याच्या सपाटीच्या खालीं समुद्राची खोली त्या ठिकाणीं किती वांव किंवा फादम आहे, तें दाखवितात. त्याचे फूट करून भरतीचे कोष्टकांत दाखविलेली त्या ठिकाणच्या भरतीच्या पाण्याची उंची त्यांत मिळवावी म्हणजे भरतीच्या वेळीं त्या ठिकाणीं पाणी किती फूट होईल, तें कळेल. व आपलें गलबत इतक्या पाण्यांतून जाईल किंवा नाहीं त्याचा अदमास काढतां येईल. आतां भरतीचें पाणी फार वेळ सारखें राहात नाहीं. अगदीं थोडा वेळ सारखें राहून पुनः उतरावयास लागतें. म्हणून पाणी चढावयाचें व उतरावयाचें काय प्रमाण आहे, तें कळलें पाहिजे. भरती पुरी झाल्यापासून ती पुरी उतरावयास म्हणजे पुरी ओहोट होण्यास सहा तास लागतात. याप्रमाणें एका अहोरात्रीत म्हणजे २४ तासांत दोन वेळां भरती व दोन वेळां ओहोटी होते.

भरतीच्या कोष्टकांत रोजच्या पूर्ण भरतीची व पूर्ण ओहोटीची वेळ व उंची दिलेली असते. त्यावरून त्या सहा तासांचे वेळांत पाण्याच्या सपाटींत किती अंतर पडते तें काढतां येते. एखाद्या बंदरांत हें अंतर १६ फूट आहे असे समजा. आतां पूर्ण भरती होई तोपर्यंत सहा तासांतील प्रत्येक तासांत या सोळा फुटांपैकी पाणी किती फूट चढते, तें सांगू. पुष्कळ वेळां मापे घेऊन असे ठोकळ प्रमाण काढिले आहे कीं, एकंदर भरतीची उंची जर १६ फूट असेल, तर पहिल्या तासांत सर्व उंचीचा  $\frac{१}{६}$  म्हणजे एक फूट पाणी चढते, दुसऱ्या तासांत सर्व उंचीचे  $\frac{२}{६}$  म्हणजे आणखी तीन फूट, तिसऱ्या तासांत आणखी  $\frac{३}{६}$  म्हणजे ४ फूट चढते. पांचव्या तासांत आणखी  $\frac{५}{६}$  म्हणजे तीन फूट पाणी चढते. म्हणजे भरतीची उंची १५ फूट होते. सहाव्या तासांत आणखी एक  $\frac{६}{६}$  म्हणजे एक फूट पाणी चढून भरतीची उंची पुरी सोळा फूट होते.

ज्या प्रमाणानें पाणी चढते, त्याच प्रमाणानें बहुतकरून उतरते.

तास.	उंची फूट.	अंश.
५	१६	१
५	१५	३
४	१२	४
३	८	४
२	४	३
१	१	१

आकृति ५०.

या नियमावरून भरती किंवा ओहोटी सुरू झाल्यापासून पुरी होईपर्यंत मधील वेळांत पाणी किती चढलें किंवा उतरलें तें काढतां येईल. दुसऱ्या एका बंदरांत पूर्ण भरती व ओहोटीच्या वेळांच्या

पाण्याच्या सपाटीमधील अंतर बारा फूट आहे असे समजा. तर १२ फुटांचा वई म्हणजे ९ इंच पाणी पहिल्या तासांत चढेल, वई म्हणजे २७ इंच किंवा २' - ३" पाणी दुसऱ्या तासांत चढेल व भरतीची उंची ३ फूट होईल. वई म्हणजे ३६" किंवा ३ फूट पाणी तिसऱ्या तासांत चढेल व भरतीची उंची एकंदर ६ फूट होईल. पुनः वई म्हणजे ३६" किंवा ३ फूट पाणी चवथ्या तासांत चढेल व भरतीची एकंदर उंची ९ फूट होईल. वई म्हणजे २७" म्हणजे २ - ३" पाणी पांचव्या तासांत चढेल व एकंदर भरतीची उंची ११ फूट ३ इंच होईल. वई म्हणजे आणखी ९" पाणी सहाव्या तासांत चढेल व भरतीची पूर्ण उंची १२ फूट होईल व पूर्ण भरती होईल.

आतां पूर्ण भरती ६ तासांत बारा फूट चढली असतां प्रत्येक तासांत याच्या उलट रीतीने उतरत जाईल म्हणजे पहिल्या तासांत तिची उंची ११' - ९" होईल. दुसऱ्या ९ फूट राहिल. तिसऱ्या तासांत ६ फूट राहिल. चवथ्या तासांत ३ फूट राहिल. पांचव्या तासांत ९ इंच राहिल व सहाव्या तासांत पुरी ओहोट होईल.

हे भरती चढण्याचे व उतरण्याचे ठोकळ प्रमाण आहे. भरतीच्या कोष्टकांत पूर्ण भरतीची वेळ व उंची, व पूर्ण ओहोटीची वेळ व उंची, दिलेली असते. त्यावरून मधील वेळांतील उंची या प्रमाणांत काढतां येईल.

एक (रात्रीची) भरती पुरी झाल्यापासून दुसरी (दिवसाची) भरती पुरी होईतोपर्यंत सरासरी १२ तास व २५ मिनिटे लागतात. पूर्ण

भरतीची रोजची वेळ भरतीच्या कोष्टकांत दिलेली असते; त्यावरून किंवा चंद्र मध्यान्हवृत्त ओलांडून गेल्यावर किती वेळाने पूर्ण भरती होते त्याचा प्रत्येक बंदरांत अनुभवाने अंदाज काढून ठेवून, त्यावरून पूर्ण भरतीची वेळ काढावी. तिथीवरून वेळ काढून ती सर्व बंदरांस सारखी लावणे हे चुकीचे आहे. किंसेक बंदरांत तिथीवरून काढलेल्या वेळेत व खऱ्या भरतीच्या वेळेत एक किंवा दोन तासांचे अंतर पडते. प्रत्येक बंदराच्या परिस्थितीवरून वेळेत फेर पडतो तो अनुभवानेच पाहून काढिला पाहिजे. भरतीची कोष्टके\* पूर्ण अनुभव येऊन केलेली असतात. त्यांचा उपयोग केला असतां कोणत्याही प्रसिद्ध बंदरांत आपले गलबत खलाशांस सुरक्षित रीतीने नेता येईल.

\* हीं भरती ओहोटीचीं कोष्टके सरव्हे आफ इंडिया, पार्टि २५ टायडल आडलेव्हर्लिग आपरेशन, डेराइन, यांजकडे मिळतात.



# भाग १६ वा.



## नाविक ज्योतिष.



मार्गील कित्येक भागांत पृथ्वीच्या पृष्ठभागावरील दोन कल्पित मोठ्या वर्तुलापासून—म्हणजे भूमध्यवृत्त व ग्रीनिचमधून जाणारे प्रथम याम्योत्तर-( मध्यान्ह ) वृत्त या कल्पित वर्तुलापासून—गलबताचे अंतर—म्हणजे त्याचे अक्षांश व रेखांश हीं, पृथ्वीवरीलच दुसऱ्या माहीत असलेल्या किंवा नकाशावर दाखविलेल्या स्थलावरून, काढण्याच्या निरनिराळ्या रीति सांगितल्या. त्यांत विशेषतः घडी पाटली, होकायंत्र, बुडिद, व समुद्राचे नकाशे ( चार्टस Charts ) यांचें सहाय्य घ्यावें लागतें, म्हणून त्यांचे उपयोग कसे करावे तें सांगितलें. त्यांत योजिलेल्या सरळ पातळी त्रिकोनमितीनें गणित करण्याच्या रीति बरोबर आहेत; परंतु मापें घेण्याचीं साधनें बरोबर नसल्यामुळे गणितांत चुकी होण्याचा संभव आहे. हें गणित पडताळून पहाण्याकरितां गलबताचे अक्षांश व रेखांश मधून मधून ज्योतिष शास्त्राच्या आधारानें काढितात.

आकाशांतील तारे, ग्रह, व उपग्रह, म्हणजे सूर्यचंद्रादि स्वस्थ पदार्थ, यांचे वेध घेऊन गलबताचे पृथ्वीवरील स्थळ नक्की करणें—म्हणजे त्याचे अक्षांश, रेखांश काढणें—या विद्येस नाविक ज्योतिष

असें म्हणतात. ज्योतिःशास्त्राची नौकागमनाचे उपयोगी जी शाखा ती नाविक ज्योतिष होय.

खस्थ पदार्थांचे वेवें ( मापें ) घेण्याकरितां व त्यावरून गलबताचें स्थळ नक्की करण्याकरितां तुरीय यंत्रें, कृत्रिम क्षितिज, सूक्ष्मकालदर्शक घड्याळें ( क्रानामीटर ) व नाविक पंचांग ( नाटिकल अल्म्यानाक ) यांची जरूर लागते. यांच्या साहाय्यानें खस्थ पदार्थांचें क्षितिजापासून व आकाशांतील दोन मोठीं वर्तुळें म्हणजे विषुवचक्र व आकाशांतील मध्यान्हवृत्त यांपासून, त्यांचें कोनात्मक अंतर काढून त्यावरून गलबताचें पृथ्वीवरील ठिकाण काढण्याच्या रीती पुढें सांगूं! सध्या या विषयास जरूर अशा व्याख्या सांगितल्या पाहिजेत.

## विभाग १ ला.



नाविक ज्योतिषांतील व्याख्या.

१. सरळ पातळी—ज्यास लांबी व रुंदी मात्र असते परंतु जाडी नसते, अशा सपाट क्षेत्रास किंवा पृष्ठभागास सरळ पातळी असें म्हणतात. सरळ पातळी पाहिजे तितकी रुंद व लांब अशी चोहोंकडे वाढवितां येते.

२. विषुवचक्र किंवा आकाशांतील विषुववृत्त.—पृथ्वीवरील भूमध्यवृत्ताची अथवा विषुववृत्ताची पातळी अमर्याद वाढविली असतां ती आकाश गोलस मिळून जें एक मोठें वर्तुळ होईल, त्यास विषुवचक्र किंवा आकाशांतील विषुववृत्त असें म्हणतात.

३.\*क्रांतिवृत्त.—आकाशगोलंत तारांमधून सूर्य एका वर्षात ज्या वर्तुलमार्गानें फिरतोसा दिसतो. त्यास क्रांतिवृत्त म्हणतात. हें एक आकाशातील मोठें वर्तुल आहे. वास्तविक क्रांतिवृत्त हा पृथ्वीचा सूर्याभोंवतीं वार्षिक प्रदक्षिणा करण्याचा मार्ग ( म्हणजे पृथ्वीची कक्षा ) होय. क्रांतिवृत्ताची पातळी विषुववृत्ताच्या पातळीशीं सुमारे  $२३\frac{१}{२}^{\circ}$  अंशाचा कोन करिते. म्हणून सूर्य वर्षातून एक वेळ विषुववृत्ताच्या उत्तरेस  $२३\frac{१}{२}^{\circ}$  पर्यंत व एक वेळ दक्षिणेस  $२३\frac{१}{२}^{\circ}$  अंशपर्यंत जातोसा दिसतो.

\* टीप. क्रांतिवृत्त पृथ्वीच्या पृष्ठभागावर दाखवितां येत नाही. फक्त त्याचा विषुववृत्ताशीं तिरपेपणा मात्र दाखवितात. कारण, पृथ्वी आपल्या आंसाभोंवतीं दररोज एक वेळ फिरते, तेव्हां तिचे पृष्ठभागावरील प्रत्येक बिंदु विषुववृत्ताशीं समांतर अशा वर्तुलांत फिरतो. परंतु क्रांतिवृत्ताची पातळी पृथ्वीबरोबर फिरत नाही. तर पृथ्वी आपल्या आंसाभोंवतीं रोज फिरत फिरत क्रांतिवृत्ताच्या पातळीमधून वर्षातून एक वेळ सूर्याभोंवतीं फिरते. म्हणून क्रांतिवृत्ताच्या पातळीनें पृथ्वीच्या पृष्ठभागावर प्रत्येक दिवशीं उष्ण कटिबंध हा एक पट्टाच ओढिला जातो असें म्हटलें तरी चालेल. त्यामुळे क्रांतिवृत्त पृथ्वीच्या पृष्ठभागावर कायमचें दाखवितां येत नाही. त्याचा विषुववृत्ताशीं तिरपेपणा मात्र तुटक रेषेनें दाखवितात.

पृथ्वीस आपल्या आंसाभोंवतीं फिरण्याची दैनंदिन गति नसते व वर्षातून एक वेळ क्रांतिवृत्तांत सूर्याभोंवतीं फिरण्याची एक वार्षिक गति मात्र असते, तर तिजवर क्रांतिवृत्त कायमचें दाखवितां आलें असतें. आतां पृथ्वीच्या दैनंदिन गतीमुळे तिचे पृष्ठभागावर

क्रांतिवृत्त जरी दाखवितां येत नाही, तरी पृथ्वीच्या कक्षेची पातळी अमर्याद वाढविली असतां ती आकाश गोलस जेथे छेदील तें क्रांतिवृत्त होय व तें तारामधून विषुवचक्राप्रमाणेंच आकाश गोलवर दाखवितां येतें.

३. (अ) क्रांतिसीमा.—पृथ्वीच्या पृष्ठभागावर भूमध्य-वृत्ताशीं समांतर व त्याचें उत्तरेस  $२३\frac{1}{2}^{\circ}$  वर एक, व दक्षिणेस  $२३\frac{1}{2}^{\circ}$  वर एक, अशीं जीं दोन लहान वर्तुळें कल्पिली आहेत त्या क्रांतिसीमा होत. उत्तरेकडील क्रांतिसीमेस कर्कटवृत्त म्हणतात; व दक्षिणेकडील क्रांतिसीमेस मकरवृत्त म्हणतात. हीं वृत्तें सूर्याच्या वार्षिक उत्तरायण व दक्षिणायन या गर्तीच्या अगदीं उत्तरेकडील व दक्षिणेकडील सीमा होत. या दोन वृत्तांमधील प्रदेशांवर सूर्याचे किरण वर्षांतून दोन वेळां लंब पडतात. म्हणून त्यास उष्ण-कटिबंध असें म्हणतात. या प्रदेशांत वर्षभर दिवस व रात्र हीं बहुतेक सारख्याच लांबीचीं असतात.

४. आकाशांतील ध्रुव.—पृथ्वीचा आंस वाढविला असतां तोच आकाशाचा आंस होतो, व तो ज्या दोन बिंदूंत आकाश गोलस मिळतो, तीं त्याचीं टोंकें ते आकाशांतील ध्रुव होत; या आकाशाच्या आंसाभोंवतीं सर्व मचक्र ( आकाशांतील तारामंडळ ) दर २४ तासांत एक वेळ फिरतेसें दिसतें व त्याचीं तीं टोंकें ( आकाशांतील ध्रुव हे ) विषुवचक्रांतील ( आकाशांतील विषुववृत्ताच्या ) प्रत्येक बिंदूपासून  $९०^{\circ}$  अंशावर असतात. त्यांतील पृथ्वीच्या उत्तर ध्रुवासमोरील टोंक, तो आकाशांतील उत्तर ध्रुव, पृथ्वीच्या दक्षिण ध्रुवासमोरील टोंक, तो आकाशाचा दक्षिण ध्रुव होय.



५. स्वस्वस्तिकः.—पहाणाराच्या बरोबर डोक्यावर जो आकाशांतील बिंदु असतो त्यास स्वस्वस्तिक असे म्हणतात. हा बिंदु भूमध्यांतून जाणाऱ्या क्षितिजांतील प्रत्येक बिंदूपासून ९०° अंशावर असतो. स्वस्वस्तिक हा बिंदु पृथ्वीवरील पहाणाराचे स्थल आकाशगोलावर दाखवितो. म्हणून पृथ्वीवरील पहाणारांच्या स्थलांचे अक्षांश व रेखांश काढण्याकरितां जे चंद्रसूर्यादि स्वस्थ पदार्थांचे वेध घेतात त्यांचा उद्देश आपले स्वस्वस्तिक हा आकाशांतील बिंदु, आकाशांतील विषुवचक्र, व ग्रीनिच मधून जाणारे आकाशांतील याम्योत्तर यांचेपासून किती अंतरावर आहे हें नक्की करण्याचा असतो.

६. अधःस्वस्तिकः.—स्वस्वस्तिक हा जसा आपले डोक्यावरील आकाशांतील अगदी वरचा बिंदु आहे तसा त्याचे समोरील अधःस्वस्तिक हा आपले पायाखालील आकाशांतील अगदी खालचा बिंदु होय.

७. दृश्यक्षितिज.—जेथे आकाश व समुद्र अथवा सपाट जमीन हीं मिळालीं आहेत असें दिसते त्या लहान वर्तुलास दृश्यक्षितिज अथवा क्षितिज असें म्हणतात.

८. स्पर्शक्षितिज.—पृथ्वीचे पृष्ठभागास स्पर्श करून पहाणाऱ्यांचे पायाखालून जाणारी सरळ पातळी चोंहोंकडे आकाशास मिळेल अशी अमर्याद वाढविली असतां जें वर्तुल होतें, त्यास स्पर्श क्षितिज असें म्हणावें.

ही पातळी जेथे पृथ्वीच्या पृष्ठभागास स्पर्शकरिते तेथून खाली लंब काढिला तर तो पृथ्वीच्या मध्यबिंदूंतून जातो.

९. भूमध्यक्षितिज.—स्पर्शक्षितिजाशीं समांतर असणारी व पृथ्वीच्या मध्यबिंदूंतून जाणारी सरळ पातळी अमर्याद वाढविली असतां ती जेथे आकाशास मिळेल त्या वर्तुलास भूमध्यक्षितिज असें म्हणावें.

१०. क्षितिजाचा कल.—( क्षितिजनति ) पहाणाऱ्याच्या डोळ्यांपासून दृश्यक्षितिजापर्यंत एक रेषा काढिली असता तिचा स्पर्शक्षितिजाशी जो कोन होतो त्यास दृश्य क्षितिजाचा कल असे म्हणावे.

पहाणाराची उंची जसजशी अधिक होते तसतसे दृश्यक्षितिज हे वर्तुल डोळ्याच्या सपाटीच्या खाली जाते, त्याची त्रिज्या वाढते. म्हणजे ते मोठे होते, व त्याचा कलही वाढत जातो.

११. लंबवृत्त.—( Vertical or Azimuth circles or circles of Altitude ) क्षितिजाशी लंब होऊन स्वस्वस्तिक व अधःस्वस्तिक या आकाशातील दोन्ही बिंदूमधून जाणारी मोठी उर्मी वर्तुलें त्यास लंबवृत्त म्हणारी.

१२. मुख्य लंबवृत्त.—( Prime Vertical ) क्षितिजातील पूर्व व पश्चिम ह्या बिंदूतून जे लंबवृत्त जाते त्यास मुख्य लंबवृत्त म्हणावे. संपात बिंदूत असला म्हणजे सूर्य थेट पूर्वबिंदूत उगवतो, व पश्चिम बिंदूत मावळतो.

१३ संपातबिंदु.—आकाशातील विषुवचक्र व क्रांतिवृत्त ही दोन मोठी वर्तुलें ज्या दोन बिंदूत परस्परांस छेदितात त्या बिंदूस संपातबिंदु असे म्हणतात. क्रांतिवृत्तांत सूर्य फिरत असतांना, प्रतिवर्षी या दोन बिंदूतून एक एकदां जातो असे दिसते. उत्तरेकडे जातांना मार्चच्या २० व्या तारखेस सूर्य ज्या संपातबिंदूत येऊन उत्तर गोलार्धात शिरतो त्यास वसंतसंपात, मेषसंपात किंवा उत्तरसंपात असे म्हणतात. त्या वेळीं वसंतऋतु असतो. सूर्य दक्षिणगोलार्धात जातांना सप्टेंबरच्या २२ तारखेच्या सुमारास ज्या संपातांत असतो त्यास शरत्संपात, तुलासंपात, अथवा दक्षिणसंपात

असें म्हणतात. या वेळीं शरदऋतु असतो. संपातबिंदूंत सूर्य असतो त्या दिवशीं सर्व पृथ्वीवर दिवसाएवढीच रात्र असते. म्हणजे बरोबर १२ तासांचा दिवस व बारा तासांचीच रात्र असते.

१४. अयनांत बिंदु किंवा (सायन) मुख्यसंक्रमण बिंदु.— (Solstices) क्रांतिवृत्तांत, म्हणजे सूर्याच्या वार्षिक गमनमार्गांत, संपातबिंदूपासून ९० अंशावर जे दोन बिंदु असतात त्यांस अयनांत बिंदु म्हणावे. हेच सायन मुख्य संक्रमणबिंदु होत. ह्या बिंदूंत सूर्य आला म्हणजे तो विषुवचक्रापासून अतिशय दूर म्हणजे सुमारे २३<sup>३</sup>° उत्तरेकडे व तितकाच दक्षिणेकडे असतो, व त्या वेळीं तो तेथे क्रांतिसीमावृत्तास स्पर्श करितोसा दिसतो. डिसेंबरच्या २१ व्या तारखेचे सुमारास सूर्य दक्षिणायनांत बिंदूंत असतो व त्या दिवशीं सायन मकरसंक्रांति होते. तेव्हां हिवाळा असतो. जूनच्या २१ व्या तारखेचे सुमारास सूर्य उत्तरायणांत बिंदूंत असतो. तेव्हां उन्हाळा असतो व त्या दिवशीं सायन कर्कसंक्रांति होते.

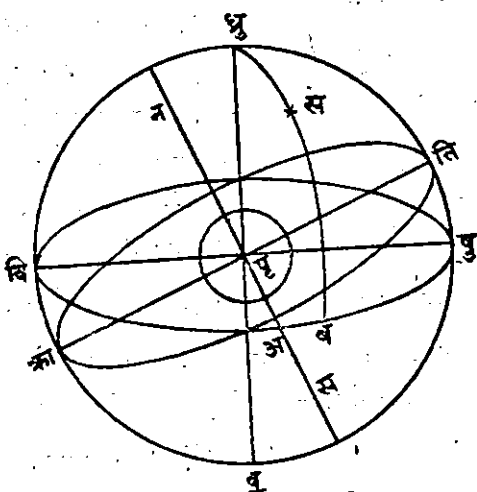
१५. क्रांति.—आकाशांतील तारादिकांचे विषुववृत्तापासून उत्तरेकडे किंवा दक्षिणेकडे जें अंतर त्यास क्रांति म्हणावे. हें पृथ्वीवरील अक्षांशासारखें आहे. व तें त्या तारादिस्वस्थ पदार्थांतून जाणाऱ्या आकाशांतील याम्योत्तरावर मोजितात.

१६. मेषसंपात.—( First Point of Aries ) आकाशांतील विषुवचक्र व क्रांतिवृत्त यांचा दोन संपात-बिंदूंत छेद होतो त्यांपैकी वसंत संपातबिंदूंत जो छेद होतो, त्यास मेषसंपात ( किंवा प्रथमसंपात ) म्हणतात. कांहीं कालापूर्वी वसंतसंपात मेष राशींत होता, परंतु तो हळुहळू चलन पावत आहे, तरी त्याला अजून मेषसंपात असेंच म्हणतात.

१७. \*विषुवांश.—आकाशांतील तारादिकांचे मेषसंपातापासून पूर्वेकडे विषुवचक्रावर मापिलेलें अंशकलात्मक अंतर यास विषुवांश म्हणतात. यास इंग्रजीत राइट असेन्शन ( Right Assension ) म्हणतात. व ३६० अंशांचे २४ तास घळून ते कलाक, मिनिटें, सेकंड असें दाखवितात.

“ वसंतसंपात आणि ध्रुव ह्यांतून जाणारें जें वृत्तार्ध तें आकाशांतलें मुख्य याम्योत्तर वृत्त होय. ह्यापासून ( पूर्वेस मोजिल्लें ) आकाशस्थ ज्योतीचें जें अंतर त्यास विषुवांश म्हणतात. हें अंतर तारेवरून जाणारा लंब, विषुववृत्तास जेथें छेदितो, तो बिंदु आणि वसंतसंपात ह्यांमध्ये विषुववृत्तावर मोजितात. हें त्या संपातापासून पूर्वेस मोजितात.”

या व्याख्यांचें स्पष्टीकरण— ज्योतिर्विलास. ( पृष्ठ २९. )

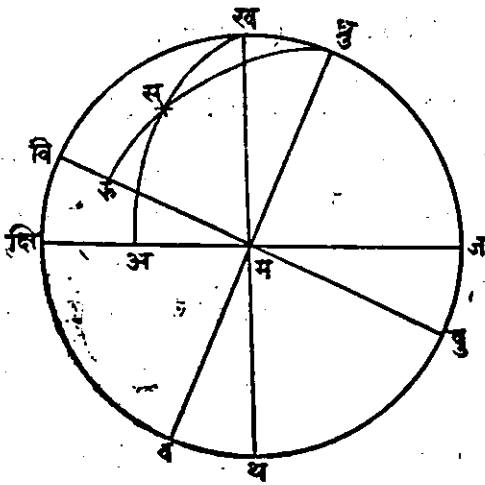


आकृति १ ली.

बाजूस काढिलेली आकृति हा आकाश गोलाचा एका सरळ पातळीवर काढिलेला ( परस्पेटिव्ह ब्यु Perspective view ) देखावा आहे असें समजा. त्यांत पृ ही पृथ्वी आहे. वि अ पु हें विषुवचक्र आहे. ध्रु आणि व हे त्याचे ध्रुव आहेत. क्रा अ ति हें क्रांतिवृत्त आहे.

टीप:—( विषुवांश हे पृथ्वीवरील रेखांशासारखे आहेत व मेषसंपात हा बिंदु पृथ्वीवरील ग्रीनिच स्थलासारखा आहे. कारण, त्यांतून आकाशांतील प्रथम याम्योत्तर जातें. )

क्रांतिवृत्त विषुववृत्तास दोन बिंदूंत छेदितें. त्यांतील एक अ हा बिंदु विषुवसंपात किंवा मेषसंपात आहे असें माना. स हा सूर्य अगर एक तारा आहे असें समजा. स मधून स व हा विषुववृत्तावर लंब काढा. तर अ व हें विषुवांश ( मेषसंपातांतर ) होय. व स ही त्याची क्रांति होय व स ध्रु हें त्याचें ध्रुवांतर होय.



आकृति २ री.

आकृति २ री हें आकाश गोलाचे मध्यान्ह-वृत्ताच्या पातळीवर काढिलेले चित्र ( प्रोजेक्शन Projection ) आहे. ध्रु, वि व पु ज हें एक याम्योत्तर अथवा मध्यान्हवृत्त आहे. क्षि ज हें पहाणारांचें क्षितिज आहे. क्षि हा दक्षिणबिंदु आणि ज

हा उत्तरबिंदु आहे. म हा क्षितिजांतील पूर्व किंवा पश्चिम बिंदु आहे असें समजा. ध्रुव हा आकाशाचा अक्ष किंवा आंस आहे; ध्रु हा उत्तर ध्रुव आणि व हा दक्षिण ध्रुव आहे. विषु हें आकाशाचें विषुवचक्र आहे. ख हें खस्वस्तिक आणि घ हें अधःस्वस्तिक, ख, म, घ, हें पहिलें किंवा ( Prime Vertical ) मुख्य लंबवृत्त होय. म हा पृथ्वीचा व आकाश गोलाचा मध्य आहे, व स हा एक आकाशांतील तारा किंवा स्वस्थ पदार्थ आहे असें समजा; तर



समजां. तर अं स ही त्या पदार्थाची उंची होय. स ख हें त्याचें खस्वस्तिकांतर होय. ध्रु स क हें समधून जाणारें याम्योत्तर काढिलें असतां तें विषुववृत्तास कमध्ये छेदितें. तर क स ही सची क्रांति होय व स ध्रु हें त्याचें ध्रुवांतर होय.

१८. वक्रीभवन.—आकाशातील तारादिकांचे किरण पृथ्वीच्या वातावरणाच्या जाड थरांत शिरतांना ते त्या स्थळीं वातावरणांत काढलेल्या लंबाकडे किंचित् आकर्षिले जातात. त्यामुळें ते स्वस्थ पदार्थ असतील त्याहून अधिक उंच दिसतात; याप्रमाणें पातळ द्रव्यांतून घनद्रव्यांत जातांना किरण बांकडे झाल्यामुळें तारादिकांच्या पाहिलेल्या उंचींत व खऱ्या असणाऱ्या उंचींत जो फेर पडतो, त्यास वक्रीभवन असें म्हणतात. स्वस्थ पदार्थ क्षितिजाजवळ असतांना वक्रीभवन फार असतें, व तें कमी कमी होत खस्वास्तिकाशीं अगदीं नाहींसें होतें.

१९. लंबन.—स्वस्थ पदार्थ, पृथ्वीच्या पृष्ठभागावरून, व त्याच वेळीं पृथ्वीच्यामध्यबिंदूंतून, पाहिलें असतां त्यांच्या दर्शनरेषांत जो कोन होतो त्यास लंबन असें म्हणावें. हा कोन, त्या स्वस्थ पदार्थाच्या मध्यापासून पृथ्वीवरील पहाणाऱ्याच्या ठिकाणच्या पृथ्वीच्या त्रिज्येच्या दोन टोंकांपर्यंत दोन सरळ रेषा काढिल्या असतां त्यांच्यामध्ये, त्या स्वस्थ पदार्थाच्या मध्याशीं जो कोन होतो, त्याचेएवढा असतो. हा कोनही वक्रीभवनाप्रमाणें क्षितिजाशीं मोठा असतो व ख स्वस्तिकीं नाहींसा होतो. कारण, पहाणाऱ्याच्या ठिकाणची पृथ्वीची त्रिज्या वाढविली असतां ती खस्वस्तिकामधून जाते. म्हणजे खस्वस्तिकीं असणाऱ्या स्वस्थ पदार्थाच्या मध्यांतून पृथ्वीवरील पहाणाराच्या ठिकाणच्या भू-त्रिज्येचीं दोन टोंकें सांधणारी एकच सरळ रेषा असते त्यामुळें कोन होत नाहीं.

२०. स्पष्ट अथवा दृश्य रवि.—खरा सूर्य जो पृथ्वीच्या दैनं-  
दिन गतीमुळे रोज पृथ्वीभोंवती फिरतोसा दिसतो, व जो पृथ्वीच्या  
वार्षिक गतीमुळे तारांमधून वर्षातून एक प्रदक्षिणा करतोसा दिसतो  
तो स्पष्ट अथवा दृश्य रवि होय.

२१. मध्यमरवि.—पृथ्वी आपल्या कक्षेत एक वर्षात सूर्या-  
भोंवती फिरतांना तिची गति कांहीं वेळ मंद व कांहीं वेळ जलद होते.  
उत्तर गोलार्धातील हिवाळ्यांत ती फार जलद चालते व तेथील उन्हा-  
ळ्यांत ती फार सावकाश चालते; त्यामुळे स्पष्ट सूर्य कांहीं वेळ जलद  
व कांहीं वेळ मंद चालतोसा दिसतो. परंतु ज्योतिष्यास सारखा वेळ  
मोजण्याचें कांहीं साधन पाहिजे म्हणून स्पष्ट रवि आपल्या अनिय-  
मित गतीनें क्रांतिवृत्तांत फिरत असतां त्याचे वार्षिक गतीचें मध्यम  
मान काढून त्या गतीनें विषुववृत्तांत एक कल्पित सूर्य फिरत आहे  
असें मानितात, त्यास मध्यम रवि असें म्हणतात. पृथ्वीच्या अनिय-  
मित वार्षिक गतीमुळे हा मध्यमरवि पहाणाऱ्याच्या मध्यान्हवृत्तावर  
दृश्य ( स्पष्ट ) रवीच्या कर्धी आर्धी येईल व कर्धी मागून येईल.

२२. स्पष्टकाल.—स्पष्ट अथवा दृश्य रवि कोणत्याही ठिका-  
णच्या मध्यान्हवृत्तापासून पश्चिमेकडे किती गेला तो कोण ज्या  
कालानें दाखवितात त्यास स्पष्टकाल असें म्हणतात.

२३. मध्यमकाल.—कोणत्याही ठिकाणच्या मध्यान्हवृत्तापासून  
मध्यमरवि पश्चिमेस किती गेला तो कोण ज्या कालानें दाखवितात  
त्यास मध्यमकाल म्हणतात.

२४. कालसमीकरण किंवा कालभेद.—स्पष्ट काल व मध्यम-  
काल यांच्यामधील जें अंतर त्यास कालसमीकरण किंवा काल-  
भेद म्हणतात.



# नाविक ज्योतिष.

विभाग २ रा. यंत्रसाधने व नाविक पंचांग.

( १ ) कमान.—सेक्सटंट, किंवा वर्तुल षष्ठांशयंत्र, व काडूट किंवा तुरीययंत्र.

षष्ठांशयंत्र व तुरीययंत्र हीं दोन पदार्थीमधील कोन मापण्याचीं दोन यंत्रें आहेत. या दोहोंसही खलाशी लोक कमान असें म्हणतात. या दोन्ही यंत्रांत दोन आरशांच्या साह्यानें एका पदार्थाचें प्रतिबिंब दोन वेळां परावर्तन करून तें दुसऱ्या पदार्थावर पाडितात व त्यावेळीं त्या दोन आरशांमध्ये जो कोन होतो तो मापितात, व त्यावरून त्या दोन पदार्थीमधील कोन काढितात. या दोहोंचाही उपयोग विशेषतः क्षितिजापासून स्वस्थ पदार्थांची ( म्हणजे तारादिकांची ) उंची मापण्याकडे, किंवा स्वस्थ पदार्थांचीं कोनात्मक अंतरें मापण्याकडे करितात.

षष्ठांशयंत्रातील अंशकला मापणारा कंस ( किंवा कमान ) हा वर्तुलाचा सहावा भाग म्हणजे ६० अंशाचा असतो तरी त्यावर दोन परावर्तक आरशांच्या योगानें १२० अंशापर्यंत कोन मापितां येतात.

तुरीययंत्र हा वास्तविक वर्तुलाचा आठवा भाग असतो तरी त्यावर दोन परावर्तक आरशांच्या योगानें ९० अंशापर्यंत कोन मापितां येतात.

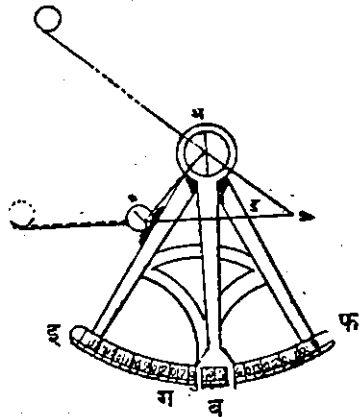
दर्शनानुशासनाच्या ज्या नियमांच्या आधारेणें षष्ठांशयंत्रें करितात त्याच नियमांच्या आधारेणें तुरीययंत्रें करितात. फक्त कोन मापणाऱ्या दोहोंच्या कंसाच्या कोनात्मक लांबीतमात्र वर सांगितलेला फेर असतो. इतर सर्व भाग सारखेच असतात. व एकाचें वर्णन केलें असतां तें दुसऱ्यासही लागू पडतें म्हणून यथें षष्ठांशयंत्राचेंच ( सेक्सटंटचेंच ) वर्णन करूं.

दर्शनानुशासन शास्त्रांतील ज्या नियमांच्या आधारे सेक्सटंट व क्राइंट तयार करितात ते नियमः—

नियम १ ला.—एका सरळ व परावर्तक पातळीवर प्रकाशाचे किरण पडले असतां ते त्या पातळीशीं पडतांना जेवढा कोन करितात तेवढाच कोन करून परावर्तन पावतात व ते मूळ किरण आणि त्यांचें परावर्तन पावलेले किरण हे एकाच सरळ पातळीत असतात. म्हणजे पतन कोन परावर्तन कोनावरोबर असतो व मूळ किरण व त्यांचें परावर्तन हीं एकाच सरळ पातळीत असतात.

नियम २ रा.—दोन सपाट आरशांवरून एक किरण दोन वेळां एकाच सरळ पातळीमध्ये परावर्तन पावला तर त्या मूळ किरणांत व त्याच्या दुसऱ्या वेळीं परावर्तन पावलेल्या किरणांत जो कोन होतो तो, त्या दोन आरशांच्या पातळ्यांमधील कोनाच्या दुप्पट असतो.

सेक्सटंट किंवा षष्ठांशयंत्रः—( किंवा कमान ) आकृतीमध्ये अ ई फ हें षष्ठांशयंत्र आहे. त्यावरील कोन मापण्याचा कंस ( कमान ) ईफ हा वर्तुलाचा षष्ठांश ( सहावा भाग ) म्हणजे ६० अंशाचा आहे. तरी त्यावर १२० अंशांचे भाग पाडिलेले असतात व त्या प्रत्येक अंशाच्या भागाचे ४ किंवा ६ विभाग करितात,



म्हणजे ते १५ किंवा १० कला दाखवितात. या भागांनीं वास्तविक पहातां सेक्सटंटच्या ( षष्ठांशयंताच्या ) दोन आरशांच्या पातळ्यांमधील कोन मापिला जातो; परंतु दुसऱ्या नियमाप्रमाणें सेक्सटंटने पाहिलेल्या दोन पदार्थांमधील कोन त्या आरशांमधील कोनाच्या दुप्पट असतो व आपणांस त्या पदार्थांमधील कोन मापावयाचा असतो म्हणून आरशांनीं दाखविलेल्या कोनाचे दुप्पट भाग करितात, म्हणजे आरशांमधील अर्ध्या अंशास एक अंश मानितात व त्या प्रमाणें एकंदर ६० अंशांचे १२० भाग करून त्यांनीं त्या आरशांमधून दिसणाऱ्या दोन पदार्थांमधील कोन एकदम वाचितात. याप्रमाणें सेक्सटंटची ई फ कमान जर वर्तुलाचा ७० अंशांची असेल, तर तिजवर १४० अंश दाखवितात व त्यांनीं १४० अंशापर्यंतचा दोन पदार्थांमधील कोन मापतां येतो. अ व ही एक त्रिज्या किंवा कोन मापणारी पट्टी ई फ कंसाच्या अ मध्याभोंवतीं फिरणारी आहे; ह्या कोनमापक पट्टीच्या अ टोंकाशी ( म्हणजे सेक्सटंटच्या मध्यावर ) एक आरसा सेक्सटंटच्या पातळीवर लंब होईल असा बसविलेला असतो. त्यास कोनदर्शक अरसा म्हणावें. व ब टोंकाशी ई फ कंसावरील विभागाचे भाग किंवा प्रतिभाग वाचणारे एक व्हरनियर ( सूक्ष्मविभाग दर्शकपट्टी ) बसविलेले असतें; त्यानें १५ किंवा १० विकला दाखविल्या जातात. क ह्या ठिकाणीं एक आरसा बसविलेला असतो त्याला क्षितिजदर्शक आरसा म्हणावें. ह्या आरशाच्या फक्त अर्ध्या भागासच पारा लाविलेला असतो. व अर्धा भाग क्षितिज अगर ज्याच्याशी कोन मापावयाचा आहे, तो पदार्थ पहाण्याकरितां पारदर्शक ठेविला असतो. हा क्षितिजदर्शक आरसाही सेक्सटंटच्या पातळीवर लंब होईल असा बसविलेला असतो, व कोन

मापक पट्टी ज्या वेळीं ० अंश दाखविते त्या वेळीं क्षितिजदर्शक आरसा ( क ) हा कोनदर्शक ( अ ) आरशाशी बरोबर समांतर होईल असा बसविलेला असतो. ड ह्या ठिकाणी एक गोलपट्टा किंवा कडी बसविलेली असते त्यांत, कोन पाहतांना एक नळी किंवा दुर्भिण ठेवून त्यांतून पहावें. क्षितिजदर्शक आरशाच्या पुढें व मागे रंगित कांचा बसविलेल्या असतात. सूर्यासारखा फार तेजस्वी पदार्थ पाहतांना त्यांपैकी पाहिजे तितक्या कांचा फिरवून मध्ये अणाव्या व त्यांमधून पहावें. म्हणजे डोळ्यांस त्रास होत नाही.— आतां दृश्य—क्षितिजावर सूर्याची उंची किती आहे ती एक विद्यार्थी मापीत आहे असें समजा. तर त्यानें प्रथम ब व्हरनियर इफ कंसावरील ० शून्यांशावर आणावें; व सेकस्टंट ( कमान ) नीट उभा ओळंब्यांत घरून ड ठिकाणी ठेवलेल्या नळींतून व क्षितिजदर्शक आरशांतून सूर्याकडे पहावें म्हणजे त्यास क्षितिजदर्शक ( क ) आरशाच्या पारदर्शक भागांतून खरा सूर्य दिसेल व पारा लाविलेल्या भागांतून ( अ ) आरशावरून पडलेलें सूर्याचें प्रतिबिंब दिसेल. ( सूर्याचें तेज कमी करण्याकरितां पाहिजे तितक्या रंगित कांचा आधीच आरशापुढें आणाव्या ) कारण, व्हरनियर शून्य कोन दाखवीत असले म्हणजे कोणताही पदार्थ नळींतून पाहिला असतां तो पदार्थ व त्याचें प्रतिबिंब हीं एकेच ठिकाणीं दिसतात; आतां विद्यार्थ्यानें कोनमापक पट्टी भाग पाडिलेल्या कंसावर हळूहळू फिरवावी व सूर्याचें ( अ ) आरशावरून परावर्तन पावलेलें प्रतिबिंब क्षितिजदर्शक ( क ) आरशाच्या पारा लाविलेल्या भागांत दिसेल अशा रीतीनें सेकस्टंटही हळूहळू उभ्या पातळींत फिरवावा म्हणजे त्यास ( क ) आरशाच्या पारदर्शक भागांतून खरें सूर्याबिंब दिसेनासें

होऊन शेवटी क्षितिज दिसू लागेल. याप्रमाणे सूर्याचे प्रतिबिंब क्षितिजाशी लागलेले दिसले म्हणजे विद्यार्थ्यांनी व्हरनियरच्या पाठीमागे असलेल्या स्कूने ते व्हरनियर भाग पाडलेल्या ( ई फ ) कंसाशी गच्च बसवावे, फिरू देऊ नये. नंतर ( ग ) हा स्पर्श स्कू फिरवून सूर्याच्या प्रतिबिंबाची खालची कोर क्षितिजास फक्त स्पर्श करील अशी ठेवावी, व व्हरनियर वरील शून्य दाखविणारा भाग कंसावरील किती अंश—कला दाखवितो ते पहावे, व सूक्ष्मविभागदर्शक पट्टीने बरोबर कला व विकला पहाव्या. हा व्हरनियरने दाखविलेला कोन, सूर्यबिंबाच्या खालच्या कोरेची क्षितिजापासून किती उंची आहे ते दाखवितो.

**सेक्स्टंट ( कमान ) किंवा षष्ठांशयंत्र बरोबर लावणे:—**

सेक्स्टंट किंवा कमान करणारा सेक्स्टंटचा पुढील भाग काळजीपूर्वक एका सरळ पातळीत राखतो. कोनमापक पट्टी भाग पाडलेल्या कंसाच्या मध्यबिंदूत बरोबर बसवितो, कमानाचे भाग बरोबर पाडतो, व दुर्भिण किंवा नळी बसविण्याकरितां जो पट्टा बसविलेला असतो तो अशा बेताने बसविलेला असतो की, त्यांतून जाणारे प्रकाशाचे किरण सेक्स्टंटच्या पुढील भागाच्या पातळीशी समांतर असतात. हा पट्टा पुढे मागे करून प्रकाशाचे किरण सेक्स्टंटच्या पातळीशी समांतर राहतील असे करण्याकरितां कित्येक सेक्स्टंटमध्ये पट्ट्यास स्कू बसविलेले असतात. परंतु त्यांची फारशी जरूर पडत नाही. म्हणून बहुतेक सेक्स्टंटमध्ये पट्टा कायम बसविलेला असतो. वरील चार गोष्टी सेक्स्टंट करणाऱ्याने बरोबर लक्ष्य देऊन केलेल्या असतात. कमान वापरणारास कमानांत फक्त पुढील तीन बाबती-

बरोबर आहेत किंवा नाहीत ते पहावयाचे असते व बरोबर नसतील तर त्याबरोबर करून घ्यावयाच्या असतात:—

१ ली बाबत:—कमानीच्या पातळीशी कोनदर्शक आरसा लंब करणे.

२ री—कमानीच्या पातळीशी क्षितिजदर्शक आरसा लंब करणे.

३ री—व्हरनियर ( सूक्ष्मविभागदर्शकपट्टी ) वरील शून्य दाखविणारा भाग, कमानीवरील शून्य दाखविणाऱ्या भागावर असला म्हणजे, क्षितिजदर्शक आरसा कोनदर्शक आरशाशी समांतर करणे.

या तिन्ही बाबती पाहून कमान बरोबर आहे किंवा नाही ते कसे पहावे व बरोबर नसल्यास बरोबर करून घेऊन कमान कशी सुधारावी ते प्रत्येक बाबीचे क्रमाक्रमाने वर्णन करून सांगू:—

१ ली बाबत:—कमानीच्या पातळीशी कोनदर्शक आरसा लंब करणे—कोन मापकपट्टी भाग पाडलेल्या (कंसाच्या) कमानीच्या मध्यभागी आणावी व कमान ( सेक्स्टंट ) भाग पाडलेली बाजू वर करून आडवी धरावी. नंतर कोनदर्शक आरशामधून भाग पाडलेला अर्धा कंस ( कमान ) दिसेल असे तिरपे पहावे. जर आरशामधून दिसलेला कंसाचा (कमानीचा) भाग खऱ्या कंसाच्या रेषेत दिसला—मध्येच तुटल्यासारखा किंवा वांकडा झालेला दिसला नाही—तर आरशांतून दिसणारा, भाग व खरा कमानीचा भाग हे एकाच सरळ पातळीत असतात व तो आरसा त्या पातळीवर लंब असतो. परंतु हे कंसाचे दोन भाग एकाच पातळीत दिसले नाहीत. मध्ये तुटल्यासारखे किंवा वांकडे झाल्यासारखे दिसले तर कोनदर्शक आरशाच्या पाठीमागील बैठकीत जे स्कू असतात, ते सखत अगर ढिले करून कमानीचे दोन्ही भाग एकाच पातळीत आरशांतून दिसतील असे करावे म्हणजे कमानीच्या पातळीशी कोनदर्शक आरसा लंब होतो.

२ री—कमानीच्या पातळीशीं क्षितिजदर्शक आरसा लंब करणें.

क्षितिजदर्शक आरसाही ( सेक्स्टंटच्या ) कमानीच्या पातळीशीं लंब असला पाहिजे. तो लंब आहे किंवा नाहीं हें पाहण्यास भाग पाडलेल्या कंसावरील शून्याच्या रेषेवर व्हरनियरवरील शून्याची रेखा आणावी व व्हरनियर कमानीशीं मार्गाल स्क्रूनें बंद करावे ( कमानीवर फिरूं देऊं नये ) नंतर एक साधी नळी किंवा लहान दुर्भिण गोलपट्ट्यांत बसवावी. व तिजमधून, कमान आडवी क्षितिज समांतर घरून तिचें तोंड एक वेळ वर असतांना व एक वेळ खालीं असतांना क्षितिजदर्शक आरशामधून क्षितिजाकडे पहावें. कमान अशा बेतानें आडवी धरावी कीं, क्षितिजदर्शक आरशाच्या पारा लावलेल्या भागावर क्षितिजाचें परावर्तन दिसावें व पारदर्शक भागांतून खरें क्षितिज दिसावें. याप्रमाणें नळींतून व क्षितिजदर्शक आरशांतून क्षितिज व त्याचें परावर्तन हीं एक वेळ कमानीचें तोंड वर करून व एक वेळ खालीं करून अशीं दोन वेळां पहावीं. आतां दोन्ही वेळां जर क्षितिज आणि त्याचें परावर्तन हीं एकाच सरळ रेषेंत दिसलीं त्यांत तुटकपणा किंवा वांक दिसला नाहीं तर क्षितिजदर्शक आरसा कमानीच्या पातळीवर लंब आहे असें समजावें खरें क्षितिज व त्याचें परावर्तन हीं एक सरळ रेषेंत न दिसतील तर क्षितिजदर्शक आरशाच्या पाठीमागें एक स्क्रू असतो तो फिरवून खरें क्षितिज व त्याचें परावर्तन हीं एका रेषेंत दिसतील असें करावें म्हणजे क्षितिजदर्शक आरसा कमानीच्या पातळीवर लंब होईल.

३ री बाबत—व्हरनियरवरील ( सूक्ष्मविभागदर्शक पट्टीवरील )

शून्याची रेघ ही कमानीवरील शून्याच्या रेघेवर असली म्हणजे क्षितिजदर्शक आरसा कोनदर्शक आरशाशी समांतर करणें.

ज्या वेळीं व्हरनियर ( सूक्ष्मविभागदर्शक पट्टी ) भाग पाडिलेल्या कंसावर किंवा कमानीवर शून्य कोन दाखवितें, तेव्हां क्षितिजदर्शक आरसा व कोनदर्शक आरसा यांच्यामध्येही शून्य कोन असला पाहिजे म्हणजे त्याच्यामध्ये कोन नसावा; म्हणजे तें समांतर असावें. ( कारण ते एका सरळ रेषेत असत नाहींत. ) जर ते समांतर नसतील तर वरच्याप्रमाणेंच ( व्हरनियरवरील शून्याची रेघा भाग पाडलेल्या कंसावरील शून्याच्या रेघेवर आणून मागील स्कूनें व्हरनियर बंद करावें ) गोल पट्ट्यांत साधी नळी किंवा लहान दुर्भ्रंश बसवून तिजमधून व क्षितिजदर्शक आरशाच्या पारदर्शक भागामधून क्षितिजाकडे अगर दुसऱ्या एकाद्या पदार्थाकडे पाहवें. परंतु या वेळीं सेकस्टंट उभा धरावा आडवा घळू नये, व ज्या पदार्थाकडे आपण पाहूं तो पदार्थ व त्याचें प्रतिबिंब हीं एकाच ठिकाणीं दिसलीं. त्यामध्ये वांक किंवा तुटकपणा दिसला नाहीं. तर ते आरसे समांतर आहेत असें समजावें. जर याप्रमाणें पाहिलेला पदार्थ व त्याचें प्रतिबिंब हीं एक ठिकाणीं दिसलीं नाहींत, तर क्षितिजदर्शक आरशाच्या मागे एक स्कू असतो तो ढिला किंवा सखत करून तो पदार्थ व त्याचें प्रतिबिंब आरशांतून एके ठिकाणीं दिसेल असें करावें. म्हणजे ते आरसे शून्य कोन वाचतांना समांतर होतात. कित्येक सेकस्टंटना हा स्कू नसतो. अशा सेकस्टंटच्या स्पर्श स्कूनें ( टांजट स्कूनें ) व्हरनियर किंचित् फिरवून नळीमधून पाहिलेला पदार्थ व त्याचें प्रतिबिंब हीं एके



ठिकाणी दिसतील असें करावें, व त्या वेळीं व्हरनियर वरील शून्य व कमानी ( कंसा ) वरील शून्य यांच्यामध्ये किती अंशकलांचें अंतर आहे तें पहावें. हें जें अंशकलात्मक अंतर असेल त्याला कोनमापन चुकी असें म्हणावें. व तें अंतर, व्हरनियरवरील शून्य कमानीवरील शून्याच्या बाहेर गेलेलें असेल तर त्या सेक्स्टंटने पाहिलेल्या प्रत्येक कोनांत मिळवावें, व जर व्हरनियरवरील शून्य कमानीच्या ( कंसाच्या ) आंत असेल तर वजा करावें. म्हणजे पाहिल्या प्रकारच्या सेक्स्टंटमध्ये कोनमापन चुकी धन समजून त्यानें पाहिलेल्या प्रत्येक कोनांत ती मिळवावी व दुसऱ्या प्रकारच्या सेक्स्टंटमध्ये ती चुकी ऋण समजून त्यानें पाहिलेल्या प्रत्येक कोनांत ती वजा करावी.

( २ ) कृत्रिम क्षितिज.—जेव्हां जमिनीवरून सूर्यचंद्रादि स्वस्थ पदार्थांची उंची पहावयाची असते व क्षितिजाशीं समुद्र नसतो परंतु डोंगर, झाडी किंवा दग असल्यामुळे खरें क्षितिज दिसत नाहीं. त्या वेळीं कृत्रिम क्षितिजाचा उपयोग करितात. कृत्रिम क्षितिज ही एक क्षितिजसमांतर सरळ पातळी असते. तिचा पृष्ठभाग चकचकीत असून परावर्तक असतो त्यामुळे सूर्यचंद्रादि स्वस्थ पदार्थांचे किरण त्यावर पडून परावर्तन पावतात. ते परावर्तन पावलेले किरण व मुळचे किरण यांच्यामध्ये जो कोन होतो, तो त्या मूळ किरणांचा क्षितिजाशीं जो कोन होतो त्याचे दुप्पट असतो. परावर्तन पावलेले किरण व मूळ किरण यांच्यामधील कोन सेक्स्टंटने मापितात व त्यांवरून त्या पदार्थांची क्षितिजापासून उंची काढितात.

परातीसरख्या एका उथळ भांड्यामध्ये पारा, काकवी, डांबर,

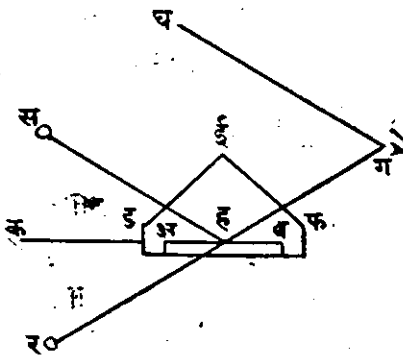
तेल किंवा दुसरा कांहीं किंचित् प्रवाही पदार्थ ठेविला असता त्याचा पृष्ठभाग क्षितिजसमांतर रहातो व तेंच कृत्रिम क्षितिज होय. हा पृष्ठभाग वाऱ्यानें हलं नये म्हणून त्यावर पातळ मलमलीचे, तारेच्या कापडाचे, किंवा कांचेचे झांकण करितात. कांचेचे झांकण केल्यास ती कांच सपाट व सारख्या जाडीची असावी, म्हणजे तिचे दोन्ही पृष्ठभाग एकमेकांशीं समांतर असावे व ती पूर्ण पारदर्शक असावी. कधी कधी क्षितिजसमांतर ठेवलेल्या आरशाचा कृत्रिम क्षितिजासारखा उपयोग करितात. परंतु तो स्फूंच्या योगानें बरोबर क्षितिजसमांतर राखावा लागतो.

परंतु सर्वांत उत्तम कृत्रिम क्षितिज म्हटलें तर तें एका कांचेच्या उथळ ताटांत किंवा बर्शांत शुद्ध पारा घालून केलेलें होय. ह्या पाऱ्याचा पृष्ठभाग सदोदित क्षितिजसमांतर रहातो व साधारण वाऱ्यानें फार हालत नाही, तरी त्यावर सरळ कांचांचें झांकण करावें लागतें.

याप्रमाणें एक प्रकारचें कृत्रिम क्षितिज तयार करून तें एका शांत व निर्वात जागीं ठेवावें; व पहाणारानें, कोणत्याही स्वस्थ पदार्थाकडे तोंड करून तो स्वस्थ पदार्थ व कृत्रिम क्षितिजावरून पाहिलेलें त्याचें प्रतिबिंब हीं एकदम दिसतील अशा रीतीनें लांब बसावें. नंतर सेकस्टंटच्या पट्ट्यामध्ये नळी किंवा दुर्भिण बसवून कोनमापकपट्टीच्या व्हरनियरवरील शून्य कमानीवरील शून्यावर आणावें; व मागील स्फूनें व्हरनियर बंद करावें. नंतर सेकस्टंट उभा धरून क्षितिजदर्शक आरशांतून सूर्याकडे अगर पाहिजे त्या स्वस्थ पदार्थाकडे पहावें. नंतर सेकस्टंट तसाच उभा धरून व्हरनियरचा स्फू दिला करून तें हळूहळू विभागलेल्या कंसावर फिरवावें व त्याप्रमाणें

हळूहळू सेक्संटही फिरवावा; तो असा की, सूर्याचे प्रतिबिंब क्षितिजदर्शक आरशाच्या बाहेर जाऊं देऊं नये. याप्रमाणें व्हरनियर फिरवीत फिरवीत क्षितिजदर्शक आरशाच्या पारा लाविलेल्या भागांतून सूर्याचे कोनदर्शक आरशावरून परावर्तन पावलेलें प्रतिबिंब व पारा न लावलेल्या भागांतून कृत्रिम क्षितिजावरून परावर्तन पावलेलें सूर्याचे प्रतिबिंब हीं एकमेकांस स्पर्श करूं लागलीं म्हणजे व्हरनियर, मागील स्कूने बंद करावें व स्पर्शस्कूने, एका प्रतिबिंबाची खालची कोर दुसऱ्या प्रतिबिंबाच्या वरच्या कोरस बरोबर स्पर्श करील असें करावें व त्या वेळीं भाग पाडलेल्या कंसावरील व्हरनियरनें दाखविलेला कोन पहावा. त्यांत सेक्संटची कोनमापन चुकी मिळवून अगर वजा करून येईल त्याचे अर्ध करावें म्हणजे तो त्या स्वस्थ पदार्थाचा क्षितिजार्शा कोन किंवा त्याची क्षितिजावरील कोनात्मक उंची होईल.

कृत्रिम क्षितिजावरून स्वस्थ पदार्थाची उंची कशी पहावी, व पाहिलेल्या कोनाचे अर्ध कां करावें तें पुढील आकृतीवरून कळेल.



आकृति ५१.

समांतर पृष्ठभाग आहे व तो क पर्यंत वाढविला आहे, असें समजा. ड ई फ हे त्या कृत्रिम क्षितिजावरील झांकण आहे व त्यांत डई आणि ई फ ह्या दोन साफ व सरळ अशा कांचा बसविल्या आहेत स हा सूर्य आहे. व त्याची क्षितिजापासून उंची किती

आहे ती आपणांस काढावयाची आहे असें समजा. आतां स ह हा किरण, सूर्याच्या खालच्या कोरेपासून निवृत्त पाण्याच्या अ ब पृष्ठभागावर ह ठिकाणीं परावर्तन पावून ह ग दिशेनें पहाणाऱ्याच्या डोळ्यांत जाईल; व तो र ठिकाणाहून सूर्याच्या वरच्या कोरेपासून र ह ग सरळ रेषेनें येत आहे असें दिसेल; व स, सूर्य अ ब या क्षितिज समांतर पृष्ठभागाच्या जितका वर आहे तितकेंच त्यांचें र प्रतिबिंब त्या अ ब पृष्ठभागाच्या खालीं आहे असें दिसेल; म्हणजे स ह क कोन, क ह र कोनाबरोबर होईल. र ह ग सरळ रेषेत आहेत, म्हणून  $\angle क ह र = \angle ग ह ब = \angle स ह क$  बरोबर आहेत. म्हणून स ह र कोन स ह क किंवा ग ह ब कोनाच्या दुप्पट आहे. आतां घ ग हा किरण प्रत्यक्ष सूर्यापासून निघून थेट पहाणाराच्या डोळ्यांत येत आहे असें समजा, तर तो स हशीं समांतर होईल. व ग ठिकाणच्या पाहणारास सेक्स्टंटनें घ ग र कोन मापतां येईल. आतां घ ग, स हशीं समांतर आहे, व र ह ग ही सरळ रेषा त्या दोन समांतर रेषांवर पडली आहे म्हणून स ह र कोन घ ग र कोनाबरोबर आहे; व स ह र कोन स ह क कोनाच्या दुप्पट आहे. म्हणून घ ग र कोनही स ह क किंवा ग ह ब कोनाच्या दुप्पट आहे. म्हणून सेक्स्टंटची कोनमापन चुकी मिळवून किंवा वजा करून येईल त्या कोनाचें अर्ध करावें म्हणजे पाहिलेल्या स्वस्थ पदार्थाची उंची कोनांत निघेल. जसे घ ग र कोन जर  $८०^{\circ}$  असेल तर स ह क कोन  $४०^{\circ}$  अंशाचा होईल.

उदाहरण—जर सेक्स्टंटच्या कोनमापक आरशावरून परावर्तन पावलेल्या सूर्यबिंबाची खालची कोर व कृत्रिम क्षितिजावरून परावर्तन पावलेल्या सूर्यबिंबाची वरची कोर यांच्यामधील मापलेल

कोन  $९९^{\circ} - २९' - ५८''$  आहे व सेकस्टंटची कोनमापन चुकी  $०^{\circ} - २' - २०''$  धन ( मिळवावयाची ) आहे, तर सूर्याच्या खालच्या कोरेची क्षितिजापासून उंची किती तें काढा.

सूर्याच्या खालच्या कोरेची कृत्रिम क्षितिजावर मापलेली उंची .... ....  $९९^{\circ} - २९' - ५८''$   
 कोनमापन चूक .... ....  $+ - २' - २०''$   
 $२ ) \underline{९९^{\circ} - ३२ - १८''}$   
 $\underline{४९^{\circ} - ४६' - ९''}$

∴ सूर्याच्या खालच्या कोरेची }  
 खऱ्या क्षितिजावर उंची. }

### क्रनामिटर.

क्रनामिटर किंवा सूक्ष्म कालदर्शक घड्याळ.

( ३ ) क्रनामिटर किंवा सूक्ष्मकालदर्शक घड्याळ हें एक उत्तम प्रकारचें घड्याळ असतें. त्यांतील बाल ( फुल ) चक्रांत अशी व्यवस्था केलेली असते कीं, हवेंतील उष्णतेच्या फेरफारानें त्या घड्याळानें दाखविलेल्या वेळेंत फरक पडूं नये. सूक्ष्मकालदर्शक घड्याळ जरी हवेंतील उष्णतेनें जलद किंवा मंद चालत नसलें तरी तें खऱ्या वेळेपेक्षां पुढें किंवा मागें राहूं शकेल. परंतु हा त्याचा जलद किंवा मंद चालण्याचा वेग जर सदोदित सारखाच राहिल, त्यांत हवेंतील उष्णतेच्या योगानें किंचितही फेरफार होणार नाहीं, तर तें उत्तम सूक्ष्मकालदर्शक घड्याळ आहे असें समजावें.

अशा घड्याळानें दाखविलेल्या वेळेंत व खऱ्या वेळेंत कोणत्या-तरी एका वेळीं किती अंतर आहे व तें घड्याळ प्रत्येक दिवसांत

किती मंद किंवा जलद चालते हें कळलें म्हणजे त्यावरून खरा वेळ काढितां येतो.

किल्ली देणें—सूक्ष्मकालदर्शक घड्याळें, एकदां किल्ली दिली असतां आठ दिवस चालणारी किंवा दोन दिवस चालणारी अशी असतात. आठ दिवस चालणाऱ्या घड्याळास दर सातवे दिवशी किल्ली द्यावी व दोन दिवस चालणाऱ्या घड्याळांस दररोज किल्ली द्यावी म्हणजे एकादे वेळीं किल्ली वेळेवर द्यावयाची राहिली तरी तें घड्याळ २४ तासपर्यंत चालू राहिल, बंद पडणार नाही.

किल्लीचे किती वेढे होतात तें पाहून ठेवावे व प्रत्येक वेळीं वेढे मोजून किल्ली फिरवावी म्हणजे शेवटच्या वेढ्याचे वेळीं साखळीस किंवा कमानीस एकदम धक्का बसणार नाही. तसेंच वेढे पुरे झाल्यावर कमानीस धक्का न लागतां किल्ली अधिक फिरू नये अशी युक्ति या घड्याळांत केलेली असावी.

हें घड्याळ बंद पडलें असतां त्यास किल्ली दिल्यावर तें आपो-आप चालू होणार नाही; म्हणून त्यास फुलचक्राच्या पातळींत पुढेंमागें गोल फिरवावें म्हणजे फुलचक्र फिरू लागेल व घड्याळ चालू होईल. नंतर त्यास कोणत्याही प्रकारें धक्का बसूं नये अशा रीतीनें होकार्यत्वासारखेंच पेटांत गिंबाल्सवर अलग ठेवावें.

खिशांत राहणारी सूक्ष्मकालदर्शक घड्याळें रात्रीं खिशांतून काढून उभीं टांगून ठेवावीं.

घड्याळांनीं दाखविलेल्या वेळांची तुलना—एक उत्तम सूक्ष्मकालदर्शक घड्याळ पाहून त्याच्याशी दुसऱ्या घड्याळांची तुलना करावी. सर्वास एकदम किल्ली द्यावी व खरें मानलेल्या घड्याळांतील वेळ

पहावी व त्याच वेळी दुसऱ्या घड्याळांतील वेळ पहावी व खाली लिहिल्याप्रमाणे कोष्टक करून त्या वेळा लिहून ठेवाव्या. घड्याळांचे नंबर व अ ब क अशी निशाणीची अक्षरे निरनिराळ्या घड्याळांच्या वेळांपुढे लिहावीं. खरे मानलेल्या सूक्ष्मकालदर्शक घड्याळास ख असे नांव द्यावे. दुसरे दिवशी म्हणजे सुमारे २४ तासांनी पुनः सर्व घड्याळांच्या वेळा पाहून लिहून ठेवाव्या व त्यांतील फेर पहावा;

### कोष्टक.

तारीख.	निशाणी व नंबर.	खऱ्या घड्याळांतील वेळ.	दुसऱ्या घड्याळांतील वेळ.	फरक.	दुसरा फरक.
मार्च ३-०६	(अ) ५०२	२-४०-०	२-३६-०	०-४-०	
	(ब) २१५	२-४०-३०	२-५६-३५	०-१५-३३.५	से.
मार्च ४-०६	(अ) ५०२	२-३२-०	२-२८-१.५	०-३-५८.५	-१.५
	(ब) २१५	२-३२-३०	२-४८-६	०-१५-३६	+२.५

खरे मानलेले सूक्ष्मकालदर्शक घड्याळ जर अगदी बरोबर असेल तर वरील कोष्टकाच्या शेवटच्या घरांत दिलेला फरक हा ( अ ) व ( ब ) घड्याळांचा मंद किंवा जलद चालण्याचा रोजचा फरक ( वेग ) होय.

इंग्लिश लोकांच्या गलबतावरील सर्व घड्याळे ग्रीनिचची वेळ दाखवितात. कोणतेही गलबत हांकारण्याचे पूर्वीच दोन प्रहरी त्याचा खऱ्या घड्याळाशी ताडून पाहिलेला फरक व त्याच्या रोजच्या जलद किंवा मंद चालण्याचा फरक ( वेग ) लिहून ठेवितात, व त्यावरून पुढे कोणत्याही वेळी त्या सूक्ष्मकालदर्शक घड्याळाने दाखविलेल्या वेळेवरून खरी ग्रीनिचची वेळ काढितात.

सूक्ष्मकालदर्शक-नियतकालदर्शक घड्याळावरून ग्रीनिचची वेळ काढण्याची रीति:—

खऱ्या सूक्ष्मनियतकालदर्शक घड्याळाशी ताडून पाहिलेले पाहिले अंतर व घड्याळाचा जलद किंवा मंद चालण्याचा दररोजचा वेग ( फेर ) दिला आहे. तर त्यावरून ग्रीनिचची वेळ काढण्यास—

( १ ) तारीख व त्यापुढे खरी वेळ लिहावी. त्यांचे खाली पाहिले अंतर लिहावे व ते, घड्याळ जलद ( पुढे ) असल्यास, वजा करावे व मंद ( मागे ) असल्यास मिळवावे; नंतर—

( २ ) पाहिले अंतर, व रोजचा फरक पाहिलेल्या दिवसापासून दिलेल्या दिवसापर्यंत मध्ये किती दिवस झाले ते काढावे. व त्या संख्येस रोजच्या फरकाने गुणावे. गुणाकार येईल ती एकंदर चुकी होय. ती घड्याळ मंद असल्यास त्याने दाखविलेल्या वेळेत मिळवावी, व जलद असल्यास त्यातून वजा करावी, येईल ती ग्रीनिचची खरी वेळ होय.

उदाहरण.—एक सूक्ष्मनियतकालदर्शक घड्याळ तारीख २ जुलै रोजी ग्रीनिचचे दोन प्रहरी १९ मि. व ५८ सेकंदांनी ग्रीनिच मध्यम वेळेचे मागे होते; व त्याचा रोजचा जलद चालण्याचा वेग ४.५ सेकंड होता तर तारीख ११ नोव्हेंबर रोजी त्या घड्याळांत ५ क. ४० मि. व ४२ सेकंद झाले असतां, त्या वेळी खरी ग्रीनिच मध्यम वेळ काय ते काढा.

जुलै तारीख २ पासून नोव्हेंबर तारीख ११ पर्यंत दिवस.:—



	दिवस.		
जुलैचे	२९	} १३२ दिवसास रोजचा जलद चा. वेग, ४-५ सेकंड, त्यांनी गुणलें असतां.	
आगष्टचे	३१		
ससंवरचे	३०		६६० } एकंदर जलद चाल,
आक्टोबरचे	३१		५२८ }
नोव्हेंबरचे	११		६०)५९४.० } सेकंड=९ मि. ५४ सेकंड.
मिळून दि.	१३२	५४० }	

५४+१ सेकंड ( ६ तासांत जलद वेग )  
=९ मि. व ५५ से. आतां, नियतकालदर्शक घड्याळानें दाखविलेली  
वेळ:—

क. मि. से.

तारीख ११ नोव्हेंबर— ५-४०-४२.

जुलै ता० २ रोजी मार्गे होतें तो फरक+१९-५८.

६- ०-४०.

एकंदर जलद चाल वजा

०- ९-५५.

∴ श्रीनीचचा मध्यम काल, ता. ११ नोव्हेंबर, ५-५०-४५.

### ( ४ ) नाटिकल अलमनाक अथवा नाविक पंचांग व कालमापन.

नाविक पंचांग ( नाटिकल अलमनाक ) हें विलायतेंत इ० स०  
१७६७ पासून प्रतिवर्षीं प्रसिद्ध होत असतें. त्यांत पुष्कळ फेरफार  
होऊन त्यास इ० स० १८३४ पासून हल्लींचें स्वरूप आलें आहे.

या पंचांगांतील गणित ग्रीनीचमधून जाणाऱ्या प्रथम मध्यान्ह-वृत्ताचे ० रेखांश धरून केलेले असते व त्यांत ग्रीनीचचे वेळेवर सूर्य, चंद्र, तारे, व ग्रह यांचे विषुवांश व क्रांति, कालभेद, चंद्राची स्थिति-वगैरे सर्व स्वस्थ पदार्थांची स्थिति व गतीसंबंधाची माहिती दिलेली असते.

नाविक पंचांगांत प्रत्येक महिन्याच्या पहिल्या १८ पानांत सूर्य व चंद्र यांच्याच गती व स्थितीसंबंधाने माहिती दिलेली असते. प्रत्येक महिन्याच्या पहिल्या व दुसऱ्या पानावर सूर्याचे विषुवांश, त्याची क्रांति, व त्यांचा अर्धव्यास या संबंधाची माहिती दिलेली असते; त्यामुळे इतर भागांपेक्षां या दोन पानांचाच खलाशांस व मालमांस फार उपयोग होतो.

हें पंचांग समजण्यास थोडेबहुत इंग्रजी भाषेचें ज्ञान विद्यार्थ्यांस पाहिजे. परंतु सरकारच्या परवानगीने त्यांतील अत्यंत उपयुक्त माहितीची देशी भाषेत आवृत्ति कोणी दरवर्षी काढल्यास खलाशांचा व मालमीचा धंदा करणाऱ्या लोकांवर त्याचे फार उपकार होतील, यांत संशय नाही. यांतील माहिती देशी ज्योतिष्यांसही उपयोगी पडेल.

या पंचांगासंबंधाची सर्व माहिती पंचांगाच्या शेवटी दिलेली असते. ती विद्यार्थ्यांनें समजून घ्यावी म्हणजे या पंचांगाचा उपयोग कसा करावा तें समजेल.

वर सांगितलेच आहे कीं, या पंचांगांत ग्रीनीचचे वेळेचा उपयोग केलेला असतो.

कालमापन-व्यावहारिक दिवस मध्यरात्रीपामून सुरू होतो. म्हणजे त्या वेळीं सूर्य आपल्या पायाखालचे मध्यान्हवृत्तावर असतो.

परंतु या २४ तासांच्या दिवसाचे रात्रीच्या १२ पासून दिवसाचे १२ पर्यंत एक, व दिवसाचे १२ पासून पुन्हा रात्रीचे १२ पर्यंत एक, असे बारा बारा तासांचे दोन भाग केलेले असतात. त्यामुळे कोणत्याही तासास, तो सकाळचा किंवा संध्याकाळचा, दोन प्रहरचा किंवा रात्रीचा असेल, त्याप्रमाणे त्याचेमागे लिहावे लागते. उदाहरणार्थ—सकाळचे सहा वाजतां—किंवा संध्याकाळचे सहा वाजतां असे म्हटले पाहिजे. नुसते सहा वाजतां असे म्हटल्याने बरोबर कालबोध होत नाही. ते सकाळचे सहा किंवा संध्याकाळचे सहा असा संशय राहतोच. त्याचप्रमाणे तीन वाजतां अमुक गोष्ट झाली असे नुसते म्हणून बरोबर कालबोध होत नाही. पहाटे तीन वाजतां किंवा दोन प्रहरानंतर तीन वाजतां असे म्हटले पाहिजे. व्यावहारिक दिवस मध्यरात्रीपासून सुरू करणे फार सोयीचे आहे. परंतु ज्योतिर्वेध घेण्याकरितां ज्योतिषी सौर दिवसाचा उपयोग करितात.

सौर दिवस दोन प्रहरचे बारा वाजतां म्हणजे मध्यान्हापासून सुरू होतो. त्या वेळीं सूर्य बरोबर त्या ठिकाणचे मध्यान्हवृत्तावर असतो. सौर दिवसाचे २४ तास, ० पासून २४ पर्यंत सारखे मोजतात. त्यामुळे त्यांचे मागे सकाळ, संध्याकाळ वगैरे लिहिण्याची जरूर नाही. सौर दिवसाची तारीख दोन प्रहरीं बदलते. दोन प्रहरपासून मध्यरात्रीपर्यंत व्यावहारिक दिवस व सौर दिवस यांचे तास व तारीख एकच असते, बदलत नाही. परंतु मध्यरात्रीपासून पुन्हा दोनप्रहरपर्यंत त्या दोन्ही दिवसांच्या तासांत व तारखेंतही फेर पडतो. नाविक पंचांगांत सौर दिवसाचा उपयोग करितात; व गलबतावर व्यावहारिक दिवस चालतो. म्हणून व्यावहारिक दिव-

साची तारीख व तास सौर दिवसाचे तारखेंत व तासांत लिहावी लागते.

**व्यावहारिक कालमान सौरकालमानांत आणणें.—**

( १ ) दोन प्रहरचे १२ पासून रात्रीचे बारापर्यंत व्यावहारिक वेळ व सौर वेळ व तारीख एकच असते. जसें:—

व्यावहारिक कालमान, तारीख ४ मे तिसऱ्या प्रहरां ५ वाजून २० मिनिटें = सौर कालमान ता० ४ मे ५ कलाक २० मिनिटें.  
सौर कालमान ता० २ जून १० कलाक ४० मिनिटें = व्यावहारिक कालमान ता० २ जून रात्रीचे १० वाजून ४० मिनिटें.

( २ ) जर व्यावहारिक काल रात्रीचे बारापासून दोनप्रहरचे बारापर्यंतचा असेल, तर व्यावहारिक तासांत १२ मिळवावे व तारीख मागच्या दिवसाची लिहावी; जसें:—

व्यावहारिक काल तारीख ४ मे पहाटेस ५ वाजून ४२ मिनिटें = सौर काल मे ता० ३, -१७ ता० व ४२ मिनिटें.

व्यावहारिक वेळ आगष्ट १ ली तारीख सकाळचे ९ वाजून २० मिनिटें = सौरकाल जुलै ३१ ता० २१ तास २० मिनिटें.

( ३ ) ज्योतिष सौरकालाचें व्यावहारिक कालमान काढतांना जर तास १२ पेक्षां अधिक असतील तर त्यांत बारा वजा करावे व तारीख पुढल्या दिवसाची लिहावी. जसें:—

ज्योतिष सौरकाल डिसेंबर ३१ तारीख १५ तास व ४० मिनिटें = व्यावहारिक काल जानेवारी १ ली तारीख पहाटेचे ३ वाजून ४० मिनिटें.

# नाविक ज्योतिष.



## विभाग ३ रा. अक्षांश.

येथवर स्वस्थ पदार्थांचे वेध घेण्याच्या व त्यावरून गणित करण्याच्या साधनांचें थोडक्यांत वर्णन केलें. आतां स्वस्थ पदार्थांच्या वेधावरून अक्षांश व रेखांश काढण्याच्या रीति सांगूं.

कोणत्याही ठिकाणीं स्वस्थ पदार्थांचे वेध घेऊन ( आकाशांतील सूर्यचंद्रतारादिकांची उंची मापून ) त्यावरून त्या ठिकाणचे अक्षांश काढण्याच्या रीति:—

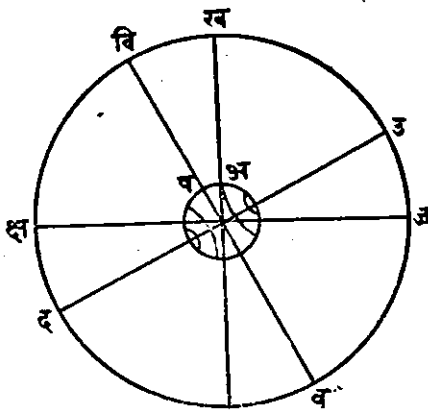
पृथ्वीवरील कोणत्याही स्थलाचे अक्षांश म्हणजे त्या स्थळाचें, भूमध्यरेषेपासून उत्तरेकडील किंवा दक्षिणेकडील कोनात्मक अंतर होय. भूमध्यवृत्तावरील स्थलांचे अक्षांश शून्य असतात. व ते वाढत वाढत ध्रुवाशीं  $90^{\circ}$  होतात.

भूमध्यवृत्तावरील मनुष्यास ध्रुवाचा तारा क्षितिजाशीं दिसतो, म्हणजे तेथें ध्रुवाची उंची शून्य असते व अक्षांशही शून्य असतात. भूमध्यवृत्तापासून आपण जसजसे उत्तरेकडे जाऊं तसतसे आपले अक्षांश वाढतात व ध्रुवाचा ताराही उंच दिसूं लागतो. म्हणून क्षितिजापासून ध्रुवाच्या ताऱ्याची उंची मापून त्यावरून अक्षांश काढणें अगदीं सोपें आहे.

( १ ) ध्रुवाचे ताऱ्याच्या उंचीवरून अक्षांश काढण्याची रीति:—

कोणत्याही ठिकाणीं क्षितिजापासून ध्रुवाच्या ताऱ्याची जी उंची तेच त्या ठिकाणचे अक्षांश होत.

खस्वस्तिक हा क्षितिजाचा ध्रुव होय. म्हणून क्षितिजापासून



खस्वस्तिकाचें अंतर ९०° आहे. आकाशातील उत्तर ध्रुवाचा तारा हा विषुवचक्राचा ध्रुव होय. म्हणून विषुवचक्रापासून ध्रुवापर्यंत ९०° अंतर आहे. पृथ्वीवरील कोणत्याही ठिकाणाची स्थिति त्या ठिकाणच्या खस्वस्तिकानें आकाश गोलावर दाखविली जाते.

आकृति ५२.

म्हणून विषुवचक्रापासून खस्वस्तिकाचें जें कोनात्मक अंतर तेंच त्या ठिकाणचे अक्षांश होत. ते क्षितिजावरील ध्रुवाच्या उंचीबरोबर कसे असतात, तें आकृतीवरून स्पष्ट होईल. वरील आकृतीत उ ख क्ष ज हा मध्यान्हवृत्ताच्या पातळीवर काढिलेला आकाश गोलाचा छेद आहे असें समजा. त्यांत अ हें एक पृथ्वीवरील ठिकाण आहे व त्याचे अक्षांश काढावयाचे आहेत. ख हें त्या ठिकाणाचें खस्वस्तिक आहे. क्ष ज हें त्या ठिकाणाचें क्षितिज आहे. उ हा उत्तर ध्रुव आहे. आणि वि ष व हें विषुवचक्र किंवा आकाशातील विषुववृत्त आहे व पहाणारा अ ठिकाणी आहे असें समजा. तर ज उ ही क्षितिजापासून उत्तर ध्रुवाची उंची आहे. आणि वि ख कंस ष अ कंसाबरोबर आहे म्हणून वि ख किंवा ष अ हें पहाणाराच्या अ ठिकाणाचे अक्षांश आहेत.

आतां वि उ = ख ज = ९० अंश.

म्हणजे वि ख + खउ = ख उ + उ ज = ९० अंश.

यांतून ख उ कंस काढून टाका, कारण तो दोहोंस साधारण आहे. म्हणून वि ख = उ ज.

म्हणजे कोणत्याही ठिकाणची ध्रुवाची उंची उ ज, ही त्या ठिकाणच्या वि ख किंवा ष अ अक्षांशाबरोबर आहे.

पृथ्वीच्या नकाशावर विषुववृत्त दाखविलेले असते परंतु ती एक कल्पितरेषा आहे. प्रत्यक्ष पृथ्वीवर तशी रेषा कोठेही काढिलेली नाही. तसेच आकाशातील विषुववृत्त किंवा विषुवचक्रहीसुद्धा एक कल्पित रेषा आहे. आकाशांत ती रेषा कोठेही दिसत नाही. पृथ्वीचा फार थोडा भाग आपणांस एकदम दिसतो परंतु आकाशाची अर्ध गोल पोकळी आपणांस सदोदित दिसते. तिजवर जरी विषुवचक्र प्रत्यक्ष दिसत नाही तरी आपणांस प्रत्यक्ष दिसणारे सूर्यचंद्रादि खस्थपदार्थांपासून विषुवचक्र किती अंतरावर आहे ते नाविक पंचांगांत दिलेले असते. हे अंतर म्हणजे सूर्य चंद्रादिकांची क्रांति ही दरराजे बलदते, त्यामुळे सूर्यचंद्रांची स्थिति ही आकाशाच्या नकाशावर कायमची दाखवितां येत नाही. फक्त कित्येक स्थिर तारांचे माल कायमचे नकाशे काढिलेले असतात. ते तारेही आपणांस सदोदित दिसतात, असे नाही. सारांश, आकाशाच्या नकाशाचें काम बहुतेक नाविक पंचांगावरूनच करून घ्यावें लागते पृथ्वीवरील आपल्या स्थळाचे अक्षांश काढणें म्हणजे आकाशातील आपल्या खस्वस्तिकाची क्रांति किती आहे तें वेळोवेळीं वेध घेऊन नक्की करणें होय. आतां कोणत्याही ठिकाणाचे खस्वस्तिक हें त्या ठिकाणच्या भूमध्यक्षितिजाचा ध्रुव होय व तो क्षितिजापासून

सदोदित ९० अंशावर असतो. सूर्य मध्यान्हवृत्तावर येतो तेव्हां त्याची क्षितिजापासून उंची सर्वांत अधिक असते. ती उंची मापून त्या तारखेस सूर्यापासून विषुवचक्र किती अंतरावर आहे तें नाविक पंचांगांत पाहून काढावें म्हणजे क्षितिजापासून विषुवचक्राची उंची निघेल. व क्षितिजापासून खस्वस्तिक ९० अंशावर असते; तेव्हां विषुवचक्रापासून खस्वस्तिकाचें अंतर म्हणजे त्या ठिकाणचे अक्षांशही सहज काढितां येतील.

२ क्रांति माहीत असलेल्या कोणच्याही खस्थ पदार्थाच्या मध्यान्ह उंचीवरून पाहणाऱ्याच्या स्थलाचे अक्षांश काढण्याची रीति:—

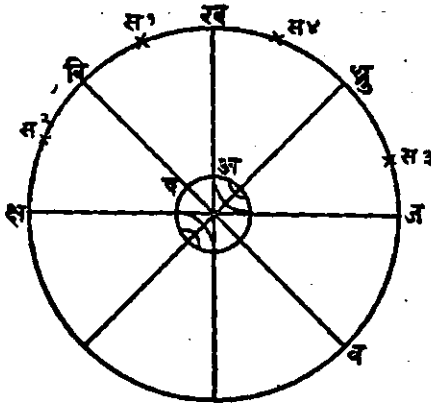
मागें सिद्ध करून दाखविलें आहे कीं, कोणच्याही ठिकाणी क्षितिजापासून ध्रुवाच्या उंचीबरोबर त्या ठिकाणाचे अक्षांश असतात. उत्तरध्रुवापार्शीमात्र एक तारा आहे तसा दक्षिणध्रुवापार्शी नाहीं म्हणून या रीतीनें दक्षिण गोलाधीत अक्षांश काढितां येणार नाहींत. म्हणून क्रांति माहीत असलेल्या सूर्यचंद्रादि कोणच्याही खस्थ पदार्थाची मध्यान्हवृत्तावरील उंची मापून पाहणाऱ्याच्या ठिकाणाचे अक्षांश काढण्याची रीति सांगू.

जेव्हां कोणचाही खस्थ पदार्थ मध्यान्हवृत्तावर येतो तेव्हां तो आकाशांत फार उंच आलेला असतो व त्या वेळीं त्याच्या उंचीची पराकाष्ठा ( किंवा परमावधि ) झाली असें म्हणतात. या वेळीं त्याच्या उंचीत हळुहळू फार थोडथोडा फेर पडतो.

जेव्हां खस्थ पदार्थ मध्यान्हवृत्तावरून जातो तेव्हां तो मध्यान्हे-वृत्ताचें उलंघन करितो असें म्हणावें. व त्या क्रियेस मध्यान्हो-लंघन म्हणावें.



बाजूस कादिलेली आकृति हें आकाशगोलाच्या मध्यान्हवृत्तानें



केलेल्या छेदाचें चित्र आहे असें समजा. त्यांत ध्रु हा अ ठिकाणच्या पाहणारास क्षितिजावर दिसणारा ध्रुव आहे, क्ष ज हें अ ठिकाणचें भूमध्य क्षितिज आहे, ख हें त्याचें खस्वास्तिक आहे आणि वि ष व हें विषुववृत्त आहे असें समजा. तर मागें सिद्ध केल्यावरून ज ध्रु =

आकृति ५३.

वि ख हे अ, ठिकाणाचे अक्षांश होत.

आतां स<sup>१</sup> स<sup>२</sup> स<sup>३</sup> स<sup>४</sup> हीं कोणत्याही क्रांति माहीत असलेल्या खस्थ पदार्थांचीं स्थानें आहेत असें समजा.

खस्वास्तिकापासून कोणत्याही खस्थ पदार्थाचें अंतर, हें, त्या पदार्थाची क्षितिजापासून मापलेली उंची, ९०° त वजा करून जी बाकी राहिल, तिजबरोबर असतें. ( खस्वास्तिकांतर = ९०-उंची )

( अ ) जेव्हां कोणत्याही खस्थ पदार्थ स<sup>१</sup> ह्या ठिकाणी असतो, तेव्हां त्याची स<sup>२</sup> वि ही क्रांति होय. क्ष स<sup>३</sup> ही त्याची क्षितिजापासून उंची होय, व ख स<sup>४</sup> हें त्याचें ख स्वास्तिकांतर होय. आपणांस नाविक पंचांगांत त्या खस्थ पदार्थाची क्रांति दिलेली असते, व त्याची क्षितिजापासून उंची आपण मापून घेतों,

त्यावरून अक्षांश, वि ख = स<sup>२</sup> ख - स<sup>३</sup> वि- } (१)  
 म्हणजे अक्षांश = खस्वास्तिकांतर - क्रांति .... }

म्हणजे जेव्हां खस्वस्तिक विषुववृत्ताचे उत्तरेस आहे, व खस्थ पदार्थाची क्रांति दक्षिणेस आहे तेव्हां खस्वस्तिकांतर व क्रांति यांच्या वजाबाकीबरोबर त्या ठिकाणचे अक्षांश असतात.

( ब ) जेव्हां तो खस्थ पदार्थ स' ह्या ठिकाणी असतो तेव्हां त्याची वि स' ही क्रांति होय, स' ख हें त्याचें खस्वस्तिकांतर होय व क्ष स' ही त्याची उंची होय.

$$\therefore \text{अक्षांश} = \text{वि ख} = \text{वि स}' + \text{स}' \text{ख.} \quad \left. \vphantom{\text{अक्षांश}} \right\} (२)$$

$$\text{अक्षांश} = \text{खस्वस्तिकांतर} + \text{क्रांति.} \text{-----}$$

म्हणजे जेव्हां खस्वस्तिकांतर विषुवचक्राच्या उत्तरेस आहे व क्रांतिही उत्तरेस आहे तेव्हां त्या स्थळाचे अक्षांश हें खस्वस्तिकांतर व क्रांति यांच्या बेरजेबरोबर असतात.

वरील दोन प्रकारांत ध्रु हा क्षितिजावर दिसणारा उत्तर ध्रुव आहे असें मानिलें आहे. आतां ध्रु हा क्षितिजावरील दक्षिण ध्रुव आहे व पहाणारा दक्षिण गोलार्धात आहे असें मानिलें असतांही त्याच आकृतीवरून खालील नियम निघतात:—

( क ) जेव्हां खस्वस्तिक विषुववृत्ताच्या दक्षिणेस आहे व खस्थ पदार्थाची क्रांति उत्तरेकडे आहे तेव्हां—

$$\text{अक्षांश} = \text{खस्वस्तिकांतर} - \text{क्रांति.}$$

( ड ) जेव्हां खस्वस्तिक विषुवचक्राच्या दक्षिणेकडे असतें व क्रांतिही दक्षिणेकडे असते तेव्हां त्या ठिकाणाचे

$$\text{अक्षांश} = \text{खस्वस्तिकांतर} + \text{क्रांति.}$$

वरील विवेचनावरून क्रांति माहीत असलेल्या खस्थ पदार्थाची क्षितिजापासून उंची मापून त्यावरून अक्षांश काढण्याचे साधारण नियम निघतात ते असे:—

( १ ) जेव्हां खस्वस्तिकांतर व क्रांति हीं दोन्ही विषुव-चक्राच्या दक्षिणेकडे किंवा उत्तरेकडे असतात तेव्हां त्या स्थळाचे अक्षांश त्याच्या वेरजेबरोबर असतात:—

म्हणजे अक्षांश = खस्वस्तिकांतर + क्रांति..... ( १ )

परंतु ( २ ) जेव्हां खस्वस्तिकांतर विषुवचक्राचे उत्तरेस असून क्रांति दक्षिणेस असेल किंवा क्रांति उत्तरेस असून खस्वस्तिकांतर दक्षिणेस असेल, तेव्हां त्या स्थळाचे अक्षांश हे त्यांच्या वजावाकीबरोबर असतात.

अक्षांश = खस्वस्तिकांतर — क्रांति ..... २.

जेव्हां खस्वस्तिकांतर व क्रांति ही दोन्ही विषुवचक्राच्या उत्तरेकडे किंवा दक्षिणेकडे असतात तेव्हां अक्षांशही उत्तर किंवा दक्षिण असतात. परंतु जेव्हां एक उत्तरेकडे व एक दक्षिणेकडे असतें तेव्हां जें मोठें असेल तिकडचे अक्षांश असतात.

( ३ ) जेव्हां क्रांति माहीत असलेला एकादा खस्थ पदार्थ स<sup>१</sup> ह्या ठिकाणी असतो तेव्हां तो ध्रुवाखाली आहे असे म्हणतात. तेव्हां, स<sup>१</sup> ज ही त्यांची क्षितिजापासून उंची होय. त्याची क्रांति व स<sup>१</sup> होय. त्याचें खस्वस्तिकांतर ख स<sup>१</sup> हें होय. आणि त्याचें ध्रुवांतर ध्रु स<sup>१</sup> होय.

आतां येथे क्रांति + ध्रुवांतर = ९० अंश.

म्हणून ध्रुवांतर = ९० अंश — क्रांति.

तसेंच वि ध्रु = ख ज = ९० अंश.

म्हणून वि ख + ख ध्रु = ख ध्रु + ध्रु ज. = ९०°.

या दोहोंतून साधारण कंस ख ध्रु काढून टाका म्हणून  
वि ख = ध्रु ज.

म्हणजे त्या ठिकाणची ध्रुवाची उंची बरोबर अक्षांश. परंतु  
 $\text{ध्रुज} = \text{ध्रुस}^3 + \text{स}^3 \text{ज.}$

म्हणून अक्षांश = ध्रुवांतर + क्षितिजांतर.

म्हणजे दृश्य ध्रुवाचे खाली एकादा स्वस्थ पदार्थ असेल तेव्हां त्या स्वस्थ पदार्थाचे ध्रुवांतर व त्याचे क्षितिजांतर ह्यांच्या बेरजे-बरोबर त्या ठिकाणचे अक्षांश असतात व त्याचे ध्रुवांतर हे ध्रुवांतर =  $९०^\circ$  - क्रांतीबरोबर असते. म्हणजे

ध्रुवांतर =  $९०^\circ$  - क्रांति.

( फ ) जेव्हां एकादा स्वस्थ पदार्थ स<sup>५</sup> ह्या ठिकाणी असेल तेव्हां तो ध्रुवाच्या वर आहे असे म्हणतात. येथेही

ध्रुवांतर =  $९०$  अंश - क्रांति. कारण,

$\text{ध्रुस}^5 = ९०$  अंश - विस<sup>५</sup>.

व अक्षांश = ज ध्रु = ध्रुवाची उंची

= ज स<sup>५</sup> - ध्रु स<sup>५</sup>

= क्षितिजावरील उंची - ध्रुवांतर.

म्हणजे जेव्हां क्रांति माहीत असलेला एकादा स्वस्थ पदार्थ दृश्य ध्रुवाच्यावर असेल, तेव्हां  $९०$  अंशांतून क्रांति वजा केली असता त्याचे ध्रुवांतर येईल व क्षितिजावरील त्याच्या मापलेल्या उंचीमधून ध्रुवांतर वजा केलें असता त्या स्थळाचे अक्षांश येतील व ते त्या स्थळांच्या ध्रुवाच्या उंचीबरोबर असतील. ....( ३ )

३ ध्रुवासंभावती फिरणाऱ्या ताऱ्यावरून अक्षांश काढण्याची रीति:—

जेव्हां आकाशांतील एकाच ताऱ्याची उंची मध्यान्हवृत्तावर ध्रुवाचे स्वर्ली व वरती अशी दोन ठिकाणी घेतां येईल, तेव्हां त्या दोन उंच्यांची बेरीज करून त्याचें अर्ध करावें, म्हणजे ती अर्धबेरीज त्या जागेचे अक्षांश होत.

कारण स<sup>३</sup> व स<sup>४</sup> ही एकाच ताऱ्याची मध्यान्हवृत्तावरील अति उंच व अति नीच अशीं दोन स्थानें आहेत असें माना. तर प्रत्येक वेळीं ताऱ्याचें ध्रुवांतर सारखेंच आहे, म्हणून त्या दोन उंच्यांच्या बेरजेचें अर्ध =  $\frac{1}{2} (ज स^३ + ज स^४)$

=  $\frac{1}{2} [ (ध्रु ज - ध्रु स^३) + (ध्रु ज + ध्रु स^४) ]$ . परंतु यथे ध्रु स<sup>३</sup> = ध्रु स<sup>४</sup>.

म्हणून =  $\frac{1}{2} (ध्रु ज - ध्रु स^३ \times ध्रु ज + ध्रु स^४)$ .

=  $\frac{1}{2} (२ ध्रु ज) = ध्रु ज$ .

∴ उंच्यांच्या बेरजेचे अर्ध = ध्रु ज = ध्रुवाची उंची. व ध्रुवाची उंचीबरोबर त्या ठिकाणचे अक्षांश. म्हणून ध्रुवाभोंवतीं फिरणाऱ्या ताऱ्याच्या अति उंच व अति नीच अशा दोन उंच्यांच्या बेरजेच्या अर्धाबरोबर त्या ठिकाणचे अक्षांश होत.

यंत्र साधनांनीं मापलेल्या स्वस्थ पदार्थांच्या उंचीमधील चुकीची दुरुस्ति.

कोणच्याही स्वस्थ पदार्थाची उंची म्हणजे त्या पदार्थांतून जाणाऱ्या लंबवृत्तावर क्षितिजापासून मापिलेलें त्या पदार्थाचें अंतर होय.

स्वस्थ पदार्थाची खरी उंची म्हणजे, पृथ्वीच्या मध्यबिंदूतून पाहिली असतां त्या पदार्थाच्या मध्यबिंदूची भूमध्य-क्षितिजावर दिसणारी उंची होय. म्हणजे पाहणारा पृथ्वीच्या मध्यबिंदूशीं डोळा ठेवून उभा राहिला असतां तेथून त्यास भूमध्य-क्षितिज-

पातळीवर सूर्यचंद्रादि खस्थ पदार्थांच्या मध्यबिंदूची जी उंची दिसेल ती त्या खस्थ पदार्थांची खरी उंची होय.

खस्थ पदार्थांची दृश्य उंची म्हणजे पाहणाऱ्याच्या स्पर्श क्षितिजाच्या पातळीवर त्या पदार्थांच्या मध्यबिंदूचे लंब अंतर होय.

आपण समुद्रावर किंवा जमिनीवर खस्थ पदार्थांची जी उंची मापितो ती त्या पदार्थांचे दृश्य क्षितिजावरील मापलेले लंबांतर होय. त्यावरून त्या पदार्थांची दृश्य उंची किंवा खरी उंची जी पाहिजे असेल ती काढण्यास खाली सांगितलेले संस्कार ( लाविले ) केले पाहिजेत:—

१. दृश्य उंची काढण्यास, (१) तुरीय अगर षष्ठांश यंताची कोन-मापन चुकी असेल तर, ( २ ) क्षितिजाचा कल, व ( ३ ) त्या खस्थ पदार्थांस व्यास असेल तर त्याचा अर्ध व्यास, इतके संस्कार लाविले पाहिजेत.

२. खस्थ पदार्थांच्या मध्याची खरी उंची काढण्यास मापिलेल्या उंचीस खालील संस्कार लाविले पाहिजेत:—( १ ) कोनमापन चुकी, ( २ ) क्षितिजाचा कल, ( ३ ) खस्थ पदार्थांचा अर्ध व्यास\* ( ४ ) किरणांचे वक्रीभवन व ( ५ ) लंबन.

कोनमापन चुकी.

( १ ) सेकस्टंटचे वर्णन करितांना कोनमापन चुकी मिळवावी केव्हां व वजा करावी केव्हां ते सांगितले आहे.

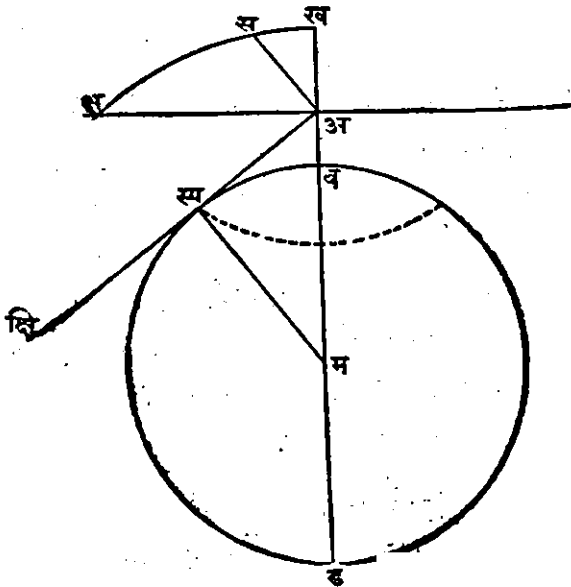
---

टीप—सूर्य, चंद्र व ग्रह, यांस मात्र व्यास असतो. स्थिर ताऱ्यांस म्हणण्यासारखा मोठा व्यास असत नाही. ते आकाशात तेजस्वी बिंदूप्रमाणेच असतात.

## क्षितिजाचा कल. ( क्षितिजनति ).

पहाणाच्या डोळ्यापासून दृश्य क्षितिजापर्यंत एक रेषा काढिली असता तिचा स्पर्श क्षितिजाशी जो कोन होतो त्यास क्षितिजाचा कल असे म्हणतात.

खालच्या आकृतीत पहाणाराचा डोळा अ ठिकाणी आहे व



आकृति ५४.

समुद्राच्या सपाटीपासून अ व ही त्याची उंची आहे; स हा सूर्य अगर एकादा तारा आहे व त्याची उंची आपणांस

मापावयाची आहे असें समजा. अ क्ष हें स्पर्श क्षितिज होय. अ मधून अ, स्प, क्षि ही पृथ्वीला स्प ठिकाणी स्पर्श करणारी रेषा काढा. तर स्प हा दृश्य क्षितिजांतील अ पासून अति दूरचा बिंदु होईल व सेकस्टंटनें मापिलेली स ताऱ्याची उंची स, अ, क्षि कोन ही होईल. परंतु स अ क्ष ही त्याची स्पर्श क्षितिजावरील वास्तविक उंची आहे व क्ष अ क्षि कोन म्ह० जेवढ्या कोनानें ही स ताऱ्याची उंची वाढली, तो कोन, हा क्षितिजाचा कल होय.

क्षितिजाचा कल काढण्यास:—स्प, म, ही स्पर्शबिंदूपासून पृथ्वीच्या मध्यबिंदूपर्यंत रेषा काढा. आतां क्ष, अ, क्षि + क्षि, अ, म हा काटकोन आहे, व स्प, अ, म + अ, म, स्प, हाही काटकोन आहे. या दोहोंस साधारण जो स्प, अ, म किंवा क्षि, अ, म कोन तो काढून टाकल्यास बाकीचा क्ष, अ, स्प कोन हा स्प, म, अ कोनावरोबर आहे.

म्हणजे अ बिंदूमधून पृथ्वीच्या मध्यापर्यंत जाणारी लंब रेषा व दृश्य क्षितिजांतील स्प बिंदूपासून पृथ्वीच्या मध्यबिंदूपर्यंत जाणारी रेषा या दोहोंमध्ये पृथ्वीच्या मध्याशी जो कोन होतो, तो दृश्य क्षितिजाच्या कलावरोबर असतो.

आतां उ = डोळ्याची उंची = अ व.  
त्रि = पृथ्वीची त्रिज्या = म स्प = म व. } फूट.



क = क्षितिजाचा कल =  $\angle$  क्ष अ क्षि =  $\angle$  स्प म अ.

म्हणून अ म स्प काटकोनत्रिकोनांत,

$$\text{स्पर्शरेषा म} = \text{स्पर्शरेषा क} = \frac{\text{अ स्प}}{\text{म स्प}},$$

व युक्लिडच्या तिसऱ्या पुस्तकाच्या ३६ व्या सिद्धांताप्रमाणें.

$$\text{अ स्प}^2 = \text{अ ब} \times \text{अ ड}.$$

$$\therefore \text{अ स्प} = \sqrt{\text{अ ब} \times \text{अ ड}} = \sqrt{\text{उ} (२ \text{ त्रि} + \text{उ})}.$$

$$\text{म्हणून स्पर्श रेषा क} = \frac{\sqrt{\text{उ} (२ \text{ त्रि} + \text{उ})}}{\text{म स्प}} = \frac{\sqrt{\text{उ} (२ \text{ त्रि} + \text{उ})}}{\text{त्रि}}.$$

$$= \frac{\sqrt{२ \text{ उ त्रि} + \text{उ}^2}}{\text{त्रि}} = \sqrt{\frac{२ \text{ उ} (\text{उ})}{\text{त्रि} + (\text{त्रि})^2}}$$

आतां पृथ्वीच्या त्रिज्येच्या मानानें डोळ्याची उंची फारच लहान

आहे. म्हणून  $\frac{\text{उ}}{\text{त्रि}}$  या अपूर्णाकाचा वर्ग हा अतिशय लहान होणार

आहे तो गाळून टाकिला असतां

$$\text{स्पर्शरेषा क} = \sqrt{\frac{२ \text{ उ}}{\text{त्रि}}} \text{ बरोबर आहे.}$$

व या समीकरणावरून क्षितिजाच्या कलांचीं कोष्टकें केलीं आहेत.

## क्षितिजाच्या कलाचें कोष्टक.

डोळ्याची उंची फूट	क्षितिजाचा कल कल विकल	डोळ्यांची उंची फूट	क्षि० चा कल	डो० उंची	क्षि० कल
		१७	४'-२"	५०	६'-५६"
४	१'-५८"	१८	४'-९"	६०	७'-३५
५	२'-११"	१९	४'-१६"	७०	८'-१२
६	२'-२४"	२०	४'-२३	८०	८'-४६"
७	२'-३६"	२१	४'-२९	९०	९'-१८
८	२'-४६	२२	४'-३६	१००	९'-४८
९	२'-५६"	२३	४'-४२		
१०	३'-५"	२४	४'-४८"		
११	३'-१६"	२६	५'-०		
१२	३'-२४"	२८	५'-११"		
१३	३'-३२	३०	५'-२२		
१४	३'-४०	३५	५'-४६		
१५	३'-४८	४०	६'-१२		
१६	३'-५३	४५	६'-३४		

## व्यासार्ध.

सूर्य, चंद्र, व काहीं मोठे ग्रह यांचीं बिंबें वरींच मोठीं असतात. तेव्हां त्यांच्या मध्यबिंदूंची क्षितिजापासून उंची काढण्यास त्यांच्या खालच्या कोरेची क्षितिजापासून उंची मापावी व त्या उंचीस त्यांचा कोनात्मक व्यासार्ध मिळवावा.

खस्थ पदार्थांचा कोनात्मक अर्ध व्यास किंवा व्यासार्ध म्हणजे पाहणाऱ्याच्या डोळ्यापासून त्या खस्थ पदार्थांच्या बिंबाच्या तिज्येच्या दोन टोंकांपर्यंत काढलेल्या दोन रेषांमधाल डोळ्याशी

झालेला कोन होय. हा कोन त्या खस्थ पदार्थांचे डोक्यापासून जसजसे अंतर वाढते तसतसा कमी होत जातो.

सूर्य व चंद्र यांचा अर्ध व्यास नाविक पंचांगांत दिलेला असतो. ग्रहांचा अर्ध व्यास म्हणण्यासारखा मोठा नसतो.

कोणचाही खस्थ पदार्थ पाहणाऱ्याच्या क्षितिजार्शी असला म्हणजे त्याचे पृथ्वीच्या मध्यापासून जें अंतर असते तितकेंच बहुतेक पाहणाऱ्यापासून असते. परंतु जेव्हां खस्थ पदार्थ पाहणाऱ्याच्या डोक्यावर म्हणजे खस्वस्तिर्का असतो तेव्हां त्याचे पाहणारापासून अंतर, पृथ्वीच्या मध्यापासून मापिलेल्या अंतरापेक्षा पृथ्वीच्या त्रिज्येइतके कमी असते, व या वेळी त्या पदार्थाचा अर्ध व्यास फार मोठा असतो. यामुळे चंद्राच्या अर्ध व्यासांत फार फरक पडतो. सूर्याच्या अर्ध व्यासांत म्हणण्यासारखा फरक पडत नाही. कारण तो पृथ्वीहून चंद्रापेक्षा फार लांब आहे. असो. या दोहोंचेही अर्ध व्यास नाविक पंचांगांत प्रत्येक महिन्याच्या प्रत्येक दिवसाचे दिलेले असतात.

स्थिर ताऱ्यांना लक्ष्यांत घेण्यासारखा अर्ध व्यास नसतो.

### वक्त्रीभवन.

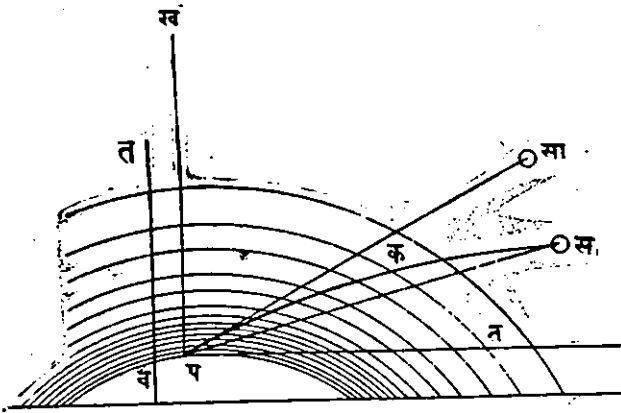
वक्त्रीभवनाचे सामान्य नियम:—जोंपर्यंत प्रकाशाचे किरण एकसारख्या घनतेच्या पारदर्शक द्रव्यांतून जातात तोंपर्यंत ते एकाच सरळ रेषेत जातात. परंतु प्रकाशकिरण जेव्हां एक प्रकाशच्या पारदर्शक घन द्रव्यांतून दुसऱ्या अधिक घन किंवा विरळ

पारदर्शक द्रव्यांत त्याच्या पृष्ठभागाशी तिरप्या दिशेने शिरतात, तेव्हा त्या पृष्ठभागावर त्या जागी काढलेल्या लंबाकडे ते किंचित् आकर्षिले जातात, आणि वांकडे होतात त्यास प्रकाश किरणांचे वक्रीभवन असे म्हणतात, म्हणजे विरल द्रव्यांतून घन द्रव्यांत तिरप्या दिशेने शिरतांना प्रकाश किरण किंचित् वांकडे होतात त्यास त्यांचे वक्रीभवन असे म्हणतात.

पृथ्वीचे वातावरण—पृथ्वीच्या सभोवती कित्येक मैलपर्यंत वातावरण पसरलेले आहे. त्याचे थर पृथ्वीच्या पृष्ठभागाशी जाड असून वरती विरळ विरळ होत गेले आहेत. अगदी वरती वातावरण इतके विरळ झाले आहे की त्याचा प्रकाश किरणावर म्हणण्यासारखा परिणाम होत नाही. हे वातावरण पारदर्शक आहे, व त्यांत शिरतांना प्रकाशाचे किरण वातावरणाच्या निरनिराळ्या घनतेमुळे निरनिराळ्या दिशांनी, लंबाकडे आकर्षिले जातात. ही घनता पृथ्वीच्या पृष्ठभागाकडे क्रमाक्रमाने वाढत गेल्यामुळे प्रकाश किरण सदोदित विरळ थरांतून जाड थरांत शिरत असतो व त्याची दिशा क्रमाक्रमाने सारखी बदलत जाऊन वातावरणाच्या पृष्ठभागापासून पृथ्वीच्या पृष्ठभागापर्यंत त्याचा मार्गही एक कंसाकृति वक्ररेषा बनते.

या किरणाची शेवटची दिशा म्हणजे तो डोळ्यांत शिरतांना तेथे त्याच्या गोल मार्गास ( कंसास ) स्पर्श करणारी जी सरळ रेषा निघते ती होय. आतां ही शेवटची दिशा व वातावरणांत शिरण्याच्या पूर्वीची त्या किरणाची दिशा यांच्यामधील कोनास वक्रीभवन म्हणावे.

खालच्या आकृतीत व त हें वातावरणाचे थर आहेत, स क



### आकृति ५५.

हा किरण स, सूर्यापासून निघून स क या तिरप्या दिशेने क ठिकाणी वातावरणांत शिरला आहे व तो क प या वक्ररेषेत वक्रीभवन पावून प ठिकाणी पहाणाऱ्याच्या डोळ्यांत शिरला आहे असे समजा. तर पाहणारास स, सूर्य प क गोल रेषेस ( कंसास ) प ठिकाणी स्पर्श करणाऱ्या प सा रेषेत, सा ठिकाणी आहे असे दिसेल. व प सा आणि क स या दोन दिशांत जो कोन होतो ते त्या क स किरणाचे वक्रीभवन होय.

जर प ख सा ही पहाणाऱ्याच्या खस्वस्तिकांतून जाणारी लंब पातळी आहे व तिजमध्ये प सा ह्या स्पर्शरेषेची दिशा येत आहे तर, दर्शनानुशासनाच्या नियमाप्रमाणे, प क कंस व क स पतन किरणाची वक्रीभवनाचे पूर्वीची दिशा, ही सर्व प ख सा स, ह्या

## वकीभवनाचें कोष्टक.

० ' /	वकीभवन ' / "	० ' /	वकीभवन ' / "	० ' /	वकीभवन ' / "
०-०'	२३'-०"	१०-३०'	५'-२१"	२१-०'	२'-२७"
०-५'	२२-१०	१०-०	५-१५	२१-३०	२-२४
०-१०'	२१'-२२"	१०-३०	५-०	२२-०	२-२०
०-१०	२१-५०	११-०	४-४७	२२-३०	२-१७
०-२०	२०-२३	११-३०	४-३४	२३-०	२-१४
०-४०'	२७-०	१२-०	४-२३	२३-३०	२-११
१०-०	२४'-२७"	१२-३०	४-१३	२४-०	२-०८
१०-३०	२१'-१५"	१३-०	३-०	२४-३०	२-०५
२-०	१८'-३५	१३-३०	३-५४	२५-०	२-०२
२-३०	१६'-२४"	१४-०	३-४५	२५-३०	१-५९
३-०	१४-३३	१४-३०	३-३८	२६-०	१-५६
३-३०	१३-०६	१५-०	३-३०	२६-३०	१-५४
४-०	११'-५१"	१५-३०	३-२४	२७-०	१-५१
४-३०	१०-४८	१६-०	३-१७	२७-३०	१-४९
५-०	९-५४	१६-३०	३-१०	२८-०	१-४७
५-३०	९-०८	१७-०	३-०४	२८-३०	१-४५
६-०	८'-२७"	१७-३०	२-५९	२९-०	१-४२
६-३०	७-५१	१८-०	२-५४	२९-३०	१-४०
७-०	७-२०	१८-३०	२-४९	३०-०	१-३८
७-३०	६-५३	१९-०	२-४४	३०-३०	१-३७
८-०	६-२९	१९-३०	२-४०	३१-०	१-३५
८-३०	६-०८	२०-०	२-३५	३१-३०	१-३३
९-०	५-४८	२०-३०	२-३१	३२-०	१-३१

वकीभवनाचें कोष्टक. ( चालू )

उंची	वकीभवन	उंची	वकीभवन	उंची	वकीभवन
'	' "	'	' "	'	' "
३२°-३०	१'-३०"	४८°-०"	०'-५१"	७१°-०'	०'-१९"
३३-०	१-२८	४९-०	०-४९	७२-०	०-१८
३३-३०	१-२६	५०-०	०-४८	७३-०	०-१७
३४-०	१-२४	५१-०	०-४६	७४-०	०-१६
३४-३०	१-२३	५२-०	०-४४	७५-०	०-१५
३५-०	१-२१	५३-०	०-४३	७६-०	०-१५
३५-३०	१-२०	५४-०	०-४१	७७-०	०-१३
३६-०	१-१८	५५-०	०-४०	७८-०	०-१२
३६-३०	१-१७	५६-०	०-३८	७९-०	०-११
३७-०	१-१६	५७-०	०-३७	८०-०	०-१०
३७-३०	१-१४	५८-०	०-३५	८१-०	०-९
३८-०	१-१३	५९-०	०-३४	८२-०	०-८
३८-३०	१-११	६०-०	०-३३"	८३-०	०-७
३९-०	१-१०	६१-०	०-३२	८४-०	०-६
३९-३०	१-९	६२-०	०-३०	८५-०	०-५
४०°-०'	१'-८	६३-०	०-२९	८६-०	०-४
४१-०	१'-५"	६४-०	०-२८	८७-०	०-३"
४२-०	१'-३"	६५-०	०-२६	८-०	०'-२"
४३-०	१'-१"	६६-०	०-२५	८९-०	०'-१"
४४-०	०-५९	६७-०	०-२४	९०°-०	०'-०"
४५-०	०-५७	६८-०	०-२३		
४६-०	०-५५	६९-०	०-२२		
४७-०	०-५३	७०-०	०-२१		

एकाच लंब पातळीमध्ये असली पाहिजेत. म्हणून वक्रीभवनाने स्वस्थ पदार्थाची फक्त उंची वाढते त्याची दिशा बदलत नाही, हें उघड आहे.

खस्वस्तिकापार्शी किरणाचें वक्रीभवन मुळीच होत नाही. जसजशी स्वस्थ पदार्थाची उंची कमी कमी होत जाते तसतसे त्याचें किरणाचें वक्रीभवन वाढतें. कारण, स्वस्थ पदार्थ क्षितिजाजवळ जवळ जसजसा जातो तसतसे त्याचें किरण वातावरणांत अधिक तिरप्या दिशेने शिरतात. क्षितिजार्शी असणाऱ्या स्वस्थ पदार्थाच्या किरणाचें वक्रीभवन सर्वांत फार म्हणजे सुमारे ३४ कला होतें.

क्षितिजापासून किती उंचीवर किती वक्रीभवन होतें हें काढणें फार कठीण आहे. तरी नाविक कोष्टकामध्ये फार शोध करून काढिलेली वक्रीभवनाची कोष्टके दिलेली असतात. त्यावरून वक्रीभवनाचा कोन पाहून तो मापिलेल्या उंचीमध्ये वजा करावा.

( कोष्टक बाजूला पहावें. )

### लंबन.

लंबन—कोणचाही स्वस्थ पदार्थ दोन निरनिराळ्या ठिकाणांहून एकाच वेळी पाहिला असता त्याच्या दर्शन रेषांत जो कोन होतो त्यास लंबन असे म्हणावें. नाविक ज्योतिषांत कोणचाही स्वस्थ पदार्थ पृथ्वीच्या पृष्ठभागावरून पाहिला असता व त्याच वेळी पृथ्वीच्या मध्यबिंदूतून पाहिला असता त्या दोन ठिकाणांहून काढिलेल्या दर्शन रेषांत जो कोन होतो त्यास भूमध्य-लंबन असे म्हणावें. नाविक पंचांगांत प्रत्येक दिवशी सूर्य, चंद्रादि स्वस्थ





तर सा मा स कोन = सा म क्ष कोन, कारण प मा स क्षि  
रेषा म क्ष, र्शा समांतर आहे. प मा सा त्रिकोनाचा पाया प मा,  
सपर्यंत वाढविला आहे; तेव्हां  $\angle$  सा मा स =  $\angle$  सा प मा +  
 $\angle$  प, सा, मा, किंवा  $\angle$  सा, म, क्ष =  $\angle$  सा प क्षि +  
 $\angle$  प, सा, म.

$\therefore \angle$  सा म क्ष -  $\angle$  सा, प, क्षि =  $\angle$  प सा म  
हें लंबन होय.

म्हणजे कोणत्याही खस्थ पदार्थाच्या मध्यविंदूपासून  
पृथ्वीवरील पाहणाऱ्याच्या ठिकाणच्या पृथ्वीच्या त्रिज्येच्या  
दोन टोंकांपर्यंत काढिलेल्या दोन रेषांमध्ये त्या खस्थ पदा-  
र्थाच्या मध्याशी जो कोन होतो त्यास लंबन असे म्हणावे.  
व स्पर्शक्षितिजावरील दृश्य उंचीत लंबन मिळविले असतां  
भूमध्यांतून पाहिले उंची येते.

वरील आकृतीवरून आणखी असे कळून येईल की लंबन  
क्षितिजाशी सर्वांत अधिक असते व खस्वस्त्रिंकी शून्य होते. कारण,  
स, सा, सी हा एक खस्थ पदार्थ आकाशांत एका लंबवृत्तांत  
निरनिराळ्या उंचीवर येत आहे असे समजा व त्याचे अंतर  
पृथ्वीपासून सारखेच आहे असे समजा. तर तो स ह्या ठिकाणीं  
स्पर्शक्षितिजाशी असतांना त्याची स्थिति प ठिकाणच्या मनुष्यास  
क्षि ठिकाणीं दिसेल; परंतु पृथ्वीच्या म मध्यांतून पाहिले तर  
त्याची खरी स्थिति अ ठिकाणीं दिसेल. पृथ्वीची पाहणाऱ्याच्या  
पायाखालची त्रिज्या स्पर्शक्षितिजाशी काटकोन करिते, व त्या  
ठिकाणीं म्हणजे स्पर्शक्षितिजाशी खस्थ पदार्थ असतां त्याचे लंबन

सर्वांत अधिक असतें. त्यास क्षितिजसमांतर लंबन असें म्हणावें. ( हें नाविक पंचांगांत दिलेलें असतें व त्यावरून दुसऱ्या स्थितीतील लंबन काढावें लागतें. ) तोच खस्थ पदार्थ सा ठिकाणी आला असतां प ठिकाणच्या मनुष्यास त्याची स्थिति क्षा ठिकाणी दिसेल; व त्याची खरी स्थिति म, पृथ्वीच्या मध्यांतून पाहिली असतां आ ठिकाणी दिसेल. पृथ्वीच्या मध्यापासून सारखेंच अंतर असतां सा ठिकाणचा कोन स ठिकाणच्या कोनापेक्षां लहान आहे व सी ठिकाणी म्हणजे खस्वस्तिकां लंबन शून्य असतें हें आकृतीवरून उघड होतें.

चंद्र, सूर्य आणि तारे यांच्या लंबनाचीं निरनिराळीं कोष्टवें नाविक कोष्टकांत दिलेलीं असतात. चंद्राच्या लंबनास पुष्कर संस्कार द्यावे लागतात. सूर्याच्या लंबनाचा वरचेवर उपयोग होण्यासारखा आहे म्हणून त्याचें कोष्टक खाली देऊं.

सूर्याच्या क्षितिजापासून निरनिराळ्या उंचीवरील

लंबनाचें कोष्टक.

सूर्याची उंची	लंबन विकला.
०° अंश	९"
६°	९"
१२°	९"
१६°	८"
२०°	८"
२५°	८"
३०°	८"

सूर्याची उंची

३४°

३६°

४०°

४५°

४८

५१

५४

५७

६०

६३

६६°

६९

७२°

७५°

७८"

८१

८४

८७

९०

लंबन विकला.

७"

७"

७"

५"

५"

५"

५"

५"

४"

४"

३"

३"

३"

२"

२"

१"

१"

०

०

खस्वस्तिकांतर.

वर सांगितल्याप्रमाणें खस्थ पदार्थांच्या समुद्राचे क्षितिजावर मापलेल्या दृश्य उंचीस, क्रमानें १ कोनमापन चुकी, ( असेल ती ) २

( ३१६ )

क्षितिजाचा कल, ( डोळ्यांच्या उंचीप्रमाणें येईल तो ), ३ खस्थ पदार्थांच्या बिंबाचा व्यासार्ध, ४ वक्रीभवन व ५ लंबन हे पांच संस्कार लावावे म्हणजे त्या खस्थ पदार्थांची भूमध्य-क्षितिजावर खरी उंची निघेल. व ती  $९०^{\circ}$  तून वजा केली असता त्या खस्थ पदार्थांचें खस्वस्तिकांतर निघेल.

पाहणारा जर त्या खस्थ पदार्थांच्या उत्तरेस असेल तर त्या पदार्थांचें उत्तर खस्वस्तिकांतर जाणावें व तो दक्षिणेस असेल तर त्याचें दक्षिण खस्वस्तिकांतर जाणावें.

आतां सूर्याची खरी उंची व खरें खस्वस्तिकांतर काढण्यास हरकत पडणार नाही.



# नाविक ज्योतिष.



विभाग ४.

रेखांश.

पृथ्वीवरील कोणत्याही स्थळाचे रेखांश म्हणजे पहिलें मध्यान्ह-  
वृत्त व त्या स्थळामधून जाणारें मध्यान्हवृत्त यांच्यामधील भूमध्य-  
वृत्ताचा कस होय; किंवा त्या दोन मध्यान्हवृत्तांमधील ध्रुवार्शी  
झालेला कोन होय.

ग्रीनीचमधून जाणारें मध्यान्हवृत्त तें पहिलें मध्यान्हवृत्त  
समजावें.

कोणत्याही स्वस्थ पदार्थाचा तास-कोन म्हणजे पाहणाऱ्याच्या  
ठिकाणचें मध्यान्हवृत्त व त्या स्वस्थ पदार्थामधून जाणारें याम्योत्तर-  
वृत्त यांच्यामधील आकाशातील ध्रुवार्शी झालेला कोन होय.  
पाहणाऱ्याच्या ठिकाणामधून जाणारें मध्यान्हवृत्त, व त्या स्वस्थ  
पदार्थाच्या मध्यांतून जाणारें याम्योत्तरवृत्त, यांच्यामध्ये विषुव-  
चक्राचा जो कस त्यानें मापितात. आतां आकाशातील विषुव-  
वृत्त व याम्योत्तर हीं एकमेकांस दोन बिंदूत छेदितात. त्यापैकी  
कोणच्या बिंदूपासून व कोणच्या दिशेनें तास-कोन मोजावा हें  
नक्की करणें जरूर आहे. ज्योतिषी लोक हा तास-कोन, विषुव-  
वृत्ताचा, क्षितिजावरील-मध्यान्हवृत्तावर जो बिंदु असतो, त्यापासून  
पश्चिमेकडे मोजतात. तो शून्य अंशापासून ३६० अंशापर्यंत मोजि-  
तात; किंवा शून्य तासापासून २४ तासांपर्यंत मोजितात व प्रत्येक  
तासाबरोबर १५ अंश धरतात.

समुद्रावर गलबताचे रेखांश काढण्याकरितां, कोणत्याही स्वस्थ ज्योतीची उंची सेक्सटंटने मापून त्यावरून त्या स्वस्थ ज्योतीचा तासकोन काढितात, व त्या तासकोनावरून गलबताचा निजकाल ( स्थानिक काल ) काढितात; व ती स्थानिक वेळ व क्रनामिटर वरून काढिलेली ग्रीनिचची वेळ यांच्यामधील अंतर पाहून गलबताचे रेखांश नक्की करितात.

याप्रमाणे रेखांश म्हणजे गलबताची स्थानिक वेळ व ग्रीनिचची वेळ यांच्यामधील अंतर होय. ग्रीनिचची वेळ क्रनामिटरवरून कळते. त्या क्रनामिटरचा रोजचा मंद किंवा जलद जाण्याचा वेग मात्र माहीत असला पाहिजे व तें दुसऱ्या अगदी बरोबर असलेल्या क्रनामिटरशीं ताडून पाहिल्या वेळीं किती पुढें किंवा मागें होतें तेंही बरोबर माहीत असलें पाहिजे.

निजकाल काढण्याकरितां तासकोन काढण्यास सूर्य अगर एकादा ठळक तारा याची उंची पहावी लागते; त्या वेळीं तो मुख्य लंबवृत्ताजवळ म्हणजे पूर्व पश्चिमविंदूमधून जाणाऱ्या लंबवृत्ताजवळ असावा व त्या वेळीं तो क्षितिजापासून सुमारे ३० ते ५० अंशांच्या उंचीवर असावा. कारण तो मुख्य लंबवृत्तावर असला म्हणजे त्याची उंच चढण्याची गति फार जलद व सारखी असते, व क्षितिजापासून सुमारे ३० अंश उंचीवर असला म्हणजे त्याच्या उंचीत वक्रीभवनानें फार मोठी चुकी होत नाहीं.

सूर्य अगर एकाद्या ठळक ताऱ्याच्या उंचीवरून तासकोन करण्याची रीति किंवा सरणी नंबर ( १ )

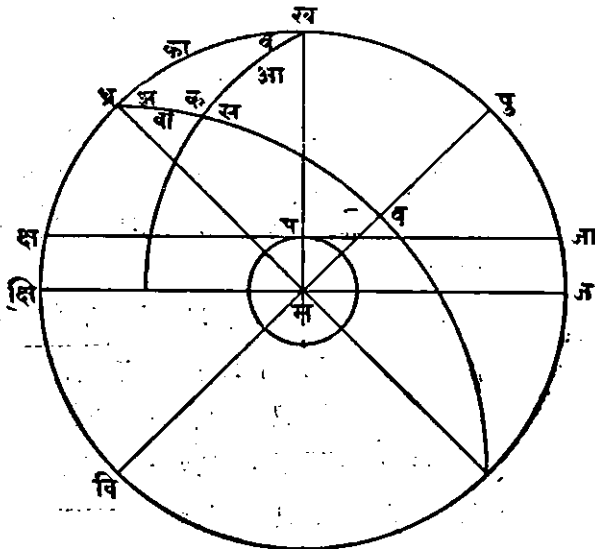
( १ ) ही सरणी काढतांना गोलार्धकोन मित्तीतील एका सिद्धांताचा उपयोग करावा लागतो, तो हा र्क, गोलवरील

त्रिकोनांत त्रिकोनाच्या बाजूच्या भुज्या, त्या बाजूसमोरील कोनाच्या भुज्येच्या प्रमाणांत असतात.

टीपः—येथे हें लक्षांत ठेविलें पाहिजे कीं गोलावरील त्रिकोनाच्या बाजूही, गोलाच्या मध्यबिंदूशी त्या प्रत्येक बाजूची दोन टोंके सांघणाच्या दोन रेषांमध्ये जो कोन होतो, त्या कोनांनीं दाखविल्या जातात. ह्या त्रिकोनास गोलावरील त्रिकोन किंवा ज्योतिषत्रिकोन म्हणावें. हा त्रिकोन गोलाच्या मध्यांतून जाणाऱ्या तीन मोठ्या वर्तुलांच्या कंसांनीं झालेला असतो.

तासकोन काढण्यास आकाश गोलावरील त्रिकोन घेतात तो असाः—

स्वालच्या आकृतींत म हा आकाश गोलाचा व भूगोलाचा





( पृथ्वीचा ) मध्य आहे, ध्र' हा उत्तर ध्रुव आहे. प हें पाहणा-  
 राचें ठिकाण, क्षि ज हें भूमध्यक्षितिज व क्ष जा स्पर्शक्षितिज, वि  
 व षू हें विषुववृत्त, ख हें पाहणाराचें खस्वस्तिक, स हा सूर्य  
 किंवा एक ठळक तारा आहे. ध्र स व हें त्या ताऱ्यामधून जाणारें  
 याम्योत्तर आहे व, ध्र ख षू हें पाहणाऱ्याच्या खस्वस्तिकांतून  
 जाणारें मध्यान्हवृत्त आहे असें समजा. तर स ध्र ख कोन हा  
 तासकोन होय. आतां स ध्र ख ह्या आकाश गोलवरील त्रिको-  
 णाच्या तिन्ही बाजू आपणांस माहीत आहेत. कारण स ख हे  
 स चे खस्वस्तिकांतर = ९० - सची उंची; ख ध्र हे प ठिकाणचे  
 को-अक्षांश = ९० - अक्षांश; आणि ध्र स हें सचें उत्तरध्रुवांतर  
 = ९० ± क्रांति; क्रांति द क्षि ण असेल तर +, व उत्तर असेल  
 तर-चिन्ह घ्यावें.

ख ध्र स ह्या गोलत्रिकोनाचे कोन, व, अ, क ह्या अक्षरांनीं दाखविले  
 व त्याच्या समोरील बाजू वा, आ, का ह्या अक्षरांनीं दाखविल्या  
 व त्या सर्व बाजूंची अर्ध बेरीज स ह्या अक्षरानें दाखविली, तर  
 गोलत्रिकोन मिततील एका सिद्धांताप्रमाणें त्या बाजू व कोन  
 ह्यांमध्यें खालील प्रमाण असते:—

$$\text{भुजज्या } \frac{\text{अ}}{२} = \frac{\text{भुजज्या ( स - वा ) } \times \text{भुजज्या ( स - का )}}{\text{भुजज्या वा } \times \text{भुजज्या-का.}}$$

यांत आ = स ख = खस्वस्तिकांतर = ९० - सची उंची;

का = ख ध्र = को-अक्षांश = ९० - अक्षांश.

वा = स ध्र = उत्तरध्रुवांतर = ९० - उत्तरक्रांति, किंवा  
 = ९० + दक्षिणक्रांति.

$$स = \frac{आ + बा + का.}{२}$$

आतां पहाणाराच्या खस्वस्तिकांतून जाणारें याम्योत्तर ( मध्यान्ह-वृत्त ) व ताच्यामधून जाणारें याम्योत्तरवृत्त यांच्यामध्ये ध्रुवार्शी जो कोन होतो तो तासकोन होय. म्हणून वरील सरणीचे रूपांतर करून ती,

$$\text{भुजज्या} \frac{अ}{२} = \text{छेदनरेषा ( अक्षांश ) छेदनरेषा ( क्रांति )}$$

$$\times \text{भुजज्या} \frac{[(\text{ख. कांतर} + (\text{अक्षांश} \pm \text{क्रांति}))]}{२}$$

$$\times \text{भुजज्या} \frac{[\text{ख. कांतर} - (\text{अक्षांश} \pm \text{क्रांति})]}{२}$$

अशी अक्षांश, क्रांति, व खस्वस्तिकांतर या माहीत असलेल्या मापांचा उपयोग करून लिहितां येते.

यांत अक्ष = अक्षांश; क्रा = क्रांति; खस्व = खस्वस्तिकांतर अशीं अक्षरें लिहिल्यास ही सरणी, ( १ )

$$( १ ) \text{भुजज्या} \frac{अ}{२} = \text{छेदनरेषा ( अक्ष ) छेदनरेषा ( क्रां ) } \times$$

$$\times [ \text{भुजज्या खस्व} + (\text{अक्ष} \pm \text{क्रां}) ]$$

$$\times [ \text{भुजज्या खस्व} + (\text{अक्ष} \pm \text{क्रां}) ]$$

अशी संक्षेपानें लिहितां येईल व ध्यानांत घरण्यासही ठीक पडेल. अक्षांश व क्रांति सजातीय असल्यास क्रांतीमार्गे=चिन्ह व विजातीय असल्यास घन चिन्ह घ्यावें.

विशेष स्पष्टीकरणः—

$$\text{भुजज्या अ} = \frac{\text{भुजज्या (स-बा) भुजज्या (स-का)}}{२ \text{ भुजज्या (वा) } \times \text{भुजज्या (का)}}$$

$$\text{स - बा} = \frac{\text{आ + बा + का - २ वा} \quad \text{आ + का - बा}}{२ \quad \quad \quad २}$$

$$= \frac{९० - \text{उंची} + ९० - \text{अक्षांश} - (९० \pm \text{क्रांति})}{२}$$

$$= \frac{\text{खस्वस्तिकांतर} + ९० - \text{अक्षांश} - ९० \pm \text{क्रांति.}}{२}$$

$$= \frac{\text{खस्व} - (\text{अक्षांश} \pm \text{क्रांति})}{२}$$

$$\text{स - का} = \frac{\text{आ + बा + का - २ का} \quad \text{आ + बा - का}}{२ \quad \quad \quad २}$$

$$= \frac{९० - \text{उंची} + ९० \pm \text{क्रांति} - ९० + \text{अक्षांश.}}{२}$$

$$= \frac{\text{खस्व} + (\text{अक्षांश} \pm \text{क्रांति})}{२}$$

$$\text{तसेंच} = \frac{१}{\text{भुजज्या वा}} = \frac{१}{\text{भुज}(९० \pm \text{क्रांति})} = \frac{१}{\text{को-भुजज्या(क्रांति)}} = \text{छेदनरेषा (क्रांति.)}$$

$$\frac{१}{\text{भुजज्या का}} = \frac{१}{\text{भुजज्या}(९० - \text{अक्ष})} = \frac{१}{\text{को-भुजज्या(अक्षांश)}} = \text{छेदनरेषा अक्षांश.}$$

व अ कोन म्हणजे घुवाजवळील तासकोन आतां वरील सरणीत या किंमती ठेवल्या तर त्या सरणीचें रूपांतर

$$\text{भुजज्या} \frac{अ}{२} = \text{छेदनरेषा अक्षांश} \times \text{छेदनरेषा क्रांति} \times$$

$$\text{भुजज्या} \left\{ \frac{\text{खस्व} + (\text{अक्षांश} \pm \text{क्रांति})}{२} \right\}$$

$$\times \text{भुजज्या} \left\{ \frac{\text{खस्व} - (\text{अक्षांश} \pm \text{क्रांति.})}{२} \right\}$$

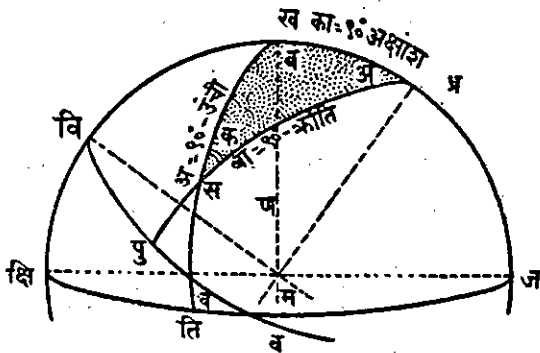
असें होतें.

या सरणीचा उपयोग लागर्थमाच्या रीतीनें खाली लिहिल्या-प्रमाणें करावा:—पाहणाऱ्याच्या स्थलाच्या ( १ ) अक्षांशाखाली सूर्याची ( २ ) क्रांति लिहावी ( दोन्ही सजातीय म्ह० उत्तर उत्तर अथवा दक्षिण दक्षिण असल्यास त्या दोहोंची वजाबाकी करावी, परंतु विजातीय म्हणजे एक दक्षिण व दुसरें उत्तर असें असल्यास त्यांची बेरीज करावी. ) ही बेरीज अगर वजाबाकी जी येईल, तिचे खाली सूर्याचें खस्वस्तिकांतर लिहावें व त्या दोन रकमांची बेरीज व वजाबाकी करावी आणि अर्धबेरीज व अर्ध-वजाबाकी ही काढावी. नंतर खालील लागर्थमिक रकमांची बेरीज घ्यावी:—

- ( १ ) अक्षांशाच्या छेदनरेषेचें लागर्थम ( घातांक ).
- ( २ ) क्रांतीच्या छेदनरेषेचें लागर्थम ( घातांक ).
- ( ३ ) अर्धबेरीजेच्या भुजज्येचें लागर्थम ( घातांक ).
- ( ४ ) अर्धवजाबाकीच्या भुजज्येचें लागर्थम ( घातांक ).

या चार लागर्थमांची बेरीज येईल त्यांतून दशक वजा करून येईल तें तासकोनाचें लागर्थम होय. तें नाविक कोष्टकांतून पाहून त्याजवरून तासकोन काढावा. हें तासकोनाचें कोष्टक नाविक कोष्टकांत निराळेंच दिलें असतें. सूर्याच्या तासकोनानें काढिलेला काल तो गलबताचा स्थानिक दृश्य काल होय. त्यास काल समाकरण लावून ( म्हणजे मिळवून अगर वजा करून ), गलबतावरील मध्यम सौर काल काढितां येतो. व क्रनामेटरनें ग्रीनिच्चा मध्यम काल समजतो. या दोन मध्यम कालांतील अंतर तें हौरात्मक रेखांश होत.

तासकोन काढण्याची दुसरी सरणी:—नंबर ( २ )



आकृति ५८.

ज्योतिष त्रिकोनः—प्र ख स अंतरकोन अ, ब क; यांच्या समोरील बाजू आ, बा, का.

आ=९०°-उंची; बा=९०°-क्रांति, का=९०°-अक्षांश. स ख=अ= तासकोन.

भुजज्या  $\left( \frac{अ}{२} \right) =$  छेदनरेषा ( अक्षां ) को-छेदनरेषा ( ध्रुवांतर )

$\times$  को-भुजज्या ( अर्ध बेरीज ). भुजज्या अंतर.

यथे अर्धबेरीज =  $\frac{\text{सूर्याची खरी उंची} + \text{ध्रुवांतर} + \text{अक्षांश}}{२}$

अंतर = ही अर्ध बेरीज - सूर्याची खरी उंची.

या सरणीचा लागर्थमानें उपयोग:—

( १ ) वेध घेते वेळेची सूर्याच्या मध्यबिंदूची खरी उंची,

( २ ) त्याचें ध्रुवांतर ( ३ ) व त्या स्थळाचे अक्षांश हीं एकाखालीं एक लिहावीं, व त्याची बेरीज घ्यावी व तिचे खालीं त्या बेरजेचे अर्ध मांडावे. व त्याचे खालीं ती अर्धबेरीज व सूर्य-बिंबाचे मध्याची खरी उंची यांची वजाबाकी किंवा अंतर लिहावें.

नंतर ( १ ) ध्रुवांतराच्या को-छेदन रेषेचा घातांक

( २ ) वेध स्थळाच्या अक्षांशाच्या छेदनरेषेचा घातांक.

( ३ ) अर्धबेरीजेच्या को-भुजज्येचा घातांक.

( ४ ) अंतराच्या भुजज्येचा घातांक.

यांची बेरीज घ्यावी व त्यांतून दशक वजा करून येईल तो तासकोनाचा घातांक होय. त्यावरून कोष्टकांतून तासकोन काढावा.

१ सूर्याची अगर ठळक ताऱ्याची क्रांति नाविकपंचांगांत दिलेली असते. ती दररोजची क्रांति असते, ती पहावी.

२ क्रांति व अक्षांश हीं दोन्ही सजातीय म्हणजे उत्तर उत्तर अथवा दक्षिण दक्षिण असतील तर क्रांति ९० तून वजा करावी, व विजातीय असतील तर म्हणजे एक दक्षिण तर दुसरें उत्तर

असें असेल तर ९० त क्रांति मिळवावी म्हणजे उत्तर ध्रुवांतर निघेल.

३ खरी उंची काढण्यास सेक्स्टंटनें पाहिलेल्या उंचीस, कोन-मापन चुकी, क्षितिजाचा कल, अर्धव्यास वक्रीभवन व लंबन इतके संस्कार घावे व येईल ती खरी उंची होय.

४ खरी उंची ९० तून वजा केली म्हणजे खस्वस्तिकांतर येईल.

५ गलबतावरील दृश्य निजकाल किंवा स्थानिक काल काढण्यास तासकोन सकाळीं पाहिला असल्यास तो २४ तांसांतून वजा करावा व बाकी पुढें व्यावहारिक तारखेपेक्षां एक दिवस मागची तारीख लिहावी. म्हणजे ज्योतिष सौर दिवसाची वेळ येईल. जर उंची दोनप्रहरानंतर मापून तासकोन काढिला असेल तर व्यावहारिक तारखेपुढें तासकोनाचे कलाक लिहावे म्हणजे तो निजकाल होईल.

६ गलबतावरील मध्यम सौर काल काढण्यास:—गलबतावरील मध्यम दृश्यकालाखालीं त्या दिवसाचें समीकरण नाविकपंचांगांतून काढून त्यांत सांगितल्याप्रमाणें मिळवावें अगर वजा करावें म्हणजे मध्यम सारकाल निघेल.

७ रेखांश काढण्यास:—गलबतावरील मध्यम सौरकालाखालीं कनामिटरवरून काढिलेली ग्रीनिचची वेळ लिहावी व दोहोंची वजाबाकी करावी. मोठ्यांतून लहान संख्या वजा करावी. बाकी राहिल त्याचे अंश कला-विकला कराव्या. एक तासाचे १५ अंश घरावे.

( १ ) गलबताच्या मध्यम सौरकालपेक्षां जर ग्रीनिचचा मध्यम सौरकाल कमी असेल तर रेखांश पूर्व समजावें.

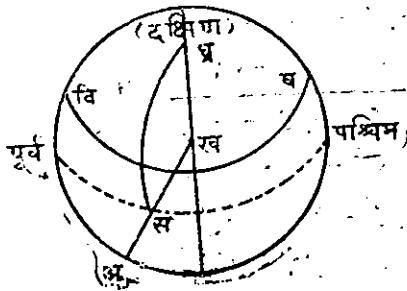
( २ ) गलबताच्या मध्यम सौर कालापेक्षां ग्रीनिचचा मध्यम सौर काल अधिक असेल तर रेखांश पश्चिम समजावे.

काल म्हणजे त्यांत तारीख व तास मिनिटें वगैरेंचा समावेश होतो.

### उदाहरण.

सन १८८४ च्या आगस्टच्या ४ थे तारखेस दक्षिण अक्षांश  $३६^{\circ} - ५४' - ०''$  वरील एका गलबतावर सकाळचे वेळीं क्रनामिटरमध्ये तारीख ४ रोजी ६ वाजून ४२ मि. ४८ सेकंद झाले असतां सूर्याच्या खालच्या कोरेची क्षितिजापासून उंची  $२८^{\circ} - २३' - ५०''$  विकला इतकी सेक्स्टंटने पाहिली होती. सेक्स्टंटची कोनमापन चुकी  $० - १' - १५''$  इतकी मिळवावयाची होती. पाहणाऱ्याच्या डोळ्याची उंची २६ फूट होती. क्रनामिटर ग्रीनिचच्या मध्यम कालापेक्षां ८ मि. व ५८ सेकंद इतकें पुढें होतें. सूर्याची खरी क्रांति उत्तरेकडे  $१७^{\circ} - ०' - २२''$  होती. खरें काल समीकरण ५ मि. ४६.८ सेकंड इतके दृश्य वेळेस मिळवावयाचें होतें. त्यावरून सूर्याची उंची मापतेवेळीं गलबताचे रेखांश किती होते तें काढा.

बाजूची आकृति ही क्षितिजाच्या, आकाश गोलापर्यंत वाढविलेल्या,



आकृति ५९.

पातळीवर काढिलेली याम्योत्तरवृत्त व विषुववृत्ताची आकृति आहे असें समजा. तर ख हें पाहणाराचें खस्वस्तिक होय. ध्र हा दक्षिण ध्रुव हा अक्षांशाइतका क्षितिजाच्या वर दिसत आहे. विष हें विषुववृत्त पूर्व पश्चिम



बिंदूतून जात आहे, व स मधून जाणारी बिंदुरेषा ही स सूर्याची  
 क्रांति दाखविणारें समांतरवृत्त आहे. स ध्र ख तासकोन मध्यान्ह  
 वृत्ताच्या पूर्वेकडील आहे. अ स सूर्याची खरी उंची व, स ख  
 खस्वस्तिकांतर होय. आतां वरील उदाहरणाप्रमाणें.

	ता०	ता.	मि.	से.
क्रनामिटरवरून वेळ	४	—	६-४२-४८	
क्रनामिटर जलद वजा	—	—	०-८-५८	
खरा ग्रीनिच मध्यमकाल.	४	—	६-३३-५०	
सूर्याची उत्तर क्रांति	१७	—	०-२२"	
अधिक (अक्षां. द०)	९०	—	०-०"	
ध्रुवांतर	१०७	—	८-२२"	
मापिलेली सूर्याची उंची ....	२८	—	२३'-५०"	
कोनमापन चुकी अधिक +	०	—	१'-१५"	
			२८-२५'-५"	
क्षितिज-नति (२६ फूट उंचीची)	०	—	५'-०"	
			२८-२०'-५"	
वक्रीभवन (२८°-२३'-५०"चे)-			१'-४६"	
			२८°-१८'-१९"	
लंबन +			०-०-८"	
			२८°-१८'-२७"	
सूर्याचा अर्धव्यास +			०-१५-४९"	

( ३२९ )

∴ ( आगस्ट ता. ४ रोजी ) } २८°-३४'-१६" — (१)  
सूर्याच्या मध्य बिंदूची खरी उंची }

ध्रुवांतर ..... १०७°-०'-२२" — (२)

अक्षांश ३६°-५४'-०"

बेरीज १७२°-२८'-३८"

अर्धबेरीज ८६°-१४'-१९"

आतां दुसऱ्या सरणीचा उपयोग करून तासकोन काढण्यास  
सूर्याच्या मध्यबिंदूची

खरी उंची २८°-३४'-१६" घातांक

ध्रुवांतर १०७ - ० - २२" को-छेदनरेषेचा = ०.०१९४१८

अक्षांश ३६°-५४ - ० छेदनरेषेचा घातांक ०.०९७०८१

तिर्हीची बेरीज १७२-२८-३८

अर्धबेरीज ८६-१४-१९च्या को-भुजज्येचा घा. ८.८१६९१४

खरी उंची वजा २८-३४-१६

अंतर ५७°-४०'-३"च्या भुजज्येचा घा. ९.९२६४३५

घातांकाची ( लागर्थमची ) बेरीज ( -१० ) = ८.८६०२४८

या आंकावरून कोष्टक नं. ३१ मधून काढिलेला तासकोन  
ता. मि. से.

हा पूर्वेकडील कोन आहे, = २ - ४-५६-८

व आपणास पश्चिमेकडील कोन २४ - ० - ०

ता. मि. से.

पाहिजे, म्हणून हा २४ तून वजा करा. २१ - ५५ - ३२

व त्यांत तास समीकरण मिळवा - ५ - ४६-८

व तारीख १ दिवस मागील लिहा म्हणजे क. मि. से.

तारीख ३ - २२ - ० - ५०

ही गलबतावरील मध्यम सौरवेळ आली.

ग्रीनिचची मध्यम सौरवेळ तारीख ४ — ६ — ३३ — ५०

क. मि. से.

८ — ३३ — ०

अंतर हे होरात्मक रेखांश होत.

म्हणजे  $१२८^{\circ}-१५'-०''$  पश्चिम रेखांश. कारण ग्रीनिचची वेळ पुढे आहे म्हणून ग्रीनिचचे मध्यान्हवृत्त गलबताचे पुर्वेकडे असले पाहिजे म्हणजे गलबत ग्रीनिचचे पश्चिमेकडे आहे म्हणून त्याचे  $१२८^{\circ}-१५'-०$  हे पश्चिम रेखांश आले.

रेखांश काढण्याच्या दुसऱ्या रीतिः—

क्रनामिटरने दाखविलेल्या ग्रीनिचच्या वेळेशी गलबतावरील वेळेची तुलना करून त्या वेळांमधील अंतरावरून गलबताचे रेखांश काढण्याची रीति सांगितली. परंतु क्रनामिटरचा मंद किंवा जलद चालण्याचा वेग तें एके ठिकाणी असतांना जो असतो तोच त्याचे — स्थलांतर होतांना कायम रहात नाही, बदलतो; त्यामुळे क्रनामिटरने दाखविलेल्या वेळेत चुकी होईल. तर त्या वेळेवरून काढिलेले रेखांशही चुकीचे येतील. म्हणून रेखांश काढण्यास दुसऱ्या कांहीं रीतीचा उपयोग करितात.

( ? ) गुरुच्या उपग्रहावरून.

क्रनामिटरने दाखविलेल्या ग्रीनिचच्या वेळेवरून रेखांश काढण्याच्या रीतीचा विचार केला असता आपणास कळून येईल की;

पृथ्वीवरील निरनिराळे ठिकाणी एकाच वेळीं एक तेजाची चमक, किंवा दुसरा कांहीं आकाशातील चमत्कार, एकदम दिसेल, व तो चमत्कार झाल्यावेळीं निरनिराळ्या ठिकाणची स्थानिक वेळ लिहून ठेविली तर त्या स्थानिक वेळांमधील अंतर तें त्या स्थळांमधील होरात्मक (तासांनीं दाखविलेलें) रेखांशांतर होईल. गुरूच्या उपग्रहांचीं ग्रहणें हीं मात्र पृथ्वीवरील पुष्कळ ठिकाणावरून एकदम दिसतात. ह्या ग्रहणाची लागण्याची व सुटण्याची ग्रीनिचची वेळ नाविकपंचांगांत दिलेली असते. तीं ग्रहणें लागण्याची व सुटण्याची स्थानिक वेळ पाहून तिची व नाविकपंचांगांत दिलेल्या ग्रीनिचच्या वेळेची तुलना केली असतां, त्यांमधील अंतर तें त्या स्थळाचे रेखांश होईल. या रीतीनें रेखांश काढितां येतात, परंतु गुरूचे उपग्रह व त्यांचीं ग्रहणें पाहण्यास फार मोठी दुर्बीण लागते तीं नुसत्या डोळ्यांनीं दिसत नाहींत व गलबतावर मोठी दुर्बीण राखीत नाहींत. म्हणून ही रीति गलबताचे रेखांश काढण्याच्या उपयोगीं नाहीं.

### ( २ ) चंद्राच्या अंतरावरून:—

नुसत्या डोळ्यांनीं दिसणारा व आपणास अति जवळ असा स्वस्थ पदार्थ म्हटला म्हणजे पृथ्वीचा उपग्रह चंद्र हा होय. त्याचा व्यास सुमारे २,१६० मैल आहे व त्याचे पृथ्वीपासून अंतर सुमारे २,३७,७०० मैल आहे. चंद्र पृथ्वीभोंवतीं फिरत फिरत सूर्याभोंवतीं फिरतो. नक्षत्रांतून त्याची एक प्रदक्षिणा सुमारे २७ $\frac{1}{2}$  ( वास्तविक २७ दि. ७ तास ४३ मि. ११-४ से. ) दिवसांत होते. पृथ्वी स्थिर असती तर इतक्याच कालांत चंद्राची पृथ्वी-


प्रदक्षणा झाली असती. परंतु इतक्या कालांत पृथ्वी थोडीशी पुढे जाते म्हणून चंद्राच्या पृथ्वी-प्रदक्षिणेस सुमारे २९३ ( वास्तविक, २९ दि. १२ ता. ४४ मि. २७ से. ) दिवस लागतात.

चंद्रादिकांच्या मार्गांतल्या ज्या ठळक तारा त्यास नक्षत्रे म्हणतात. नाविकपंचांगांत चंद्राच्या मध्यबिंदूचे, कोनात्मक अंतर, ठळक ठळक नऊ नक्षत्रांपासून, सूर्याच्या मध्यबिंदूपासून, व नुसत्या डोळ्यांनी दिसणाऱ्या चार ग्रहांच्या मध्यबिंदूपासून दिलेले असते. हीं अंतरे क्षणोक्षणी बदलतात. नाविकपंचांगांत ग्रीनिचच्या वेळांत दररोजची तीन तीन तासांचीं अंतरे दिलेलीं असतात. ज्या ज्या नक्षत्रांच्या व ग्रहांच्या जवळ चंद्र असतो त्या त्या नक्षत्रांपासून व ग्रहांपासून चंद्राच्या मध्यबिंदूचीं हीं अंतरे दिलेलीं असतात व तीं चंद्राच्या पूर्वेस मापिलेलीं आहेत किंवा पश्चिमेस मापिलेलीं आहेत तेंही दिलेले असते. प्रत्येक महिन्याच्या प्रत्येक तारखेस दिसणारीं सर्व कोनात्मक अंतरे एके ठिकाणीं त्या तारखेखालीं दर तीन तीन तासांनीं ग्रीनिचच्या वेळेंत दिलेलीं असतात. हीं अंतरे पृथ्वीच्या मध्यबिंदूंतून पाहिलीं असतां किती येतील तीं नाविकपंचांगांत ग्रीनिचच्या वेळेंत दिलेलीं असतात. म्हणून पृथ्वीच्या पृष्ठभागावरिल पाहणाराने, कोणत्याही स्थानिक वेळीं सेकस्टंटने मापिलेल्या अंतरास कोन मापनचकी, पाहिलेल्या पदार्थाचे अर्धव्यास, वक्रीभवन, व लंबन इत्यादि संस्कार देऊन तीं पृथ्वीच्या मध्यांतून त्या स्थानिक वेळीं पाहिलीं असतां कशीं दिसतील तें काढावें; व निरनिराळ्या स्वस्थ पदार्थांपासून तशीं चंद्राच्या मध्यबिंदूचीं अंतरे असतांना ग्रीनिचची वेळ काय आली तें नाविकपंचांगावरून

काढावें. या दोन्ही वेळांत जी तफावत आली तें त्या ठिकाणचें होरात्मक ( तासांनीं दाखविलेले ) रेखांश होत. त्याचे अंश कला करून येतील ते खरे रेखांश होत.

आतां ग्रीनिचची वेळ जर त्या स्थानिक वेळेच्या पुढें असेल तर ग्रीनिच त्या स्थळाच्या पूर्वेस आहे, म्हणजे तें स्थळ ग्रीनिचच्या पश्चिमेस आहे, म्हणून त्याचे रेखांश येतील ते पश्चिम रेखांश होत. व ग्रीनिचची वेळ स्थानिक वेळेच्या मागे असेल तर त्या स्थळाचे पूर्व रेखांश येतील.

असो. चंद्राच्या नक्षत्रांतील स्थितीवरून गलबताचे रेखांश काढण्याच्या रीतीचें वर दिग्दर्शन केलें आहे, त्यावरून ज्योतिषशास्त्राचा व्यवहारांत कसा उपयोग करून घेतात तें कळेल. विस्तार-भयास्तव येथें विशेष वर्णन व उदाहरणें दिलीं नाहींत.



# परिशिष्ट अ.



हिंदी महासागरावरील मुख्य मुख्य बंदरें, भूशिरें,  
शहरें, वगैरेंचे अक्षांश व रेखांश.

ग्रीनीचच्या मध्यान्हवृत्तापासून पूर्व किंवा पश्चिम रेखांश दिले आहेत.

ठिकाणांचीं नांवां.	अक्षांश दक्षिण.	रेखांश पूर्व.
केमऑफ गुडहोपपासून केपडेल- गाडोपर्यंत.	०	०
केप टाऊन आब्झरव्हेटरी.....	३३-५६	१८-२९
केप ऑफ गुडहोपची दिवादांडी.....	३४-२१	१८-३०
पॉइंट डेन्जर.....	३४-४१	१९-२२
केप ऑग्युल्हासची दिवादांडी.....	३४-५०	२०-१
केप सेंट ब्लेझची दिवादांडी.....	३४-११	२२-९
फ्लेटेन्बर्ग बे, सील केप.....	३४-५	२३-२२
मोसेल बे.....	३४-०	२२-२०
केप सेंट फ्रॅन्सीस.....	३४-१०	२४-५३
पोर्ट इलिझाबेथ.....	३४-०	२५-४०
आलगाओआ बेची दिवादांडी.....	३४-१	२५-४२
बर्ड आयर्लंडची दिवादांडी.....	३३-५०	२६-१७
ईस्ट लंदनची दिवादांडी.....	३३-०	२७-५९
पोर्ट सेंट जॉन.....	३१-३७	२९-२८

ठिकाणांचां नांवें.	अक्षांश दक्षिण.	रेखांश पूर्व.
	०	०
पोर्ट नाताल.....	२९-५३	३१-३
डर्बन.....	२९-४०	३०-४०
डेल गोजा बे.....	२५-५८	३३-२
केप कोरेण्टस्.....	२४-७	३५-३१
सोफाला.....	२०-११	३४-४६
झांबेजी नदी पल अयर्लंड.....	१८-५३	३६-१२
किलिमेन.....	१८-१	३७-१
पोर्ट मोझांबिक.....	१५-३	४०-४८
केप डेलगाडो.....	१०-४१	४०-४०
मादा गास्कर व त्याजवळील बेटें.		
केप अंबर.....	११-५७	४९-१९
सेंट मेरी आयलंड.....	१६-४०	५०-४
माबुरु शहर.....	१९-५५	४८-५२
टामटेव.....	१८-०	४९-०
फोर्ट डॉफिन.....	२५-१	४७-२
केप सेंट मेरी.....	२५-३९	४५-७
सेंट आगुस्तीन, सँडी बेट.....	२३-३८	४३-३८
केप सेंटव्हिन्सेन्ट.....	२१-५४	४३-२०
केप सेंट अँड्रू.....	१६-११	४४-३१
केप सॅन सब्स्टीन.....	१२-२६	४८-४६



ठिकाणांची नांवे.	अक्षांश दक्षिण.	रेखांश पूर्व.
	० ' ०	० ' ०
मयोड्रा.....	१२-४७	४५-२१
सेंट लाझारू. ( वाळूचा ढीग. ).....	१२-१०	४१-२३
बुर्बोन आयलंड.....		
सेंट डेनिसची दिवादांडी.....	२०-५१	५५-३०'
आफ्रिकेचा पूर्वकिनारा केप डेलगाडोपासून.		
केप डेलगाडो.....	१०-४१	४०-४०
क्विलोआचा किला .....	८-५७	३९-३४
मॉफिआ बेट.....	७-३९	३९-५८
झांझिबार बेट दक्षिण टोंक.....	६-२८	३९-३३
पेंबा बेट .....	५-२९	३९-४२
मोंबासा.....	४	३९-३०
पोर्ट मेलिंदा.....	३-१३	४०-११
	अ०उ०	
मेगाडोक्सा शहर.....	२ -२	४५-२५
रास अल खैल.....	७-४४	४९-४६
रास हफून .....	१०-२७	५१-२२
केप ग्वार्ज फुई.....	११-५१	५१-१६
सोकोला बेट पूर्व टोंक.....	१२-३४	५४-३१
अबदल कुरी.....	१२-११	५२-२२

ठिकाणांचीं नांवे.	अक्षांश उत्तर.	रेखांश पूर्व.
	०	०
मुशा बेट.....	११-४३	४३-१३
तांबडा समुद्र.		
पेरीम बेटाची दिवादांडी.....	१२-४०	४३-२४
मशोबा. ....	१५-३६	३९-२९
डेडालूझ वालूचे ढोंग. दिवादांडी.....	२४-५६	३५-५१
झाफराना पाईटची दिवादांडी.....	२९- ७	३२-४०
सुएझ.....	२९-५६	३२-३३
एनबु.....	२४- ५	३८- ३
जिदा.....	२१-२८	३९-११
मोखा. ....	१३-२०	४३-१२
केप बाबेल मांडेब. ....	१२-४०	४३-२६
अरबस्थानचा किनारा.		
एडनची दिवादांडी.....	१२-४५	४५- ३
रास फुर्ताक.....	१५-३८	५२-१४
मर्बत. ....	१६-५९	५४-३९
कुरिया मुरिया बेट. ....	१७-३३	५६- ३
रास मादरक बेट.....	१९- ०	५७-४९
मसीरा बेट.....	२०-१०	५८-३७
रास अलहद.....	२२-३३	५९-४८
मस्कत.....	२३-३८	५८-३१

ठिकाणांची नांवे.	अक्षांश उत्तर.	रेखांश पूर्व.
	०	०
सहर.....	२४-२२	५६-४५
रास ( केप ) शेख मेसाद.....	२६-१६	५६-१४
शर.ज. ....	२५-२१	५५-२४
अल कतिफ फोर्ट.....	२६-१३	५०-१
अल-कॉवेट. ....	२९-२३	४७-५९
बसरा ( कास्टम हाऊस. ).....	३०-३२	४७-५१
अबु शेहेर.....	२८-२९	५०-५०
शहा आलम वाळूचे ढीग.....	२६-२५	५२-३०
लिंघे.....	२५-३३	५४-५४
बंदर अबास. ....	२७-१०	५६-१७
बलुचिस्तानचा किनारा.....		
रास जस्क.....	२५-५०	५७-४३
चार्वर टाऊन.....	२५-१९	६०-३६
ग्वेटर (खेडें). ....	२५-१०	६१-२५
केप नाओ.....	२५-५	६२-२०
सोन मियानी.....	२५-२७	६६-३१
हिंदुस्थानचा पश्चिम किनारा.....		
केप माँझ ( रासमुरी )......	२४-५१	६६-३५
मनोराची दिवादांडी.....	२४-४७	६६-५७
कराची.....	२४-५१	६६-५८

ठिकाणांची नांवे.	अक्षांश उत्तर.	रेखांश पूर्व.
	०	०
सिंधुनदी केडीवरी मुख.....	२४-	२ ६७-२१
कोरीची खाडी. ( लखपत).....	२३-४१	६८-३०
मांडवीची दिवादांडी.....	२२-५०	६९-२१
लुशिंग्टन शोल. ( वाळूचे ढीग. ).....	२२-३७	६८-४७
नवा नगर. ( जामनगर ).....	२२-३३	७०- २
द्वारका.....	२२-१४	६८-५७
पोरबंदर.....	२१-३८	६९-३५
दिवबेट.....	२०-४१	७०-५०
जाफराबाद.....	२०-५१	७१-२३
गोपनाथ पॉइंट.....	२१-१२	७२- ६
पेरीम बेटची दिवादांडी.....	२१-३५	७२-२०
खंबायत.....	२२-१७	७२-३५
सुरत.....	२१-११	७२-४९
दमण.....	२०-२४	७३-४९
तेरापूर.....	१९-५१	७३-५०
मुंबई कुलाबाची दिवादांडी.....	१८-५४	७२- ६
मुंबई किल्ला.....	१८-५६	७२-५
केनेरी बेटाची दिवादांडी.....	१८-४२	७२-
राजापूर किल्ला.....	१८-१८	७२+
बाणकोट किल्ला.....	१७-५८	७२- २

ठिकाणांचीं नांवां.	अक्षांश उत्तर.	रेखांश पूर्व.
	०	०
रत्नागिरी दिवादांडी.....	१७-०	७३-१६
विजयदुर्ग. (गेरिककिल्ला).....	१६-३३	७३-१९
वेंगुलें बंन्ट आयलंडची दिवादांडी.....	१५-५३	७३-२७
गोवें .....	१५-२९	७३-४६
सदाशिवगड दिवादांडी.....	१४-४९	७४-३
कुमठें येथील दिवादांडी.....	१४-२५	७४-२३
कुंदापूर.....	१३-३७	७४-४०
मंगलोरची दिवादांडी.....	१२-५२	७४-५०
काननूरची दिवादांडी.....	११-५१	७५-२१
तेलीचरीची दिवादांडी.....	११-४५	७५-२९
कलीकटची दिवादांडी.....	११-१५	७५-४६
पोनावी .....	१०-४८	७५-५३
कोची अथवा कोची दिवादांडी.....	९-५८	७६-१४
किन्न.....	८-५३	७६-३५
लिद्रम आब्झरवेटरी.....	८-३१	७६-५७
केप कुमारिका.....	८-५	७७-३२
लखदिव बेट.		
४ सेसोस्ट्रीचा किनारा.....	१३-१०	७१-५७
चबॅनियानी रीफ.....	१२-१७	७१-५३
बैरामगोर रीफ.....	११-५८	७१-४७

ठिकाणांची नावे.	अक्षांश उत्तर.	रेखांश पूर्व.
	०	०
क्विलटण.....	११-२८	७२-५९
आकटा.....	१०-५१	७२-५१
पिटीची भाट. दक्षिण टोंक.....	१०-४४	७२-३१
अँड.....	१०-४७	७३-४०
कँवटी.....	१०-३२	७२-३८
सुहिलीपर बेट.....	१०-६	७२-१५
कालपेनी.....	१०-३	७३-३५
मिनीकाय.....	८-१५	७३-०
मालदीव बेटे.		
टिलाडूमटी. अटोल.....	६-५९	७३-१२
मालकम् अटोल.....	६-२५	७२-४१
मिलाडू माडो अटोल.....	५-५१	७३-२७
सिलोन बेट.		
मानार शहर.....	८-५९	७९-५३
कालपेटिन.....	८-१४	७९-४५
कोलंबोची दिवादांडी.....	६-५६	७९-५१
पाइंटदिगालची दिवादांडी.....	६-१०	८०-१३
दंदर हेड.....	५-५५	८०-३४
ग्रेड बॅसीसची दिवादांडी.....	६-१०	८१-२८
त्रिकोमाली.....	८-३२	८१-१९

ठिकाणांची नांवे.	अक्षांश उत्तर.	रेखांश पूर्व.
	०	०
पॉइंट पेड्रो कास्टमहाऊस.....	९-५१	८१-१५
हिंदुस्थानचा पूर्व किनारा.....		
तुतिकोरिनची दिवादांडी.....	८-४७	७८-११
पांबेनची दिवादांडी.....	९-१८	७९-१३
भूशीर कालमीर.....	१०-१७	७९-५१
पांदिचरीची दिवादांडी.....	११-५६	७९-५०
मद्रास, आब्झरवेटरी.....	१३- ४	८०-१४
पन्नारनर्दाचे मुख.....	१४-३७	८०-११
भूशीर दिवीची दिवादांडी.....	१५-५९	८१-१०
मच्छलीपट्टण.....	१६- ०	८१-१५
कोरिंगा.....	१६-४९	८२-१८
विशाखपट्टण.....	१७-४३	८३-१७
गंजम.....	१९-२२	८५- ४
जगन्नाथपुरी.....	१९-४९	८५-४९
बलेसर नदीचे मुख.....	२१-२८	८७- ७
हुगळीनदी सागरची दिवादांडी.....	२१-३८	८८- १
कलत्ता फोर्ट विल्यम.....	२२-३३	८८-२०
चितगांग.....	२१-१४	९१-५०
कुतुबदेह बेटाची दिवादांडी.....	२१-५३	९१-५०
सावज. बेटाची दिवादांडी.....	२०- ५	९२-५४

ठिकाणांची नावे.	अक्षांश उत्तर.	रेखांश पूर्व.
चेडुबाबेट.....	१८-५१	९३-३१
फौल बेट.....	१८- ३	९४- ८
ग्वा मुख.....	१७-३९	९४-३९
भूशीर निग्रे.....	१६- २	९४-१३
बसीन नदी ( पोर्ट दलहौसी. ).....	१६- १	९४-२३
कृष्णा नदी ( बाळूचे डीग. ).....	१५-४४	९५- ४
रंगून नदी. एलिफंट पॉइंट.....	१६-३०	९६-२३
मुलमेन नदी अम्हर्स पॉइंट.....	१६- ५	९७-३५
तवाइ पॉइंट.....	१३-३२	९८-१२
मरगुई.....	१२-२७	९८-३५
तेनासरीम.....	१२- ६	९९- ३
सेंट माथ्युआयलंद.....	१०- ५	९८-१०
सलांग बेट दक्षिणटोंक.....	७-४६	९८-१८



# नौकानयनः-शुद्धिपत्र.



पृष्ठ.	ओळ.	अशुद्ध.	शुद्ध.
३ प्रस्तावना	२	नाँटि-	नाँटिकल
२ "	२०	Azimulh	Azimuth
३ "	५	पाटली फळी	फळी पाटली
" "	८	Suppliment	Supplement
" "	१७	Suversedsine	Subversedsine
४ "	२३	Aezimuth	Azimuth
१०	१६	१०	१०
"	१७	१० <sup>१</sup>	१० <sup>१</sup>
"	१८	१० <sup>२</sup>	१० <sup>२</sup>
"	१९	१० <sup>३</sup>	१० <sup>३</sup>
१२ शेवटची		वर	व
१६	१६	४८२६	४८९६
२४	१४	अंतरावर	अंतरास
२८	१	१०००	१००
३२ शेवटची		१९९	१२९
१०८	५	४५	४५

(२)

पृष्ठ.	ओळ.	अशुद्ध.	शुद्ध.
"	७ व ११	२०	२०
"	१२	२५	२५
१०९	१०	एका क्षणांत	लागलीच
११९	१०	अस	असें
१२०	शेवटची	सोडलेल्य	सोडलेल्या
१२२	१२	दोराच	दोरीचे
१२३	१९	$\text{ड}=\text{३ अ} \times \text{लां}$ व	$\text{ड}=\text{३ अ} \times \text{लां}$ वे
"	१९	$D = ३ d l$ ५ t	$D = ३ d l$ ५ t
१२५	९	$\text{ड}=\text{३} \times \frac{\text{अ} \times \text{ला}}{\text{व}}$	$\text{ड}=\text{३} \times \frac{\text{अ} \times \text{ला}}{\text{वे}}$
१४८	१४	मैलाचें	मैलांत
१५७	३	थाडक्यांत	थोडक्यांत
१५७	६	५०-१२'-१८"	५०-१२'-१८" उत्तर
१५७	११	वेरीज ÷ २२	वेरीज ÷ २
१५७	१४	३९०-११'-२१"	३९०-११'-११"
१५७	१६	मध्यां-	मध्याक्षां-
१८८	११	एके	एका
१९९	शेवटची	धइ, अख, व धई, आत,	ध, इ, अ, ख व ध, ई, आ, त

(३)

*पृष्ठ.	ओळ.	अशुद्ध.	शुद्ध.
२००	१	आणि ई	अ आणि ई
"	१२	समक्ष	म, क्ष,
"	शेवटची	दान	दोन
२१८	१०	चौरस	लंब चौरस
२३०	३	६०२	६०
२३१	१४	अ, अ	अ
"	१५	व (व) (घ) हा	व घ हा
२४६	८	ब अ	ब क
"	१९	उत्तरांतलि	उत्तरांतरांतीरु
२४९	२५	रुहरीपठ	रुहरीपठ
२५९	११	—	व चौथ्या तासांत आ- णखी वई म्हणजे आ- णखी ४ फूट पाणी चढतें.
"	"	वई	वई
"	१३	१३	वई
"	२ आकृती	५	६
२६०	३	वई	वई
"	१३	११'-९"	११'-३"
२६३	९	सांगूं !	सांगूं.

( ४ )

पृष्ठ	ओळ	अशुद्ध	शुद्ध.
२६७	८	Cirelee	Circle
२६९	१५	परस्पेक्टिन्ह	परस्पेक्टिव्ह
"	१६	ह्य	व्यू
"	"	Perspecive	Perspective
२७६	१०	वर्तुलाचा	वर्तुलाच्या
३३०	१	सौरवेळ	सौरवेळ



## आरोग्य आणि व्यायाम

अथवा

औषधावांचून निरोगी कसे राहावे ?

मराठी वाङ्मयांत आरोग्य व व्यायामासंबंधी शास्त्रीय माहितीने ओतप्रोत भरलेले हे पहिलेच पुस्तक होय. अनेक पाश्चात्य प्रागतिक भिष-  
स्वर्यांच्या अनुभवांनी व शोधांचे या पुस्तकांत एकीकरण केलेले आहे. या  
पुस्तकांत आरोग्याच्या व व्यायामाच्या मूलतत्त्वांसंबंधी माहिती सर्व  
बाजूने अगदी पूर्ण आहे. ज्या नैजर्गिक उपचारांपासून हजारों लोकांना  
आरोग्य प्राप्त झाले आहे असेच उपचार व व्यायाम या पुस्तकांत दिले  
आहेत. छपाई अत्यंत सुंदर. सुंदर कागदावर सुंदर छपाई, पुस्तकाची  
बांधणी अत्यंत मनोहर. लायब्ररींत व बुकसेल्फमध्ये ठेवण्यास अत्यंत शोभा-  
दायक ३०-३२. अत्यंत सुंदर रंगित अशा व्यायामासंबंधी व शरीर-  
शास्त्रासंबंधी आकृति. अशा आकृतींनी भरलेले हृदयंगम असे वाङ्म-  
याचे हे पहिलेच पुस्तक होय. पुस्तकाची पाने सुमारे २७५ असून पुस्त-  
कास कागद अँटीक वापरला आहे. किं. रु. १०८.

### डंबेलसचें पुस्तक.

ह्यांत एकंदर चौवीस प्रकारच्या निरनिराळ्या आकृति डंबेलचे  
साहाय्याने व्यायाम करण्याकरता दिलेल्या आहेत. प्रत्येक आकृतीखात्री  
व्यायाम करतांना कोणत्या अवयवावर जास्त जोर दिला पाहिजे  
व कोणता अवयव दिला सोडला पाहिजे, वगैरे सूचना एका विद्वान्  
डॉक्टराकडून मुद्दाम लिहिल्या आहेत. किंमत अवधी ८२.

वरीलशिवाय डंबेल-चार्ट भितीवर टांगण्यासारखे विक्रीस तयार आहेत.  
किंमत ८२. साधारण कागद, किं. ८१.